



E.M. "BAIRRO MANUEL CLEMENTE".

PROFESSORA : ANTONIA

1º ANO A

ALUNO(A): \_\_\_\_\_

**ATIVIDADES DO PERÍODO 18/10 A 05/11/2021.**

**13ª APOSTILA**

Em busca do tutti-frutti perdido/AO SABOR DO TEMPO – TARSILA DO AMARAL.



DEVOLUÇÃO DA APOSTILA: 08/11



<b>Roteiro de atividades</b>		
<b>DIA</b>	<b>DESCRIÇÃO</b>	<b>PÁGINA</b>
	CAPA OBRA - TARSILA DO AMARAL. Em busca do tutti-frutti perdido/AO SABOR DO TEMPO.	01
	ROTEIRO DE ATIVIDADES.	02
<b>18/10</b>	TEXTO E COMPREENSÃO – A PIPA DO PEPITO.	03
<b>18/10</b>	LEITURA DA FICHA DOS NUMERAIS DE 21 A 40 E SEUS NOMES, ESCREVER POR EXTENSO NOME DOS NUMERAIS DE 31 A 40.	04
<b>18/10</b>	COLORIR A OBRA DE TARSILA DO AMARAL – O VENDEDOR DE FRUTAS.	05
<b>19/10</b>	CRUZADINHA DOS ANIMAIS PARA COMPLETAR.	06
<b>19/10</b>	COMPLETAR COM ANTECESSOR – VIZINHO E SUCESSOR DOS NÚMEROS.	07
<b>20/10</b>	DITADO RECORTADO DA LETRA "P".	08
<b>20/10</b>	LEITURA : NUMERAIS ORDINAIS DO 1º AO 20º. COMPLETAR COM O NOME DE CADA NÚMERO ORDINAL DO 10º AO 20º.	09
<b>20/10</b>	ESCREVER NOS CÍRCULOS O NÚMERO CORRESPONDENTE À PARTE DO CORPO,USAR A LEGENDA.	10
<b>21/10</b>	FAMÍLIA SILÁBICA DA LETRA "Q" E COMPLETAR AS PALAVRAS COM O SOM INICIAL.	11
<b>21/10</b>	RESOLVENDO AS ADIÇÕES.	12
<b>22/10</b>	TREINANDO A LETRA Q,PINTAR AS FIGURS INICIADAS PELA LETRA Q,COMPLETAR AS PALAVRAS COM QUA,QUE,QUI OU QUO.	13
<b>22/10</b>	SOMANDO E SUBTRAÍNDO.	14
<b>25/10</b>	COBRINDO O PONTILHADO DA LETRA Q E AS PALAVRAS,PINTAR AS FICHAS DAS PALAVRAS INICIADAS COM Q.	15
<b>25/10</b>	OBSERVAR O GRÁFICO DAS FRUTAS E RESPONDER AS QUESTÕES.	16
<b>26/10</b>	COMPLETAR OS NOMES DAS FIGURAS COM QUA,QUE OU QUO.	17
<b>26/10</b>	CONTAR E REGISTRAR A NO QUADRINHO AS QUANTIDADES DE CADA UM.	18
<b>27/10</b>	CIRCULAR A PALAVRA DE ACORDO COM O NOME DE CADA FIGURA.	19
<b>27/10</b>	MEDIDAS DE TEMPO ,SOMENTE LEITURA.	20
<b>28/10</b>	COMPLETAR AS PALAVRAS E LIGAR .	21
<b>28/10</b>	1-MARCAR AS HORAS NO RELÓGIO ; 2-MARQUE O RELÓGIO QUE TEM NA SUA CASA ; 3-RESPONDA AS QUESTÕES A E B.	22
<b>29/10</b>	FORMAR AS FRASES COM AS FIGURAS (USE O BANCO DE PALAVRAS).	23
<b>29/10</b>	NÚMEROS ORDINAIS, RESPONDA AS QUESTÕES.	24
<b>29/10</b>	O CORPO HUMANO,COMPLETE E LEIA AS FRASES.	25
<b>03/11</b>	FAMÍLIA SILÁBICA DO "R",COMPLETE.	26
<b>03/11</b>	COMPLETAR O CALENDÁRIO DO MÊS.	27
<b>04/11</b>	PINTAR AS FIGURAS QUE COMEÇAM COM A FAMÍLIA DO R.	28
<b>04/11</b>	DESCOBRINDO FORMAS GEOMÉTRICAS.	29
<b>05/11</b>	COMPLETAR AS PALAVRAS COM A FAMÍLIA DO R.	30
<b>05/11</b>	QUE HORAS? MARQUE NOS RELÓGIOS.	



E.M. "BAIRRO MANUEL CLEMENTE".

IBIÚNA, 18 DE OUTUBRO DE 2021

PROFESSORA : ANTONIA

1º ANO A

ALUNO(A): \_\_\_\_\_

## LÍNGUA PORTUGUESA

LEIA O TEXTO:

### A PIPA DO PEPITO

PEPITO GANHOU UMA PIPA DO PAPAI.

ERA UMA PIPA COLORIDA.

PEPITO CORRE, CORRE COM A PIPA E ELA VOA BEM ALTO.

PEPITO AMA BRINCAR DE PIPA.



## COMPREENSÃO DA LEITURA

1. QUAL É O TÍTULO DA LEITURA?

2. O QUE PEPITO GANHOU?

3. COMO ERA A PIPA?

4. O QUE PEPITO FAZ COM A PIPA?





E.M. "BAIRRO MANUEL CLEMENTE".

IBIÚNA, 18 DE OUTUBRO DE 2021.

PROFESSORA : ANTONIA

1º ANO A





















ALUNO(A): \_\_\_\_\_

## MATEMÁTICA

### FICHA DOS NUMERAIS

21	VINTE E UM	31	TRINTA E UM
22	VINTE E DOIS	32	TRINTA E DOIS
23	VINTE E TRÊS	33	TRINTA E TRÊS
24	VINTE E QUATRO	34	TRINTA E QUATRO
25	VINTE E CINCO	35	TRINTA E CINCO
26	VINTE E SEIS	36	TRINTA E SEIS
27	VINTE E SETE	37	TRINTA E SÊTE
28	VINTE E OITO	38	TRINTA E OITO
29	VINTE E NOVE	39	TRINTA E NOVE
30	TRINTA	40	QUARENTA

### ESCREVA POR EXTENSO:

	31	_____	
	32	_____	
	33	_____	
	34	_____	
	35	_____	
	36	_____	
	37	_____	
	38	_____	
	39	_____	
	40	_____	





E.M. "BAIRRO MANUEL CLEMENTE".

IBIÚNA, 18 DE OUTUBRO DE 2021.

PROFESSORA : ANTONIA

1º ANO A

ALUNO(A): \_\_\_\_\_


ARTES

## O VENDEDOR DE FRUTAS



VAMOS COLORIR O QUADRO.

O VENDEDOR DE FRUTAS (1925)- TARSILA DO AMARAL.



<https://i.pinimg.com/originals/cc/bd/db/ccbddba97495b3291dd37f4fc4394489.png>





E.M. "BAIRRO MANUEL CLEMENTE".

IBIÚNA, 19 DE OUTUBRO DE 2021

PROFESSORA : ANTONIA

1º ANO A

ALUNO(A): \_\_\_\_\_

## LÍNGUA PORTUGUESA

# LINGUAGEM

P



P

A

T

O



PATO

PANELA

PENA

PEIXE

PIPA

PIPOCA

POÇO

PORCO

PUDIM

[https://2.bp.blogspot.com/-vtitxv0offU/WpgfFmWRTri/AAAAAAAAAF2E/kUzGxVaJMK4DYy4pS8O4rumaqM8t2To5ACLcBGAs/s1600/PALAVRA%25C3%2587%25C3%2583O\\_P-01.png](https://2.bp.blogspot.com/-vtitxv0offU/WpgfFmWRTri/AAAAAAAAAF2E/kUzGxVaJMK4DYy4pS8O4rumaqM8t2To5ACLcBGAs/s1600/PALAVRA%25C3%2587%25C3%2583O_P-01.png)





E.M. "BAIRRO MANUEL CLEMENTE".

IBIÚNA, 19 DE OUTUBRO DE 2021.

PROFESSORA : ANTONIA

1º ANO A




ALUNO(A): \_\_\_\_\_

## MATEMÁTICA

COMPLETE COM:

**ANTECESSOR = VIZINHO = SUCESSOR**

ANTECESSOR	VIZINHO	SUCESSOR
___ 8	1 ___ 3	6 ___
___ 17	20 ___ 22	13 ___
___ 12	8 ___ 10	29 ___
___ 46	14 ___ 16	35 ___
___ 33	31 ___ 33	44 ___
___ 65	19 ___ 21	17 ___
___ 20	11 ___ 13	42 ___
___ 39	29 ___ 31	39 ___
___ 70	45 ___ 47	58 ___
___ 21	3 ___ 5	69 ___
___ 5	46 ___ 48	1 ___
___ 27	67 ___ 69	9 ___





E.M. "BAIRRO MANUEL CLÉMENTE".

IBIÚNA, 20 DE OUTUBRO DE 2021

PROFESSORA : ANTONIA


1º ANO A

ALUNO(A): \_\_\_\_\_

LÍNGUA PORTUGUESA

## DITADO RECORTADO – LETRA P

ASSINE EM CADA PALAVRA A LETRA CORRESPONDENTE



PANELA

PATO

PENA

PIÃO

PÃO

PÁSSARO

PEIXE

PORTA

PUDIM

RECORTE E COLE AS PALAVRAS ABAIXO DAS FIGURAS CORRESPONDENTES.



E.M. "BAIRRO MANUEL CLEMENTE".

IBIÚNA, 20 DE OUTUBRO DE 2021.

PROFESSORA : ANTONIA

1º ANO A

ALUNO(A): \_\_\_\_\_

## MATEMÁTICA

### NÚMEROS ORDINAIS

Os números ordinais são utilizados para indicar a ordem ou a posição dos elementos em uma pilha, fila, lista de concorrentes ou competidores.

Veja como se pronuncia cada um dos numerais abaixo:

1º primeiro

2º segundo

3º terceiro

4º quarto

5º quinto

6º sexto

7º sétimo

8º oitavo

9º nono

10º décimo

11º décimo primeiro

12º décimo segundo

13º décimo terceiro

14º décimo quarto

15º décimo quinto

16º décimo sexto

17º décimo sétimo

18º décimo oitavo

19º décimo nono

20º vigésimo

DE ACORDO COM O QUADRO ACIMA, COMPLETE O QUADRO ABAIXO COM O NOME DE CADA NÚMERO ORDINAL.

10º \_\_\_\_\_

11º \_\_\_\_\_

12º \_\_\_\_\_

13º \_\_\_\_\_

14º \_\_\_\_\_

15º \_\_\_\_\_

16º \_\_\_\_\_

17º \_\_\_\_\_

18º \_\_\_\_\_

19º \_\_\_\_\_

20º \_\_\_\_\_





E.M. "BAIRRO MANUEL CLEMENTE".

IBIÚNA, 20 DE OUTUBRO DE 2021.

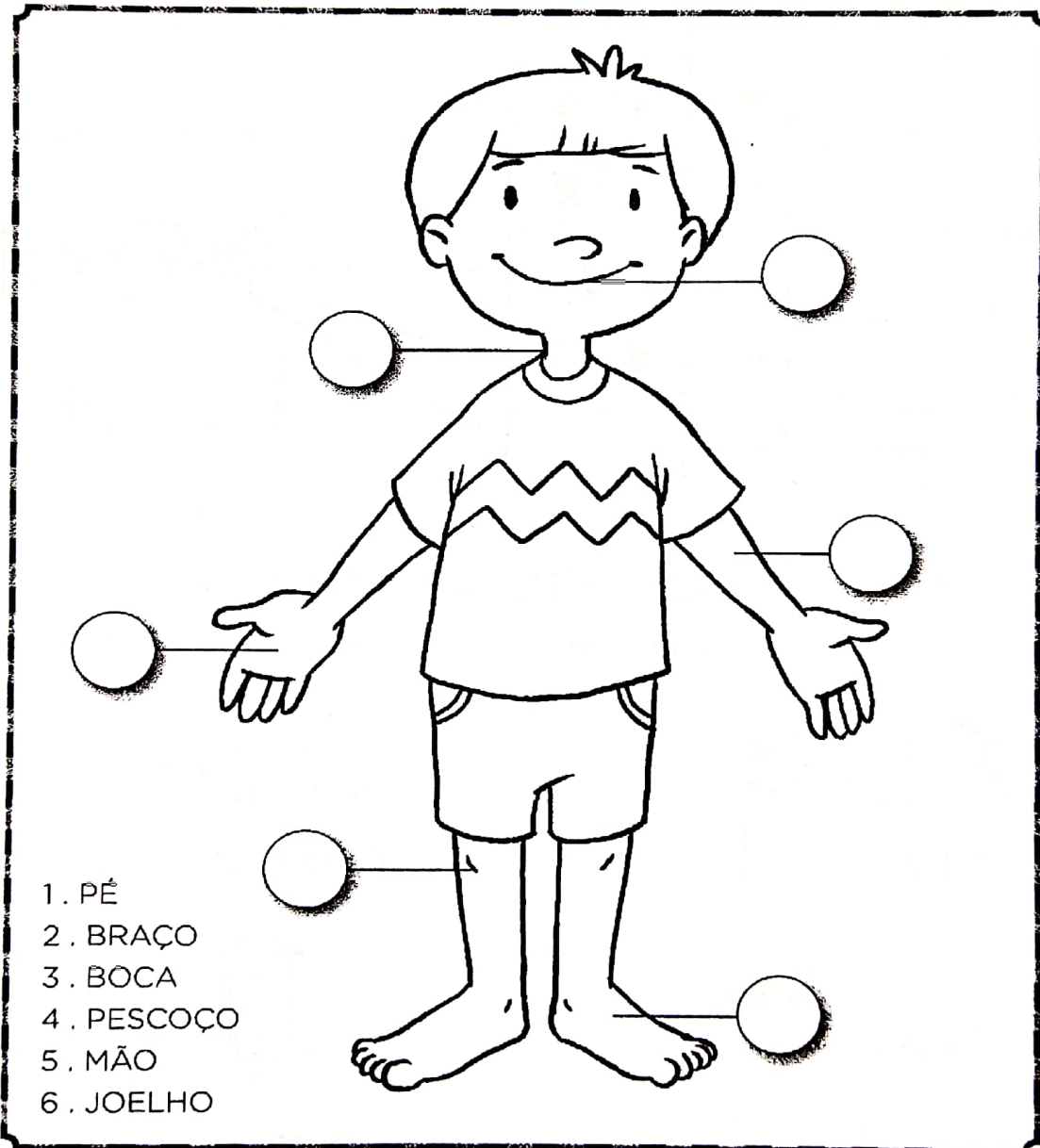
PROFESSORA : ANTONIA

1º ANO A

ALUNO(A): \_\_\_\_\_

## CIÊNCIAS

ESCREVA NOS CÍRCULOS O NÚMERO CORRESPONDENTE À PARTE.





E.M. "BAIRRO MANUEL CLEMENTE".

IBIÚNA, 21 DE OUTUBRO DE 2021.

PROFESSORA : ANTONIA

1º ANO A

ALUNO(A): \_\_\_\_\_

## MATEMÁTICA



### I. VAMOS RESOLVER AS ADIÇÕES?

 ___ + ___ = ___	 ___ + ___ = ___	 ___ + ___ = ___
 ___ + ___ = ___	 ___ + ___ = ___	 ___ + ___ = ___
 ___ + ___ = ___	 ___ + ___ = ___	 ___ + ___ = ___
 ___ + ___ = ___	 ___ + ___ = ___	 ___ + ___ = ___







E.M. "BAIRRO MANUEL CLEMENTE".

IBIÚNA, 22 DE OUTUBRO DE 2021

PROFESSORA : ANTONIA

1º ANO A

ALUNO(A): \_\_\_\_\_

## LÍNGUA PORTUGUESA

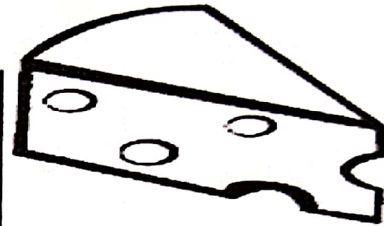


### A LETRA DO DIA É... **QUEIJO**




1- VAMOS TREINAR A LETRA Q!

Q				




2- ENCONTRE E PINTE AS FIGURAS INICIADAS PELA LETRA Q:



2- COMPLETE AS PALAVRAS COM QUA, QUE, QUI, OU QUO.



A RIC



DRO



TI



TRO



ABO



IXO



ES LO



RO- RO



E.M. "BAIRRO MANUEL CLEMENTE".

IBIÚNA, 22 DE OUTUBRO DE 2021.

PROFESSORA : ANTONIA

1º ANO A

ALUNO(A): \_\_\_\_\_

### MATEMÁTICA

SOMANDO E SUBTRAINDO.

<b>JÚLIO</b> 	<b>TINHA</b> 	<b>PERDEU</b> 	<b>FICOU COM</b> ..... - ..... .....
<b>MARIANA</b> 	<b>TINHA</b> 	<b>COMPROU MAIS</b> 	<b>FICOU COM</b> ..... + ..... .....
<b>CÉSAR</b> 	<b>TINHA</b> 	<b>DEU</b> 	<b>FICOU COM</b> ..... - ..... .....
<b>RONALDO</b> 	<b>TINHA</b> 	<b>GANHOU MAIS</b> 	<b>FICOU COM</b> ..... + ..... .....
<b>MÁRIO</b> 	<b>TINHA</b> 	<b>COMEU</b> 	<b>FICOU COM</b> ..... - ..... .....





E.M. "BAIRRO MANUEL CLEMENTE".

IBIÚNA, 25 DE OUTUBRO DE 2021.


PROFESSORA : ANTONIA

1º ANO A

ALUNO(A): \_\_\_\_\_

## MATEMÁTICA

1. OBSERVE O GRÁFICO ABAIXO, CEBOLINHA FEZ UM GRÁFICO COM AS FRUTAS PREFERIDAS DA TURMINHA. PARA CADA VOTO ELE DESENHOU UMA FRUTA.



AGORA RESPONDA:

a) QUAIS FRUTAS APARECEM NO GRÁFICO?

\_\_\_\_\_

b) QUAL É A FRUTA QUE RECEBEU MAIS VOTOS E QUANTOS VOTOS ELA RECEBEU?

\_\_\_\_\_

c) QUAL FRUTA TEM MENOS VOTOS E QUANTOS VOTOS ELA RECEBEU?

\_\_\_\_\_

d) QUAL É SUA FRUTA PREFERIDA?

\_\_\_\_\_



E.M. "BAIRRO MANUEL CLEMENTE".

IBIÚNA, 26 DE OUTUBRO DE 2021

PROFESSORA : ANTONIA

1º ANO A


ALUNO(A): \_\_\_\_\_

LÍNGUA PORTUGUESA

LINGUAGEM ORAL E ESCRITA



COMPLETE OS NOMES DAS FIGURAS COM QUA , QUE OU QUI



LE \_\_\_\_\_



\_\_\_\_\_ IJO

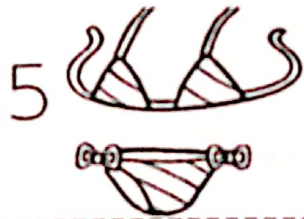
3

15

\_\_\_\_\_ NZE



\_\_\_\_\_ NDIM



BI \_\_\_\_\_ NI



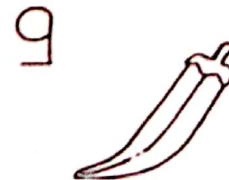
\_\_\_\_\_ DRO



\_\_\_\_\_ TI



\_\_\_\_\_ BE



\_\_\_\_\_ ABO



CA \_\_\_\_\_





E.M. "BAIRRO MANUEL CLEMENTE".

IBIÚNA, 26 DE OUTUBRO DE 2021.

PROFESSORA : ANTONIA

1º ANO A

ALUNO(A): \_\_\_\_\_


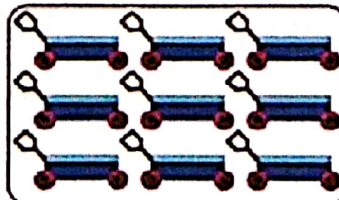
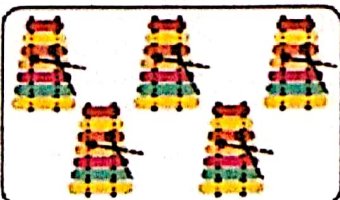



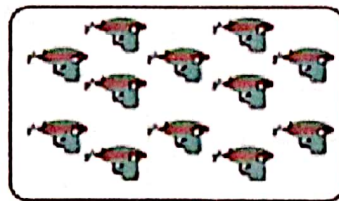
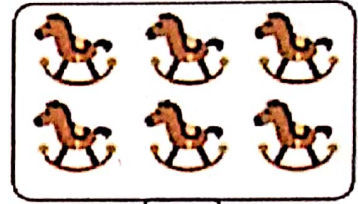
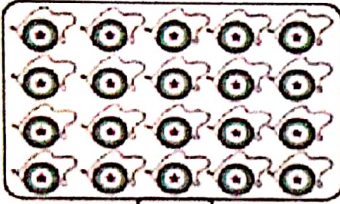
## MATEMÁTICA



# LINGUAGEM MATEMÁTICA



CONTE ATÉ 20 E REGISTRE NO QUADRINHO.





E.M. "BAIRRO MANUEL CLEMENTE".

IBIÚNA, 27 DE OUTUBRO DE 2021

PROFESSORA : ANTONIA

1º ANO A

ALUNO(A): \_\_\_\_\_

## LÍNGUA PORTUGUESA

1. CIRCULE A PALAVRA DE ACORDO COM O NOME DE CADA FIGURA.


### LETRA Q



QUARTO  
QUARTEL  
QUASE

40

QUEIJO  
QUARENTA  
QUARTO



QUILO  
QUEIJO  
QUATRO



QUATRO  
QUIABO  
QUERIDA

4

QUERO  
QUITANDA  
QUATRO



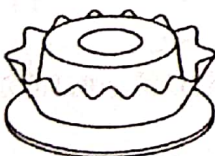
QUADRADO  
QUANDO  
QUEDA



QUATI  
QUASE  
QUANDO

15

QUATRO  
QUATI  
QUINZE



QUILO  
QUINDIM  
QUIABO



QUIABO  
QUILO  
QUINDIM

<https://1.bp.blogspot.com/-iiVFwo4WrbM/W7YX7s2sIKI/AAAAAACNfw/5nc-viTINHkXHaHNOUVRxY76s4TleNcRwClcBGAs/s1600/sequencia-alfabetica-para-ditado-da-letra-q-imprimir-atividade.jpg>





E.M. "BAIRRO MANUEL CLEMENTE".

IBIÚNA, 27 DE OUTUBRO DE 2021.

PROFESSORA : ANTONIA

1º ANO A

ALUNO(A): \_\_\_\_\_

## MATEMÁTICA

SOMENTE LEITURA.

# MEDIDAS DE TEMPO

### A hora e o minuto


A hora e o minuto são unidades de medidas de tempo marcadas pelo relógio.

Por extenso	Abreviatura
hora	h
minuto	min

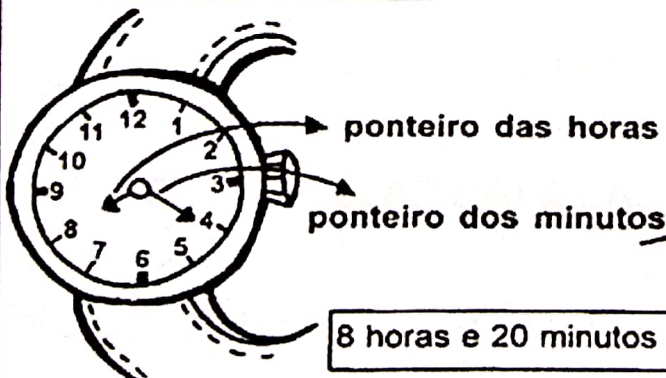
O dia se divide em 24 partes iguais.  
Cada parte corresponde a 1 hora.

A hora se divide em 60 partes iguais.  
Cada parte corresponde a 1 minuto.

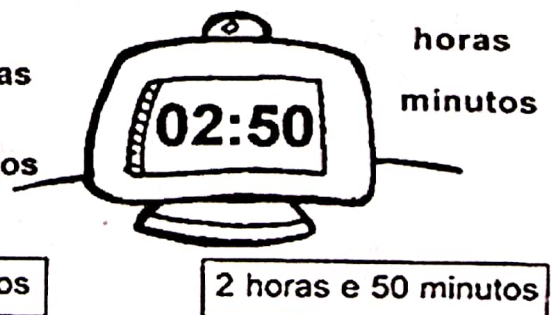
O minuto se divide em 60 partes iguais.  
Cada parte corresponde a 1 segundo.



Relógio de ponteiro



Relógio digital





E.M. "BAIRRO MANUEL CLEMENTE".

IBIÚNA, 28 DE OUTUBRO DE 2021

PROFESSORA : ANTONIA

1º ANO A

ALUNO(A): \_\_\_\_\_

### LÍNGUA PORTUGUESA


COMPLETE AS PALAVRAS USANDO AS SÍLABAS  
QUA, QUE OU QUI DE FORMA ADEQUADA E,  
DEPOIS, LIGUE-AS FAZENDO A CORRESPONDÊNCIA  
COM AS ESCRITAS NO QUADRO.



A QUA RELA



CA \_\_\_\_\_



\_\_\_\_\_ IJO



PERI \_\_\_\_\_ TO

BIQUÍNI

PERIQUITO

QUEIJO

QUERUBIM

CAQUI

QUIABO

QUINDIM

AQUARELA



\_\_\_\_\_ NDIM



BI \_\_\_\_\_ NI



\_\_\_\_\_ ABO



\_\_\_\_\_ RUBIM

# Q







E.M. "BAIRRO MANUEL CLEMENTE".

IBIÚNA, 28 DE OUTUBRO DE 2021.

PROFESSORA : ANTONIA

1º ANO A


ALUNO(A): \_\_\_\_\_

## MATEMÁTICA




### O TIC-TAC DO RELÓGIO

- 1) Marque nos relógios o horário em que você dorme e o horário em que acorda.

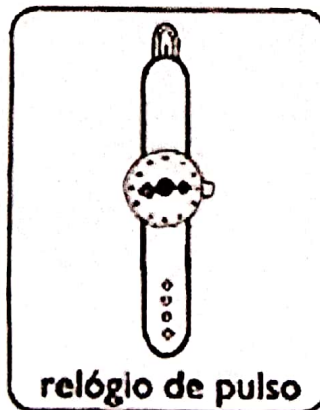


Eu durmo.



Eu acordo.

- 2) Existem vários tipos de relógio. Marque os que você tem na sua casa.



- 3) Dos relógios acima, somente o digital não tem ponteiros.

a) Quantos ponteiros cada relógio tem? \_\_\_\_\_

b) O que cada ponteiro indica? \_\_\_\_\_

[http://3.bp.blogspot.com/-](http://3.bp.blogspot.com/-9PT00LVni7c/UwZFZ2HEkxI/AAAAAAAAApX/TrjAmHPePx8/s1600/medidas%252520de%252520tempo%252520%2525284%252529.jpg)

[9PT00LVni7c/UwZFZ2HEkxI/AAAAAAAAApX/TrjAmHPePx8/s1600/medidas%252520de%252520tempo%252520%2525284%252529.jpg](http://3.bp.blogspot.com/-9PT00LVni7c/UwZFZ2HEkxI/AAAAAAAAApX/TrjAmHPePx8/s1600/medidas%252520de%252520tempo%252520%2525284%252529.jpg)



E.M. "BAIRRO MANUEL CLEMENTE".

IBIÚNA, 29 DE OUTUBRO DE 2021

PROFESSORA : ANTONIA

1º ANO A

ALUNO(A): \_\_\_\_\_

LÍNGUA PORTUGUESA


FORME AS FRASES COM AS FIGURAS


1. O  DA MÔNICA É .

O QUADRO DA MÔNICA É QUADRADO.

2. COMPREI UM QUILO DE .

3. NO ZOOLOGICO TEM **15** .

4. MEU  TEM **40** PEÇAS.

5. VOVÔ VENDEU **4** .

BANCO DE PALAVRAS.

QUADRO - QUADRADO - QUIABO - QUINZE - QUATI - QUEBRA - CABEÇA - QUARENTA - QUATRO - QUEIJOS

<https://i.pinimg.com/564x/97/63/a7/9763a717811698758035963ff7b9fbe8.jpg>





E.M. "BAIRRO MANUEL CLEMENTE".

IBIÚNA, 29 DE OUTUBRO DE 2021.

PROFESSORA : ANTONIA

1º ANO A


ALUNO(A): \_\_\_\_\_

## MATEMÁTICA

# NÚMEROS ORDINAIS



Os números ordinais servem para indicar lugar, posição.



Observe a fila e responda:

- 1- O menino de boné ocupa o \_\_\_\_\_ lugar na fila.
- 2- A menina de saia ocupa \_\_\_\_\_ lugar.
- 3- A mulher de sombrinha ocupa o \_\_\_\_\_ lugar.
- 4- O Sr. que está de terno e gravata ocupa \_\_\_\_\_ lugar.
- 5- O menino com carrinho ocupa o \_\_\_\_\_ lugar.
- 6- O dono do cachorro é o \_\_\_\_\_ da fila?
- 7- A moça de óculos ocupa o \_\_\_\_\_ lugar da fila.



E.M. "BAIRRO MANUEL CLEMENTE".

IBIÚNA, 29 DE OUTUBRO DE 2021.

PROFESSORA : ANTONIA

1º ANO A

ALUNO(A): \_\_\_\_\_



# Ciências

## O corpo humano

♥ Complete e leia:

ca be ça

← Na ..... crescem os cabelos, onde também estão os olhos, o nariz, a boca e as orelhas.

tron co

← O ..... é formado pelo tórax e abdômen.

← Os membros superiores são os ..... (direito e esquerdo).

bra ços

← Os membros inferiores são as ..... (direita e esquerda).

per nas

O nosso corpo é recoberto pela pele e possui ossos e músculos.





E.M. "BAIRRO MANUEL CLEMENTE".

IBIÚNA, 03 DE NOVEMBRO DE 2021

PROFESSORA : ANTONIA

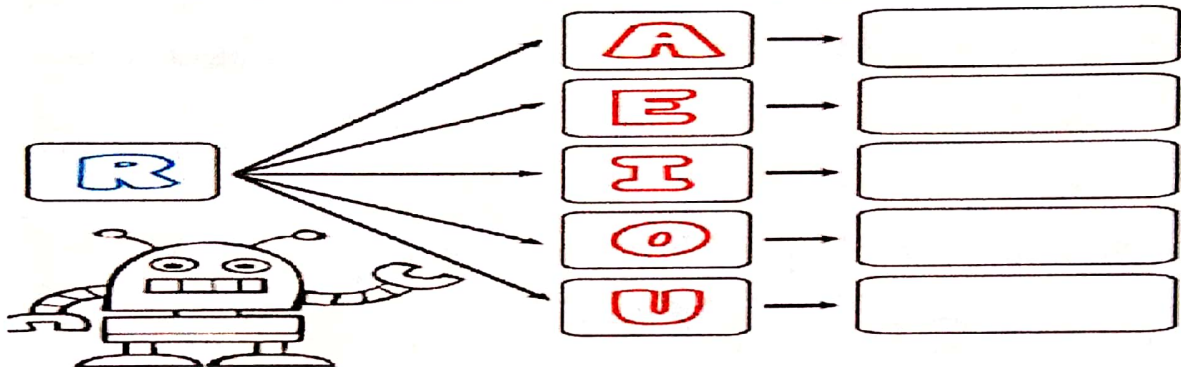
1º ANO A

ALUNO(A): \_\_\_\_\_

LÍNGUA PORTUGUESA

# FAMÍLIA SILÁBICA R

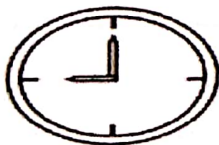
## RA RE RI RO RU



COMPLETE AS PALAVRAS COM RA, RE, RI, RO OU RU:



□ □ D I O




□ □ L Ó G I O



□ □ O



□ □ D O



□ □ A



E.M. "BAIRRO MANUEL CLEMENTE".

IBIÚNA, 03 DE NOVEMBRO DE 2021.

PROFESSORA : ANTONIA

1º ANO A

ALUNO(A): \_\_\_\_\_

### MATEMÁTICA

# CALENDÁRIO 2021

## NOVEMBRO



DATAS COMEMORATIVAS DO MÊS:  
DIA 2 - FINADOS  
DIA 15 - PROCLAMAÇÃO DA REPÚBLICA

DOM	SEG	TER	QUA	QUI	SEX	SÁB
	1	2	3	4	5	6
7	8	9	10	11	12	13
14	15	16	17	18	19	20
21	22	23	24	25	26	27
28	29	30				

COMPLETE O CALENDÁRIO DO MÊS.

## novembro de 2021

domingo	segunda-feira	terça-feira	quarta-feira	quinta-feira	sexta-feira	sábado

© BlankCalendarPages.com





E.M. "BAIRRO MANUEL CLEMENTE".

IBIÚNA, 04 DE NOVEMBRO DE 2021

PROFESSORA : ANTONIA

1º ANO A

ALUNO(A): \_\_\_\_\_











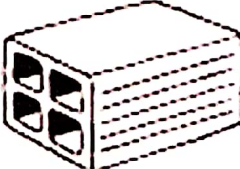







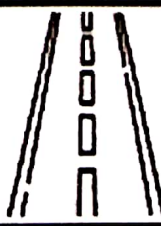

LÍNGUA PORTUGUESA

# LINGUAGEM

FAMÍLIA SILÁBICA

R

PINTE O QUE COMEÇA COM:

RA				
RE				
RI				
RO				
RU				



E.M. "BAIRRO MANUEL CLEMENTE".

IBIÚNA, 04 DE NOVEMBRO DE 2021.

PROFESSORA : ANTONIA

1º ANO A





ALUNO(A): \_\_\_\_\_


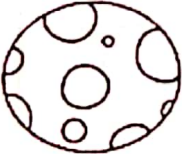


## MATEMÁTICA

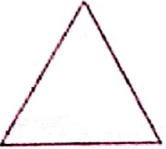








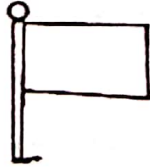
### DESCOBRINDO FORMAS GEOMÉTRICAS

- VEJA OS DESENHOS E AS FORMAS DELES! PINTE AQUELES CUJAS FORMAS SÃO SEMELHANTES ÀS DO PRIMEIRO QUADRO.

 <b>QUADRADO</b>			
--	---	--	---

 <b>CÍRCULO</b>			
--	--	---	--

 <b>TRIÂNGULO</b>			
---	---	--	---

 <b>RETÂNGULO</b>			
---	---	--	---





E.M. "BAIRRO MANUEL CLEMENTE".

IBIÚNA, 05 DE NOVEMBRO DE 2021

PROFESSORA : ANTONIA

1º ANO A

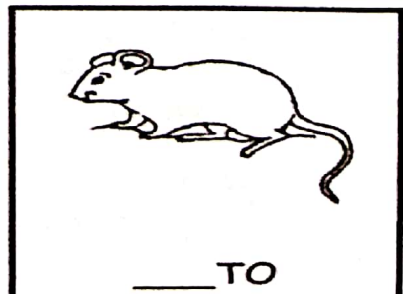



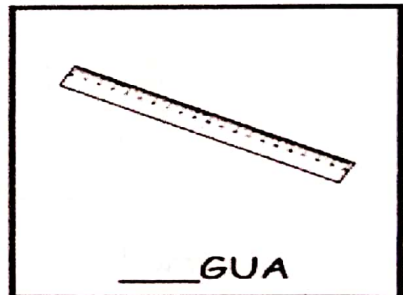
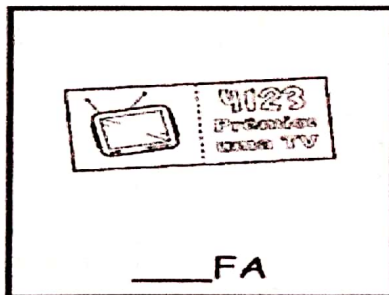
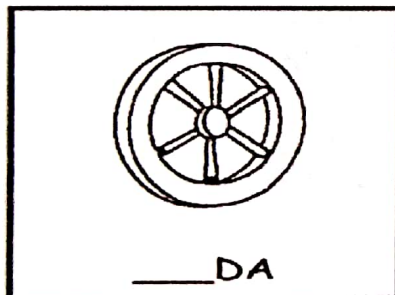



ALUNO(A): \_\_\_\_\_

## LÍNGUA PORTUGUESA



VAMOS COMPLETAR AS PALAVRAS:

**RA - RE - RI - RO - RU**





E.M. "BAIRRO MANUEL CLEMENTE".

IBIÚNA, 05 DE NOVEMBRO DE 2021.

PROFESSORA : ANTONIA

1º ANO A


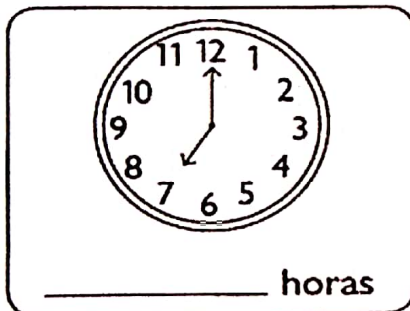


ALUNO(A): \_\_\_\_\_

## MATEMÁTICA



### QUE HORAS SÃO?

1) Que horas cada relógio está marcando?



2) Agora é a sua vez de marcar nos relógios as horas pedidas.

8 horas

9 horas

1 hora

