

E.M. “PADRE ELÍDIO MANTOVANI”



NOME: _____

1º ANO B PROFESSORA ELAINE

ATIVIDADES DE 18/10/21 À 05/11/2021

DEVOLUÇÃO: 08/11/2021

NOME:

IBIÚNA, _____ DE OUTUBRO DE _____

18/10/2021

PINTE A CENA BEM BONITO.



AGORA REGISTRE QUANTAS CRIANÇAS ESTÃO SEGURANDO O CARTAZ.




Dia das crianças - 12 de outubro

CALENDÁRIO DE OUTUBRO

PREENCHER O CALENDÁRIO DO MÊS DE OUTUBRO:

Domingo	Segunda-feira	Terça-feira	Quarta-feira	Quinta-feira	Sexta-feira	Sábado



Qual dia é o dia da semana e o dia das crianças? _____

Qual dia da semana é o dia dos professores? _____

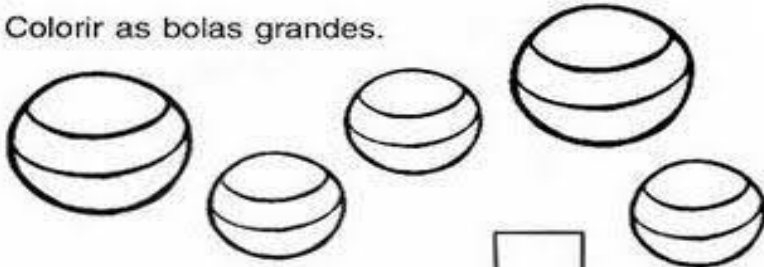
O mês de outubro tem _____ Dias.

NOME:

IBIÚNA, _____ DE OUTUBRO DE _____

19/10/2021


- Colorir as bolas grandes.



- Quantas são as bolas grandes?

- Quantas pequenas?

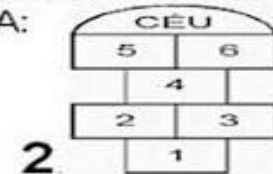
- Colorir somente os brinquedos.



- Quantos brinquedos você achou?

DIA DAS CRIANÇAS - 12 DE OUTUBRO

ESCREVA NO ESPAÇO CORRESPONDENTE A LETRA INICIAL DE CADA BRINQUEDO OU BRINCADEIRA:



1. 2. 3. 4. 5. 6.

<input type="text"/>	<input type="text"/>	<input type="text"/>	<input type="text"/>	<input type="text"/>	<input type="text"/>
----------------------	----------------------	----------------------	----------------------	----------------------	----------------------

ESCREVA O NOME DO BRINQUEDO QUE VOCÊ PREFERE:

NOME:

IBIÚNA, _____ DE OUTUBRO DE _____

20/10/2021

SOESCOLA.COM

BRINCANDO NA PRACINHA!



VAMOS OBSERVAR BEM A IMAGEM E RESPONDER:

1. QUANTAS CRIANÇAS ESTÃO JOGANDO BOLITA?

2. QUANTAS CRIANÇAS ESTÃO BRINCANDO NA GANGORRA?

3. QUANTAS CRIANÇAS ESTÃO BRINCANDO NA PRACINHA?

4. EXISTEM MAIS MENINOS OU MENINAS BRINCANDO?

ESCOLA: _____
TURMA: _____ PROFESSOR(A): _____
EU SOU: _____

SEMANA DA CRIANÇA

1- VOCÊ JÁ FEZ ALGUMA DESSAS BRINCADEIRAS?
CIRCULE AS BRINCADEIRAS QUE VOCÊ CONHECE E MARQUE
COM UM X, AS QUE VOCÊ JÁ BRINCOU.




NOME:

IBIÚNA, _____ DE OUTUBRO DE _____

21/10/2021

ATIVIDADE

1 - ESCREVA OS NOMES DOS BRINQUEDOS



2 - RESPONDA

O QUE É
COMEMORADO
NO DIA 12 DE
OUTUBRO?



1. OBSERVE A CENA, CONTE E REGISTRE.



Nº DE CRIANÇAS

QUATRO

Nº DE MENINAS

Nº DE MENINOS

Nº DE BONECAS

NOME:

IBIÚNA, _____ DE OUTUBRO DE _____

22/10/2021


ATIVIDADES SOBRE DIA DAS CRIANÇAS

Professor: As atividades foram elaboradas com base no texto "História das brincadeiras" que pode ser acessado no site <http://www.resolucao1010.com.br/category/atividades-do-dia-das-criancas/>

1) ESCREVA A PRIMEIRA LETRA DE CADA BRINQUEDO NO QUADRO AO LADO DAS FIGURAS:



2) COMPLETE AS LETRAS QUE ESTÁ FALTANDO NO NOME DE CADA UMA DAS BRINCADEIRAS:



OBSERVANDO E COMPLETANDO

CAUÃ E SEUS AMIGOS FORAM PASSEAR NO PARQUE. DE ACORDO COM A CENA, MARQUE UM X NA RESPOSTA CERTA.




- QUANTAS CRIANÇAS ESTÃO NO PARQUE? 6 8 4
- QUANTAS MENINAS? 5 2 3
- QUANTOS MENINOS? 7 5 6
- QUANTOS BRINQUEDOS HÁ NO PARQUE? 4 3 5
- E QUANTOS ANIMAIS? 1 2 3

NOME:

IBIÚNA, _____ DE OUTUBRO DE _____

25/10/2021



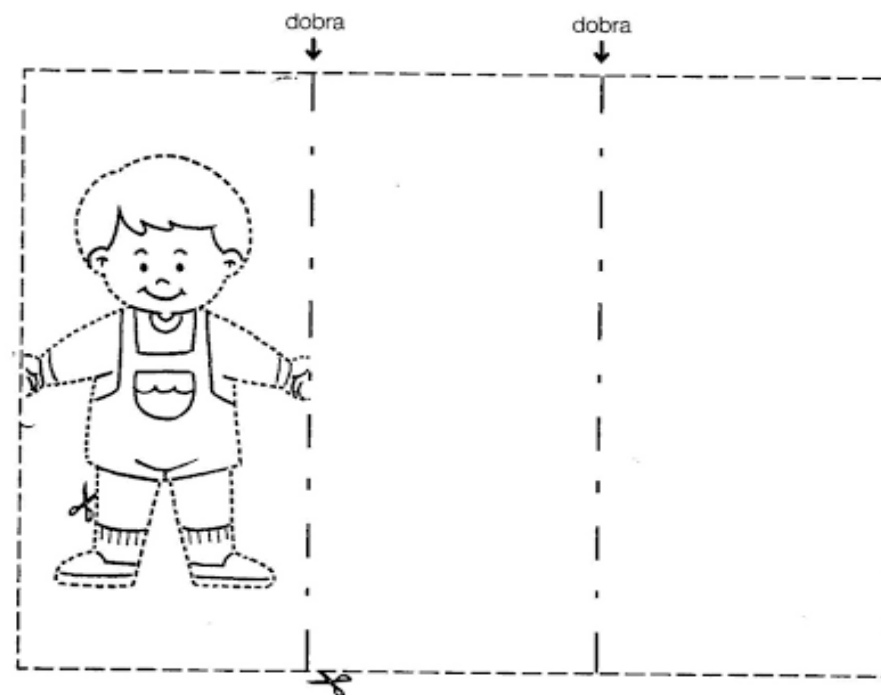
PARA VOCÊ, O QUE É SER CRIANÇA?

ESCOLA EDUCAÇÃO

Dia da Criança: 12 de outubro

Vamos brincar?

Dobre a folha nos locais indicados. Depois, recorte a figura.

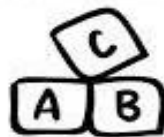


NOME: _____

IBIÚNA, _____ DE OUTUBRO DE _____

26/10/2021


1- FAÇA O CONTORNO DA LETRA COM TINTA A DEDO.



ESTÁ NO KASSIO
NA KARINE E NO KARATÊ
NO KELVIN, NA KAYARA
NA KELLY E NO KARAOKÊ.



2- MOSTRE QUE VOCÊ APRENDEU:




www.aartodeensinaraprender.com

NOME: _____

GRÁFICO

VAMOS MONTAR O GRÁFICO DE IMAGENS?



9				
8				
7				
6				
5				
4				
3				
2				
1				

	<input type="checkbox"/>	<input type="checkbox"/>	<input type="checkbox"/>	<input type="checkbox"/>

ATIVIDADES SUZANO

NOME:

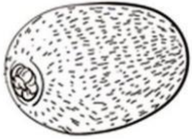








IBIÚNA, _____ DE OUTUBRO DE _____

27/10/2021

DITADO E RECORTADO




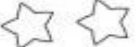






1. Vamos recortar as palavras correspondentes aos desenhos e colar.

		
_____	_____	_____
		
_____	_____	_____
		
_____	_____	_____











KIWI	KAPO	KART
KIT	KOMBI	KUAT
KUNG FU	KODAK	KIBON

SOME OS OBJETOS E LIGUE-OS AO RESULTADO CORRESPONDENTE.

	+		●	○	2
	+		●	○	3
	+		●	○	4
	+		●	○	5

tilibra

VAMOS SOMAR?

	+		=	6
	+		=	_____
	+		=	_____
	+		=	_____
	+		=	_____

tilibra

NOME:

IBIÚNA, _____ DE OUTUBRO DE _____

28/10/2021

FAMÍLIA SILÁBICA

L

LIGUE:


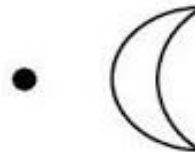
LA

LE

LI

LO

LU



QUESTÃO 01

SANDRA E BETINHO ADORAM BRINCAR. ELES ESPALHAM TODOS OS SEUS BRINQUEDOS NO QUARTO E PASSAM HORAS JUNTOS, BRINCANDO.



QUAL BRINQUEDO ESTÁ ATRÁS DO BETINHO?

- A) A CASA
- B) A BOLA
- C) O CARRINHO
- D) O URSO

QUESTÃO 02

OBSEVE O CARRINHO QUE BRUNO DESENHOU COM 10 FIGURAS GEOMÉTRICAS.



MARQUE O QUADRADINHO QUE TEM A MESMA FIGURA USADA NAS RODAS DO CARRO.

- A)
- B)
- C)
- D)

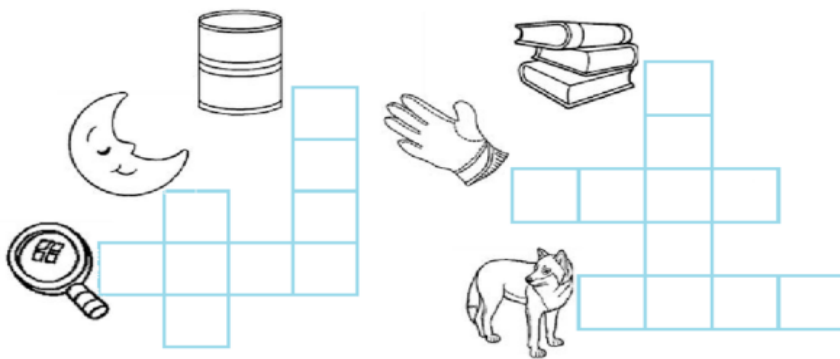
NOME:

IBIÚNA, _____ DE OUTUBRO DE _____

29/10/2021

4 - LEIA E ENCAIXE AS PALAVRAS.

LOBO – LUPA – LUA – LATA – LIVRO – LUVA



5 - ESCREVA OS NOMES DOS DESENHOS ABAIXO.









WWW.MESTREDOSSABER.COM.BR

NOME: _____

DATA: _____ www.mestredosaber.com.br

PINTE A QUANTIDADE DE QUADRINHOS REFERENTE A IDADE DE CADA CRIANÇA.



Vertical grid of 8 squares for CAROL

Vertical grid of 10 squares for BETO

Vertical grid of 7 squares for FABI

Vertical grid of 9 squares for TIAGO

Vertical grid of 6 squares for NINA

Vertical grid of 5 squares for LUCA

CAROL BETO FABI TIAGO NINA LUCA

8 10 7 9 6 5

NOME:


IBIÚNA, _____ DE NOVEMBRO DE _____

03/11/2021

LINGUAGEM

FAMÍLIA SILÁBICA
L













COMPLETE COM: **LA** **LE** **LI** **LO** **LU**

 [] TA	 [] ÇO	 [] PIS
 [] ÃO	 [] VRO	 [] XO
 [] BO	 [] A	 [] VA

ATIVIDADE DE MATEMÁTICA

NOME:

CONTE AS FIGURAS E MARQUE O NÚMERO QUE REPRESENTA A QUANTIDADE DE CORRETA.

 4 3 2	 8 4 6
 6 7 8	 10 11 9
 5 7 6	 4 6 5
 8 9 10	 2 3 1
 2 7 3	 4 3 5
 8 7 9	 6 8 5

NOME:

IBIÚNA, _____ DE NOVEMBRO DE _____

04/11/2021

LINGUAGEM

FAMÍLIA SILÁBICA

L

PINTE A PALAVRA QUE REPRESENTA A FIGURA:



LAÇO
LÁPIS
LATA



LAÇO
LÁPIS
LATA



LEITE
LEÃO
LEGUE



LIMÃO
LIVRO
LIXO

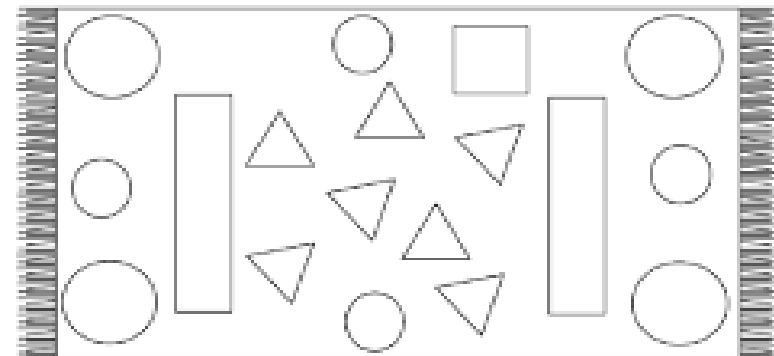




LOBO
LOTO
BOLO



LUVA
LUA
LUTA

COLORIR NO TAPETE AS FORMAS GEOMÉTRICAS DE ACORDO COM AS ORIENTAÇÕES:



PINTE A QUANTIDADE DE FORMAS GEOMÉTRICAS EXISTENTES DENTRO DO TAPETE:

- CÍRCULOS: ○ ○ ○ ○ ○ ○ ○ ○ ○ ○
- QUADRADOS: □ □ □ □ □ □ □ □
- RETÂNGULOS: ▭ ▭ ▭ ▭ ▭ ▭
- TRIÂNGULOS: △ △ △ △ △ △ △ △ △

CONTINUE A SEQUÊNCIA:



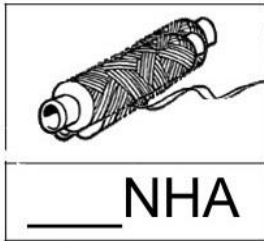
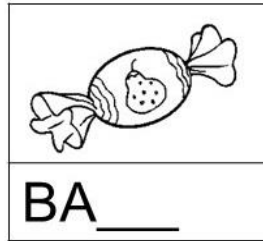
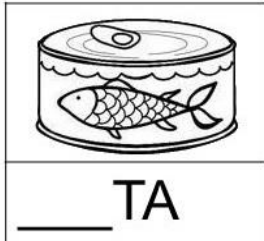

NOME:

IBIÚNA, _____ DE OUTUBRO DE _____

05/11/2021

Dani. Sabosa.


1. COMPLETE OS NOMES DAS FIGURAS COM AS SÍLABAS QUE FALTAM



2. LEIA O TEXTO E RESPONDA

A LAGARTA LILA


LILA É UMA LAGARTA
QUE MORA LÁ NO IPÊ
QUANDO SENTE FOME,
PICA A FOLHA PRA COMER



A) QUAL É O NOME DO ANIMAL DO TEXTO?

B) ELA É UMA ...

OBSERVE AS FIGURAS E RESPONDA:



QUANTOS DESENHOS DE CADA VOCÊ CONTOU?



