



ESCOLA MUNICIPAL: “BAIRRO MORRO GRANDE”

APOSTILA DE ESTUDOS REMOTOS

Nº13

CONTEÚDOS DO 4º BIMESTRE

PERÍODO DE 18 DE OUTUBRO A 05 DE NOVEMBRO

PROFESSORA: TATIANE DE MORAES

1º ANO B

Conforme Orientação Pedagógica - Nº 17 de 07/10/2021 da Secretaria Municipal de Educação de Ibiúna.

NOME DO ALUNO(A):

ORIENTAÇÕES APOSTILA 13

OLÁ, VOCÊ ESTÁ RECEBENDO A DÉCIMA TERCEIRA APOSTILA DE ESTUDOS, COM ATIVIDADES DO DIA 18 DE OUTUBRO ATÉ 05 DE NOVEMBRO. OS ALUNOS FARÃO AS ATIVIDADES EM CASA, NESSES DIAS SERÁ DISPONIBILIZADO UM LINK DO GOOGLE MEET PARA QUE OS ALUNOS QUE ESTÃO EM CASA POSSAM ASSISTIR AO VIVO, ASSIM PODERÃO TIRAR TODAS AS DÚVIDAS EM TEMPO REAL, OS ALUNOS QUE NÃO PUDEREM ASSISTIR A AULA DEVERÃO AVISAR AO PROFESSOR PARA QUE POSSAMOS PENSAR EM UMA SOLUÇÃO PARA O ATENDIMENTO REMOTO. QUALQUER DÚVIDA ESTOU A DISPOSIÇÃO PARA ESCLARECIMENTO. ABAIXO SEGUE OS HORÁRIOS DE ENVIO DO LINK DO GOOGLE MEET.

DIA	HORÁRIO
18	14H
19	14H
20	14H
21	14H
22	14H
25	14H
26	14H
27	14H
28	14H
29	14H
03	14H
04	14H
05	14H

A AULA SERÁ TRANSMITIDA DURANTE O PERÍODO DE UMA HORA

ASSINATURA DO RESPONSÁVEL PELO(A) ALUNO(A)

DICAS PARA FORMAR UM LEITOR

É MUITO IMPORTANTE PERMITIR QUE A CRIANÇA LEIA LIVROS SEMPRE, MESMO QUE ELA AINDA NÃO SAIBA LER DE MANEIRA CONVENCIONAL, PERMITA QUE A CRIANÇA FOLHEIE OS LIVROS E PEÇA PARA QUE ELA LEIA COMO SOUBER E NUNCA CORRIJA A LEITURA QUE ELA FIZER, ASSIM ELA IRÁ COMEÇAR A LER ESPONTANEAMENTE.



ATIVIDADE 01 LÍNGUA PORTUGUESA

VAMOS LER E RESPONDER AS QUESTÕES

LEIA O TEXTO:



PEIXINHO LIGEIRO
QUE NADA SEM PARAR
ME CONTE OS SEGREDOS
DO FUNDO DO MAR.

1. COMO É O PEIXINHO?

2. ONDE O PEIXINHO NADA?

3. COMPLETE O TEXTO.

PEIXINHO _____
QUE _____ SEM PARAR
ME CONTE OS _____
DO FUNDO DO _____.

4. PINTE AS SÍLABAS DA PALAVRA PEIXE.



PE

PEI

BE

XE

JE


XA

ATIVIDADE 02 CIÊNCIAS

ANIMAIS DOMÉSTICOS E ANIMAIS SILVESTRES

OS ANIMAIS SÃO SERES VIVOS.

OS ANIMAIS DOMÉSTICOS SÃO AQUELES QUE VIVEM JUNTO ÀS PESSOAS EM CASAS OU FAZENDAS.

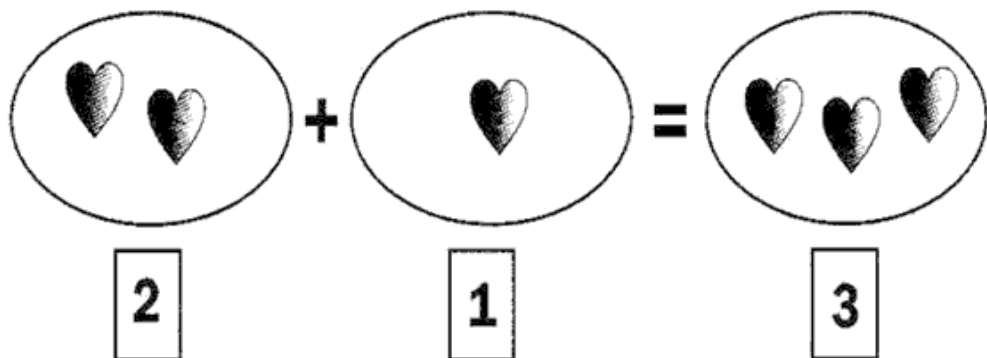


OS ANIMAIS SILVESTRES (SELVAGENS), SÃO AQUELES QUE VIVEM NO LUGAR ONDE NASCERAM, COMO: SELVA, OCEANO, MONTANHAS E OUTROS.



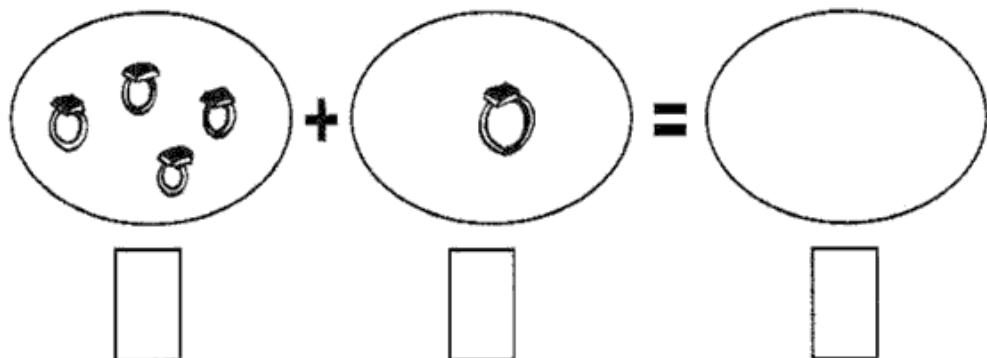
ATIVIDADES 03 MATEMÁTICA

RESOLVA AS OPERAÇÕES DE ADIÇÃO OBSERVANDO QUANTOS ELEMENTOS HÁ EM CADA?



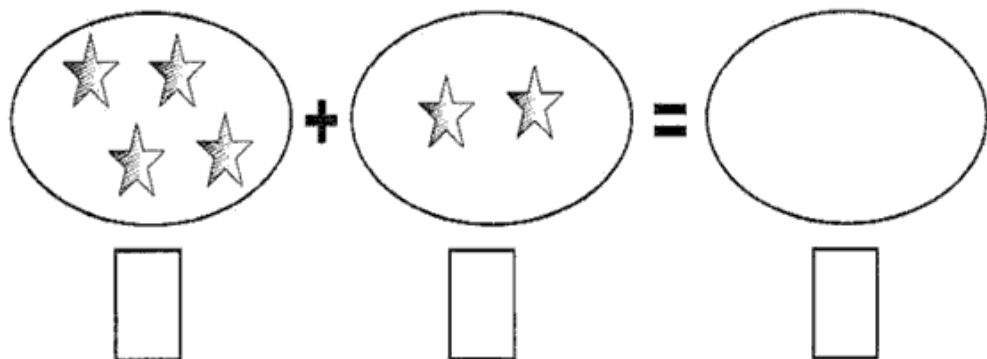
2 + 1 = 3

A visual addition problem. On the left, a circle contains two hearts. In the middle, a circle contains one heart. On the right, a circle contains three hearts. Below each circle is a small rectangular box containing the number 2, 1, and 3 respectively.



4 + 1 =

A visual addition problem. On the left, a circle contains four rings. In the middle, a circle contains one ring. On the right, an empty circle is shown. Below each circle is a small empty rectangular box.



4 + 2 =

A visual addition problem. On the left, a circle contains four stars. In the middle, a circle contains two stars. On the right, an empty circle is shown. Below each circle is a small empty rectangular box.

AGORA QUE VOCÊ JÁ FEZ SUA ÁRVORE GENEALÓGICA, VAMOS ENTENDER O QUE É UMA FAMÍLIA

FAMÍLIA É...

UM GRUPO DE PESSOAS QUE VIVEM JUNTAS, UNIDAS POR LAÇOS FAMILIARES OU AFETIVOS. PODE SER FORMADO POR MÃE, PAI, FILHOS, PARENTES E BICHINHOS DE ESTIMAÇÃO TAMBÉM.

PEÇA ALGUÉM PARA COMPLETAR OS NOMES DAS PESSOAS QUE FAZEM PARTE DE SUA FAMÍLIA.

MINHA FAMÍLIA

EU: _____

PAIS: _____

IRMÃOS: _____

AVÓS: _____

PARENTES: _____



ATIVIDADE 05 LÍNGUA PORTUGUESA

LEIA AS SÍLABAS DA LETRA P

PA- PE -PI- PO- PU

➡️ **COMPLETE OS NOMES DAS FIGURAS COM A LETRA P:**

PIÃO
— IÃO

PIPA
— IPA

PETECA
— ETECA

PEIXE
— EIXE

➡️ **CIRCULE AS LETRAS P QUE ENCONTRAR ABAIXO:**

PAPA CAPA PAPAI

➡️ **JUNTE AS SÍLABAS E ESCREVA AS PALAVRAS:**

PE → LA DO _____
 → PI NO _____
 → LU DO _____


PO → TE _____
 → MA DA _____
PI → PO CA _____



ATIVIDADE 06 GEOGRAFIA

NAS APOSTILAS 4 E 5, NÓS ESTUDAMOS OS DIFERENTES TIPOS DE MORADIAS, NESTA APOSTILA VAMOS FALAR SOBRE COMO É UMA CASA.

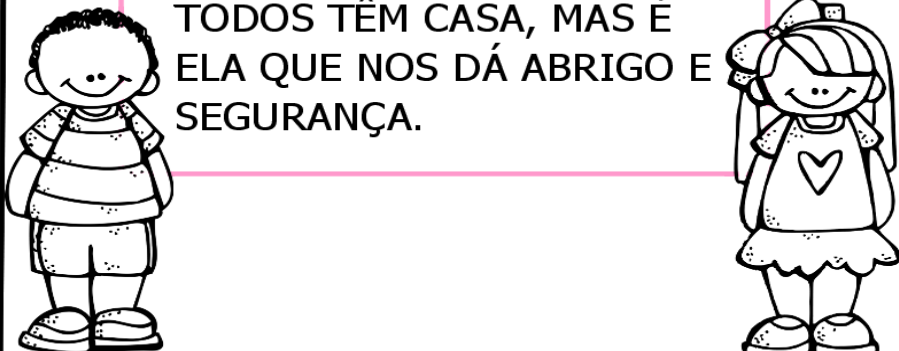
E FAÇA UM BELO COLORIDO.



MORADIA


TODAS AS PESSOAS
NECESSITAM DE UM LUGAR
PARA MORAR.

INFELIZMENTE, NEM
TODOS TÊM CASA, MAS É
ELA QUE NOS DÁ ABRIGO E
SEGURANÇA.

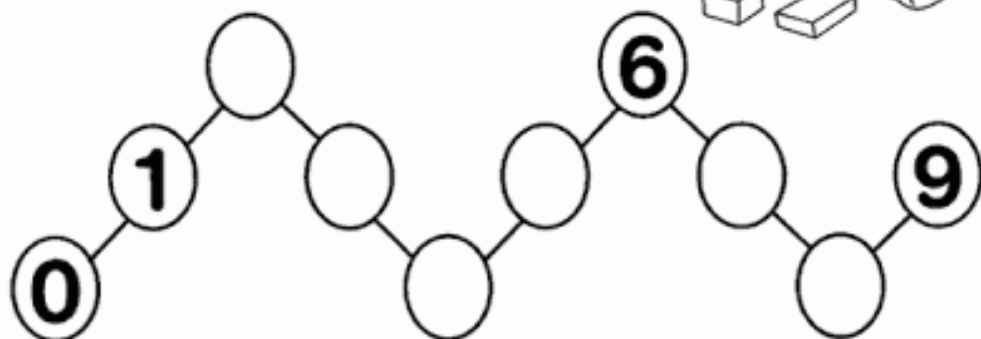


ATIVIDADE 07 MATEMÁTICA

⇒ 1) EU COMEÇO, VOCÊ CONTINUA:



⇒ 2) COMPLETE:



ESTUDO DAS CORES

COR: É UMA SENSAÇÃO PROVOCADA PELA AÇÃO DA LUZ SOBRE OS NOSSOS OLHOS.

CORES PRIMÁRIAS: AMARELO, AZUL E VERMELHO SÃO CORES PRIMÁRIAS. SÃO CONSIDERADAS AS PRIMEIRAS, ELAS SÃO PURAS, SEM MISTURA.



AZUL

AMARELO

VERMELHO

CORES SECUNDÁRIAS: SÃO FORMADAS PELA MISTURA DE DUAS CORES PRIMÁRIAS. AS CORES SECUNDÁRIAS SÃO: VERDE, ROXO E LARANJA.



ATIVIDADE 09 LÍNGUA PORTUGUESA

DITADO NUMÉRICO

Forme palavras, procurando os numerais iguais.

1	2	2	1	6	4	3
PI	PO	PI	CO	PA	PI	ÃO
5	1	3	6	2	6	4
PÃO	LÉ	PI	NE	CA	LA	PA

1 _____

2 _____

3 _____

4 _____

5 _____

6 _____

PINTE COM A MESMA COR AS FORMAS IGUAIS E DEPOIS REGISTRE A QUANTIDADE DE CADA UMA:

TRIÂNGULO	
CÍRCULO	
QUADRADO	
RETÂNGULO	



ATIVIDADE 11 LÍNGUA PORTUGUESA

COM O AUXÍLIO ALGUÉM DE SUA CASA LEIA O TEXTO E RESPONDA AS QUESTÕES.

TITA, A TOUPEIRA

TOUPEIRA TITA
NÃO É BOBOCA
VIVE DEBAIXO DA TERRA
EM SUA LINDA TOCA

TEM DENTES FORTES
E COME INSETOS
QUERIA QUE TITA
MORASSE AQUI PERTO!

GI BARBOSA CARVALHO



1- ENCONTRE NO TEXTO O NOME DA TOUPEIRA E PINTE DE AZUL.

2- QUANTAS PALAVRAS INICIADAS COM A LETRA T PODEM SER ENCONTRADAS NO TEXTO?

3- SEPRE EM SÍLABAS AS PALAVRAS ABAIXO:

TITA _____ TOCA _____

BOBOCA _____ COME _____

COLOQUE **1** PARA DOMÉSTICOS E **2** PARA SELVAGENS



PORCO




CAMELO



LEÃO



CANGURU



CROCODILO



CAVALO



TIGRE



CACHORRO



OVELHA



URUBU



ZEBRA

ATIVIDADE 13 MATEMÁTICA

LIGUE CADA OPERAÇÃO DE ADIÇÃO AO SEU RESULTADO.

$7 + 1 =$

9

$5 + 2 =$

6


$4 + 2 =$

8

$9 + 0 =$

7

- ESCREVA NO CORAÇÃO OS NOMES DAS PESSOAS DE SUA FAMÍLIA.



- PROCURE NO DIAGRAMA OS MEMBROS DE UMA FAMÍLIA.


PAPAI - MAMÃE - VOVÓ - TITIA
TITIO - VOVÔ - IRMÃ - IRMÃO



M	N	B	V	C	X	Z	U	I	R	M	Ã	I	D
A	F	G	H	J	P	A	P	A	I	J	V	O	V
M	K	L	J	H	G	F	D	S	A	V	O	V	C
Ã	N	V	C	X	Z	V	O	V	Ó	M	Q	W	E
E	Q	W	E	R	T	I	T	P	J	H	G	X	T
F	I	O	X	I	R	M	Ã	O	K	L	Ç	O	I
C	B	B	O	P	I	U	Y	T	D	S	A	I	T
T	I	T	I	O	M	N	O	M	A	M	A	V	I
P	A	A	P	U	Y	V	O	V	Ô	M	Z	N	A

ATIVIDADE 15 LÍNGUA PORTUGUESA

FRASES



COLOQUE CADA LETRA NO QUADRINHO E
LEIA A FRASE

O GATO PULOU A JANELA

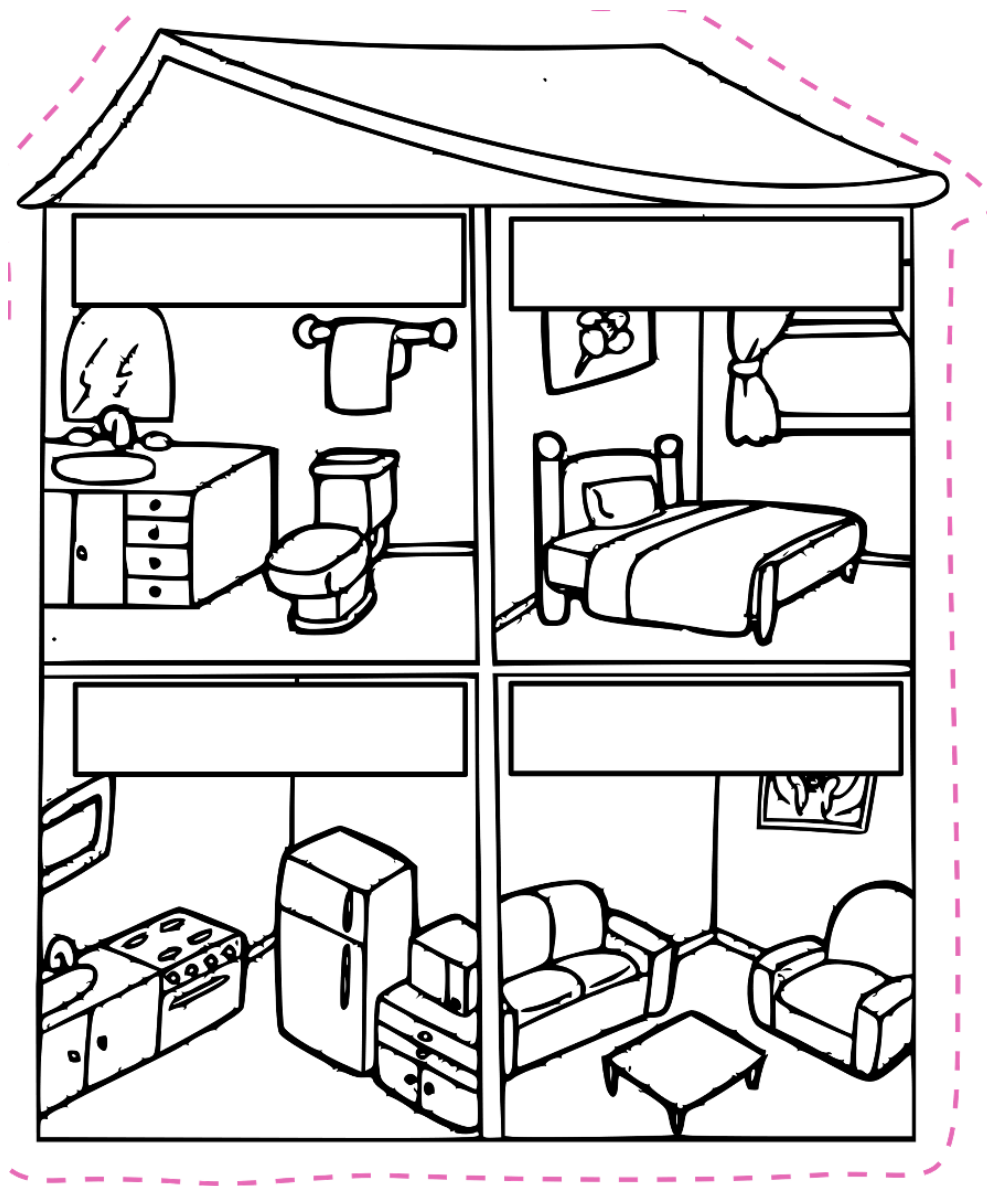
CAMILA TEM UM URSO.

A FACA FICOU AFIADA

ATIVIDADE 16 GEOGRAFIA









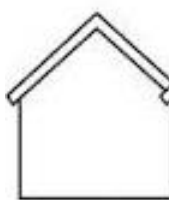











LEIA OS NOMES DE CADA CÔMODO DA CASA E ESCREVA E SEUS LUGARES

BANHEIRO – QUARTO – SALA - COZINHA




ATIVIDADE 17 MATEMÁTICA

COMPLETE AS CASINHAS COM OS VIZINHOS DE CADA NÚMERO:

	5			9	
	12			17	
	23			28	
	31			35	
	46			49	

PINTE AS FLORES USANDO AS CORES PRIMÁRIAS



ATIVIDADE 19 LÍNGUA PORTUGUESA


PALAVRAS

PINTE A PLACA CORRESPONDENTE À FIGURA:



SAPO

SELO



SOL

SINO



BOLO

BOLA



GATO

GALO




MATO

MOTO

ATIVIDADE 20 MATEMÁTICA

PINTE OS DESENHOS USANDO AS CORES SECUNDÁRIAS E COMPLETE AS SEQUÊNCIAS.

COMPLETE AS SEQUÊNCIAS:



ATIVIDADE 21 LÍNGUA PORTUGUESA

VAMOS CANTAR?

NÃO ATIRE O PAU NO GATO - TO
PORQUE ISSO - SSO
NÃO SE FAZ - FAZ - FAZ
O GATINHO - NHO
É NOSSO AMIGO - GO
NÃO DEVEMOS MALTRATAR OS ANIMAIS

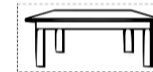
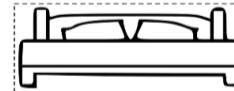
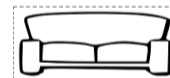
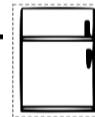
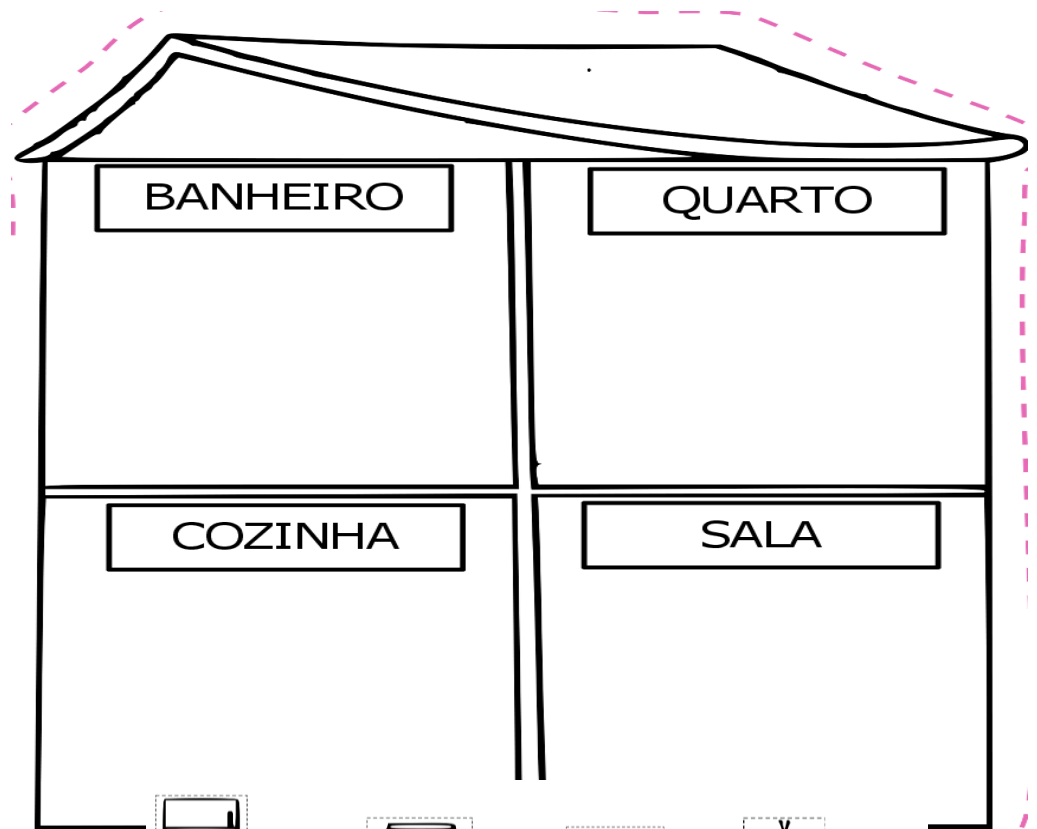


JAMAIS!

1- RECORTE, COLE E COMPLETE A MÚSICA COM AS PALAVRAS FALTOSAS

NÃO ATIRE O NO - TO
PORQUE ISSO - SSO
NÃO SE FAZ - FAZ - FAZ
O - NHO
É NOSSO - GO
NÃO DEVEMOS MALTRATAR OS ANIMAIS
JAMAIS!

GATINHO PAU GATO AMIGO



ATIVIDADE 23 MATEMÁTICA

VAMOS RESOLVER OS PROBLEMINHAS ABAIXO.

PROBLEMINHAS

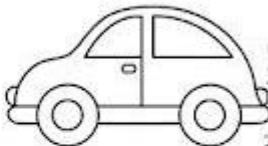
NUMA FAZENDA HAVIA 8 VAQUINHAS E 3 BOIS. QUANTOS ANIMAIS A FAZENDA TINHA NO TOTAL?



O AQUÁRIO DE ALICE POSSUI 5 PEIXINHOS DOURADOS E 4 PEIXES PALHAÇO. QUANTOS PEIXES NO TOTAL ALICE TEM?



PEDRO TEM 7 CARRINHOS E FÁBIO TEM 6. JUNTOS ELES TEM QUANTOS CARRINHOS?



LARA COMPROU UMA BONECA DE 9 REAIS E UMA BOLA QUE CUSTOU 5 REAIS. QUANTO ELA GASTOU?



ATIVIDADE 25 LÍNGUA PORTUGUESA

LEIA A PALAVRA E PREENCHA CADA QUADRADO COM O QUE SE PEDE



BOLO

<input type="text"/>	<input type="text"/>	<input type="text"/>
LETRA INICIAL	LETRA FINAL	TOTAL DE LETRAS



RATO

<input type="text"/>	<input type="text"/>	<input type="text"/>
LETRA INICIAL	LETRA FINAL	TOTAL DE LETRAS



IGREJA

<input type="text"/>	<input type="text"/>	<input type="text"/>
LETRA INICIAL	LETRA FINAL	TOTAL DE LETRAS



MAMADEIRA

<input type="text"/>	<input type="text"/>	<input type="text"/>
LETRA INICIAL	LETRA FINAL	TOTAL DE LETRAS



JARRA

<input type="text"/>	<input type="text"/>	<input type="text"/>
LETRA INICIAL	LETRA FINAL	TOTAL DE LETRAS



FADA

<input type="text"/>	<input type="text"/>	<input type="text"/>
LETRA INICIAL	LETRA FINAL	TOTAL DE LETRAS

OBSERVE OS PREÇOS DOS PRODUTOS DA LANCHONETE DA ESCOLA:

<p>SUCO</p> <p>R\$ 4</p>	<p>REFRIGERANTE</p> <p>R\$ 5</p>	<p>PICOLÉ</p> <p>R\$ 2</p>
<p>PIPOCA</p> <p>R\$ 1</p>	<p>SANDUÍCHE</p> <p>R\$ 4</p>	<p>BOLO</p> <p>R\$ 3</p>

1. QUAL O PRODUTO MAIS CARO? 2. QUAL O PRODUTO MAIS BARATO?

<input type="text"/>	<input type="text"/>
----------------------	----------------------

3. QUAIS OS PRODUTOS CUSTAM O MESMO VALOR?

<input type="text"/>

4. SE VOCÊ COMPRAR UM PICOLÉ E UMA FATIA DE BOLO, QUANTO GASTARÁ?

<input type="text"/>

REFERÊNCIAS

<https://danieducar.com.br/atividades-para-alfabetizacao-1-ano/>

<https://atividadespedagogicas.net/2014/12/atividades-para-alfabetizacao-do-1o-ano.html>

<https://atividadespedagogicas.net/2014/12/atividades-para-alfabetizacao-do-1o-ano.html>

<https://www.artesanatototal.com/atividades-alfabetizacao-letramento-exercicios/>

<https://www.artesanatototal.com/atividades-alfabetizacao-letramento-exercicios/>

<https://www.espacoprofessor.com/atividade-de-alfabetizacao-1o-ano-peixinho-ligeiro-atividade-de-portugues/>

<https://www.mestredosaber.com.br/atividades-de-alfabetizacao-1-ano-para-imprimir/>

<https://www.artesanatototal.com/atividades-alfabetizacao-letramento-exercicios/>

<https://www.criarrecriarensinar.com/2019/09/atividades-para-imprimir-de-matematica.html>

<https://amorensina.com.br/os-animais-texto-e-atividades-para-o-1/>

<https://br.pinterest.com/pin/14214555055616518/>

<http://www.pmbraganey.pr.gov.br/images/media/13629179015f400b400153a.pdf>

<https://alfakids.org/wp-content/uploads/2019/05/atividades-de-geografia-moradia-casa-e-c%C3%B4modos1.png>

<https://alfakids.org/wp-content/uploads/2019/05/atividades-de-geografia-moradia-casa-e-c%C3%B4modos4.png>

<https://br.pinterest.com/pin/459156124508095255/>

<https://www.conhecimentoetransformacao.com/produto/coletanea-bncc-arte-1o-e-2o-anos-e-ficha-bncc-plano-de-aula-arte/>