



Prefeitura da Estância Turística de
IBIÚNA



E.M SANTINO FRANCISCO VIEIRA

APOSTILA DE ATIVIDADES REMOTAS

NOME: _____ **2º ANO A**

PROFESSOR MAYLLSON LUIZ BORBA DOS SANTOS

APOSTILA 13

PERÍODO DE 18/10 À 05/11



DEVOLUÇÃO: 08/11/2021

ATIVIDADE PARA 18.10.2021

E.M - SANTINO FRANCISCO VIEIRA.
IBIÚNA, DE DE 2021

★PREENCHA O QUADRO COM AS FAMÍLIAS SILÁBICAS:

	A	E	i	O	U	ÃO
B						
C						
D						
F						
G						
H						
J						
K						
L						

18/10/2021

www.atividadespara imprimir.com

WWW.DANIEDUCAR.COM

ATIVIDADE PARA O DIA 18.10.2021

NOME _____

DATA ____/____/____

18/10/2021

LETRAS E SÍLABAS

1 - SEPARE EM CADA QUADRO, AS LETRAS E AS SÍLABAS DAS PALAVRAS



SAPO



PIPA



PATO



GATO



DADO



MAÇÃ



FOCA



BOLA

www.artedeensinaraprender.com

WWW.DANIEDUCAR.COM


ATIVIDADE PARA O DIA 19.10.2021

E.M.SANTINO FRANCISCO VIERA.
IBIÚNA, DE OUTUBRO DE 2021
Mistura de Alegria

19/10/2021

AUTODITADO

B



www.misturadealegria.blogspot.com.br

Adiléa

WWW.BLOGCLICEDUCANDO.COM

ATIVIDADE PARA O DIA 19.10.2021


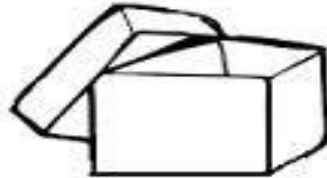
NOME _____

DATA ____/____/____

19/10/2021

AUTODITADO

C



www.misturadealegria.blogspot.com.br

Adiléa

WWW.MISTURADEALEGRIA.BLOG.POT.COM.BR

ATIVIDADE PARA O DIA 20.10.2021

E.M. SANTINO FRANCISCO VIEIRA.
IBIÚNA, DE OUTUBRO DE 2021

20/10/2021

ATIVIDADE 01: LEIA AS SÍLABAS ABAIXO:



FORME PALAVRAS USANDO AS SÍLABAS COM AS
COMBINAÇÕES DE CORES ABAIXO E ESCREVA A
PALAVRA FORMADA.

Green box → Red box = _____

Pink box → Blue box = _____


Green box → Yellow box = _____

Yellow box → Blue box = _____

Pink box → Yellow box = _____

Red box → Yellow box = _____

ATIVIDADE 02: MONTE O QUEBRA-CABEÇA E FORME O NOME DAS FIGURAS.





PARABENS! VOCÊ É INCRÍVEL
Psicopedagoga Aline Joice

LIVEWORKSHEETS

WWW.ARTEDEENSINAR.COM

ATIVIDADE PARA 20.10.2021

E.M. "SANTINO FRANCISCO VIERA" IBIÚNA, DE OUTUBRO DE 2021

HORA DE PRATICAR. REALIZE A LEITURA DA FICHA.

LETRA B

JOGO DE BOLA
A BELA BOLA
ROLA;
A BELA BOLA DO
RAUL.
BOLA AMARELA
A DE ARABELA
ROLA AMARELA
E PULA A AZUL...

CECÍLIA MEIRELES

BOLA

BELA

BICO

BONECA

BAÚ



ATIVIDADES SUZANO

LETRA C

A CASINHA DA
VOVÓ,
CERCADINHA DE
CIPÓ.
O CAFÉ TA
DEMORANDO,
COM CERTEZA
NÃO TEM PÓ.

CASA

CAFÉ

CABO

CORUJA

CAMA



ATIVIDADES SUZANO

20/10/2021

WWW.ESCOLAEDUCAÇÃO.COM.BR


ATIVIDADE PARA 21.10.2021

E.M. SANTINO FRANCISCO VIEIRA
IBIÚNA, DE OUTUBRO DE 2021



CINEMA EM CASA

21/10/2021



Cibele ganhou um aparelho de DVD no seu aniversário.
Dona Cecília, sua mãe, alugou o filme *Cinderela*, na locadora da cidade.

Cibele convidou sua amiga Alice para assistirem ao filme juntas.

Alice levou deliciosas balas de cerejas e Cibele fez pipoca doce.
Dona Cecília disse:

— Semana que vem vou alugar para vocês o filme: *Alice no País das Maravilhas*.

— Oba! E você, amiga, é a minha convidada de novo — disse Cibele à Alice.

Graça Boquet

1) Marque, no texto, todas as palavras escritas com **Ce-ce** e **Ci-ci**.

2) Qual é o nome do filme ao qual as meninas assistiram?

3) Marque a resposta certa:

a) Cibele ganhou um aparelho de:

som.

televisão.

DVD.

WWW.ATIVIDADESUZANO.COM

ATIVIDADE PARA 21.10.2021

Nome: _____ Data: ____/____/____

A escolinha da Mariana

21/10/2021

Mamãe prepara com muito cuidado tudo que precisa levar na mochila. Mariana observa atentamente para não se esquecer de nada.



Pngtree

É chegada a hora de voltar à escola. Ficar de férias é bom, mas voltar a estudar é melhor ainda.

Um novo ano cheio de descobertas irá se iniciar e Mariana aguarda ansiosa para viver novas aventuras. Afinal, a escola é um foguete mágico que nos leva ao mundo do conhecimento.

Kátia Teixeira

COMPREENSÃO DO TEXTO

1. Este texto fala sobre:

- A chegada das férias
- A volta às aulas
- O dia das crianças
- Festa de aniversário



2. O nome da menina que aparece no texto é:

- | | |
|----------------------------------|---------------------------------|
| <input type="checkbox"/> MARIA | <input type="checkbox"/> MARIAN |
| <input type="checkbox"/> MARIANA | <input type="checkbox"/> MARINA |



Adoro fábulas!



Um pastor cuidava de seu rebanho perto de um povoado. Ele gostava de mentir de vez em quando gritando:

— Socorro! Um lobo vai comer minhas ovelhas. Socorro!

Os vizinhos largavam o trabalho e saíam correndo para ajudar. Encontravam o pastor dando risadas.

Um dia, apareceu um lobo de verdade. O pastor gritou desesperado, mas os vizinhos acharam que era mentira e nem deram atenção. Nesse dia, o lobo acabou com o rebanho do pastorzinho.

Fábula de Esopo (texto adaptado)

Interpretando o texto



1) Crie um título para o texto.

2) Responda:

a) Qual era o animal que o pastor cuidava?

b) Em que lugar o pastor cuidava de seu rebanho? _____

c) O que ele gritava quando mentia que o lobo estava atacando suas ovelhas? _____

E.M. SANTINO FRANCISCO VIEIRA IBIÚNA, DE OUTUBRO DE 2021

22/10/2021

Atividade Primaveril



O ouriço malabarista

No meio de duas flores
Em uma teia um ouriço,
Brinca de malabarista.
Onde é que se viu isso?

Na primavera é assim,
Alegre como num circo
Ficam felizes as flores
E até brinca o ouriço

Gi Barbosa

Compreendendo o Texto

Qual o título do texto?

Qual seu personagem principal?

Em qual estação se passa o episódio com o ouriço?

O que faz de tão surpreendente o ouriço?

O que você achou do texto?

ideia criativa

WWW.IDEIACRIATIVA.COM

ATIVIDADE PARA 25.10.2021

NOME: _____ DATA: _____

TEXTO QUE RIMA

UM POEMA PARA OS INSETOS

LOUVA-A-DEUS É LUTADOR
DE CARATÊ E JUDÔ.



ARANHA PENDURADA NA TEIA
BRINCA DE IOIÔ.

BARATA, VELOZ E FESTEIRA,
IMITA CARRINHO DE ROLIMÃ.



BORBOLETA EXISTE
PARA ENFEITAR A MANHÃ.



ONDE O PERNILONGO
APRENDEU A TOCAR VIOLINO?

ONDE A JOANINHA
ESCOLHEU SEU FIGURINO?



MARIPOSA SE ALIMENTA
DE LUZ.



TODA FORMIGA
CARREGA SUA CRUZ.

*ELEFANTE, CHAPÉU E MELANCIA: EM TUDO TEM
POESIA, SÃO PAULO*

- LEIA O POEMA
- POR QUE O POETA FAZ TANTAS PERGUNTAS:
ONDE O PERNILONGO APRENDEU A TOCAR VIOLINO?

ONDE A JOANINHA ESCOLHEU O FIGURINO?

- QUE PALAVRAS DO POEMA TERMINAM COM SONS PARECIDOS?
ESCOLHA UMA COR E CIRCULE ESSAS PALAVRAS NO TEXTO.

- COPIE DO POEMA A PALAVRA QUE RIMA COM MANHÃ.

ATIVIDADE PARA 25.10.2021

Escola: _____

Data: _____ Turma: _____

Aluno: _____

O XALE DA CAXUXA



O XALE DA CAXUXA É ROXO.
CAXUXA COLOCOU O XALE NUMA CAIXA.
PIXOXO MEXEU NA CAIXA E PUXOU O XALE.
CAXUXA FALOU:

- DEIXA MEU XALE! ELE NÃO É LIXO.
PIXOXO DEIXOU O XALE DA CAXUXA TODO SUJO.

TRABALHANDO O TEXTO

1- QUAIS SÃO OS PERSONAGENS DO TEXTO?

2- NUMERE OS ACONTECIMENTOS NA
MESMA ORDEM DA HISTÓRIA:

- () PIXOXO DEIXOU O XALE TODO SUJO.
- () CAXUXA COLOCOU O XALE NUMA CAIXA.
- () PIXOXO MEXEU NA CAIXA.
- () PIXOXO PUXOU O XALE.

3- QUAL A COR DO XALE DA CAXUXA?

4- AONDE CAXUXA COLOCOU O XALE?

5- COMO FICOU O XALE DA CAXUXA?

WWW.PINTEREST.COM

ATIVIDADE PARA 26.10.2021

E.M. SANTINO FRANCISCO VIEIRA IBIÚNA, DE OUTUBRO DE 2021



VOVÓ MARIA FEZ 29 BOLINHOS. SEU NETO GABRIEL COMEU 7. QUANTOS BOLINHOS RESTARAM?

aprenderebrincar.com

RESPOSTA: _____



A DIRETORA GOSTA DE COMER DUAS FRUTAS A TARDE E DUAS FRUTAS A NOITE. QUANTAS FRUTAS A DIRETORA COME POR DIA?

aprenderebrincar.com

RESPOSTA: _____



UMA GALINHA BOTOU 12 OVOS, MAS 10 QUEBRARAM. COM QUANTOS OVOS ELA FICOU?

aprenderebrincar.com

RESPOSTA: _____



FELIPE TINHA 13 BEXIGAS, GANHOU MAIS 5. COM QUANTAS BEXIGAS ELE FICOU?

aprenderebrincar.com

RESPOSTA: _____

26/10/2021

E.M. SANTINO FRANCISCO VIEIRA 
IBIUNA, DE OUTUBRO DE 2021

atividades-portugues-1-ano.blogspot.com

A BAILARINA

TOQUINHO

UM, DOIS, TRÊS E QUATRO,
DOBRO A PERNA E DOU UM SALTO,
VIRO E ME VIRO AO REVÉS
E SE EU CAIO CONTO ATÉ DEZ.

DEPOIS, ESSA LENGUA-LENGA
TODA RECOMEÇA.
PUXA VIDA, ORA ESSA!
VIVO NA PONTA DOS PÉS.



1. QUAL O TÍTULO DA CANÇÃO?

2. QUAL O NOME DE SEU COMPOSITOR?

3. VOCÊ CONHECE ALGUMA OUTRA MÚSICA QUE FALE SOBRE BAILARINA?

4. OBSERVE OS NOMES DOS NÚMEROS QUE APARECEM NO TRECHO DA MÚSICA E ESCREVA-OS NA ORDEM DECRESCENTE.

25/10/2021

**E.M. SANTINO FRANCISCO VIEIRA
IBIÚNA, DE OUTUBRO DE 2021
SITUAÇÕES PROBLEMA**

1 – MAGALI DESENHOU PARA A PROFESSORA 5 ABACAXIS E 4 MAÇÃS. QUANTAS FRUTAS ELA DESENHOU?



2- ROSINHA ENCONTROU COM 2 BORBOLETAS CHEGARAM MAIS 5. QUANTOS BORBOLETAS ELA ENCONTROU NO TOTAL?



3 – NO SÍTIO DE CHICO BENTO TEM 7 GALINHAS E 4 VACAS E 1 PORCO. QUANTOS ANIMAIS ELE TEM AO TODO?



4 - CEBOLINHA PELA MANHÃ NO SEU JARDIM 6 FLORES E MAIS TARDE PALNTOU 4. QUANTAS FLORES TEM NO JARDIM DELE?



E.M. SANTINO FRANCISCO VIEIRA IBIÚNA, DE OUTUBRO DE 2021



aprenderebrincar.com

BRUNA TEM 19 EXERCÍCIOS PARA RESOLVER.
ELA JÁ RESOLVEU 7. QUANTOS AINDA
FALTAM?

RESPOSTA: _____



aprenderebrincar.com

EM UM JARDIM, HÁ 10 FLORES VERMELHAS E
25 FLORES AMARELAS. QUANTAS FLORES HÁ
NO TOTAL NO JARDIM?

RESPOSTA: _____



aprenderebrincar.com

O SORVETEIRO TINHA 34 SORVETES NO
CARRINHO. CONSEGUIU VENDER 13.
QUANTOS SORVETES FALTAM ELE VENDER?

RESPOSTA: _____



aprenderebrincar.com

NO JOGO DE BASQUETE, ALICE FEZ 8
PONTOS E BIA FEZ 2. QUANTOS PONTOS BIA
PRECISA FAZER PARA ALCANÇAR ALICE?

RESPOSTA: _____

27/10/2021

**E.M. SANTINO FRANCISCO VIEIRA
IBIÚNA, DE OUTUBRO DE 2021**



AMANDA GANHOU UM QUEBRA-CABEÇA DE 50 PEÇAS. JÁ ENCAIXOU 30. QUANTAS PEÇAS FALTAM PARA ELA MONTAR TODO O QUEBRA-CABEÇA?

aprenderebrincar.com

RESPOSTA: _____



BIA TINHA 5 BOMBONS. GANHOU MAIS ALGUNS BOMBONS DE JÚLIA. AGORA BIA TEM 8 BOMBONS. QUANTOS BOMBONS ELA GANHOU?

aprenderebrincar.com


RESPOSTA: _____



ARTHUR TINHA 18 VIDAS NO JOGUINHO. PERDEU 5. COM QUANTAS VIDAS ELE FICOU?

aprenderebrincar.com

RESPOSTA: _____



CAIO TINHA 3 PACOTES DE FIGURINHAS. GANHOU 4 PACOTES DE SUA MÃE. QUANTOS PACOTES ELE TEM AGORA?

aprenderebrincar.com

RESPOSTA: _____


E.M. SANTINO FRANCISCO VIEIRA IBIÚNA, DE OUTUBRO DE 2021

ORDEM CRESCENTE E DECRESCENTE

- 1) COMPLETE OS VAGÕES DO TREZINHO COM A ORDEM CRESCENTE DOS NÚMEROS, ISTO É, DO MENOR PARA O MAIOR.



- 2) AGORA, CONTINUE COM A ORDEM DECRESCENTE, ISTO É, DO MAIOR PARA O MENOR COMEÇANDO PELO NÚMERO 10 ATÉ CHEGAR NO 1.



- 3) COMPLETE AS SEQUENCIAS PARA QUE FIQUEM EM ORDEM CRESCENTE OU DECRESCENTE.

A)

1	2				6				10
---	---	--	--	--	---	--	--	--	----

B)

20	19				15				11
----	----	--	--	--	----	--	--	--	----

C)





30		32		34		36		38	
----	--	----	--	----	--	----	--	----	--

D)

50	49				45		43		41
----	----	--	--	--	----	--	----	--	----

E.M. SANTINO FRANCISCO VIEIRA
IBIÚNA, DE OUTUBRO DE 2021

Resolva os problemas.

	CÁLCULOS
<p>O ônibus da escola de Mariana tem capacidade para 30 alunos. Hoje apenas 22 alunos foram. Quantos alunos faltaram?</p> 	
<p>Na casa de Mateus têm 10 laranjeiras, 1 mangueira, 2 limoeiros, 12 aceroleiras e 2 bananeiras. Quantas árvores tem na casa de Mateus, no total?</p> 	
<p>Junior tem uma coleção de carrinhos de brinquedos com 128 carrinhos. Ele quer dividi-los igualmente em quatro prateleiras. Quantos carrinhos cada prateleira terá?</p> 	
<p>Se a previsão é de que o dia amanheça em 20°C e passe para 33°C ao longo do dia. Quantos graus irá subir?</p> 	

E.M. SANTINO FRANCISCO VIEIRA
IBIÚNA, DE OUTUBRO DE 2021

APRENDER SEQUÊNCIAS NUMÉRICAS

1- Complete a sequência numérica de 1 a 10 por ordem crescente.

1	2	3	4	5	6	7	8	9	10
	2			5			8		
1			4					9	
		3			6				

2- Qual o número que vem depois?

2	→		4	→		6	→	
9	→		1	→		7	→	

2- Qual o número que vem antes?

	←	10		←	2		←	5
	←	8		←	6		←	3

CONTINHAS DE ADIÇÃO

D	U
2	3
+2	2



D	U
5	6
+1	3

D	U
9	7
+0	2

D	U
7	4
+2	4

D	U
4	8
+3	1

D	U
3	9
+1	0

Dani Educar

D	U
1	5
+1	4

D	U
2	5
+2	0

D	U
5	0
+3	0

D	U
8	6
+0	3

CONTINHAS DE ADIÇÃO

D	U	D	U	D	U	D	U
3	7	2	2	4	5	7	9
+ 1	3	+ 3	4	+ 5	2	+ 1	0

D	U
6	5
+ 2	1



D	U
8	6
+ 1	3

D	U	D	U	D	U	D	U
7	0	6	4	2	9	5	6
+ 2	0	+ 1	4	+ 2	0	+ 3	1

D	U	D	U	D	U	D	U
4	2	7	2	3	8	6	0
+ 4	0	+ 1	0	+ 1	1	+ 1	4


kaneduca

E.M. SANTINO FRANCISCO VIEIRA
IBIÚNA, DE OUTUBRO DE 2021

CONTE E CALCULE

Conte as figuras e calcule as quantidades.


Quantas borboletas há no total?



$$\square + \square = \square$$

Há _____ borboletas.


Quantas frutas há no total?



$$\square + \square = \square$$

Há _____ frutas.

Quantas bolas há no total?




© SMARTKIDS

$$\square + \square = \square$$

Há _____ bolas.

Quantos peixinhos há no total?



$$\square + \square = \square$$


Há _____ peixinhos.

E.M. SANTINO FRANCISCO VIEIRA
IBIÚNA, DE OUTUBRO DE 2021


1) MARA SERVIU  NO ALMOÇO DO SEU COELHINHO. ELE COMEU 2 CENOURAS.


SOBROU ALGUMA CENOURA? SIM NÃO


QUANTAS? _____

DESENHO	OPERAÇÃO	RESPOSTA
	----- - ----- = -----	SOBROU ____ CENOURA.

2) NO ZOOLOGICO HAVIA , MAS 2 DELES FORAM PARA O CIRCO. QUANTOS ELEFANTES RESTARAM NO ZOOLOGICO?





DESENHO	OPERAÇÃO	RESPOSTA
	----- - ----- = -----	AINDA RESTARAM ____ ELEFANTES.

3) EM UM AQUÁRIO HAVIA , PEDRO DEU 2 PEIXINHOS À SUA PRIMA. COM QUANTOS PEIXINHOS PEDRO FICOU?

DESENHO	OPERAÇÃO	RESPOSTA
	----- - ----- = -----	PEDRO FICOU COM ____ PEIXES.

E.M. SANTINO FRANCISCO VIEIRA
IBIÚNA, DE OUTUBRO DE 2021

Resolva os problemas.

	CÁLCULOS
<p>O ônibus da escola de Mariana tem capacidade para 30 alunos. Hoje apenas 22 alunos foram. Quantos alunos faltaram?</p> 	
<p>Na casa de Mateus têm 10 laranjeiras, 1 mangueira, 2 limoeiros, 12 aceroleiras e 2 bananeiras. Quantas árvores tem na casa de Mateus, no total?</p> 	
<p>Junior tem uma coleção de carrinhos de brinquedos com 128 carrinhos. Ele quer dividi-los igualmente em quatro prateleiras. Quantos carrinhos cada prateleira terá?</p> 	
<p>Se a previsão é de que o dia amanheça em 20°C e passe para 33°C ao longo do dia. Quantos graus irá subir?</p> 	

ATIVIDADE PARA 05.11.2021

DESENHO LIVRE

USE SUA CRIATIVIDADE E SOLTE SUA IMAGINAÇÃO!