


E. M . PROF^a MÁRCIA BELMIRO DO LAGO

ATIVIDADES REFERENTES AOS DIAS: 18,19,20,21,22,25,26,27,28 ,29 /10 E 03,04,05/11.
DEVOLUÇÃO: 08/11



13ª APOSTILA

CONSULTE O MATERIAL DE APOIO SE PRECISAR.

1 DITADO DE LETRAS. ALGUÉM VAI DITAR 10 LETRAS DO ALFABETO E VOCÊ IRÁ COLOCAR UMA LETRA DENTRO DE CADA CÍRCULO. O RESPONSÁVEL ANOTARÁ A QUANTIDADE DE ACERTOS QUE VOCÊ TEVE.



ACERTOS

2 AGORA É A SUA VEZ DE FAZER O ALFABETO. VAMOS LÁ!



ATIVIDADE 9.3

1 EM CADA UMA DAS SEQUÊNCIAS, FALTA ESCREVER ALGUNS NÚMEROS. COMPLETE-AS E FAÇA A LEITURA DOS NÚMEROS DE CADA UMA DELAS.

A.	11	12	13	14						20
B.	25	26	27					32		
C.	37	38					43		45	
D.	41	42	43				47			50
E.	50	51		53				57		

OBSERVE A TIRINHA DA BRUXINHA ZUZU:



15

A EXPRESSÃO DO GATO DA BRUXINHA NO ÚLTIMO QUADRINHO É:

() ALEGRIA () PREOCUPAÇÃO () MEDO

ESCREVA OS NOMES DAS FIGURAS.



AULA 8 – FIGURAS GEOMÉTRICAS E OBJETOS DO DIA A DIA

O QUE VAMOS APRENDER?

NESTA AULA, VAMOS RELACIONAR OBJETOS DO DIA A DIA COM FIGURAS GEOMÉTRICAS.

CECÍLIA VIU UMA BOLA DE FUTEBOL EM UMA FIGURINHA E DISSE PARA CLÓVIS QUE ELA TEM O FORMATO DE ESFERA.



1. RELACIONE CADA OBJETO COM A FIGURA GEOMÉTRICA CORRESPONDENTE:



BORBOLETINHA



**BORBOLETINHA,
ESTÁ NA COZINHA
FAZENDO CHOCOLATE
PARA MADRINHA.**


**POTI POTI, PERNA DE PAU,
OLHO DE VIDRO E
NARIZ DE PICA-PAU**

O QUE A BORBOLETINHA ESTÁ FAZENDO NA COZINHA?


VAMOS SOMAR?




EXEMPLO:




$$\underline{6} + \underline{0} = \square$$



$$\underline{\quad} + \underline{\quad} = \square$$



$$\underline{\quad} + \underline{\quad} = \square$$



$$\underline{\quad} + \underline{\quad} = \square$$

BORBOLETINHA

PINTE A PALAVRA QUE REPRESENTA A IMAGEM.



COPO

COZINHA

PANELA



POTI

PAU

MADRINHA



VACA

BORBOLETINHA

JOANINHA



CHOCOLATE

MORANGO

COCO

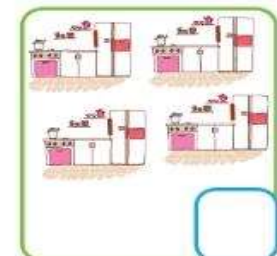
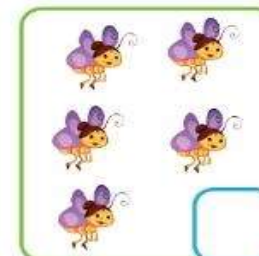
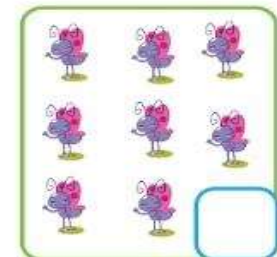
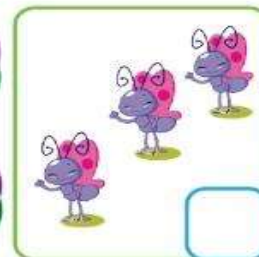
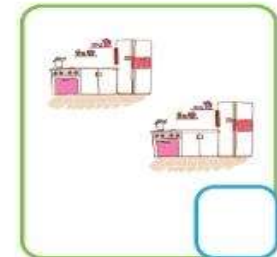
NOME:

DIA:

MÊS:

ANO:

QUANTOS TEM?



NOME:

DIA: MÊS: ANO:

BORBOLETINHA

CRUZADINHA



CAÇA-PALAVRAS

B	O	R	B	O	L	E	T	I	N	H	A
C	O	Z	I	N	H	A	Ç	S	T	U	Q
V	I	L	X	M	A	D	R	I	N	H	A
B	C	H	O	C	O	L	A	T	E	Y	L

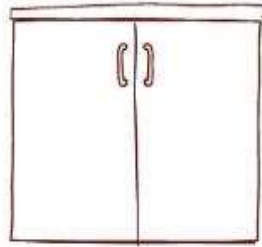
CONTE E PINTE O QUADRINHO COM A QUANTIDADE CERTA DE BORBOLETAS.

4	9	1	2	7	10
					
11	3	8	2	4	8
					
12	3	5	4	6	1
					

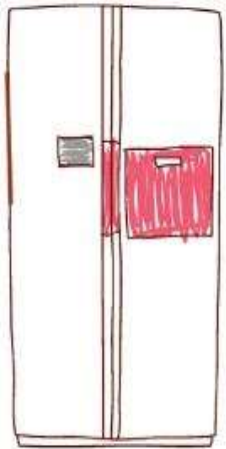
- COMPLETE O NOME DESTES ELEMENTOS QUE COMPÕEM A COZINHA:



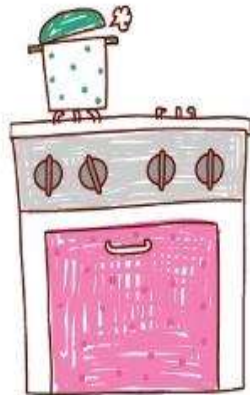
M _ _ S _ _



_ _ R _ _ A _ _ IO

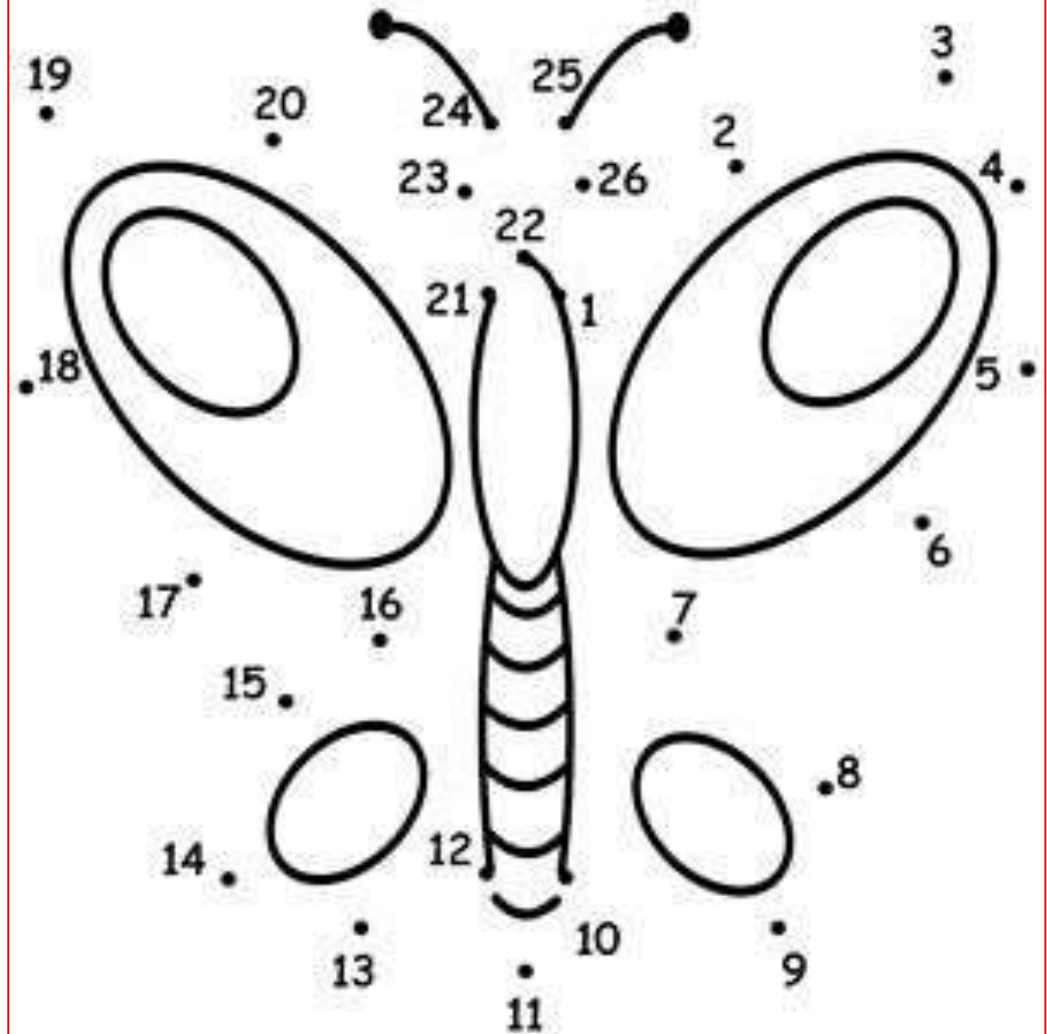


_ _ ELA _ _ EI _ _ A



_ _ OG _ _

LIGUE OS PONTOS DA SEQUÊNCIA NUMÉRICA DO 1 AO 26 E
DESCUBRA O QUE VOCÊ FORMOU?-----





ESCREVA AS ETAPAS DO CICLO DE VIDA DAS BORBOLETAS:

- 1-
- 2-
- 3-
- 4-

LIGUE AO NÚMERO CORRESPONDENTE. EXEMPLO:

LIGUE

1

2

3

4

5

7

6

10

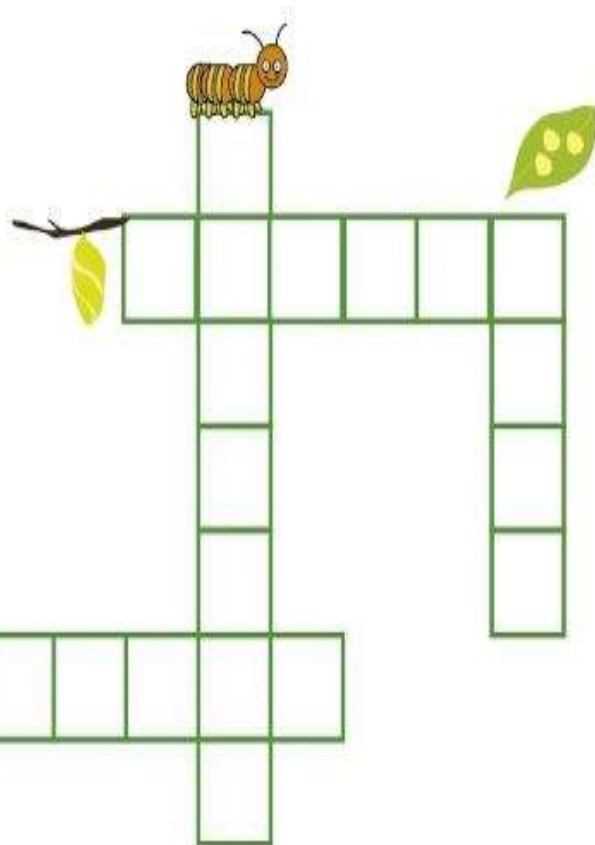
8

9

NOTEBOOK.DAPROFLOGSPOT.COM

CRUZADINHA

LAGARTA
CASULO
OVOS
BORBOLETA



NOTEBOOKDAPROF.BLOG.SPOT.COM

CAÇA-PALAVRAS

L	A	G	A	R	T	A	J	Y
T	Y	X	O	V	O	S	Ç	Z
F	D	Q	W	R	C	Z	S	Y
C	A	S	U	L	O	X	S	Y
B	O	R	B	O	L	E	T	A

LAGARTA

CASULO


BORBOLETA

OVOS

NOTEBOOKDAPROF.BLOG.SPOT.COM

5 NÚMERO DOS MESES DO ANO

A) QUANTOS MESES HÁ EM 1 ANO? CONTINUE A NUMERÁ-LOS DE ACORDO COM A ORDEM DOS MESES E DESCUBRA.



B) AGORA, COMPLETE: 1 ANO TEM _____ MESES.

Fonte Livro Ápis de Matemática 1º ano

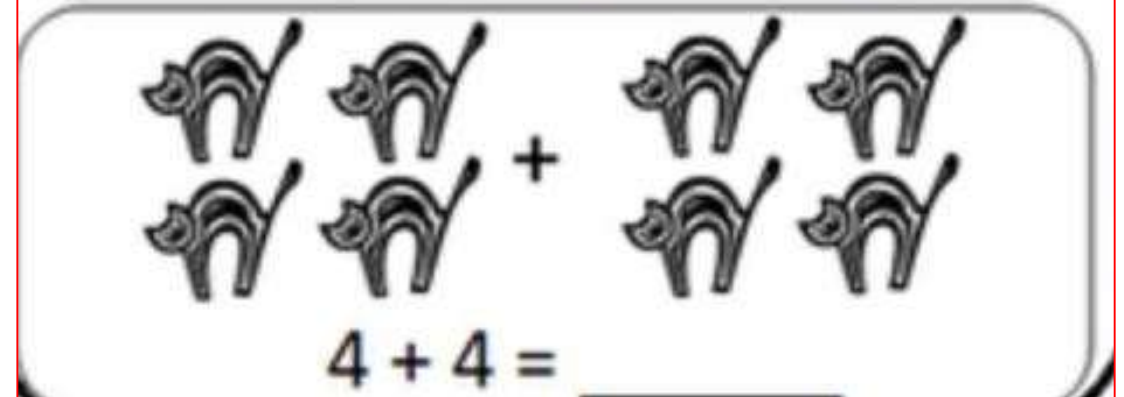
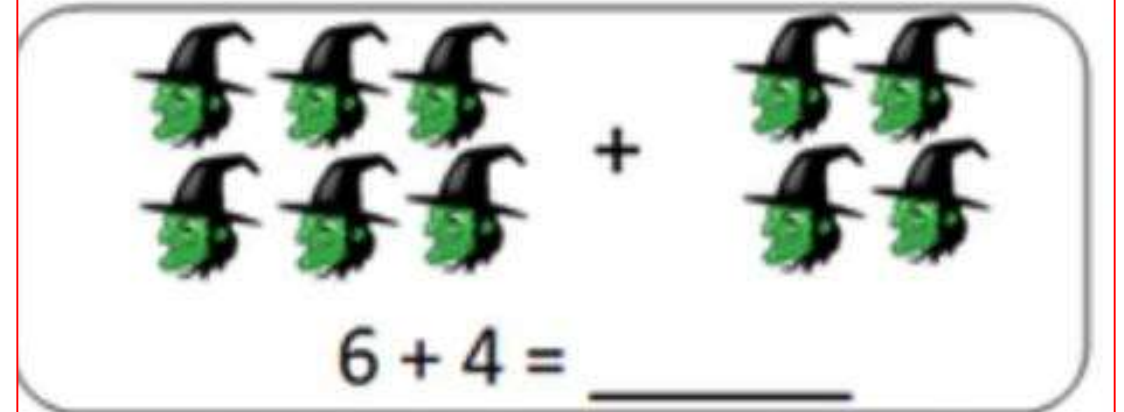
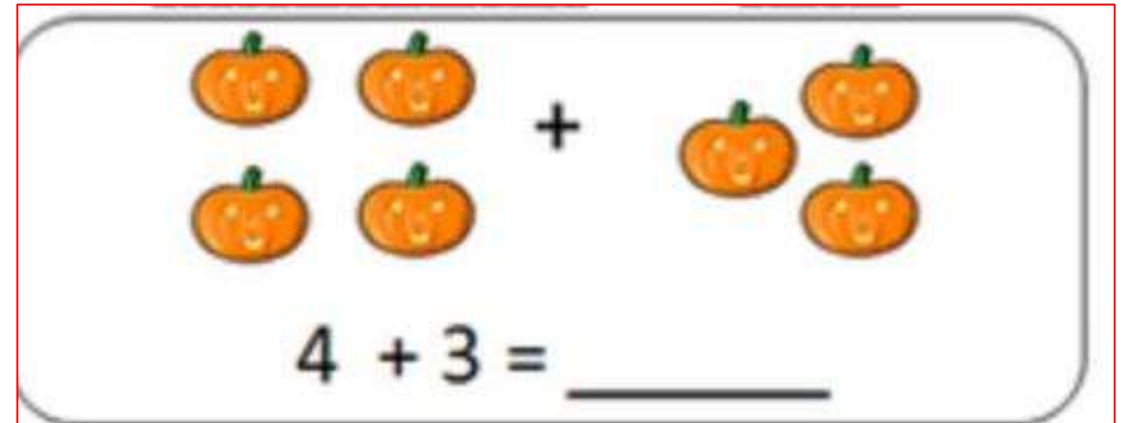
1- JUNTE AS SÍLABAS, FORME PALAVRAS, COPIE E LEIA. DIGA QUANTOS SONS TEM CADA UMA.

BO — LA _____ ○
 — NÉ _____ ○
 — NE CA _____ ○

PE — LE _____ ○
 — TE CA _____ ○
 — NA _____ ○

LU — A _____ ○
 — VA _____ ○
 — NE TA _____ ○

VAMOS SOMAR:



CIRCULE A PALAVRA **BRUXA** NA PARLENDIA.

O QUE A BRUXA ESTAVA FAZENDO COM A FACA NA MÃO?


VAMOS BRINCAR DE DETETIVE?



1		3	4	5
6	7	8		10
11	12		14	15
	17	18	19	20
21	22	23	24	
26	27		29	30



DESCUBRA OS NÚMEROS QUE ESTÃO
ESCONDIDOS ATRÁS DOS BRINQUEDOS E
REGISTRE ABAIXO:



VOCÊ JÁ SABE QUE EXISTEM OBJETOS QUE AJUDAM A MARCAR O TEMPO: O RELÓGIO (MARCA AS HORAS E MINUTOS) E O CALENDÁRIO (QUE MARCA O DIA, O MÊS E ANO). O DIA E A NOITE, O ONTEM O HOJE E O AMANHÃ SÃO MARCADORES TEMPORAIS.





Fonte: smartkids.com.br

AGORA É SUA VEZ!

FAÇA DOIS DESENHOS: UM REPRESENTANDO ALGO QUE VOCÊ FAZ DURANTE O DIA E OUTRO REPRESENTANDO O QUE VOCÊ FAZ A NOITE.

A) DIA

B) NOITE



• DE ACORDO COM OS DESENHOS, COMPLETE AS HISTÓRIAS MATEMÁTICAS:

MANUELA TINHA: 1 	ELA GANHOU MAIS: 1 	ELA FICOU COM BONECAS. 2 EXEMPLO: 1 $+ 1 =$ <u> </u> 2
--	--	---

LUCAS TINHA: 	ELE GANHOU MAIS: 	ELE FICOU COM BOLAS.
---	---	-------------------------------

ANA TINHA: 	ELA GANHOU MAIS: 	ELA FICOU COM URSINHOS.
---	--	----------------------------------

DUDU TINHA: 	ELE GANHOU MAIS: 	ELE FICOU COM CARRINHOS.
---	---	-----------------------------------

PROFISSÕES

EXISTEM VÁRIAS PROFISSÕES, COMO: MÉDICO, PROFESSOR, ADVOGADO, ENGENHEIRO, PINTOR, DENTISTA, BALCONISTA, PADEIRO, RECEPCIONISTA, BANCÁRIO ENTRE OUTRAS.

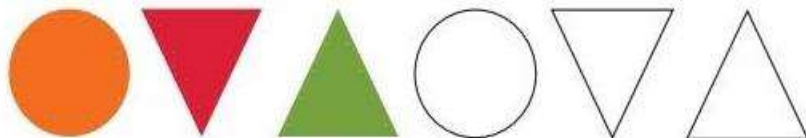

 <small>fonte: pinterest.com</small>	 <small>fonte: pinterest.com</small>	 <small>fonte: pinterest.com</small>
PADEIRO	PEDREIRO	ENGENHEIRO

RESPOSTA:

ESCREVA O NOME DE UMA PROFISSÃO QUE VOCÊ GOSTA.



OBSERVE AS IMAGENS E COMPLETE AS SEQUÊNCIAS.



VAMOS ESCREVER?

COMPLETE AS PALAVRAS COM AS LETRAS QUE FALTAM.

PORCO



		R		
--	--	---	--	--

MACACO



		C			
--	--	---	--	--	--

ELEFANTE



					N		
--	--	--	--	--	---	--	--

CACHORRO



					R		
--	--	--	--	--	---	--	--

ARARA








		R			
--	--	---	--	--	--

MATERIAL DE APOIO

A grid of 26 dashed boxes, each containing a letter of the alphabet and a corresponding illustration. The letters are arranged in rows: A-E, F-J, K-O, P-T, U-Y, and Z. The illustrations include a pineapple, cake, house, soccer ball, star, girl, water, fan, palm trees, window, kiwi, can, apple, boat, egg, popcorn, cheese, boombox, sofa, phone, grapes, candle, waffle, coffee, juice, and a pencil. At the bottom, there is an illustration of four children and the name 'Israels Kotona'.

NÚMEROS

0	1	2	3	4	5	6	7	8	9
10	11	12	13	14	15	16	17	18	19
20	21	22	23	24	25	26	27	28	29
30	31	32	33	34	35	36	37	38	39
40	41	42	43	44	45	46	47	48	49
50	51	52	53	54	55	56	57	58	59
60	61	62	63	64	65	66	67	68	69
70	71	72	73	74	75	76	77	78	79
80	81	82	83	84	85	86	87	88	89
90	91	92	93	94	95	96	97	98	99
100									

<http://atividadesdaprofessorabell.blogspot.com.br/>

REFERÊNCIAS

ATIVIDADES DOMICILIARES SÃO ROQUE

PINTEREST

<https://aprendendocomtiadebora.blogspot.com/2017/06/sequencia-didatica-borboletinha.html?m=1>

https://www.aartedeensinareaprender.com/2015/05/atividade-pronta-soma_18.html?m=1

<http://notebookdaprof.blogspot.com/2014/03/ciclo-de-vida-da-borboleta.html?m=1>

<http://notebookdaprof.blogspot.com/2014/03/ciclo-de-vida-da-borboleta.html?m=1>

<http://blogdaprofessoraedivania.blogspot.com/2015/07/bruxa-castanha-sequencia-de-atividades.html?m=1>

<https://www.teacherspayteachers.com/Product/Halloween-Fun-Addition-343651>

LIVRO DIDÁTICO EMAI
LIVRO ÁPIS DE MATEMÁTICA
LIVRO APRENDER SEMPRE

PROF^a SILVANA MORAES