



Prefeitura da Estância Turística de
IBIÚNA
TRANSFORMAÇÃO RESPONSÁVEL. CUIDANDO DE PESSOAS.

Av. São Sebastião, 192. 4º Piso. Centro. Fones: (15) 3248 1292. 3248 1574. Email: apolopedagogicosmeibiuna@hotmail.com



EM TEREZA FALCI
EM BAIRRO RECANTO PRIMAVERA
4º BIMESTRE
BLOCO 14 08/10 A 12/11



NOME: _____

PROFESSORA MIÚCHA

2º ANO

2021

ORIENTAÇÕES IMPORTANTES:

- ✓ **RESERVAR UM LUGAR LIMPO E TRANQUILO PARA REALIZAÇÃO DAS ATIVIDADES**

- ✓ **NÃO DEIXE AS ATIVIDADES ACUMULAREM, RESERVE UM TEMPO DIÁRIO**

- ✓ **AJUDAR NÃO É REALIZAR A ATIVIDADE PELA CRIANÇA! SE NECESSÁRIO SOLICITE AJUDA E LEMBRE-SE ESTOU A DISPOSICÃO PARA TIRAR DÚVIDAS, ME PROCURE NO WHATSAPP**

- ✓ **REALIZE SUAS ATIVIDADES COM CAPRICO!**

- ✓ **FIQUE DE OLHO NO GRUPO DE WHATSAPP, PARTICIPE!!!**

SUA PARTICIPAÇÃO É MUITO IMPORTANTE!!!

LEMBRE-SE ESTAMOS JUNTOS POR UM BEM COMUM, O MELHOR PARA AS CRIANÇAS

INCENTIVE A LEITURA, LEIAM COM AS CRIANÇAS!

APROVEITEM CADA MOMENTO EM CASA, PARA QUE ELES PERCEBAM A IMPORTÂNCIA DE ESTUDAR E TENHAM PRAZER EM REALIZAR SUAS ATIVIDADES

AOS PAIS:

OBRIGADA POR SUA DEDICAÇÃO E EMPENHO, SEM ISSO MEU TRABALHO SERIA IMPOSSÍVEL!!!!

PROFª MIÚCHA

ROTEIRO DE REALIZAÇÃO DAS ATIVIDADES NO LIVRO DIDÁTICO:

AVISO IMPORTANTE:

- ✓ **CUIDE DO SEU LIVRO**
- ✓ **MANTENHA-O LIMPO E SEM RASGAR**
- ✓ **A PROFEESORA ENVIOU SEU LIVRO EM UMA SACOLINHA E É NELA QUE SEU LIVRO DEVE RETORNAR PARA CORREÇÃO**
- ✓ **NÃO PERCA SEU LIVRO**

ATIVIDADES DESSE BLOCO:

- **LÍNGUA PORTUGUESA**
 - **PÁGINAS 156 A 158**

LEITURA DE RELATO PESSOAL

REALIZAR AS ATIVIDADES DE INTERPRETAÇÃO 1, 3, 4, 5, 6, 7 E 8

- **PÁGINAS 160 E 161**

ESCRITA DE RELATO PESSOAL

- **PÁGINAS 162 A 165**

PONTUAÇÃO

- **MATEMÁTICA**
 - **LIVRO APRENDER SEMPRE VOLUME 2**
 - **PÁGINAS 73 A 88**
- REALIZAR AULAS 1, 2, 3, 4, 5, 6, 7, 8, 9 E 10**

- **CIÊNCIAS**

- **PÁGINAS 112 A 115**

DIFERENTES OBJETOS, DIFERENTES MATERIAIS


REALIZAR ATIVIDADES 1, 2, 3, 4

OBS: AGUARDE VÍDEO AULA EXPLICATIVA NO NOSSO GRUPO

BONS ESTUDOS!!!!!!

NOME: _____

DATA



- PÁGINAS 156 A 158

LEITURA DE RELATO PESSOAL

REALIZAR AS ATIVIDADES DE INTERPRETAÇÃO 1, 3, 4, 5, 6, 7 E 8

NOME: _____ DATA _____

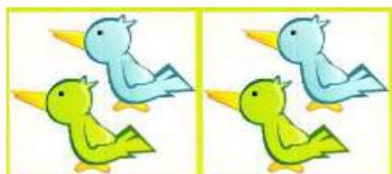
NOME : _____ DATA: ____ / ____ / ____

MULTIPLICAÇÃO



1-Responda fazendo multiplicação.

a)Quantos passarinhos há ao todo?



_____ ✖ _____ = _____

b)Quantas borboletas há ao todo?




_____ ✖ _____ = _____

c)Quantos sorvete há ao todo?



_____ ✖ _____ = _____

d)Quantas abelhas há ao todo?



_____ ✖ _____ = _____

e)Quantos sóis há ao todo?



_____ ✖ _____ = _____

NOME: _____ DATA _____



Escola: _____

Nome: _____


Data: ____/____/____

TANTA TINTA

Ah! menina tonta,
toda suja de tinta
mal o sol desponta!

(Sentou-se na ponte,
muito desatenta...
E agora se espanta:
Quem é que a ponte pinta
com tanta tinta?...)

A ponte aponta
e se desaponta,
A tontinha tenta
limpar a tinta,
ponto por ponto
e pinta por pinta...



Ah! a menina tonta!
Não viu a tinta da ponte!
Cecília Meireles

PINTE NA POESIA O NOME DAS FIGURAS:



NOME: _____ DATA _____




- **PÁGINAS 73 A 88**

REALIZAR AULAS 1, 2, 3, 4, 5, 6, 7, 8, 9 E 10

AGUARDE VÍDEO AULA EXPLICATIVA NO GRUPO

NOME: _____ DATA _____



- **PÁGINAS 160 E 161**

ESCRITA DE RELATO PESSOAL

AGUARDE VÍDEO AULA EXPLICATIVA NO GRUPO

NOME: _____ DATA _____



aprenderebrincar.com

NUMA CAIXA HÁ 7 CHOCOLATES AMARGOS E 8 CHOCOLATES BRANCOS. QUANTOS CHOCOLATES HÁ NESSA CAIXA?

RESPOSTA: HÁ ____ CHOCOLATES NESSA CAIXA.



aprenderebrincar.com

PEDRO COMPROU 15 GIBIS PARA LER. ATÉ O MOMENTO LEU 4. QUANTOS GIBIS AINDA FALTAM ELE LER?

RESPOSTA: FALTAM ____ GIBIS PARA ELE LER.



aprenderebrincar.com

NO JARDIM HAVIA 5 BORBOLETAS GRANDES E CHEGARAM MAIS 4 BORBOLETAS PEQUENAS. QUANTAS BORBOLETAS TINHAM AO TODO?

RESPOSTA: TINHAM ____ BORBOLETAS NO TOTAL.




aprenderebrincar.com

O CARTEIRO TINHA 9 CARTAS PARA ENTREGAR. ENTREGOU APENAS 7. QUANTAS CARTAS FALTAM ELE ENTREGAR?

RESPOSTA: FALTAM ____ CARTAS PARA ENTREGAR.

NOME: _____ DATA _____



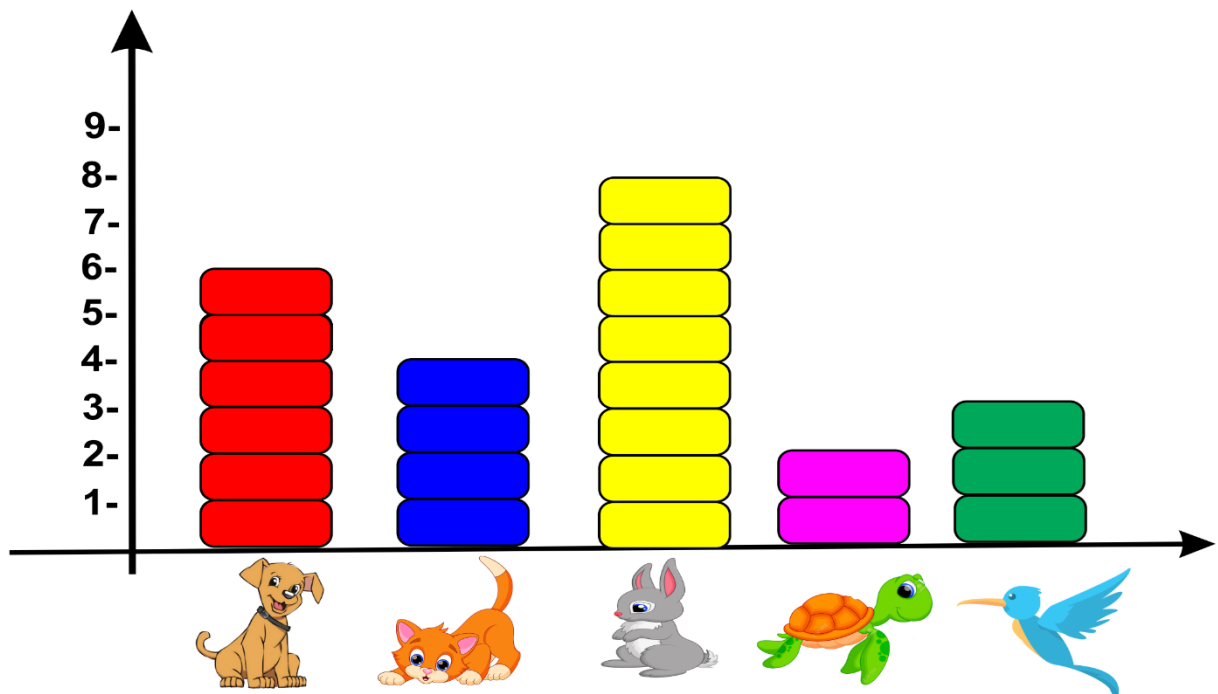
- PÁGINAS 162 A 165

PONTUAÇÃO
PARÁGRAFO

AGUARDE VÍDEO AULA EXPLICATIVA NO GRUPO.

NOME: _____ DATA _____

1 OBSERVE O GRÁFICO QUE MOSTRA OS ANIMAIS PREFERIDOS PELOS ALUNOS DO SEGUNDO ANO.



2. DE ACORDO COM O GRÁFICO, COMPLETE A TABELA ABAIXO, ESCRREVENDO O NOME DOS ANIMAIS E SUA RESPECTIVA QUANTIDADE.

NOME	QUANTIDADE

3 - RESPONDA:


QUAL ANIMAL MAIS VOTADO? _____

QUAL ANIMAL MENOS VOTADO? _____

QUANTOS VOTOS TEVE O CACHORRO? _____

QUAL ANIMAL MENOS VOTADO? _____

NOME: _____ DATA _____



- **PÁGINAS 112 A 115**

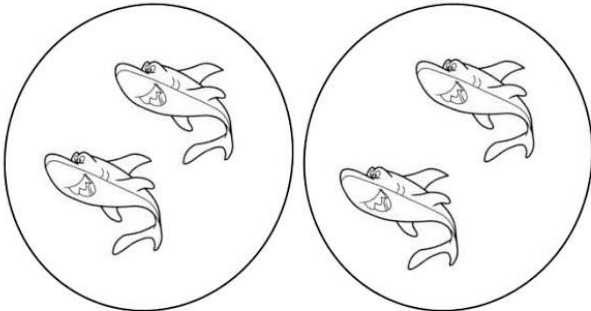
DIFERENTES OBJETOS, DIFERENTES MATERIAIS

REALIZAR ATIVIDADES 1, 2, 3, 4


NOME: _____

DATA _____

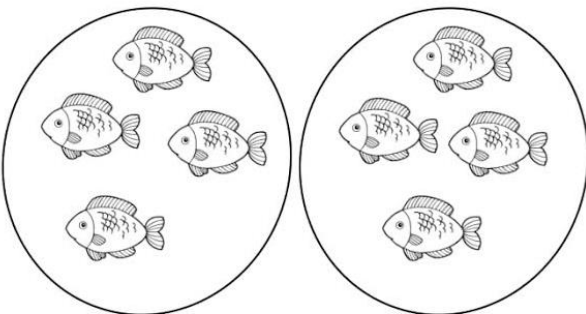
① Observe as figuras e complete as operações:



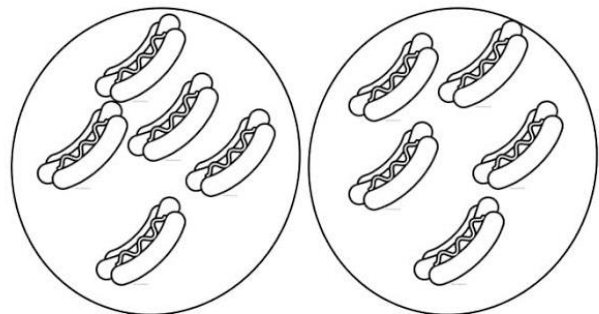
a) $2 + 2 =$ _____ ou $2 \times 2 =$ _____




b) $3 + 3 =$ _____ ou $2 \times 3 =$ _____



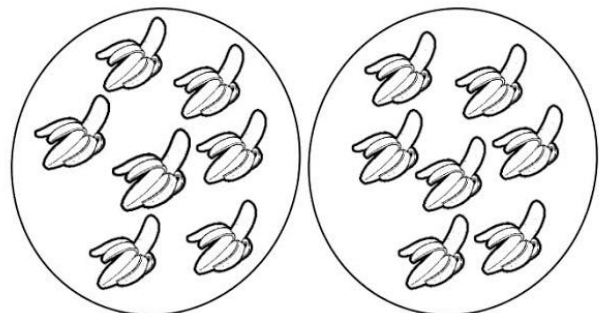
c) $2 \times 4 =$ _____



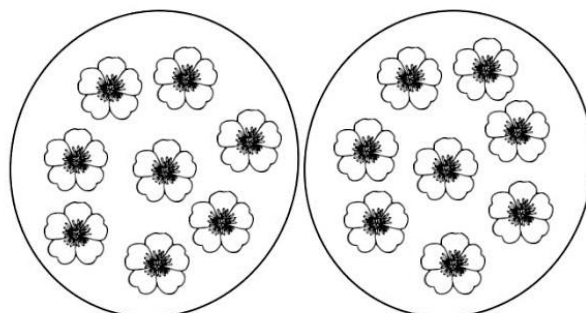
d) $2 \times 5 =$ _____



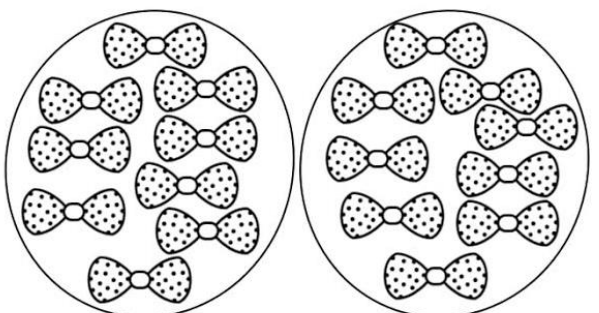
e) $2 \times 6 =$ _____



f) $2 \times 7 =$ _____



g) $2 \times 8 =$ _____



h) $2 \times 9 =$ _____

BIBLIOGRAFIA:

- www.pinterest.com.br
- LIVRO ÁPIS PARA 2º ANO
- LIVRO APRENDER SEMPRE 2º ANO
- BLOGS PEDAGÓGICOS