



# 14ª. APOSTILA DE ESTUDOS ATIVIDADES NÃO PRESENCIAIS

## 4º BIMESTRE



## ENSINO FUNDAMENTAL

**ALUNO(A):** \_\_\_\_\_

**TURMA: 1º ANO C**

**PROFª: CAMILA**

**DATA DE DEVOLUÇÃO: 01/12/2021**



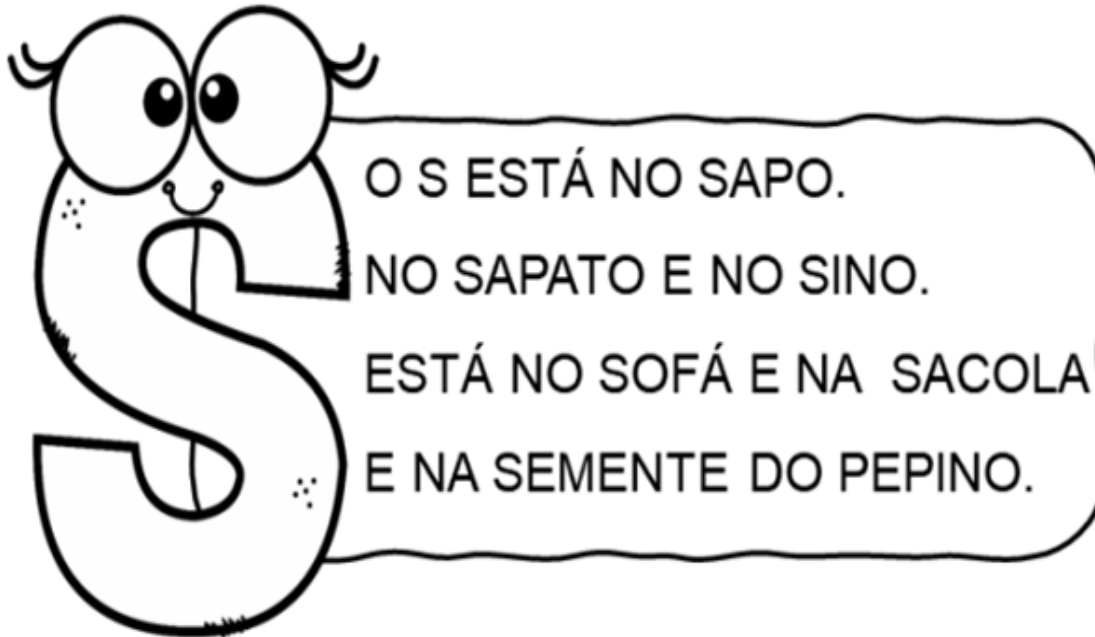
E. M. "PROF. CALIL RAHAL NETO"

NOME: \_\_\_\_\_

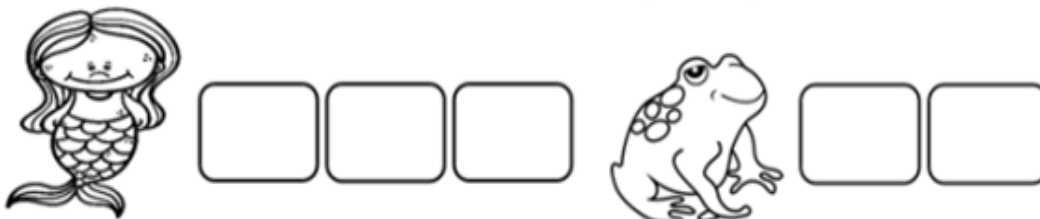
PROFESSORA: CAMILA TURMA: 1º ANO C DATA: 08/11/2021

ATIVIDADE 1  
LÍNGUA PORTUGUESA

LEIA O TEXTO E CIRCULE AS PALAVRAS INICIADAS  
COM A LETRA S.



ESCREVAS OS NOMES DOS DESENHOS.





E. M. "PROF. CALIL RAHAL NETO"


NOME: \_\_\_\_\_

PROFESSORA: CAMILA    TURMA: 1º ANO C    DATA: 08/11/2021

ATIVIDADE 2

MATEMÁTICA

 OBSERVE A CENA E RESPONDA ÀS PERGUNTAS PINTANDO A RESPOSTA CERTA.



• QUANTAS CRIANÇAS ESTÃO NA FILA?    (5)    (6)    (7)

• QUANTOS MENINOS?    (2)    (3)    (4)

• QUANTAS MENINAS?    (2)    (5)    (4)

• QUANTAS CRIANÇAS ESTÃO DE BONÉ?    (3)    (2)    (1)

• QUANTAS CRIANÇAS SEGURAM BRINQUEDO?    (1)    (2)    (3)



E. M. "PROF. CALIL RAHAL NETO"

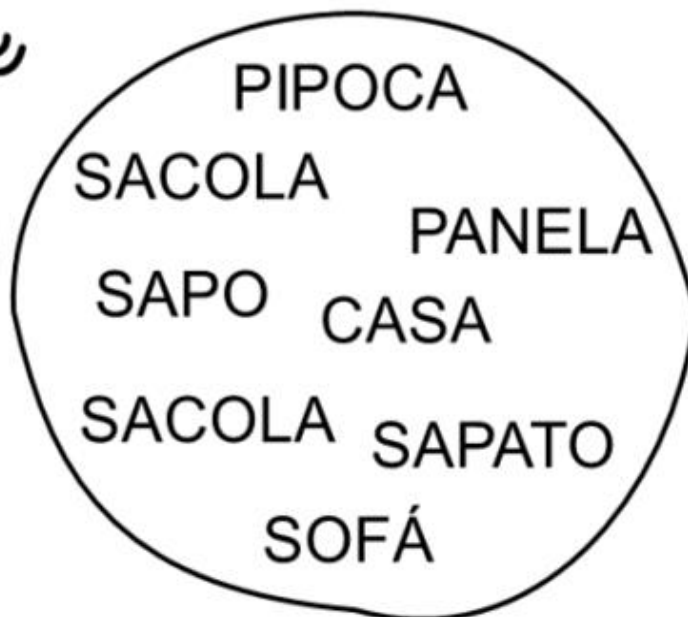
NOME: \_\_\_\_\_

PROFESSORA: CAMILA TURMA: 1º ANO C DATA: 09/11/2021

### ATIVIDADE 1

### LÍNGUA PORTUGUESA

ENCONTRE E CIRCULE AS PALAVRAS INICIADAS COM A LETRA S.



COMPLETE AS PALAVRAS COM A LETRA S.



\_\_\_\_ OFÁ



\_\_\_\_ ACOLA



\_\_\_\_ APATO



\_\_\_\_ INO



\_\_\_\_ APO



\_\_\_\_ EREIA



E. M. "PROF. CALIL RAHAL NETO"

NOME: \_\_\_\_\_

PROFESSORA: CAMILA

TURMA: 1º ANO C

DATA: 09/11/2021

## ATIVIDADE 2

### GEOGRAFIA

1-PINTE O QUADRADINHO DE ACORDO COM SUAS  
INFORMAÇÕES:

- SOU FILHO ÚNICO.
- TENHO UMA LINDA FAMÍLIA.
- TENHO UM ANIMAL DE ESTIMAÇÃO.
- SOU ESTUDIOSO(A).
- ESCOVO OS DENTES TRÊS VEZES AO DIA.
- TENHO AMIGOS.
- SOU UM(A) BOM(A) ALUNO(A).
- MORO COM MINHA FAMÍLIA.
- SOU FELIZ.
- GOSTO DE BRINCAR.
- FAÇO MINHAS TAREFAS DE CASA.
- MORO PERTO DA ESCOLA.





E. M. "PROF. CALIL RAHAL NETO"

NOME: \_\_\_\_\_

PROFESSORA: CAMILA    TURMA: 1º ANO C    DATA: 10/11/2021

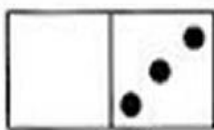
ATIVIDADE 1  
MATEMÁTICA

1) PINTE SOMENTE O QUADRO COM A RESPOSTA CERTA.


FATOS	RESPOSTAS		
$2 + 3 =$	5	4	3
$2 + 2 =$	3	4	5
$4 + 1 =$	4	2	5
$0 + 5 =$	5	4	0
$3 + 1 =$	3	5	4
$1 + 2 =$	2	5	3




2) OBSERVE AS PEÇAS DO DOMINÓ E FAÇA AS ADIÇÕES NA FORMA **HORIZONTAL**. VEJA O MODELO.




$$0 + 3 = 3$$




$$\dots + \dots = \dots$$



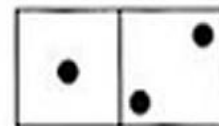
$$\dots + \dots = \dots$$



$$\dots + \dots = \dots$$



$$\dots + \dots = \dots$$



$$\dots + \dots = \dots$$



E. M. "PROF. CALIL RAHAL NETO"

NOME: \_\_\_\_\_

PROFESSORA: CAMILA

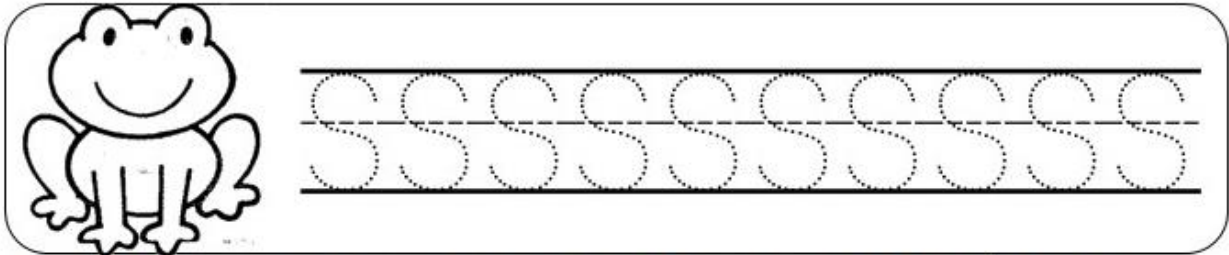
TURMA: 1º ANO C

DATA: 10/11/2021

ATIVIDADE 2

LÍNGUA PORTUGUESA




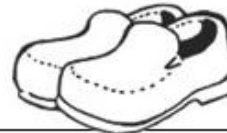
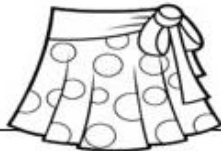
1. SIGA O PONTILHADO



2. VAMOS JUNTAR AS LETRINHAS E FORMAR SÍLABAS?

+	A	E	I	O	U
S					

3. DE ACORDO COM AS FIGURAS ESCREVA O NOME DE CADA UMA.





E. M. "PROF. CALIL RAHAL NETO"

NOME: \_\_\_\_\_

PROFESSORA: CAMILA

TURMA: 1º ANO C

DATA: 11/11/2021

### ATIVIDADE 1

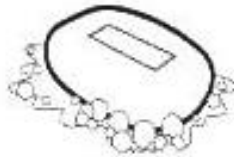
#### LÍNGUA PORTUGUESA

SA	SE	SI	SO	SU

**COMPLETE AS PALAVRAS COM AS SÍLABAS  
SA - SE - SI - SO OU SU**



\_\_\_RROTE



\_\_\_BÃO



\_\_\_NO



\_\_\_PO



\_\_\_PATO



\_\_\_IA



\_\_\_CO



\_\_\_LDADO



\_\_\_RVETE





E. M. "PROF. CALIL RAHAL NETO"

NOME: \_\_\_\_\_


PROFESSORA: CAMILA

TURMA: 1º ANO C


DATA: 11/11/2021

ATIVIDADE 2  
MATEMÁTICA

SOMANDO...



SUBTRAINDO...





E. M. "PROF. CALIL RAHAL NETO"

NOME: \_\_\_\_\_

PROFESSORA: CAMILA

TURMA: 1º ANO C

DATA: 12/11/2021

### ATIVIDADE 1

### HISTÓRIA

## 15 DE NOVEMBRO: PROCLAMAÇÃO DA REPÚBLICA

LEIA A TIRINHA COM A AJUDA DE UM FAMILIAR:



MARQUE UM X NA RESPOSTA CORRETA:

1) EM QUE DIA É COMEMORADO A PROCLAMAÇÃO DA REPÚBLICA:

( ) 07 DE SETEMBRO ( ) 15 DE NOVEMBRO ( ) 22 DE ABRIL

2) QUEM PROCLAMOU A REPÚBLICA DO BRASIL:

( ) D. PEDRO I

( ) MARECHAL DEODORO DA FONSECA

( ) D. JOÃO IV



E. M. "PROF. CALIL RAHAL NETO"

NOME: \_\_\_\_\_

PROFESSORA: CAMILA

TURMA: 1º ANO C

DATA: 12/11/2021

## ATIVIDADE 2

### ARTE



**COLORIR**



ESCREVA O NOME:

**MARECHAL MANUEL DEODORO DA FONSECA**

---



E. M. "PROF. CALIL RAHAL NETO"

NOME: \_\_\_\_\_

PROFESSORA: CAMILA

TURMA: 1º ANO C

DATA: 16/11/2021

### ATIVIDADE 1

#### LÍNGUA PORTUGUESA

1-CIRCULE AS PALAVRAS INICIADAS COM **S**:

TEM NO SAPO E NO SAPATO,  
TEM NA SERRA E NO SERROTE.  
TEM NO SACO E NA SACOLA,  
TEM NA SAIA E NO SAIOTE.

2- UMA A LETRA **S** COM CADA VOGAL E FORME AS SÍLABAS:

S	A	
	E	
	I	
	O	
	U	



E. M. "PROF. CALIL RAHAL NETO"

NOME: \_\_\_\_\_

PROFESSORA: CAMILA      TURMA: 1º ANO C      DATA: 16/11/2021

**ATIVIDADE 2:**  
**CIÊNCIAS: HIGIENE E SAÚDE**

- LEIA O TEXTO E, DEPOIS, RESPONDA:



BETO VAI JANTAR.

SUAS MÃOS ESTÃO SUJAS.

ELE LAVA AS MÃOS NA PIA COM  
ÁGUA E SABÃO.

- A) QUAL É O NOME DO MENINO?

- B) MARQUE COM UM X O QUE O MENINO ESTÁ LAVANDO.

PÉS

MÃOS

- C) ONDE ELE LAVA AS MÃOS?

NA \_\_\_\_\_



E. M. "PROF. CALIL RAHAL NETO"

NOME: \_\_\_\_\_

PROFESSORA: CAMILA

TURMA: 1º ANO C


DATA: 17/11/2021

## ATIVIDADE1

### HISTÓRIA

1- FAÇA A LEITURA DO TEXTO INFORMATIVO E DÊ UM COLORIDO BEM BONITO:

# Dia da Bandeira



O Dia da Bandeira, comemorado anualmente no dia 19 de novembro, é uma homenagem à bandeira brasileira, que foi criada logo após a Proclamação da República, em 15 de novembro de 1889.

Assim, o Dia da Bandeira passou a ser comemorado somente após a Proclamação da República. Como a nova bandeira brasileira foi apresentada no dia 19 de novembro de 1889, essa data foi escolhida como o Dia da Bandeira.



E. M. "PROF. CALIL RAHAL NETO"

NOME: \_\_\_\_\_

PROFESSORA: CAMILA

TURMA: 1º ANO C

DATA: 17/11/2021

## ATIVIDADE 2

### HISTÓRIA

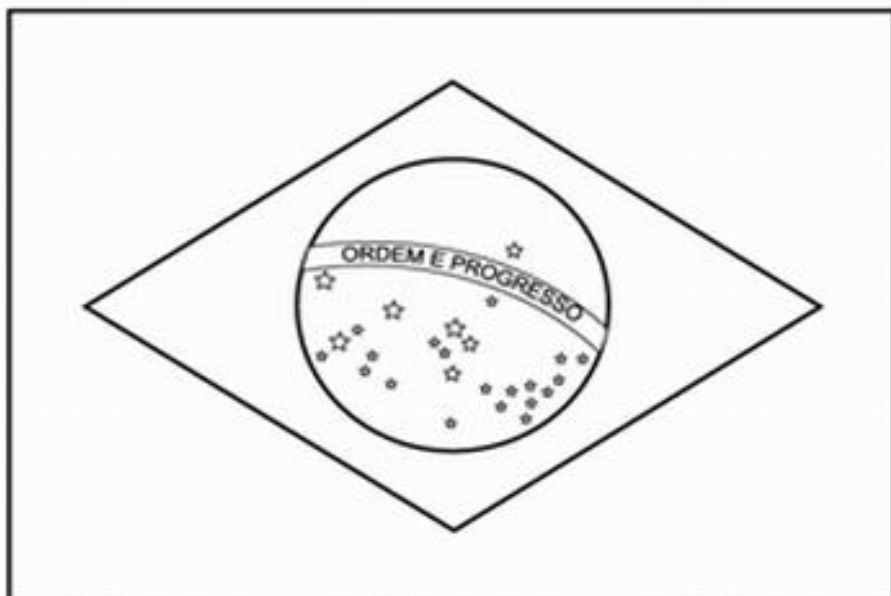
## 19 DE NOVEMBRO- DIA DA BANDEIRA DO BRASIL

DESDE BEM PEQUENO  
DEVEMOS APRENDER  
QUE AMAR A BANDEIRA  
É O NOSSO DEVER!



CELEBRAMOS NO DIA 19 DE NOVEMBRO, O DIA DA BANDEIRA DO BRASIL. A BANDEIRA É UM DOS SÍMBOLOS DA NOSSA PÁTRIA. SUAS CORES SÃO: VERDE, AMARELO, AZUL E BRANCO.

-PINTE A BANDEIRA CONFORME AS CORES:





E. M. "PROF. CALIL RAHAL NETO"

NOME: \_\_\_\_\_

PROFESSORA: CAMILA

TURMA: 1º ANO C

DATA: 18/11/2021


### ATIVIDADE1

### MATEMÁTICA

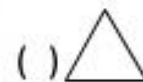
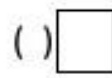
1- MARQUEM X NO ÚNICO OBJETO QUE TEM A FORMA DIFERENTE DOS  
DEMAIS:




2- Veja as figuras que Carlos desenhou:



Marque um x na figura que mostra o quadrado:



3- Quem está segurando a bandeira com a mão esquerda. Marque a resposta correta:



O MENINO.

A MENINA.





E. M. "PROF. CALIL RAHAL NETO"

NOME: \_\_\_\_\_

PROFESSORA: CAMILA


TURMA: 1º ANO C

DATA: 18/11/2021

## ATIVIDADE 2

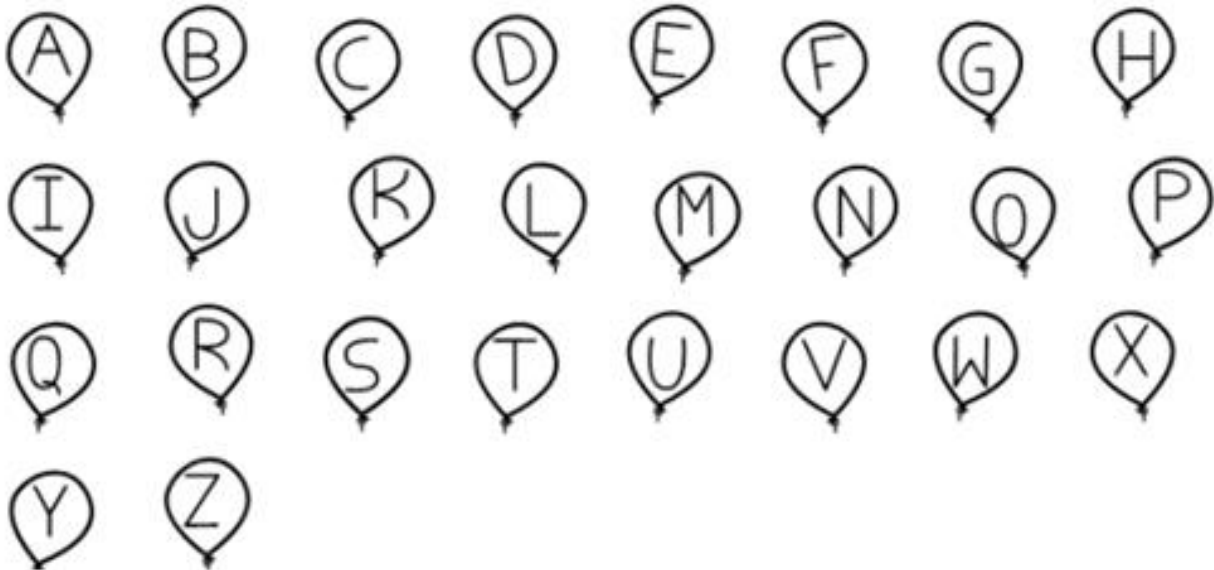
### LÍNGUA PORTUGUESA

PINTE A BANDEIRA DO BRASIL.



# BRASIL

PINTE AS LETRAS DA PALAVRA BRASIL.





E. M. "PROF. CALIL RAHAL NETO"

NOME: \_\_\_\_\_

PROFESSORA: CAMILA

TURMA: 1º ANO C

DATA: 19/11/2021

## ATIVIDADE 1

### HISTÓRIA



## DIA DA BANDEIRA DO BRASIL

1- RESPONDA COM ATENÇÃO!  
QUAIS SÃO AS CORES DA BANDEIRA DO BRASIL?

2- QUE FRASE ESTÁ ESCRITA NA BANDEIRA DO BRASIL?

3- PINTA CADA QUADRO NA COR QUE INDICA SEU SIGNIFICADO:

NOSSAS  
MATAS E  
FLORESTAS

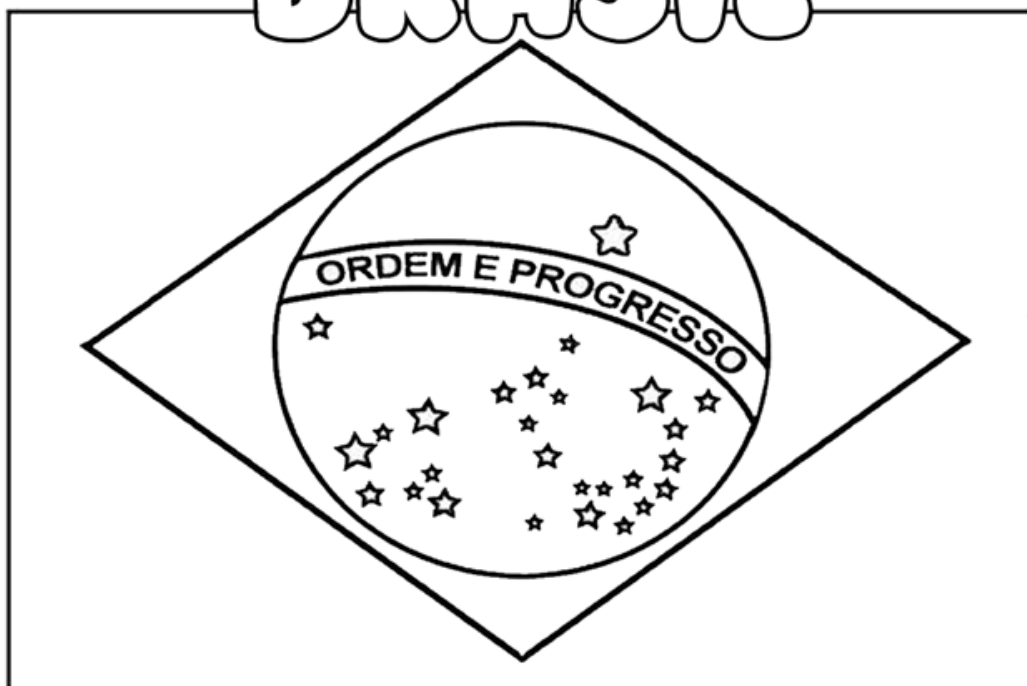
NOSSAS  
RIQUEZAS

NOSSO CÉU

PAZ

4- VAMOS  
COLORIR?

# BRASIL





E. M. "PROF. CALIL RAHAL NETO"

NOME: \_\_\_\_\_

PROFESSORA: CAMILA

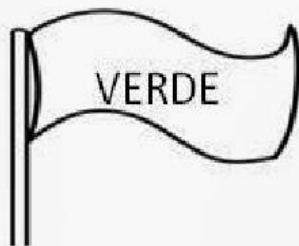
TURMA: 1º ANO C

DATA: 19/11/2021

ATIVIDADE 2

# DIA DA BANDEIRA

1. LIGUE OS SIGNIFICADOS DE CADA COR DA BANDEIRA NACIONAL



OURO E RIQUEZAS



CÉU



PAZ



MATAS E FLORESTAS





E. M. "PROF. CALIL RAHAL NETO"

NOME: \_\_\_\_\_

PROFESSORA: CAMILA

TURMA: 1º ANO C DATA: 22/11/2021


### ATIVIDADE 1

### MATEMÁTICA

✍ RESOLVA AS SUBTRAÇÕES:


A) Havia um grupo de 8 abelhas. Duas foram embora.

$$8 - 2 =$$



B) Um velhinho estava com 9 balões na mão  
4 voaram.

$$9 - 4 =$$




C) Um menino tinha 7 bolinhas. Perdeu 2.

$$7 - 2 =$$



D) Havia 5 pipas no ar. 1 arrebitou a linha.

$$5 - 1 =$$





E. M. "PROF. CALIL RAHAL NETO"

NOME: \_\_\_\_\_

PROFESSORA: CAMILA

TURMA: 1º ANO C

DATA: 22/11/2021

## ATIVIDADE 2

### LÍNGUA PORTUGUESA


# TRAVA -LÍNGUAS

ALÔ, O TATU TÁ AÍ?

NÃO O TATU NÃO TÁ!

MAS A MULHER DO TATU TANDO,

É O MESMO QUE O TATU TÁ!





PINTE AS LETRAS **T** DO TEXTO:

QUANTAS LETRAS VOCÊ PINTOU?



PINTE O MENOR TATU





E. M. "PROF. CALIL RAHAL NETO"

NOME: \_\_\_\_\_

PROFESSORA: CAMILA

TURMA: 1º ANO C

DATA: 23/11/2021

ATIVIDADE 1

MATEMÁTICA

1-RESOLVA AS SITUAÇÕES PROBLEMAS:

<b>JÚLIO</b> 	<b>TINHA</b> 	<b>PERDEU</b> 	<b>FICOU COM</b> ..... - ..... .....
<b>MARIANA</b> 	<b>TINHA</b> 	<b>COMPROU MAIS</b> 	<b>FICOU COM</b> ..... + ..... .....
<b>CÉSAR</b> 	<b>TINHA</b> 	<b>DEU</b> 	<b>FICOU COM</b> ..... - ..... .....
<b>RONALDO</b> 	<b>TINHA</b> 	<b>GANHOU MAIS</b> 	<b>FICOU COM</b> ..... + ..... .....
<b>MÁRIO</b> 	<b>TINHA</b> 	<b>COMEU</b> 	<b>FICOU COM</b> ..... - ..... .....



E. M. "PROF. CALIL RAHAL NETO"

NOME: \_\_\_\_\_

PROFESSORA: CAMILA

TURMA: 1º ANO C

DATA: 23/11/2021

## ATIVIDADE 2


### CIÊNCIAS

## O TEMPO


O TEMPO PASSA POR MUDANÇAS DIVERSAS. INCLUSIVE POR MUDANÇA DE CLIMÁTICA. ALÉM DAS ESTAÇÕES DO ANO, O TEMPO PODE MUDAR DE CLIMA ALGUMAS VEZES, NUM MESMO DIA.



- LIGUE OS DESENHOS AOS SEUS SIGNIFICADOS.



● CHUVOSO



● NUBLADO



● ENSOLARADO



E. M. "PROF. CALIL RAHAL NETO"

NOME: \_\_\_\_\_

PROFESSORA: CAMILA

TURMA: 1º ANO C

DATA: 24/11/2021

### ATIVIDADE 1

#### CIÊNCIAS

1 - OLHANDO ATRAVÉS DA JANELA, PINTE A PLAQUINHA QUE INDICA COMO ESTÁ O TEMPO.



CHUVOSO

NUBLADO

ENSOLARADO

2 - OLHE ATRAVÉS DA SUA JANELA E DESENHE A PAISAGEM INDICANDO COMO ESTÁ O DIA HOJE.







E. M. "PROF. CALIL RAHAL NETO"

NOME: \_\_\_\_\_






PROFESSORA: CAMILA

TURMA: 1º ANO C

DATA: 24/11/2021

ATIVIDADE 2  
MATEMÁTICA

OBSERVE OS PREÇOS DOS PRODUTOS DA LANCHONETE DA ESCOLA:

<p>SUCO</p>  <p>R\$ 4</p>	<p>REFRIGERANTE</p>  <p>R\$ 5</p>	<p>PICOLÉ</p>  <p>R\$ 2</p>
<p>PIPOCA</p>  <p>R\$ 1</p>	<p>SANDUÍCHE</p>  <p>R\$ 4</p>	<p>BOLO</p>  <p>R\$ 3</p>

1. QUAL O PRODUTO MAIS CARO?    2. QUAL O PRODUTO MAIS BARATO?

\_\_\_\_\_

\_\_\_\_\_

3. QUAIS O PRODUTOS CUSTAM O MESMO VALOR?

\_\_\_\_\_

4. SE VOCÊ COMPRAR UM PICOLÉ E UMA FATIA DE BOLO,  
QUANTO GASTARÁ?

\_\_\_\_\_



E. M. "PROF. CALIL RAHAL NETO"

NOME: \_\_\_\_\_

PROFESSORA: CAMILA

TURMA: 1º ANO C

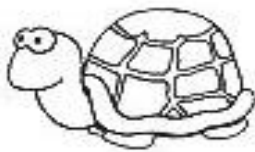
DATA: 25/11/2021

ATIVIDADE 1

1-COPIE COM CAPRICO A FAMÍLIA DA LETRA T:

TA	TE	TI	TO	TU

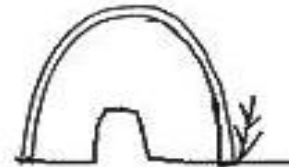
**COMPLETE AS PALAVRAS COM AS SÍLABAS  
TA - TE - TI - TO OU TU**



\_\_\_RTARUGA



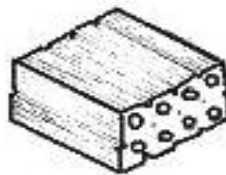
\_\_\_ TU



\_\_\_CA



\_\_\_MATE



\_\_\_JOLO



\_\_\_IA



\_\_\_URO



\_\_\_PETE



\_\_\_CANO



E. M. "PROF. CALIL RAHAL NETO"

NOME: \_\_\_\_\_

PROFESSORA: CAMILA

TURMA: 1º ANO C

DATA: 25/11/2021

## ATIVIDADE 2


### CIÊNCIAS

## O DIA E A NOITE



Amor,  
Durante o dia, o sol brilha para nos aquecer.  
Passe guache amarelo no sol.



Amoreco,  
Durante a noite, o céu fica salpicado de estrelas e a lua clareia com sua brilhante luz.  
Cole estrelinhas de papel laminado prateado no céu.



- Ligar os desenhos às roupas que usamos durante o dia e à noite.





E. M. "PROF. CALIL RAHAL NETO"

NOME: \_\_\_\_\_

PROFESSORA: CAMILA


TURMA: 1º ANO C

DATA: 26/11/2021

ATIVIDADE 1

MATEMÁTICA

VAMOS COMPLETAR A SEQUÊNCIA NA ORDEM CRESCENTE'



			4	
			14	
				30





E. M. "PROF. CALIL RAHAL NETO"

NOME: \_\_\_\_\_

PROFESSORA: CAMILA









TURMA: 1º ANO C

DATA: 29/11/2021

ATIVIDADE 1

MATEMÁTICA

- A QUE HORAS VOCÊ REALIZA CADA UMA DAS ATIVIDADES ABAIXO? MARQUE UM X NO HORÁRIO E, DEPOIS, REGISTRE NO RELÓGIO DIGITAL.

COLUNA 1	COLUNA 2	COLUNA 3
EU ACORDO E ME LEVANTO ÀS... 	<input type="radio"/> 7 HORAS <input type="radio"/> 8 HORAS <input type="radio"/> 9 HORAS	
EU ALMOÇO ÀS... 	<input type="radio"/> 10 HORAS <input type="radio"/> 11 HORAS <input type="radio"/> 12 HORAS	
VOU PARA A ESCOLA ÀS... 	<input type="radio"/> 7 HORAS <input type="radio"/> 12 HORAS <input type="radio"/> 13 HORAS	
VOU DORMIR ÀS... 	<input type="radio"/> 20 HORAS <input type="radio"/> 21 HORAS <input type="radio"/> 22 HORAS	



E. M. "PROF. CALIL RAHAL NETO"

NOME: \_\_\_\_\_

PROFESSORA: CAMILA

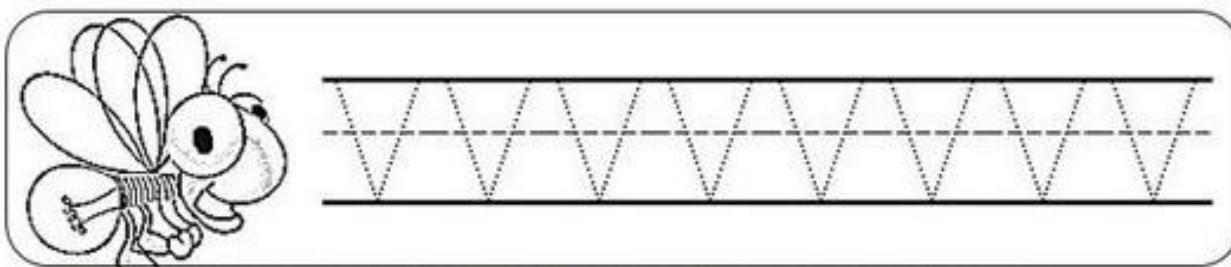
TURMA: 1º ANO C

DATA: 29/11/2021

## ATIVIDADE 2

### LÍNGUA PORTUGUESA



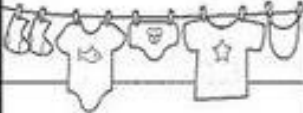









#### 1. SIGA O PONTILHADO



#### 2. JUNTANDO AS LETRINHAS FORMAMOS AS SÍLABAS

+	A	E	I	O	U
V					

#### 3. COMPLETE AS PALAVRAS COM AS SÍLABAS

 CA__LO	 GA__TA	 __RAL	 U__
 O__S	 PA__O	 __LA	 NA__O
 ____	 __GÃO	 __SO	 NO__



E. M. "PROF. CALIL RAHAL NETO"

NOME: \_\_\_\_\_

PROFESSORA: CAMILA

TURMA: 1º ANO C

DATA: 30/11/2021

### ATIVIDADE 1

### LÍNGUA PORTUGUESA









1-COPIE COM CAPRICO A FAMÍLIA DA LETRA V:

VA	VE	VI	VO	VU



VAMOS COMPLETAR AS PALAVRAS:

VA - VE - VI - VO - VU







E. M. "PROF. CALIL RAHAL NETO"

NOME: \_\_\_\_\_

PROFESSORA: CAMILA


TURMA: 1º ANO C

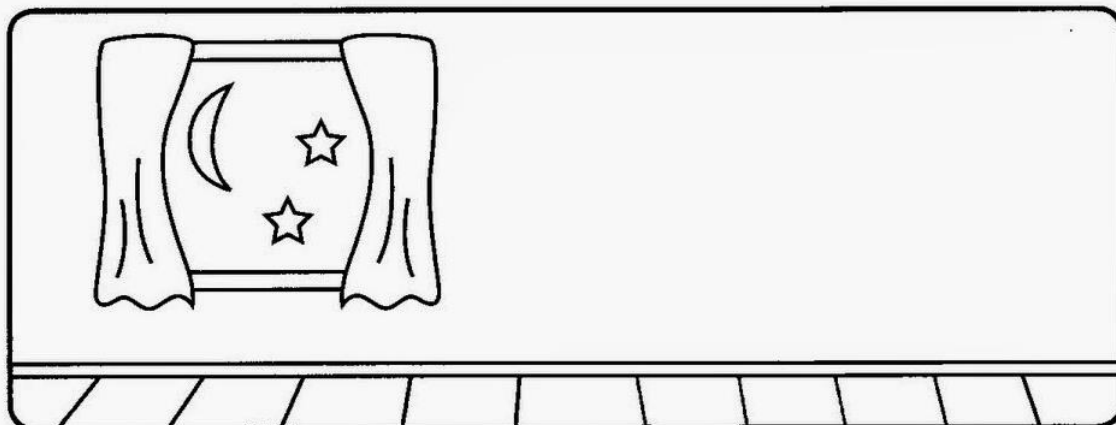
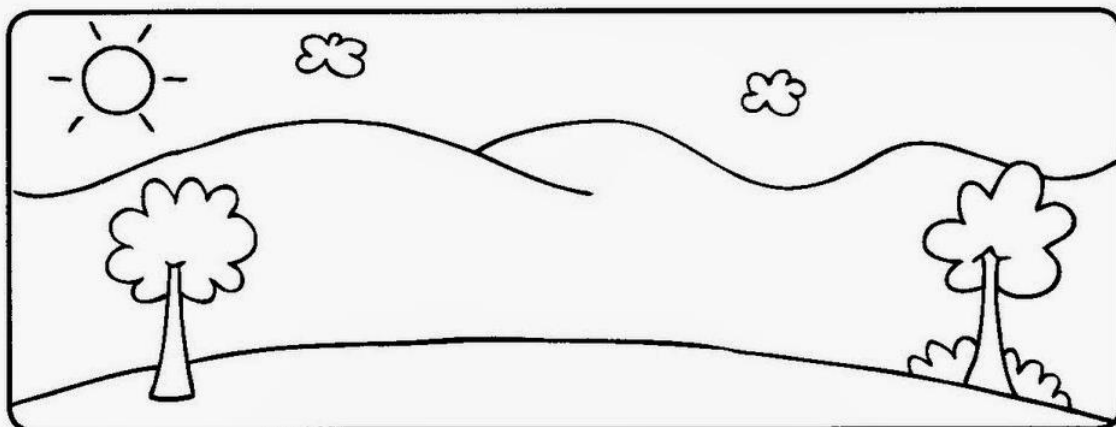
DATA: 30/11/2021

### ATIVIDADE 2

### CIÊNCIAS

### DIA OU NOITE

 PINTE AS CENAS, RECORTE AS FIGURAS ABAIXO E COLE-AS NOS QUADROS DE ACORDO COM ATIVIDADES QUE FAZEMOS DURANTE O DIA E À NOITE.



## REFERÊNCIAS DE PESQUISA

<https://www.alfabetizacaoonline.com/2021/05/21/atividades-de-geografia-1-ano/>

<https://www.atividadesmatematica.com/2015/09/avaliacao-1-ano-ensino-fundamental.html>

<http://ensinoja.com/atividades-matematica-2-ano-situacoes-problema/>

<https://www.espacoprofessor.com/atividades-dia-da-bandeira-educacao-infantil-para-baixar/>

[ereaprender.com.br/atividades-de-adicao-e-subtracao-para-o-1o-ano/atividade-de-matematica-1-ano-observando-e-respondendo/](http://ereaprender.com.br/atividades-de-adicao-e-subtracao-para-o-1o-ano/atividade-de-matematica-1-ano-observando-e-respondendo/)

<https://br.pinterest.com/pin/290411875949569310/>

<http://divisanova.mg.gov.br/donasanta/?p=18257>

<https://i2.wp.com/www.espacoprofessor.com/wp-content/uploads/2020/10/corecao.png?resize=640%2C924&ssl=1>

<https://i.pinimg.com/originals/db/6a/c5/db6ac509c2e165f3a63da65199b57aa1.jpg>

<https://www.smartkids.com.br/colorir/desenho-proclamacao-da-republica-marechal-deodoro-fonseca>

<https://br.pinterest.com/pin/793196553098597324/>

<https://br.pinterest.com/pin/5840674504014969/>

[https://www2.bauru.sp.gov.br/arquivos/arquivos\\_site/sec\\_educacao/atividades\\_pedagogica\\_distancia](https://www2.bauru.sp.gov.br/arquivos/arquivos_site/sec_educacao/atividades_pedagogica_distancia)

<https://br.pinterest.com/mauriand/matem%C3%A1tica/>

<https://www.aartedeensinareaprender.com/2020/04/atividade-pronta-soma-e-subtracao.html>