



PREFEITURA DA ESTÂNCIA TURÍSTICA DE IBIÚNA
EM PROF. CALIL RAHAL NETO

Rua Projetada, 620 - Capim Azedo - Ibiúna - SP - Telefone: 3241-5917



14ª. APOSTILA DE ESTUDOS

4º BIMESTRE



ENSINO FUNDAMENTAL

ALUNO: _____

PROFESSORA: ANA PAULA DE RAMOS MARCICANO

TURMA: 3º ANO A

DATA DE DEVOLUÇÃO:

EM "Prof. Calil Rahal Neto"

Nome: _____

Professora: Ana Paula de Ramos Marcicano

Turma: 3º ano A

Data: 08/11/2021

LÍNGUA PORTUGUESA

MENINA BONITA DO LAÇO DE FITA

**Menina Bonita do Laço de Fita
(Ana Maria Machado)**



Era uma vez uma menina linda, linda. Os olhos pareciam duas azeitonas pretas brilhantes, os cabelos enroladinhos e bem negros. A pele era escura e lustrosa, que nem o pelo da pantera negra na chuva. Ainda por cima, a mãe gostava de fazer tranças no cabelo dela e enfeitar com laços de fita coloridas. Ela ficava parecendo uma princesa das terras da África, ou uma fada do Reino do Luar.

E, havia um coelho bem branquinho, com olhos vermelhos e focinho nervoso sempre tremelicando. O coelho achava a menina a pessoa mais linda que ele tinha visto na vida. E pensava:

- Ah, quando eu casar quero ter uma filha pretinha e linda que nem ela...

Por isso, um dia ele foi até a casa da menina e perguntou:

- Menina bonita do laço de fita, qual é o teu segredo para ser tão pretinha?

A menina não sabia, mas inventou:

- Ah deve ser porque eu caí na tinta preta quando era pequenina...

O coelho saiu dali, procurou uma lata de tinta preta e tomou banho nela. Ficou bem negro, todo contente. Mas aí veio uma chuva e lavou todo aquele pretume, ele ficou branco outra vez. Então ele voltou lá na casa da menina e perguntou outra vez:

- Menina bonita do laço de fita, qual é o seu segredo para ser tão pretinha?

A menina não sabia, mas inventou:

- Ah, deve ser porque eu tomei muito café quando era pequenina.

O coelho saiu dali e tomou tanto café que perdeu o sono e passou a noite toda fazendo xixi. Mas não ficou nada preto.

- Menina bonita do laço de fita, qual o teu segredo para ser tão pretinha?

A menina não sabia, mas inventou:

- Ah, deve ser porque eu comi muita jabuticaba quando era pequenina.

EM “Prof. Calil Rahal Neto”

Nome: _____

Professora: Ana Paula de Ramos Marcicano

Turma: 3º ano A

Data: 08/11/2021

O coelho saiu dali e se empanturrou de jabuticaba até ficar pesadão, sem conseguir sair do lugar. O máximo que conseguiu foi fazer muito cocozinho preto e redondo feito jabuticaba. Mas não ficou nada preto. Então ele voltou lá na casa da menina e perguntou outra vez:

- Menina bonita do laço de fita, qual é teu segredo pra ser tão pretinha?

A menina não sabia e... Já ia inventando outra coisa, uma história de feijoada, quando a mãe dela que era uma mulata linda e risonha, resolveu se meter e disse:

- Artes de uma avó preta que ela tinha...

Aí o coelho, que era bobinho, mas nem tanto, viu que a mãe da menina devia estar mesmo dizendo a verdade, porque a gente se parece sempre é com os pais, os tios, os avós e até com os parentes tortos. E se ele queria ter uma filha pretinha e linda que nem a menina, tinha era que procurar uma coelha preta para casar. Não precisou procurar muito. Logo encontrou uma coelhinha escura como a noite, que achava aquele coelho branco uma graça. Foram namorando, casando e tiveram uma ninhada de filhotes, que coelho quando desanda a ter filhote não para mais! Tinha coelhos de todas as cores: branco, branco malhado de preto, preto malhado de branco e até uma coelha bem pretinha.

Já se sabe, afilhada da tal menina bonita que morava na casa ao lado. E quando a coelhinha saía de laço colorido no pescoço sempre encontrava alguém que perguntava:

- Coelha bonita do laço de fita, qual é o teu segredo para ser tão pretinha?

E ela respondia: - Conselhos da mãe da minha madrinha...



EM “Prof. Calil Rahal Neto”

Nome: _____

Professora: Ana Paula de Ramos Marcicano

Turma: 3º ano A

Data: 09/11/2021

LÍNGUA PORTUGUESA

INTERPRETAÇÃO DO TEXTO “ MENINA BONITA DO LAÇO DE FITA”:

1) QUAL É O TÍTULO DO TEXTO?

2) QUAL É O NOME DA AUTORA DO TEXTO?

3) QUAIS SÃO OS PERSONAGENS PRINCIPAIS DO TEXTO?

4) QUAIS ERAM AS CARACTERÍSTICAS DA MENINA ?

5) COMO ERA O COELHO?

6) QUAL ERA O SONHO DO COELHO?

7) COMO O COELHO CONSEGUIU REALIZAR O SONHO DELE?

EM "Prof. Calil Rahal Neto"

Nome: _____

Professora: Ana Paula de Ramos Marcicano


Turma: 3º ano A

Data: 09/11/2021

LÍNGUA PORTUGUESA

MENINA BONITA DO LAÇO DE FITA

PREENCHA A CRUZADINHA USANDO AS PALAVRAS DO QUADRO:



LAÇO - MENINA - JABUTICABA
COELHO - TINTA - CAFÉ

EM "Prof. Calil Rahal Neto"

Nome: _____


Professora: Ana Paula de Ramos Marcicano

Turma: 3º ano A

Data: 10/11/2021

ARTE/HISTÓRIA

A MENINA BONITA DO LAÇO DE FITA RESOLVEU PESQUISAR SOBRE A CULTURA AFRICANA E
DESCOBRIU COISAS MARAVILHOSAS. A MANDALA ABAIXO É UMA DELAS. VAMOS PINTÁ-LA?



EM "Prof. Calil Rahal Neto"

Nome: _____

Professora: Ana Paula de Ramos Marcicano

Turma: 3º ano A

Data: 10/11/2021

MATEMÁTICA

UM COELHO COME 3 CENOURAS
EM UM DIA?
QUANTAS CENOURAS ELE TERÁ
COMIDO EM 5 DIAS?

UM COELHO TEM 2 ORELHAS.
QUANTAS ORELHAS TÊM 6
COELHOS JUNTOS?

O COELHO COMEU UMA
DEZENA DE JABUTICABAS EM UM DIA
E OITO JABUTICABAS NO OUTRO.
QUANTAS JABUTICABAS ELE
COMEU AO TODO?
REPRESENTE USANDO O
MATERIAL DOURADO:

O COELHO COLOCOU CAFÉ EM 16
XÍCARAS.
ELE DERRUBOU 4.
QUANTAS RESTARAM?

EM "Prof. Calil Rahal Neto"

Nome: _____

Professora: Ana Paula de Ramos Marcicano

Turma: 3º ano A

Data: 11/11/2021

MATEMÁTICA

O COELHO COMEU JABUTICABAS DURANTE UMA SEMANA TODA.
OBSERVE:

DIAS DA SEMANA:	QUANTIDADE:
DOMINGO	3
SEGUNDA	5
TERÇA	4
QUARTA	6
QUINTA	2
SEXTA	4
SÁBADO	1
TOTAL	

1) EM QUAL DIA DA SEMANA ELE COMEU MENOS JABUTICABAS?

R: _____

2) EM QUAL DIA DA SEMANA ELE COMEU MAIS JABUTICABAS?

R: _____

3) QUANTAS JABUTICABAS ELE COMEU NO TOTAL?

R: _____

4) QUANTAS JABUTICABAS ELE COMEU JUNTANDO TERÇA E SEXTA?

R: _____

EM "Prof. Calil Rahal Neto"

Nome: _____

Professora: Ana Paula de Ramos Marcicano

Turma: 3º ano A

Data: 11/11/2021

MATEMÁTICA

A PROFESSORA DA MENINA BONITA DO LAÇO DE FITA FEZ UMA PESQUISA PARA SABER A PROFISSÃO PREFERIDA DOS ALUNOS.

VEJA OS RESULTADOS:

PROFISSÃO	VOTOS
MOTORISTA	7
PROFESSOR	6
MÉDICO	3
VENDEDOR	5
AGRICULTOR	4

1) QUAL PROFISSÃO FOI MAIS VOTADA?

2) QUAL PROFISSÃO OBTEVE MENOS VOTOS?

3)QUANTAS PESSOAS FORAM PESQUISADAS?

E VOCÊ? QUAL É A SUA PROFISSÃO PREFERIDA?

EM "Prof. Calil Rahal Neto"

Nome: _____

Professora: Ana Paula de Ramos Marcicano

Turma: 3º ano A

Data: 12/11/2021

HISTÓRIA

1) Leia a história abaixo:



➤ Escolha a opção correta:

a) Quando foi que o Brasil deixou de ser governado por imperador?

- () 7 de setembro de 1988
- () 21 de abril de 1989
- () 15 de novembro de 1889

b) Quem proclamou a República no Brasil?

- () Dom Pedro I
- () Tiradentes
- () Marechal Deodoro da Fonseca

EM "Prof. Calil Rahal Neto"

Nome: _____

Professora: Ana Paula de Ramos Marcicano

Turma: 3º ano A

Data: 12/11/2021

HISTÓRIA/ARTE

15 de Novembro Proclamação da República



Nome: _____

Professora: Ana Paula de Ramos Marcicano

Turma: 3º ano A

Data: 16/11/2021

LÍNGUA PORTUGUESA

VAMOS LER JUNTINHOS!

MENINA BONITA DO LAÇO DE FITA


ERA UMA VEZ UMA MENINA LINDA, LINDA.

OS OLHOS PARECIAM DUAS AZEITONAS PRETAS BRILHANTES, OS CABELOS ENROLADINHOS E BEM NEGROS.

A PELE ERA ESCURA E LUSTROSA, QUE NEM O PELO DA PANTERA NEGRA NA CHUVA.

AINDA POR CIMA, A MÃE GOSTAVA DE FAZER TRANCINHAS NO CABELO DELA E ENFEITAR COM LAÇOS DE FITA COLORIDAS.

ELA FICAVA PARECENDO UMA PRINCESA DAS TERRAS DA ÁFRICA, OU UMA FADA DO REINO DO LUAR.



E, HAVIA UM COELHO BEM BRANQUINHO, COM OLHOS VERMELHOS E FOCINHO NERVOSO SEMPRE TREMELICANDO. O COELHO ACHAVA A MENINA A PESSOA MAIS LINDA QUE ELE TINHA VISTO NA VIDA.

E PENSAVA:

- AH, QUANDO EU CASAR QUERO TER UMA FILHA PRETINHA E LINDA QUE NEM ELA...

(ANA MARIA MACHADO)

EM "Prof. Calil Rahal Neto"

Nome: _____

Professora: Ana Paula de Ramos Marcicano

Turma: 3º ano A


Data: 16/11/2021

LÍNGUA PORTUGUESA

LEIA O TEXTO ACIMA E COMPLETE O QUADRO ABAIXO
USANDO AS PALAVRAS DO BANCO DE PALAVRAS:

MENINA BONITA DO LAÇO DE FITA

ERA UMA VEZ UMA _____ LINDA, _____.
OS OLHOS PARECIAM DUAS AZEITONAS _____ BRILHANTES,
OS _____ ENROLADINHOS E BEM _____.
A PELE ERA _____ E LUSTROSA, QUE NEM O PELO DA
_____ NEGRA NA CHUVA.
AINDA POR CIMA, A _____ GOSTAVA DE FAZER TRANCINHAS
NO CABELO DELA E ENFEITAR COM LAÇOS DE _____
COLORIDAS. ELA FICAVA PARECENDO UMA PRINCESA DAS
TERRAS DA _____, OU UMA FADA DO REINO DO LUAR.



MENINA	LINDA
PRETAS	CABELOS
NEGROS	ESCURA
PANTERA	MÃE
FITA	ÁFRICA

EM "Prof. Calil Rahal Neto"

Nome: _____

Professora: Ana Paula de Ramos Marcicano

Turma: 3º ano A

Data: 17/11/2021

LÍNGUA PORTUGUESA

COMPLETE AS PALAVRAS E REESCREVA-AS NO RETÂNGULO:



MENINA

M _ _ N _ _ N _ _



MÃE

M _ _ _ _



AVÓ

_ _ V _ _



COELHO

C _ _ _ _ LH _ _



PANTERA

P _ _ N T _ _ R _ _



COELHINHA

C _ _ _ _ L _ _ N H _ _

EM "Prof. Calil Rahal Neto"

Nome: _____

Professora: Ana Paula de Ramos Marcicano

Turma: 3º ano A

Data: 17/11/2021

LÍNGUA PORTUGUESA

OBSERVE AS FIGURAS ABAIXO E ESCREVA FRASES:





Nome: _____

Professora: Ana Paula de Ramos Marcicano

Turma: 3º ano A

Data: 18/11/2021

GEOGRAFIA

VAMOS CONHECER OS MEIOS DE TRANSPORTE?






OS MEIOS DE TRANSPORTE SÃO DE GRANDE IMPORTÂNCIA PARA O DESENVOLVIMENTO DO NOSSO PAÍS.




ELES SERVEM PARA TRANSPORTAR PESSOAS E CARREGAR MERCADORIAS.

SÃO DIVIDIDOS EM:



. TERRESTRES: OS AUTOMÓVEIS, OS ÔNIBUS, OS CAMINHÕES, O TREM, O METRÔ, ETC.



. AQUÁTICOS: SÃO OS NAVIOS, IATE, OS BARCOS E AS CANOAS.



. AÉREOS: AVIÕES, HELICÓPTEROS, ETC.



EM "Prof. Calil Rahal Neto"

Nome: _____

Professora: Ana Paula de Ramos Marcicano

Turma: 3º ano A

Data: 18/11/2021

GEOGRAFIA

A AVÓ DA MENINA BONITA DO LAÇO DE FITA MORA NA ÁFRICA.

ELA VAI USAR O AVIÃO COMO MEIO DE TRANSPORTE PARA VISITAR A NETA.

VAMOS FAZER UMA LISTA DE OUTROS MEIOS DE TRANSPORTE QUE VOCÊ CONHECE?

AÉREOS	TERRESTRES	AQUÁTICOS

EM "Prof. Calil Rahal Neto"

Nome: _____

Professora: Ana Paula de Ramos Marcicano

Turma: 3º ano A

Data: 19/11/2021

DIA DA BANDEIRA 19 DE NOVEMBRO

BANDEIRA AMIGA, BANDEIRA DO BRASIL

Corina Ruiz Peixoto

Eis no mastro tremulando
A Bandeira do Brasil.
Ela é linda, é a primeira
A primeira entre mil.

Tem o verde das folhinhas
Tem também a cor amarela
Tem o azul com as estrelinhas
Faixa branca atravessada.

E traz escrito:
Ordem e Progresso.
E eu repito:
Ordem e Progresso.



Eu gosto de aprender Comunicação e Expressão 1ª série - Maria da Glória Mariano Santos / Rose Mary Faria Assal - Editora do Brasil S/A.

✎ Quais são as cores da Bandeira do Brasil?

✎ O que está escrito na faixa branca da Bandeira?

EM “Prof. Calil Rahal Neto”

Nome: _____

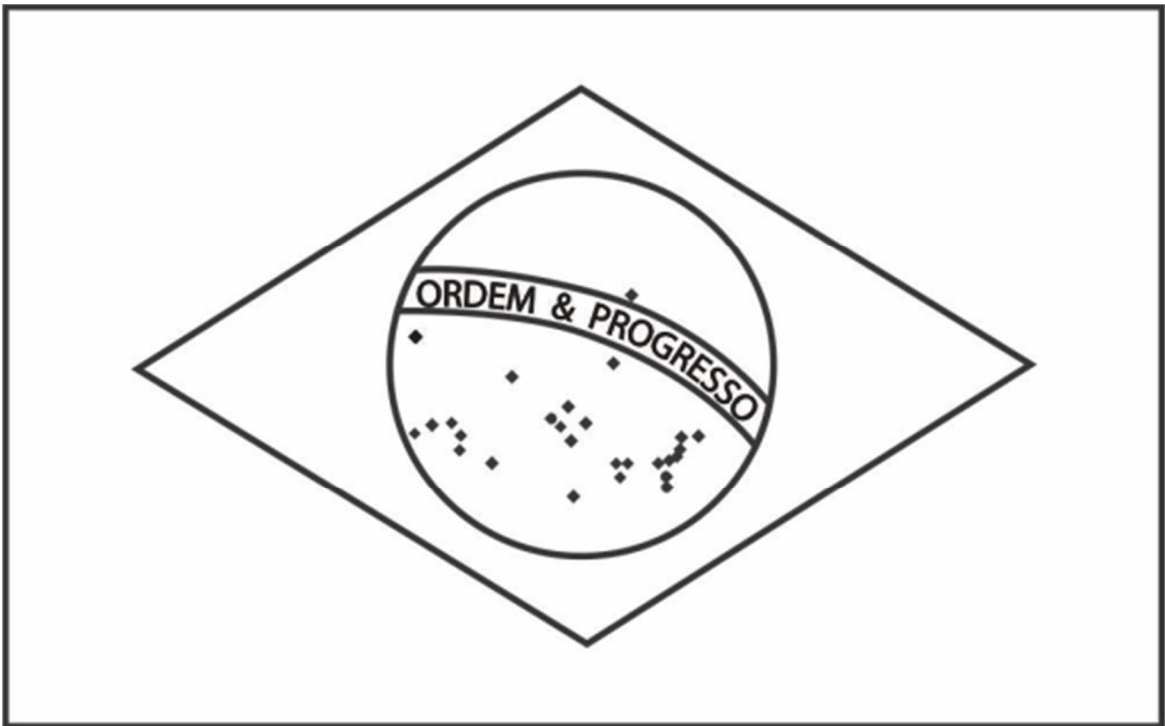
Professora: Ana Paula de Ramos Marcicano

Turma: 3º ano A

Data: 19/11/2021

ARTE:

OBSERVE AS CORES DA NOSSA BANDEIRA E CAPRICHE NA PINTURA:



Nome: _____

Professora: Ana Paula de Ramos Marcicano

Turma: 3º ano A

Data: 22/11/2021

UM FELIZ NATAL

Poesia de criança:

Neste Natal
quero ganhar:
brilho, amor e alegria.
O brilho das estrelas,
o amor de Jesus.
a alegria de partilhar
e poder amar.

Quero formar:
uma família unida,
amizades queridas.

Quero ser:
uma boa amiga,
uma criança feliz.

Quero colocar:
Um feliz Natal!

Maria Carolina M. de Castro

Atividades:

1) O que Carolina quer ganhar neste Natal?

2) Como ela quer que sua família seja?

3) Como ela quer ser?

5) Como gostaria que sua família fosse?



EM "Prof. Calil Rahal Neto"

Nome: _____

Professora: Ana Paula de Ramos Marcicano

Turma: 3º ano A

Data: 22/11/2021

LÍNGUA PORTUGUESA

COMPLETE A CRUZADINHA DE NATAL.

The crossword puzzle grid consists of 10 columns and 10 rows. The grid is partially filled with empty cells. The following illustrations and arrows are placed around the grid to indicate the starting points for words:

- A bell with a red ribbon is positioned above the first two columns of the first row, with red arrows pointing down to the first and second cells.
- A gift box with a green bow is positioned above the third and fourth columns of the first row, with red arrows pointing down to the third and fourth cells.
- A green banner with the number '25' is positioned above the eighth column of the first row, with a red arrow pointing down to the eighth cell.
- A yellow star is positioned to the left of the second cell of the third row, with a red arrow pointing right to the second cell.
- A lit candle is positioned to the left of the second cell of the fifth row, with a red arrow pointing right to the second cell.
- An angel is positioned to the right of the fifth cell of the fifth row, with a red arrow pointing left to the fifth cell.
- A Christmas tree is positioned to the left of the first cell of the tenth row, with a red arrow pointing right to the first cell.
- A red snowflake is positioned to the left of the third cell of the ninth row, with a red arrow pointing right to the third cell.

EM "Prof. Calil Rahal Neto"

Nome: _____

Professora: Ana Paula de Ramos Marcicano

Turma: 3º ano A

Data: 23/11/2021

MATEMÁTICA

LIGA- PONTOS



EM "Prof. Calil Rahal Neto"

Nome: _____

Professora: Ana Paula de Ramos Marcicano

Turma: 3º ano A

Data: 23/11/2021

MATEMÁTICA

NOVEMBRO - 2021



15/11 – PROCLAMAÇÃO DA REPÚBLICA

D	S	T	Q	Q	S	S
	1	2	3	4	5	6
7	8	9	10	11	12	13
14	15	16	17	18	19	20
21	22	23	24	25	26	27
28	29	30				

1) EM QUAL DIA DA SEMANA CAI O DIA 15 DE NOVEMBRO? _____

Nome: _____

Professora: Ana Paula de Ramos Marcicano

Turma: 3º ano A

Data: 24/11/2021

LÍNGUA PORTUGUESA

É Tempo de Amor

Natal é tempo de amor
É tempo de embrulhar presentes e fazer doces...
Um tempo de presentes escondidos
em lugares secretos...
É tempo de brinquedos, tambores e bonecas.
Um tempo de luzes
e ramos de pinheiro.
O Natal é a época da família
e de bons amigos
que mais uma vez revemos.
É tempo de música
e de canções de alegria...



*Joan Walsh Angund,
Natal é tempo de amor, Cedibra*

- ♦ Qual o título do poema? _____
- ♦ Que brinquedos aparecem no poema? _____
- ♦ Complete o cartão abaixo:

Natal é... _____

EM "Prof. Calil Rahal Neto"

Nome: _____

Professora: Ana Paula de Ramos Marcicano

Turma: 3º ano A

Data: 24/11/2021

O que faz parte do Natal?
Encontre no caça-palavras os objetos que fazem parte do natal.



O I T O T D L S S O L T
V G U I R L A N D A P E
E E B I T M A T R A R E
J S L P A P A I N O E L
S O T A R I D T D E S R
D F N N R E M D Á E E A
O C O E N O S R T E N D
D N G T T O V É O G T H
O E T O S O E O P E E A
M I A N R S Y S I I B L
E N O E S I N O H I O S
L E T R A L T T E E D L

Nome: _____

Professora: Ana Paula de Ramos Marcicano

Turma: 3º ano A

Data: 25/11/2021

LÍNGUA PORTUGUESA

BOLACHA DE BAUNILHA

- 1 xic. manteiga amolecida
- 1 xic. açúcar mascavo
- 1/2 xic. açúcar granulado
- 3 ovos grandes
- 2 col. chá de extrato de baunilha
- 3/4 col. chá de sal
- 1/4 col. chá de fermento em pó
- 4 (ou 4 1/2 xic.) farinha de trigo

Bata a manteiga e os dois açúcares até a mistura clarear. Adicione os ovos e o extrato de baunilha. Bata até incorporar os ingredientes. Continue batendo e coloque o sal e o fermento.. Adicione a farinha aos poucos, se achar que a massa está muito pesada termine de misturar na mão. Deixe a massa bem embalada na geladeira até o dia seguinte.



1) COPIE ABAIXO OS INGREDIENTES DA RECEITA:

Nome: _____

Professora: Ana Paula de Ramos Marcicano

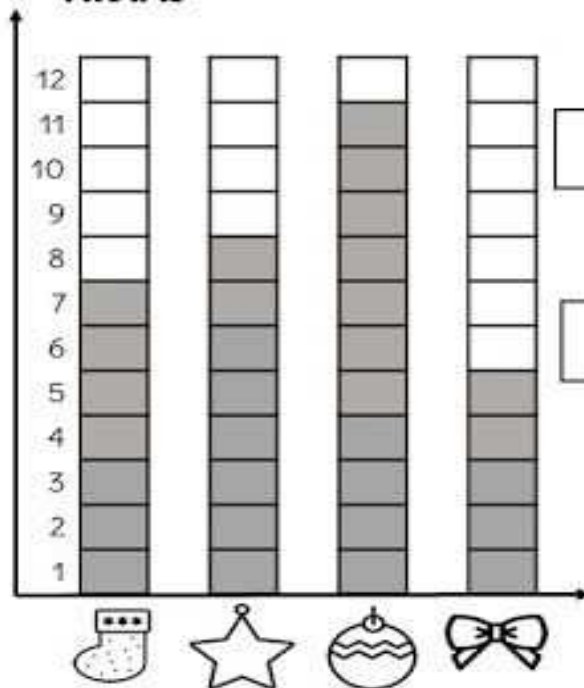
Turma: 3º ano A

Data: 25/11/2021

GRÁFICOS

A MÃE DE JESSICA ENFEITOU UMA GRANDE ÁRVORE DE NATAL. VEJA O QUE ELA COLOCOU.

FRUTAS



1-QUAL ENFEITE TEM MAIS?

2-QUAL ENFEITE TEM MENOS?

3-QUANTAS BOLINHAS FORAM COLOCADAS?

4- QUANTAS MEIAS E ESTRELAS FORAM COLOCADAS AO TODO?

5-QUAL DIFERENÇA ENTRE O LAÇO E A BOLINHA?



EM "Prof. Calil Rahal Neto"

Nome: _____

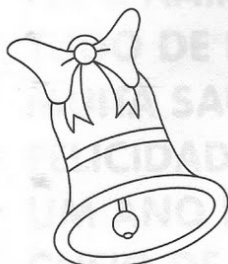
Professora: Ana Paula de Ramos Marcicano

Turma: 3º ano A

Data: 26/11/2021

LÍNGUA PORTUGUESA

BATE O SINO



HOJE A NOITE É BELA.
JUNTOS EU E ELA
VAMOS À CAPELA, FELIZES A REZAR.
AO SOAR O SINO, SINO PEQUENINO,
VAI O DEUS MENINO NOS
ABENÇOAR.



BATE O SINO PEQUENINO,
SINO DE BELÉM.
JÁ NASCEU O DEUS MENINO
PARA O NOSSO BEM.
PAZ NA TERRA, PEDE O SINO ALEGRE A
CANTAR.
ABENÇOE, DEUS MENINO, ESSE NOSSO LAR.

COMPLETAR:

HOJE A

É

JUNTOS

E

VAMOS À

, FELIZES A

AO SOAR O

, SINO

VAI O

MENINO NOS

EM "Prof. Calil Rahal Neto"

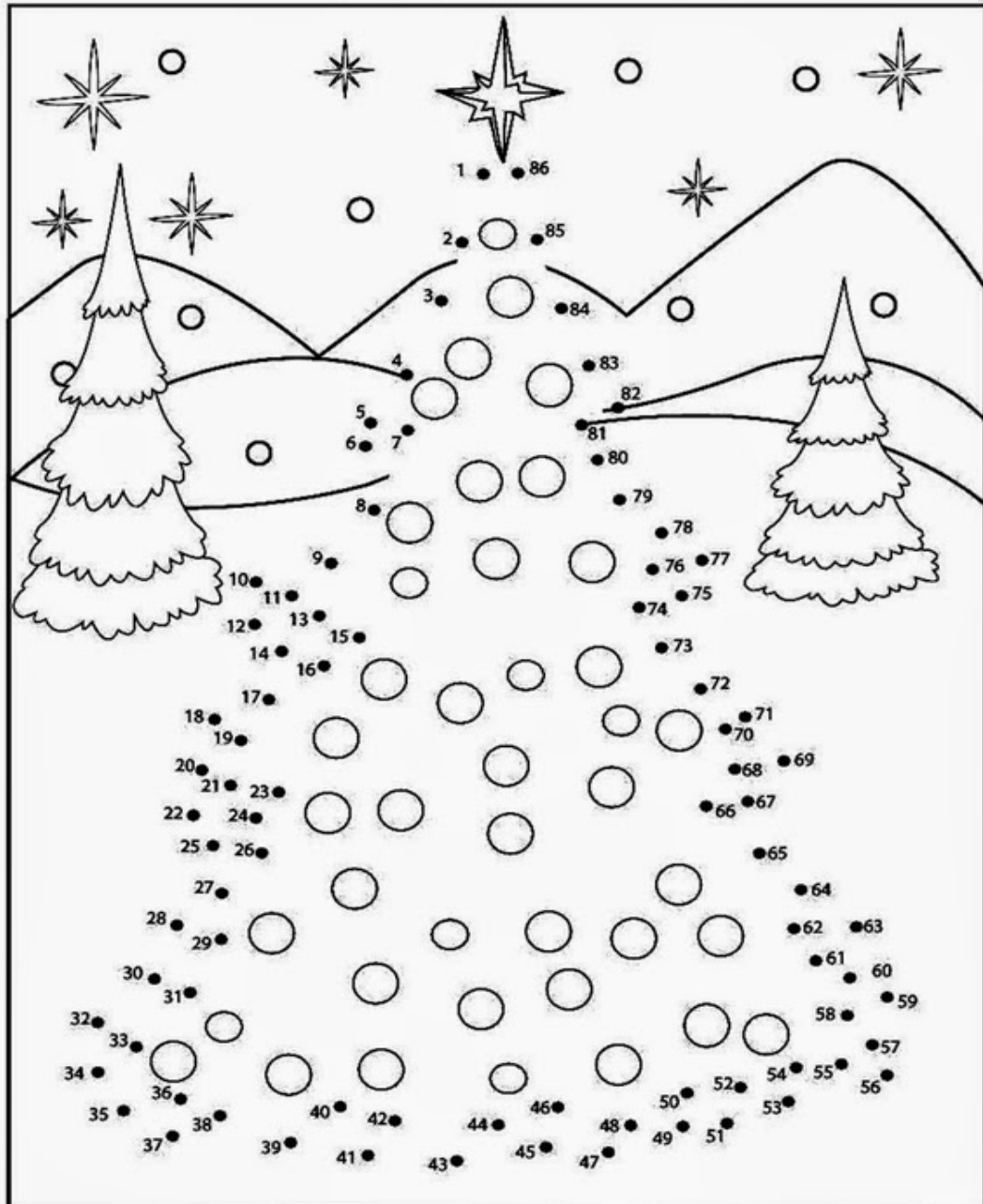
Nome: _____

Professora: Ana Paula de Ramos Marcicano

Turma: 3º ano A

Data: 26/11/2021

LIGUE OS PONTOS E VEJA O QUE SE FORMA.



EM "Prof. Calil Rahal Neto"

Nome: _____

Professora: Ana Paula de Ramos Marcicano

Turma: 3º ano A

Data: 29/11/2021

1) LEIA, ESCREVA E DESCUBRA O NÚMERO DE SÍLABAS E LETRAS DAS PALAVRAS.



PRESEPIO

--	--	--

SÍLABAS

--	--	--	--	--	--	--	--

LETRAS



ESTRELA

--	--	--

SÍLABAS

--	--	--	--	--	--	--	--

LETRAS



PRESENTE

--	--	--

SÍLABAS

--	--	--	--	--	--	--	--

LETRAS



VELA

--	--

SÍLABAS

--	--	--	--

LETRAS



CARAMELO

--	--	--	--

SÍLABAS

--	--	--	--	--	--	--	--

LETRAS

EM "Prof. Calil Rahal Neto"

Nome: _____

Professora: Ana Paula de Ramos Marcicano

Turma: 3º ano A

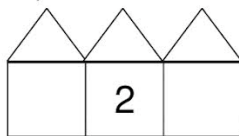
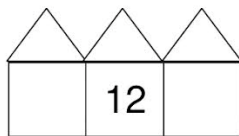
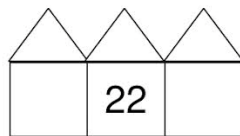
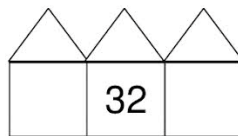
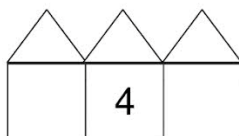
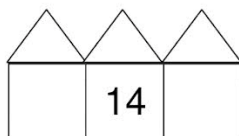
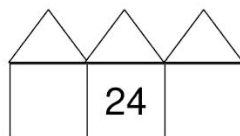
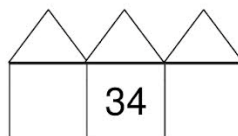
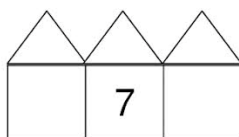
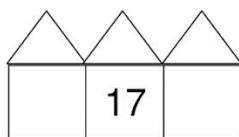
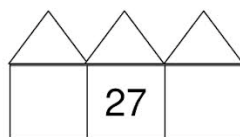
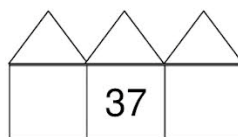
Data: 29/11/2021

MATEMÁTICA

1) Complete o quadro com os números faltosos:

0	1								
									49

2) Escreva o antecessor e o sucessor de:

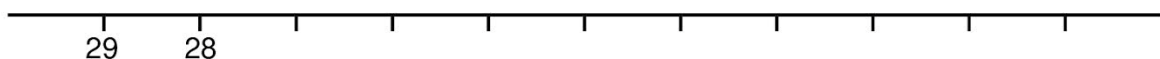
3) Resolva as adições:

$\begin{array}{r} 23 \\ + 14 \\ \hline \end{array}$	$\begin{array}{r} 15 \\ + 12 \\ \hline \end{array}$	$\begin{array}{r} 24 \\ + 32 \\ \hline \end{array}$	$\begin{array}{r} 27 \\ + 12 \\ \hline \end{array}$	$\begin{array}{r} 31 \\ + 11 \\ \hline \end{array}$	$\begin{array}{r} 32 \\ + 14 \\ \hline \end{array}$	$\begin{array}{r} 24 \\ + 15 \\ \hline \end{array}$	$\begin{array}{r} 12 \\ + 23 \\ \hline \end{array}$
---	---	---	---	---	---	---	---

4) Resolva as subtrações:

$\begin{array}{r} 18 \\ - 12 \\ \hline \end{array}$	$\begin{array}{r} 28 \\ - 12 \\ \hline \end{array}$	$\begin{array}{r} 38 \\ - 12 \\ \hline \end{array}$	$\begin{array}{r} 28 \\ - 12 \\ \hline \end{array}$	$\begin{array}{r} 15 \\ - 14 \\ \hline \end{array}$	$\begin{array}{r} 25 \\ - 14 \\ \hline \end{array}$	$\begin{array}{r} 35 \\ - 14 \\ \hline \end{array}$	$\begin{array}{r} 25 \\ - 14 \\ \hline \end{array}$
---	---	---	---	---	---	---	---

5) Complete a sequência, escrevendo os números faltosos, em **ordem decrescente**:



Nome: _____

Professora: Ana Paula de Ramos Marcicano

Turma: 3º ano A

Data: 30/11/2021

Calculando...



1- Efetue as adições e pinte a árvore de natal.

$$\begin{array}{r} 33 \\ +26 \\ \hline \end{array}$$

$$\begin{array}{r} 42 \\ +13 \\ \hline \end{array}$$

$$\begin{array}{r} 23 \\ +12 \\ \hline \end{array}$$

$$\begin{array}{r} 18 \\ +11 \\ \hline \end{array}$$

$$\begin{array}{r} 19 \\ +10 \\ \hline \end{array}$$

$$\begin{array}{r} 15 \\ +10 \\ \hline \end{array}$$

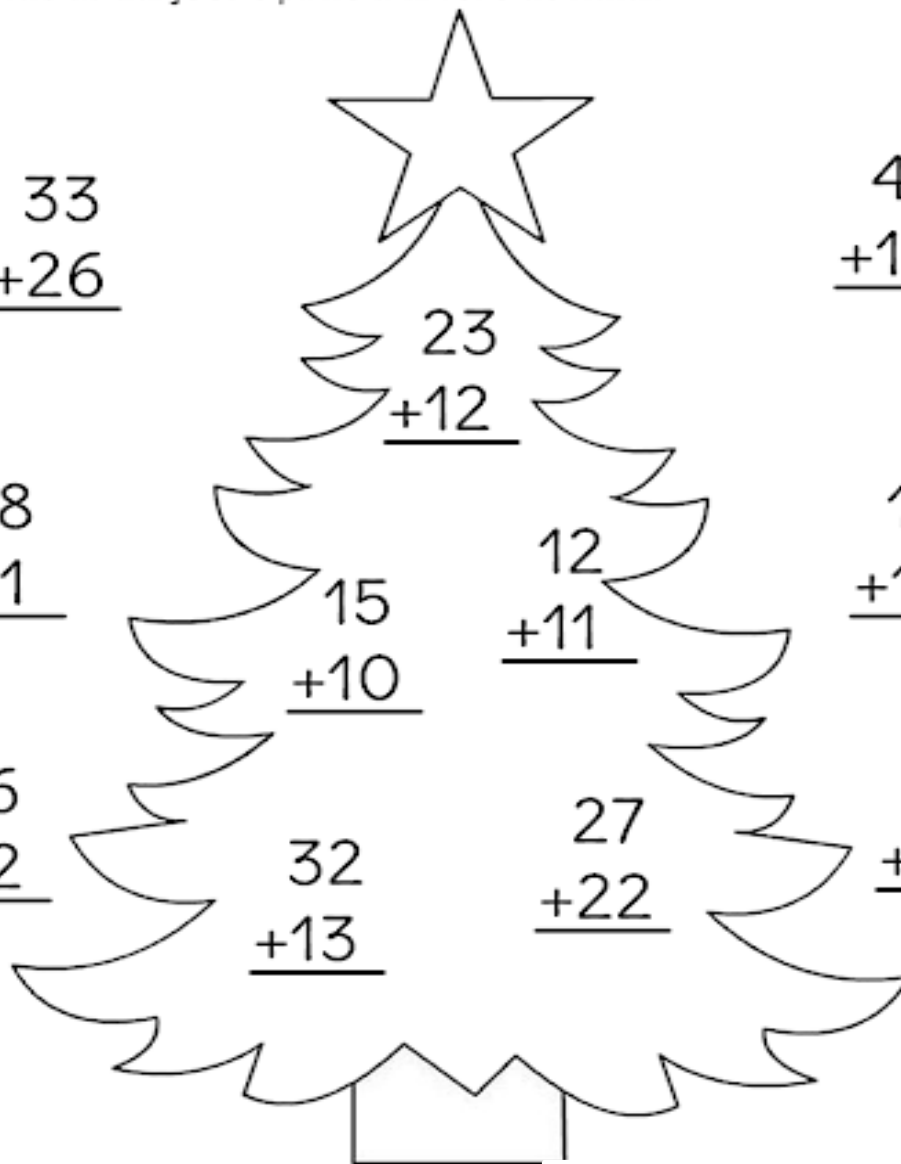
$$\begin{array}{r} 12 \\ +11 \\ \hline \end{array}$$

$$\begin{array}{r} 16 \\ +12 \\ \hline \end{array}$$

$$\begin{array}{r} 54 \\ +23 \\ \hline \end{array}$$

$$\begin{array}{r} 32 \\ +13 \\ \hline \end{array}$$

$$\begin{array}{r} 27 \\ +22 \\ \hline \end{array}$$



EM "Prof. Calil Rahal Neto"

Nome: _____

Professora: Ana Paula de Ramos Marcicano

Turma: 3º ano A

Data: 30/11/2021

ARTE



REFERÊNCIAS BIBLIOGRÁFICAS

<https://educacaoetransformacaooficial.blogspot.com/2018/11/atividades-menina-bonita-do-laco-de-fita.html>

<http://cantinhodosaber.com.br/atividades/atividade-para-trabalhar-com-o-livro-menina-bonita-do-laco-de-fita-2/>

<https://www.soescola.com/2017/11/mural-dia-da-proclamacao-da-republica-para-montar.html>

<https://decompartilharensino.blogspot.com/2019/07/meios-de-transporte-3-ano-ensino.html>

<http://www.educarx.com/2013/10/atividades-dia-da-bandeira-3-ano-do.html>

<https://www.soescola.com/2016/07/tabelas-de-numerais-para-imprimir.html>