



14ª. APOSTILA DE ESTUDOS ATIVIDADES NÃO PRESENCIAIS

4º BIMESTRE



ENSINO FUNDAMENTAL

ALUNO(A): _____

TURMA: 1º ANO B

PROFª: ANA PAULA

DATA DE DEVOLUÇÃO: 01/12/2021



E. M. "PROF. CALIL RAHAL NETO"

NOME: _____

PROFESSORA: ANA PAULA TURMA: 1º ANO B DATA: 08/11/2021

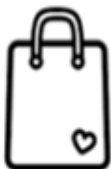
ATIVIDADE 1
LÍNGUA PORTUGUESA

LEIA O TEXTO E CIRCULE AS PALAVRAS INICIADAS
COM A LETRA S.



O S ESTÁ NO SAPO.
NO SAPATO E NO SINO.
ESTÁ NO SOFÁ E NA SACOLA
E NA SEMENTE DO PEPINO.

ESCREVAS OS NOMES DOS DESENHOS.





E. M. "PROF. CALIL RAHAL NETO"


NOME: _____

PROFESSORA: ANA PAULA TURMA: 1º ANO B DATA: 08/11/2021

ATIVIDADE 2

MATEMÁTICA

 OBSERVE A CENA E RESPONDA ÀS PERGUNTAS PINTANDO A RESPOSTA CERTA.



• QUANTAS CRIANÇAS ESTÃO NA FILA? (5) (6) (7)

• QUANTOS MENINOS? (2) (3) (4)

• QUANTAS MENINAS? (2) (5) (4)

• QUANTAS CRIANÇAS ESTÃO DE BONÉ? (3) (2) (1)

• QUANTAS CRIANÇAS SEGURAM BRINQUEDO? (1) (2) (3)



E. M. "PROF. CALIL RAHAL NETO"

NOME: _____

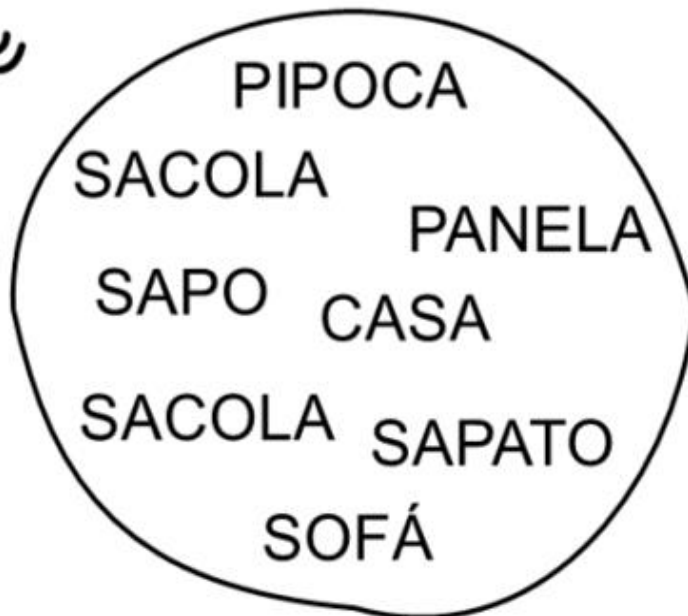
PROFESSORA: ANA PAULA

TURMA: 1º ANO B DATA: 09/11/2021

ATIVIDADE 1

LÍNGUA PORTUGUESA

ENCONTRE E CIRCULE AS PALAVRAS INICIADAS COM A LETRA S.



COMPLETE AS PALAVRAS COM A LETRA S.



____ OFÁ



____ ACOLA



____ APATO



____ INO



____ APO



____ EREIA



E. M. "PROF. CALIL RAHAL NETO"

NOME: _____

PROFESSORA: ANA PAULA

TURMA: 1º ANO B

DATA: 09/11/2021

ATIVIDADE 2

GEOGRAFIA

1-PINTE O QUADRADINHO DE ACORDO COM SUAS
INFORMAÇÕES:

- SOU FILHO ÚNICO.
- TENHO UMA LINDA FAMÍLIA.
- TENHO UM ANIMAL DE ESTIMAÇÃO.
- SOU ESTUDIOSO(A).
- ESCOVO OS DENTES TRÊS VEZES AO DIA.
- TENHO AMIGOS.
- SOU UM(A) BOM(A) ALUNO(A).
- MORO COM MINHA FAMÍLIA.
- SOU FELIZ.
- GOSTO DE BRINCAR.
- FAÇO MINHAS TAREFAS DE CASA.
- MORO PERTO DA ESCOLA.





E. M. "PROF. CALIL RAHAL NETO"

NOME: _____

PROFESSORA: ANA PAULA

TURMA: 1º ANO B

DATA: 10/11/2021

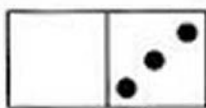
ATIVIDADE 1
MATEMÁTICA

1) PINTE SOMENTE O QUADRO COM A RESPOSTA CERTA.

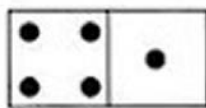
FATOS	RESPOSTAS		
$2 + 3 =$	5	4	3
$2 + 2 =$	3	4	5
$4 + 1 =$	4	2	5
$0 + 5 =$	5	4	0
$3 + 1 =$	3	5	4
$1 + 2 =$	2	5	3



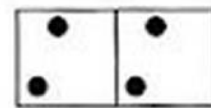
2) OBSERVE AS PEÇAS DO DOMINÓ E FAÇA AS ADIÇÕES NA FORMA **HORIZONTAL**. VEJA O MODELO.



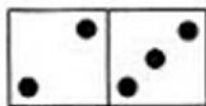
$0 + 3 = 3$



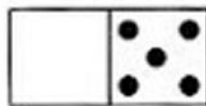
_____ + _____ = _____



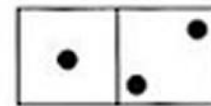
_____ + _____ = _____




_____ + _____ = _____



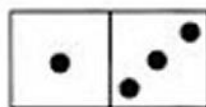
_____ + _____ = _____



_____ + _____ = _____



_____ + _____ = _____



_____ + _____ = _____





E. M. "PROF. CALIL RAHAL NETO"

NOME: _____

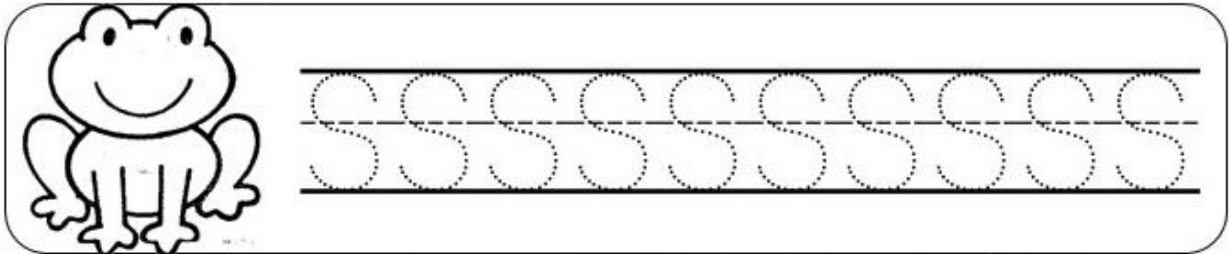
PROFESSORA: ANA PAULA

TURMA: 1º ANO B DATA: 10/11/2021

ATIVIDADE 2

LÍNGUA PORTUGUESA



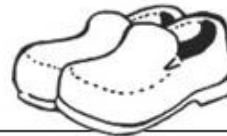
1. SIGA O PONTILHADO



2. VAMOS JUNTAR AS LETRINHAS E FORMAR SÍLABAS?

+	A	E	I	O	U
S					

3. DE ACORDO COM AS FIGURAS ESCREVA O NOME DE CADA UMA.





E. M. "PROF. CALIL RAHAL NETO"

NOME: _____

PROFESSORA: ANA PAULA

TURMA: 1º ANO B DATA: 11/11/2021

ATIVIDADE 1

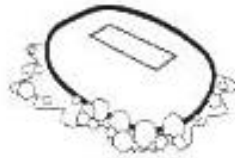
LÍNGUA PORTUGUESA

SA	SE	SI	SO	SU

**COMPLETE AS PALAVRAS COM AS SÍLABAS
SA - SE - SI - SO OU SU**



___RROTE



___BÃO



___NO



___PO



___PATO



___IA



___CO



___LDADO



___RVETE



E. M. "PROF. CALIL RAHAL NETO"

NOME: _____


PROFESSORA: ANA PAULA

TURMA: 1º ANO B


DATA: 11/11/2021

ATIVIDADE 2
MATEMÁTICA

SOMANDO...



SUBTRAINDO...





E. M. "PROF. CALIL RAHAL NETO"

NOME: _____

PROFESSORA: ANA PAULA

TURMA: 1º ANOB

DATA: 12/11/2021

ATIVIDADE 1

HISTÓRIA

15 DE NOVEMBRO: PROCLAMAÇÃO DA REPÚBLICA

LEIA A TIRINHA COM A AJUDA DE UM FAMILIAR:



MARQUE UM X NA RESPOSTA CORRETA:

1) EM QUE DIA É COMEMORADO A PROCLAMAÇÃO DA REPÚBLICA:

() 07 DE SETEMBRO () 15 DE NOVEMBRO () 22 DE ABRIL

2) QUEM PROCLAMOU A REPÚBLICA DO BRASIL:

() D. PEDRO I

() MARECHAL DEODORO DA FONSECA

() D. JOÃO IV



E. M. "PROF. CALIL RAHAL NETO"

NOME: _____

PROFESSORA: ANA PAULA

TURMA: 1º ANO B

DATA: 12/11/2021

ATIVIDADE 2

ARTE



COLORIR



ESCREVA O NOME:

MARECHAL MANUEL DEODORO DA FONSECA



E. M. "PROF. CALIL RAHAL NETO"

NOME: _____

PROFESSORA: ANA PAULA

TURMA: 1º ANO B

DATA: 16/11/2021

ATIVIDADE 1

LÍNGUA PORTUGUESA

1-CIRCULE AS PALAVRAS INICIADAS COM **S**:

TEM NO SAPO E NO SAPATO,
TEM NA SERRA E NO SERROTE.
TEM NO SACO E NA SACOLA,
TEM NA SAIA E NO SAIOTE.

2- UMA A LETRA **S** COM CADA VOGAL E FORME AS SÍLABAS:

S	A	
	E	
	I	
	O	
	U	



E. M. "PROF. CALIL RAHAL NETO"

NOME: _____

PROFESSORA: ANA PAULA

TURMA: 1º ANO B DATA: 16/11/2021

ATIVIDADE 2:
CIÊNCIAS: HIGIENE E SAÚDE

- LEIA O TEXTO E, DEPOIS, RESPONDA:



BETO VAI JANTAR.

SUAS MÃOS ESTÃO SUJAS.

ELE LAVA AS MÃOS NA PIA COM
ÁGUA E SABÃO.

- A) QUAL É O NOME DO MENINO?

- B) MARQUE COM UM X O QUE O MENINO ESTÁ LAVANDO.

PÉS

MÃOS

- C) ONDE ELE LAVA AS MÃOS?

NA _____



E. M. "PROF. CALIL RAHAL NETO"

NOME: _____

PROFESSORA: ANA PAULA

TURMA: 1º ANO B


DATA: 17/11/2021

ATIVIDADE1

HISTÓRIA

1- FAÇA A LEITURA DO TEXTO INFORMATIVO E DÊ UM COLORIDO BEM BONITO:

Dia da Bandeira



O Dia da Bandeira, comemorado anualmente no dia 19 de novembro, é uma homenagem à bandeira brasileira, que foi criada logo após a Proclamação da República, em 15 de novembro de 1889.

Assim, o Dia da Bandeira passou a ser comemorado somente após a Proclamação da República. Como a nova bandeira brasileira foi apresentada no dia 19 de novembro de 1889, essa data foi escolhida como o Dia da Bandeira.



E. M. "PROF. CALIL RAHAL NETO"

NOME: _____

PROFESSORA: ANA PAULA

TURMA: 1º ANO B

DATA: 17/11/2021

ATIVIDADE 2

HISTÓRIA

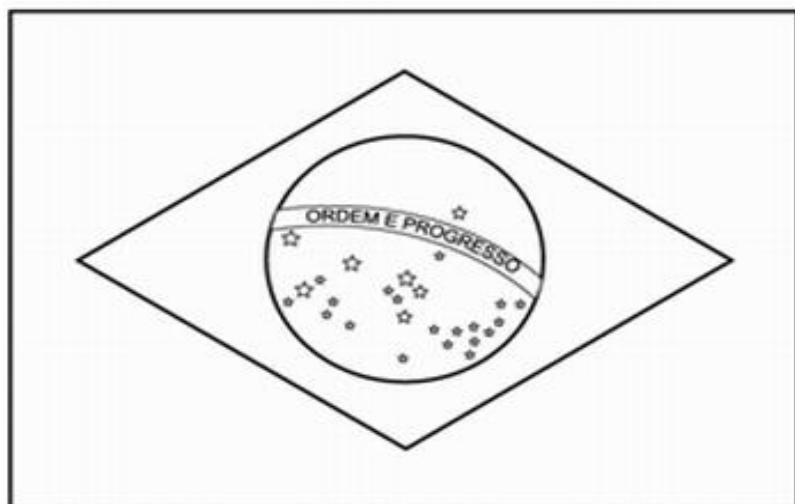
19 DE NOVEMBRO- DIA DA BANDEIRA DO BRASIL

DESDE BEM PEQUENO
DEVEMOS APRENDER
QUE AMAR A BANDEIRA
É O NOSSO DEVER!



CELEBRAMOS NO DIA 19 DE NOVEMBRO, O DIA DA BANDEIRA DO BRASIL. A BANDEIRA É UM DOS SÍMBOLOS DA NOSSA PÁTRIA. SUAS CORES SÃO: VERDE, AMARELO, AZUL E BRANCO.

-PINTE A BANDEIRA CONFORME AS CORES:





E. M. "PROF. CALIL RAHAL NETO"

NOME: _____

PROFESSORA: ANA PAULA

TURMA: 1º ANO B

DATA: 18/11/2021


ATIVIDADE1

MATEMÁTICA

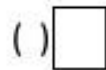
1- MARQUEM X NO ÚNICO OBJETO QUE TEM A FORMA DIFERENTE DOS
DEMAIS:



2- Veja as figuras que Carlos desenhou:



Marque um x na figura que mostra o quadrado:



3- Quem está segurando a bandeira com a mão esquerda. Marque a resposta correta:



O MENINO.

A MENINA.



E. M. "PROF. CALIL RAHAL NETO"

NOME: _____

PROFESSORA: ANA PAULA


TURMA: 1º ANO B

DATA: 18/11/2021

ATIVIDADE 2

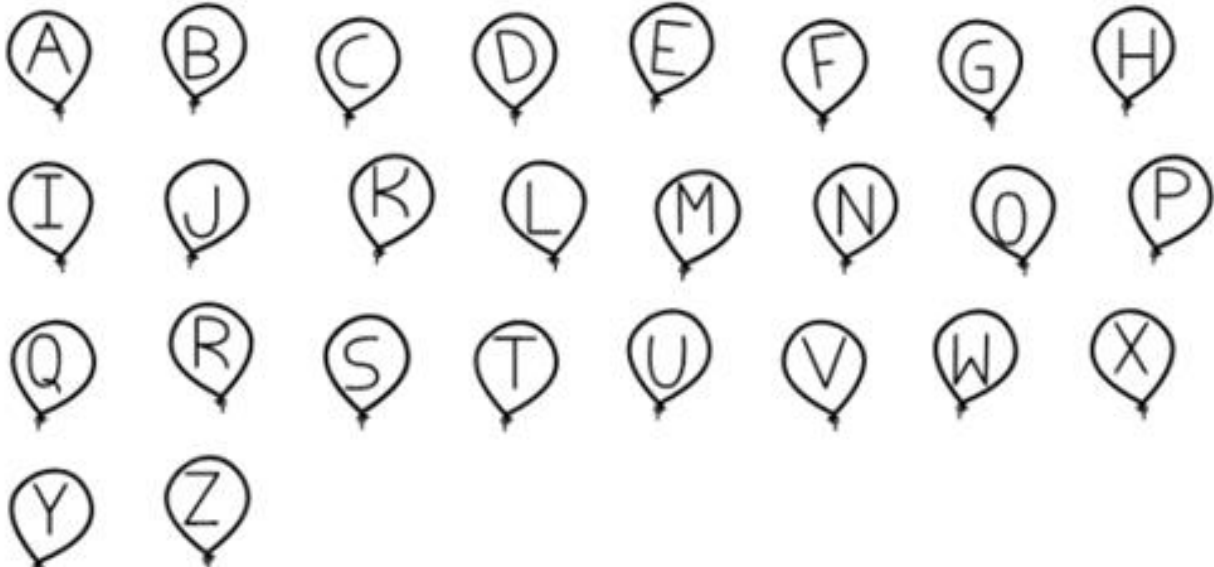
LÍNGUA PORTUGUESA

PINTE A BANDEIRA DO BRASIL.



BRASIL

PINTE AS LETRAS DA PALAVRA BRASIL.





E. M. "PROF. CALIL RAHAL NETO"

NOME: _____

PROFESSORA: ANA PAULA

TURMA: 1º ANO

DATA: 19/11/2021

ATIVIDADE 1

HISTÓRIA



DIA DA BANDEIRA DO BRASIL

1- RESPONDA COM ATENÇÃO!

QUAIS SÃO AS CORES DA BANDEIRA DO BRASIL?

2- QUE FRASE ESTÁ ESCRITA NA BANDEIRA DO BRASIL?

3- PINTE CADA QUADRO NA COR QUE INDICA SEU SIGNIFICADO:

NOSSAS
MATAS E
FLORESTAS

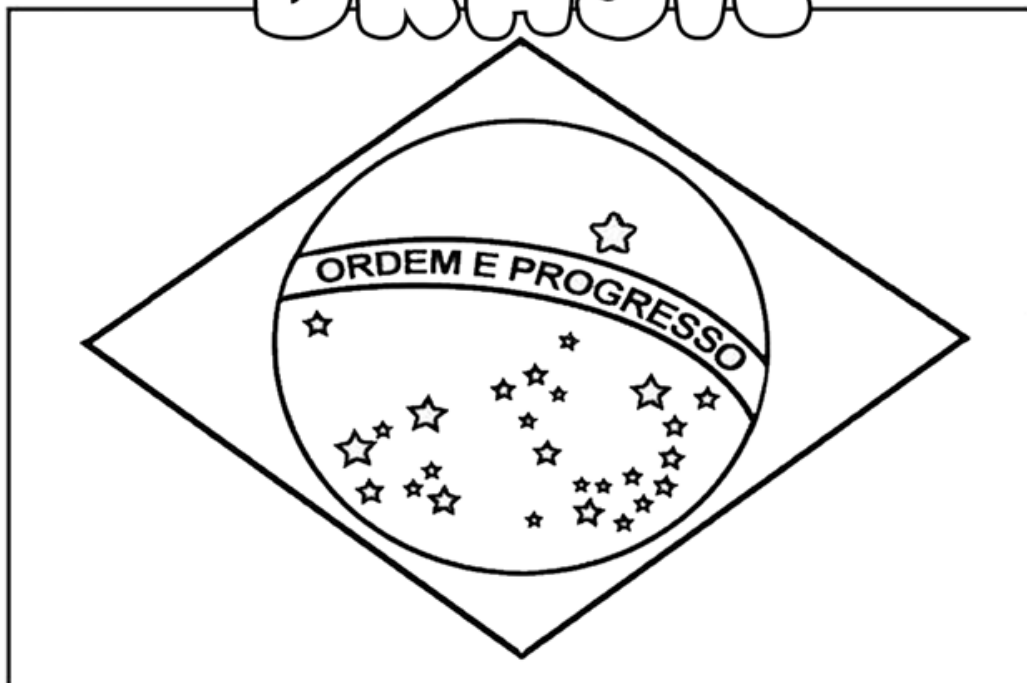
NOSSAS
RIQUEZAS

NOSSO CÉU

PAZ

4- VAMOS
COLORIR?

BRASIL





E. M. "PROF. CALIL RAHAL NETO"

NOME: _____

PROFESSORA: ANA PAULA

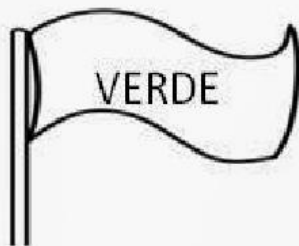
TURMA: 1º ANO B

DATA: 19/11/2021

ATIVIDADE 2

DIA DA BANDEIRA

1. LIGUE OS SIGNIFICADOS DE CADA COR DA BANDEIRA NACIONAL



OURO E RIQUEZAS

CÉU

PAZ

MATAS E FLORESTAS





E. M. "PROF. CALIL RAHAL NETO"

NOME: _____

PROFESSORA: ANA PAULA

TURMA: 1º ANO B DATA: 22/11/2021

ATIVIDADE 1

MATEMÁTICA

✍ RESOLVA AS SUBTRAÇÕES:


A) Havia um grupo de 8 abelhas. Duas foram embora.

$$8 - 2 =$$



B) Um velhinho estava com 9 balões na mão
4 voaram.

$$9 - 4 =$$



C) Um menino tinha 7 bolinhas. Perdeu 2.

$$7 - 2 =$$



D) Havia 5 pipas no ar. 1 arrebitou a linha.

$$5 - 1 =$$





E. M. "PROF. CALIL RAHAL NETO"

NOME: _____

PROFESSORA: ANA PAULA

TURMA: 1º ANO B

DATA: 22/11/2021

ATIVIDADE 2

LÍNGUA PORTUGUESA


TRAVA -LÍNGUAS

ALÔ, O TATU TÁ AÍ?

NÃO O TATU NÃO TÁ!

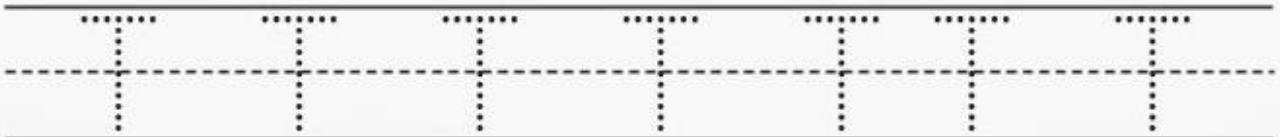
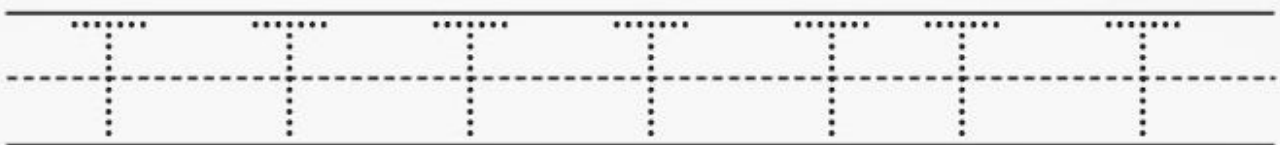
MAS A MULHER DO TATU TANDO,

É O MESMO QUE O TATU TÁ!




PINTE AS LETRAS T DO TEXTO:

QUANTAS LETRAS VOCÊ PINTOU?



PINTE O MENOR TATU





E. M. "PROF. CALIL RAHAL NETO"

NOME: _____

PROFESSORA: ANA PAULA

TURMA: 1º ANO B

DATA: 23/11/2021

ATIVIDADE 1

MATEMÁTICA

1-RESOLVA AS SITUAÇÕES PROBLEMAS:

JÚLIO 	TINHA 	PERDEU 	FICOU COM -
MARIANA 	TINHA 	COMPROU MAIS 	FICOU COM +
CÉSAR 	TINHA 	DEU 	FICOU COM -
RONALDO 	TINHA 	GANHOU MAIS 	FICOU COM +
MÁRIO 	TINHA 	COMEU 	FICOU COM -



E. M. "PROF. CALIL RAHAL NETO"

NOME: _____

PROFESSORA: ANA PAULA

TURMA: 1º ANO B DATA: 23/11/2021

ATIVIDADE 2

CIÊNCIAS

O TEMPO


O TEMPO PASSA POR MUDANÇAS DIVERSAS. INCLUSIVE POR MUDANÇA DE CLIMÁTICA. ALÉM DAS ESTAÇÕES DO ANO, O TEMPO PODE MUDAR DE CLIMA ALGUMAS VEZES, NUM MESMO DIA.



- LIGUE OS DESENHOS AOS SEUS SIGNIFICADOS.



● CHUVOSO



● NUBLADO



● ENSOLARADO



E. M. "PROF. CALIL RAHAL NETO"

NOME: _____

PROFESSORA: ANA PAULA

TURMA: 1º ANO B

DATA: 24/11/2021

ATIVIDADE 1

CIÊNCIAS

1 - OLHANDO ATRAVÉS DA JANELA, PINTE A PLAQUINHA QUE INDICA COMO ESTÁ O TEMPO.



CHUVOSO

NUBLADO

ENSOLARADO

2 - OLHE ATRAVÉS DA SUA JANELA E DESENHE A PAISAGEM INDICANDO COMO ESTÁ O DIA HOJE.





E. M. "PROF. CALIL RAHAL NETO"

NOME: _____







PROFESSORA: ANA PAULA

TURMA: 1º ANO B

DATA: 24/11/2021

ATIVIDADE 2
MATEMÁTICA

OBSERVE OS PREÇOS DOS PRODUTOS DA LANCHONETE DA ESCOLA:

<p>SUCO</p>  <p>R\$ 4</p>	<p>REFRIGERANTE</p>  <p>R\$ 5</p>	<p>PICOLÉ</p>  <p>R\$ 2</p>
<p>PIPOCA</p>  <p>R\$ 1</p>	<p>SANDUÍCHE</p>  <p>R\$ 4</p>	<p>BOLO</p>  <p>R\$ 3</p>

1. QUAL O PRODUTO MAIS CARO? 2. QUAL O PRODUTO MAIS BARATO?

3. QUAIS OS PRODUTOS CUSTAM O MESMO VALOR?

4. SE VOCÊ COMPRAR UM PICOLÉ E UMA FATIA DE BOLO,
QUANTO GASTARÁ?



E. M. "PROF. CALIL RAHAL NETO"

NOME: _____

PROFESSORA: ANA PAULA

TURMA: 1º ANO B

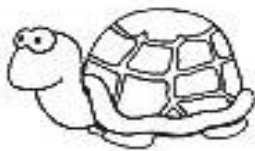
DATA: 25/11/2021

ATIVIDADE 1

1-COPIE COM CAPRICO A FAMÍLIA DA LETRA T:

TA	TE	TI	TO	TU

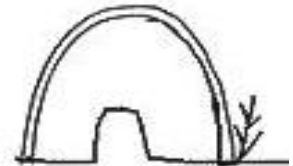
**COMPLETE AS PALAVRAS COM AS SÍLABAS
TA - TE - TI - TO OU TU**



___RTARUGA



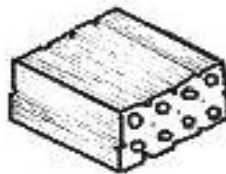
___ TU



___CA



___MATE



___JOLO




___IA



___URO



___PETE



___CANO



E. M. "PROF. CALIL RAHAL NETO"

NOME: _____

PROFESSORA: ANA PAULA

TURMA: 1º ANO B

DATA: 25/11/2021

ATIVIDADE 2


CIÊNCIAS

O DIA E A NOITE



Amor,
Durante o dia, o sol brilha para nos aquecer.
Passe guache amarelo no sol.



Amoreco,
Durante a noite, o céu fica salpicado de estrelas e a lua clareia com sua brilhante luz.
Cole estrelinhas de papel laminado prateado no céu.



- Ligar os desenhos às roupas que usamos durante o dia e à noite.





E. M. "PROF. CALIL RAHAL NETO"

NOME: _____

PROFESSORA: ANA PAULA


TURMA: 1º ANO B

DATA: 26/11/2021

ATIVIDADE 1

MATEMÁTICA

VAMOS COMPLETAR A SEQUÊNCIA NA ORDEM CRESCENTE'



			4	
			14	
				30



E. M. "PROF. CALIL RAHAL NETO"

NOME: _____

PROFESSORA: ANA PAULA


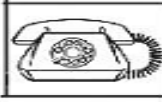
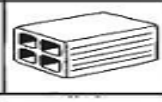


TURMA: 1º ANO B

DATA: 26/11/2021

ATIVIDADE 2

LÍNGUA PORTUGUESA

FORME AS SÍLABAS CORRETAMENTE:

T	A	_____	
	E	_____	
	I	_____	
	O	_____	
	U	_____	

COMPLETE COM **TA -TE- TI -TO-TU:**



□ □ Ç A



□ □ L E F O N E



□ □ J O L O



□ □ M A D A



□ □ B A R ã O



E. M. "PROF. CALIL RAHAL NETO"

NOME: _____

PROFESSORA: ANA PAULA


TURMA: 1º ANO B

DATA: 29/11/2021

ATIVIDADE 1

MATEMÁTICA

- A QUE HORAS VOCÊ REALIZA CADA UMA DAS ATIVIDADES ABAIXO? MARQUE UM X NO HORÁRIO E, DEPOIS, REGISTRE NO RELÓGIO DIGITAL.

COLUNA 1	COLUNA 2	COLUNA 3
EU ACORDO E ME LEVANTO ÀS... 	<input type="radio"/> 7 HORAS <input type="radio"/> 8 HORAS <input type="radio"/> 9 HORAS	
EU ALMOÇO ÀS... 	<input type="radio"/> 10 HORAS <input type="radio"/> 11 HORAS <input type="radio"/> 12 HORAS	
VOU PARA A ESCOLA ÀS... 	<input type="radio"/> 7 HORAS <input type="radio"/> 12 HORAS <input type="radio"/> 13 HORAS	
VOU DORMIR ÀS... 	<input type="radio"/> 20 HORAS <input type="radio"/> 21 HORAS <input type="radio"/> 22 HORAS	



E. M. "PROF. CALIL RAHAL NETO"

NOME: _____

PROFESSORA: ANA PAULA

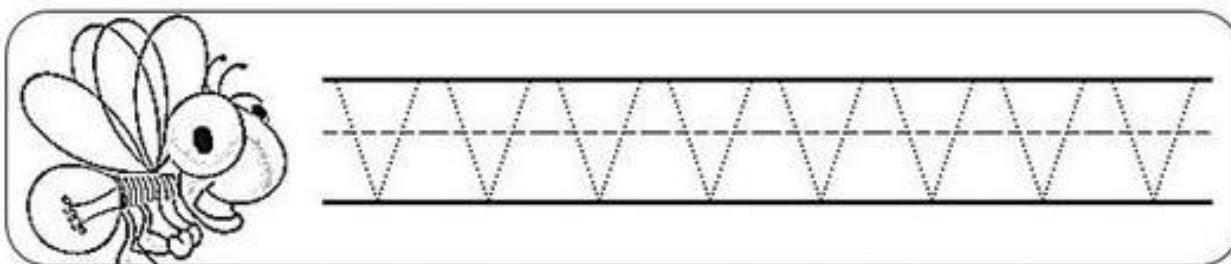
TURMA: 1º ANO B

DATA: 29/11/2021

ATIVIDADE 2

LÍNGUA PORTUGUESA













1. SIGA O PONTILHADO



2. JUNTANDO AS LETRINHAS FORMAMOS AS SÍLABAS

+	A	E	I	O	U
V					

3. COMPLETE AS PALAVRAS COM AS SÍLABAS

 CA__LO	 GA__TA	 __RAL	 U__
 O__S	 PA__O	 __LA	 NA__O
 ____	 __GÃO	 __SO	 NO__



E. M. "PROF. CALIL RAHAL NETO"

NOME: _____

PROFESSORA: ANA PAULA

TURMA: 1º ANO B

DATA: 30/11/2021

ATIVIDADE 1

LÍNGUA PORTUGUESA









1-COPIE COM CAPRICO A FAMÍLIA DA LETRA V:

VA	VE	VI	VO	VU



VAMOS COMPLETAR AS PALAVRAS:

VA - VE - VI - VO - VU





E. M. "PROF. CALIL RAHAL NETO"

NOME: _____

PROFESSORA: ANA PAULA


TURMA: 1º ANO B

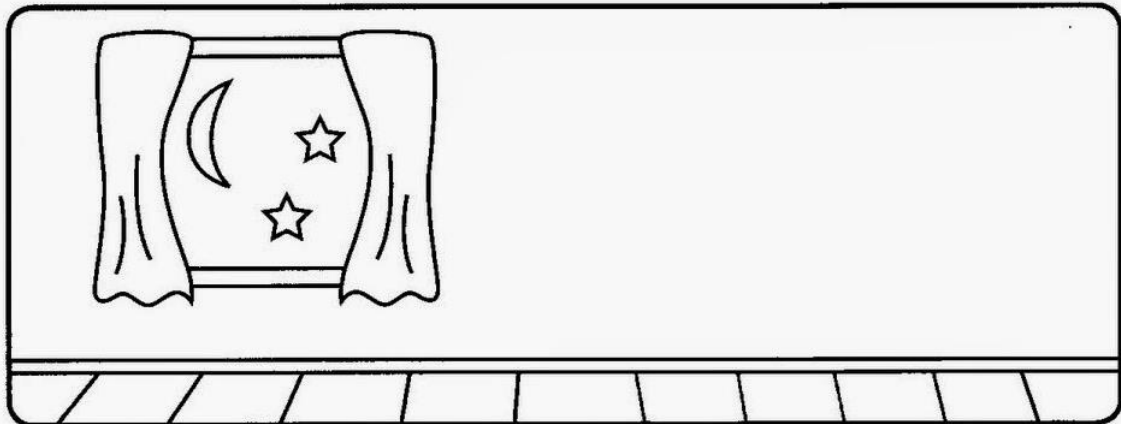
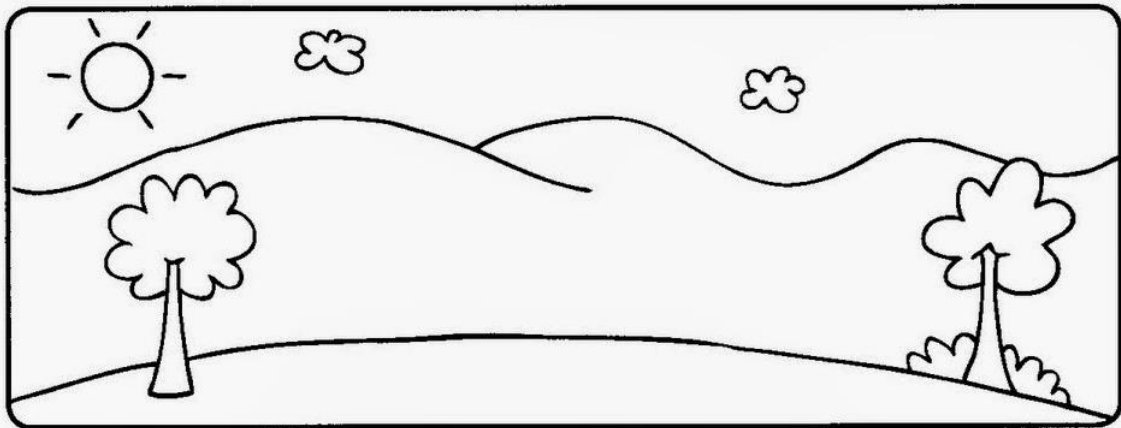
DATA: 30/11/2021

ATIVIDADE 2

CIÊNCIAS

DIA OU NOITE

 PINTE AS CENAS, RECORTE AS FIGURAS ABAIXO E COLE-AS NOS QUADROS DE ACORDO COM ATIVIDADES QUE FAZEMOS DURANTE O DIA E À NOITE.



REFERÊNCIAS DE PESQUISA

<https://www.alfabetizacaoonline.com/2021/05/21/atividades-de-geografia-1-ano/>

<https://www.atividadesmatematica.com/2015/09/avaliacao-1-ano-ensino-fundamental.html>

<http://ensinoja.com/atividades-matematica-2-ano-situacoes-problema/>

<https://www.espacoprofessor.com/atividades-dia-da-bandeira-educacao-infantil-para-baixar/>

www.ensinoreaprender.com.br/atividades-de-adicao-e-subtracao-para-o-1o-ano/atividade-de-matematica-1-ano-observando-e-respondendo/

<https://br.pinterest.com/pin/290411875949569310/>

<http://divisanova.mg.gov.br/donasanta/?p=18257>

<https://i2.wp.com/www.espacoprofessor.com/wp-content/uploads/2020/10/corecao.png?resize=640%2C924&ssl=1>

<https://i.pinimg.com/originals/db/6a/c5/db6ac509c2e165f3a63da65199b57aa1.jpg>

<https://www.smartkids.com.br/colorir/desenho-proclamacao-da-republica-marechal-deodoro-fonseca>

<https://br.pinterest.com/pin/793196553098597324/>

<https://br.pinterest.com/pin/5840674504014969/>

https://www2.bauru.sp.gov.br/arquivos/arquivos_site/sec_educacao/atividades_pedagogica_distancia

<https://br.pinterest.com/mauriand/matem%C3%A1tica/>

<https://www.aartedeensinareaprender.com/2020/04/atividade-pronta-soma-e-subtracao.html>