

MINHAS ATIVIDADES



DATAS COMEMORATIVAS DO MÊS
02 – FINADOS 15 PROCLAMAÇÃO DA REPÚBLICA
20 – CONSCIÊNCIA NEGRA

DOM	SEG	TER	QUA	QUI	SEX	SAB
	1	2	3	4	5	6
7	8	9	10	11	12	13
14	15	16	17	18	19	20
21	22	23	24	25	26	27
28	29	30				

14ª APOSTILA DE ATIVIDADES
2º ANO B
REFERENTE AOS DIAS:
08,09,10,11,12,16,17,18,19,22,23,24,25,26 e 29/11/2021.

NOME: _____

TURMA: _____ PROFESSORA: _____

NOME: _____

DATA: 08/11/2021

ATIVIDADE 1

LÍNGUA PORTUGUESA

FAMÍLIA, FAZER A LEITURA COM A CRIANÇA E LOGO APÓS **PERGUNTAR ONDE ESTÁ ESCRITO** CASA, **CACO, MACACO, BONITA, CABRITA, CIMENTO, JUMENTO, TELHA, ABELHA, LATA, BARATA**, **ELEGANTE, ELEFANTE, DE REPENTE E GENTE. DEIXAR A CRIANÇA PROCURAR SOZINHA, SOMENTE DAR ALGUMAS DICAS. PEDIR PARA PINTAR AS PALAVRAS QUE RIMAM DA MESMA COR.**

A CASA E SEU DONO

ELIAS JOSÉ



ESSA CASA É DE CACO
QUEM MORA NELA É O MACACO.



ESSA CASA É BONITA
QUEM MORA NELA É A CABRITA.



ESSA CASA É DE CIMENTO
QUEM MORA NELA É O JUMENTO.



ESSA CASA É DE TELHA
QUEM MORA NELA É A ABELHA.



ESSA CASA É DE LATA
QUEM MORA NELA É A BARATA.



ESSA CASA É ELEGANTE
QUEM MORA NELA É O ELEFANTE.

E DESCOBRI DE REPENTE
QUE NÃO FALEI EM CASA DE GENTE.



ATIVIDADE 2

MATEMÁTICA

RETA NUMÉRICA



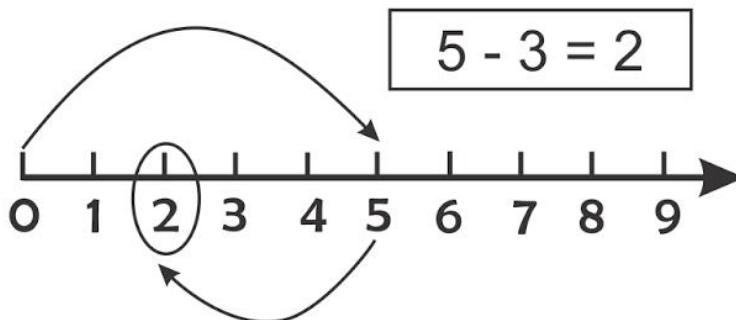
1-OBSERVE A RETA NUMÉRICA DE 0 A 9 E RESPONDA.

A) QUAIS NUMERAIS ESTÃO ANTES DO 7?

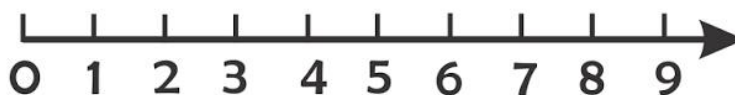
B) QUAIS NUMERAIS ESTÃO DEPOIS DO 2?

C) QUAIS OS NUMERAIS PARES?

2-RESOLVA AS OPERAÇÕES UTILIZANDO A RETA NUMÉRICA.



$7 - 5 =$



$5 - 5 =$



NOME: _____

DATA: 09/11/2021

ATIVIDADE 3

LÍNGUA PORTUGUESA

ESTUDO DAS RIMAS NO TEXTO

DESTAQUE DO POEMA PALAVRAS QUE RIMAM:



CACO RIMA COM

BONITA RIMA COM

CIMENTO RIMA COM

TELHA RIMA COM

LATA RIMA COM

ELEGANTE RIMA COM

REPENTE RIMA COM

SE NECESSÁRIO UTILIZE O BANCO DE PALAVRAS:

BANCO DE PALAVRAS

CACO
BONITA
CIMENTO
TELHA

MACACO
CABRITA
JUMENTO
ABELHA
LATA

ELEFANTE
REPENTE
BARATA
ELEGANTE
GENTE

ATIVIDADE 4

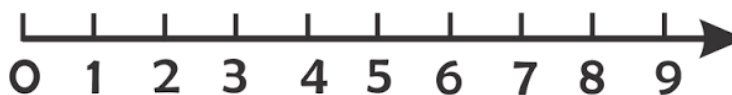
MATEMÁTICA

ADIÇÃO NA RETA NUMÉRICA

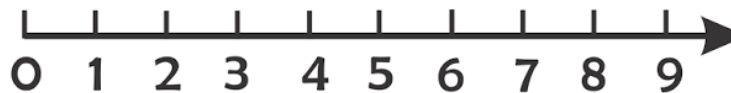
$$4 + 5 =$$



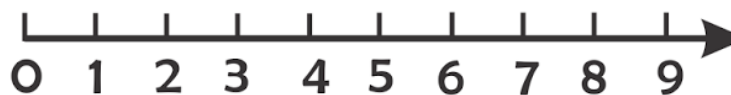
$$7 + 3 =$$



$$6 + 1 =$$



$$4 + 3 =$$



3-PINTE NAS RETAS NUMÉRICAS.

TODOS OS NUMERAIS PARES



TODOS OS NUMERAIS ÍMPARES



NOME: _____

DATA: 10/11/2021

ATIVIDADE 5

LÍNGUA PORTUGUESA

1) PROFESSOR, ESCOLHA OS ALUNOS PARA FAZER A LEITURA DO POEMA DIVIDIDO POR ESTROFES.

A CASA E SEU DONO

ESSA CASA É DO CACO
QUEM MORA NELA É O MACACO.
ESSA CASA É TAO BONITA
QUEM MORA NELA É A CABRITA.
ESSA CASA É DE CIMENTO
QUEM MORA NELA É O JUMENTO.
ESSA CASA É DE TELHA
QUEM MORA NELA É A ABELHA.
ESSA CASA É DE LATA
QUEM MORA NELA É A BARATA.
ESSA CASA É ELEGANTE
QUEM MORA NELA É O ELEFANTE.
E DESCOBRI DE REPENTE
QUE NÃO FALEI EM CASA DE GENTE.

AGORA PASSE UMA
LINHA EM VOLTA DOS
NOMES DE ANIMAIS
QUE VOCÊ ENCONTRAR.



ELIAS JOSÉ

TRABALHANDO COM O TEXTO.

A) QUAL O TÍTULO DO POEMA?

B) QUANTAS RIMAS ELE TEM?

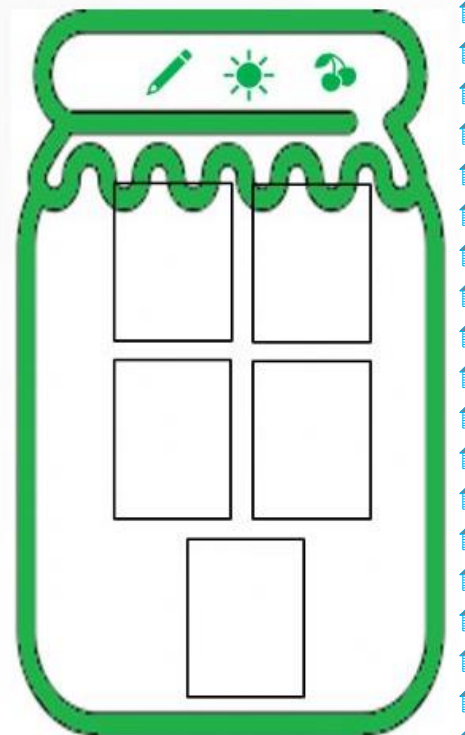
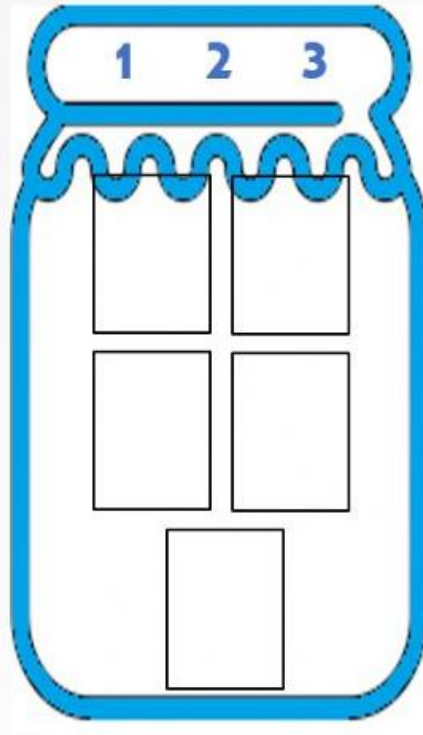
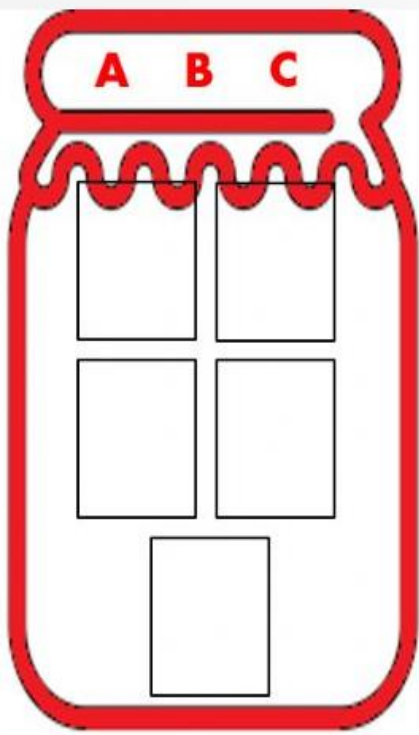
C) ESCREVA A PALAVRA QUE MAIS SE REPETE NO TEXTO.

ATIVIDADE 6

LETRAS E NÚMEROS

QUE BAGUNÇA! CADA UM TEM QUE ESTAR NA SUA CASA!
VAMOS ORGANIZAR?

RECORTE, SEPARE E COLE EM CADA POTE AS LETRAS, OS
NÚMEROS E OS DESENHOS:



NOME: _____

DATA: 11/11/2021

ATIVIDADE 7
LÍNGUA PORTUGUESA
TRABALHANDO A ORDEM ALFABÉTICA

1- COPIE EM ORDEM ALFABÉTICA, O NOME DOS ANIMAIS QUE APARECEM NO POEMA.

2- CIRQUE O NOME DO ANIMAL:



ELEFANTE

CABRITA


MACACO



ABELHA

CABRITA

MACACO



ABELHA

CABRITA

BARATA



JUMENTO

CABRITA

MACACO



ELEFANTE

JUMENTO

ABELHA

3- COMPLETE A FRASE COM O NOME DE UM DOS ANIMAIS.

ESSA CASA NÃO É MINHA. QUEM MORA NELA É A _____



PATA



PERUA



GALINHA

ATIVIDADE 8
MATEMÁTICA/ CIÊNCIAS

1- VEJA O TEMPO DE VIDA DOS ANIMAIS DO POEMA.

ANIMAL	TEMPO DE VIDA
ABELHA	DE 4 A 5 ANOS
BARATA	DE 1 A 2 ANOS
CABRITA	17 ANOS
ELEFANTE	DE 100 A 120 ANOS
JUMENTO	DE 20 A 30 ANOS
MACACO	DE 10 A 12 ANOS

A) PINTE DE AMARELO O NOME DO ANIMAL QUE VIVE MAIS.

B) PINTE DE VERDE O NOME DO ANIMAL QUE VIVE MENOS.

2- ESCREVA OS NÚMEROS DA TABELA EM ORDEM CRESCENTE.

3- AINDA USANDO OS NÚMEROS DA TABELA, ESCREVA O ANTECESSOR E SUCESSOR DE CADA UM.

_____ 4 _____ _____ 30 _____ _____ 100 _____ _____ 12 _____
 _____ 20 _____ _____ 5 _____ _____ 17 _____ _____ 120 _____

4- USE OS SINAIS > E < .

4 5 18 17 100 120
 2 1 20 30 12 10



NOME: _____

DATA: 12/11/2021

ATIVIDADE 9

LÍNGUA PORTUGUESA

1- PINTE DA MESMA COR AS PALAVRAS IGUAIS.

CASA	BONITA	MACACO	<i>barata</i>	<i>lata</i>
CACO	ELEFANTE	<i>casa</i>	<i>bonita</i>	<i>macaco</i>
BARATA	LATA	<i>caca</i>	<i>elefante</i>	

2- REESCREVA AS FRASES COLOCANDO OS ESPAÇOS CORRETAMENTE:

ESSACASAÉDECACO

QUEMMORANELAÉOMACACO

ATIVIDADE 10

MATEMÁTICA

CALENDÁRIO, DIAS DA SEMANA

- 1- VERIFIQUE QUAL DIA DA SEMANA QUE INICIA O MÊS DE NOVEMBRO, E COMPLETE O CALENDÁRIO.



<u>DOMINGO</u>	<u>SEGUNDA</u>	<u>TERÇA</u>	<u>QUARTA</u>	<u>QUINTA</u>	<u>SEXTA</u>	<u>SÁBADO</u>

- 2- QUAIS SÃO OS DIAS DA SEMANA? _____,

_____, _____, _____,

_____, _____, _____,

- 3- QUANTOS DIAS TEM UMA SEMANA?

- 4- E SE FOR DUAS SEMANAS, SERÃO QUANTOS DIAS?

- 5- ESSE MÊS DE NOVEMBRO MARCOU A HISTÓRIA EM IBIÚNA, POIS FICAMOS MUITO TEMPO SEM IR PARA ESCOLA, POR CAUSA DA PANDEMIA COVID 19. AGORA VOLTAMOS PARA AS AULAS PRESENCIAIS, PINTE O DIA QUE VOLTAMOS PARA AS AULAS.

NOME: _____

DATA: 16/11/2021


ATIVIDADE 11

LÍNGUA PORTUGUESA

1- COMPLETE COM AS CONSOANTES QUE ESTÃO FALTANDO:



__A__ A __ O



__A__ A __ A




__A__ A

2- COMPLETE COM AS VOGAIS QUE ESTÃO FALTANDO:



M__ C __ C__


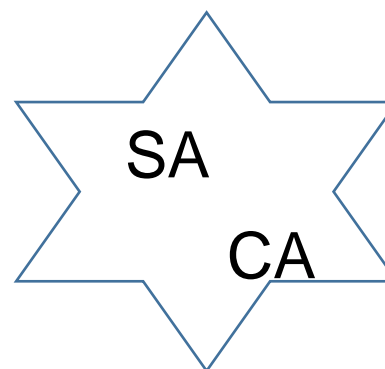
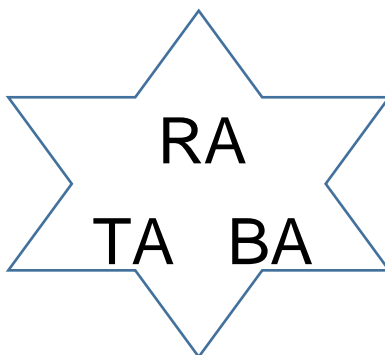
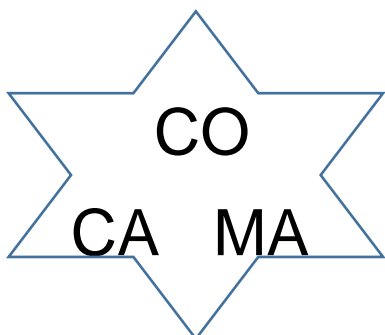


B__ R __ T__



C__ S__

3- ORDENE AS SÍLABAS FORMANDO AS PALAVRAS.



ATIVIDADE 12

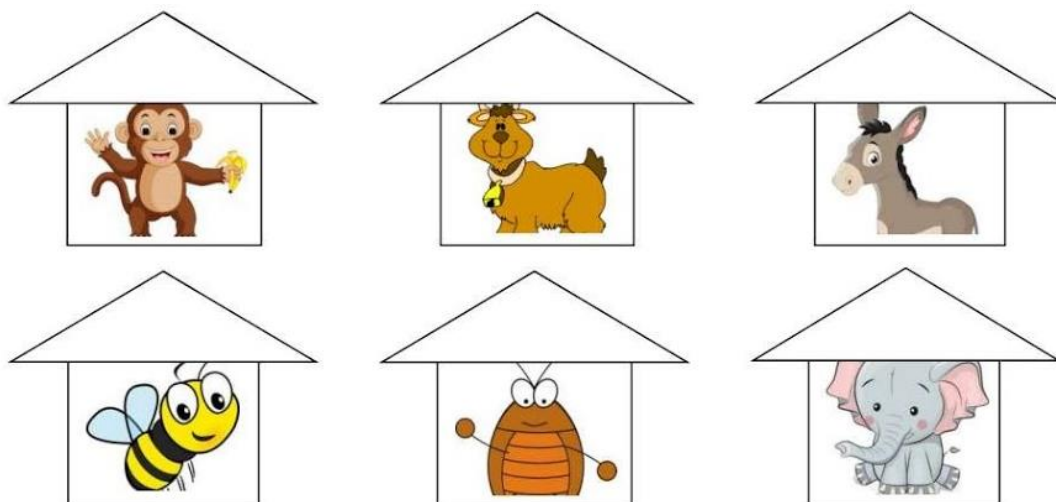
MATEMÁTICA

ORDEM E POSIÇÃO

1- COLOQUE OS NOMES DOS ANIMAIS NAS POSIÇÕES CORRETAS DE ACORDO EM QUE APARECEM NO POEMA.

<u>1º</u>		<u>4º</u>	
<u>2º</u>		<u>5º</u>	
<u>3º</u>		<u>6º</u>	

2- AGORA ESCREVA NO TELHADO OS NÚMEROS ORDINAIS DE ACORDO COM A COLOCAÇÃO DE CADA UM NO POEMA, DEPOIS PINTE AS CASINHAS COM OS NÚMEROS PARES DE AZUL E AS CASINHAS COM OS NÚMEROS ÍMPARES DE VERMELHO.



3- QUAL A FORMA GEOMÉTRICA QUE ESTÁ REPRESENTADA NO TELHADO DAS CASINHAS? CIRCULE.

CIRCULO TRIÂNGULO QUADRADO RETÂNGULO

NOME: _____

DATA: 17/11/2021 ATIVIDADE 13

LÍNGUA PORTUGUESA


1- FORME NOVAS PALAVRAS, TROCANDO A PRIMEIRA LETRA:

GENTE	LATA
__ENTE	__ATA
__ENTE	__ATA
__ENTE	__ATA

2- ENCONTRE OS NOMES DOS ANIMAIS DO CAÇA PALAVRAS:



M	A	C	A	C	O	Y	U	O	P	L
A	X	Z	A	R	T	Y	U	I	W	O
B	S	C	A	B	R	I	T	A	R	D
E	N	L	K	N	I	Q	A	H	C	V
L	J	U	M	E	N	T	O	B	O	X
H	Z	T	R	I	U	O	P	A	S	T
A	K	B	A	R	A	T	A	Z	T	Y
G	T	F	D	S	T	U	M	N	O	P
G	S	E	L	E	F	A	N	T	E	R




ATIVIDADE 14

MATEMÁTICA

RECORTE NA PRÓXIMA PÁGINA A REPRESENTAÇÃO COM MATERIAL DOURADO E COLE NO NÚMERO CORRESPONDENTE:



VAMOS COLAR? 

DEZENA	UNIDADE
5	2

--

VAMOS COLAR? 

DEZENA	UNIDADE
3	6

--

VAMOS COLAR? 

DEZENA	UNIDADE
4	0

--

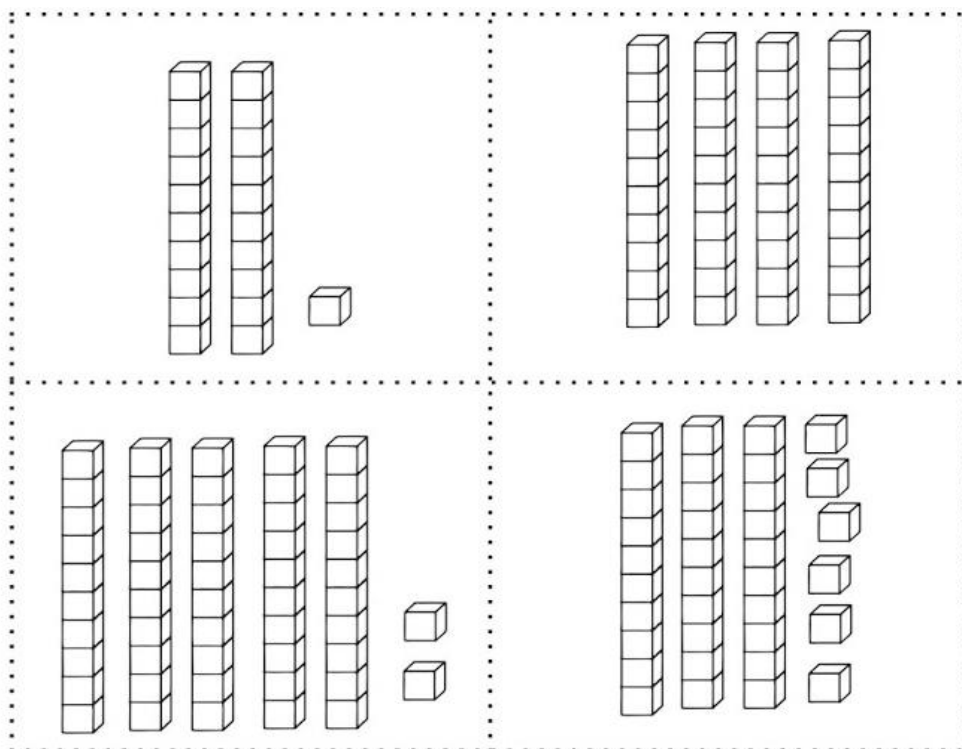
VAMOS COLAR? 

DEZENA	UNIDADE
2	1

--

ANEXO DA ATIVIDADE 14

RECORTAR E COLAR NA ATIVIDADE ANTERIOR




NOME: _____

DATA: 18/11/2021

ATIVIDADE 15


LÍNGUA PORTUGUESA

RECORTE AS LETRAS MÓVEIS, MONTE OS NOMES DOS ANIMAIS



A	A	A	A	A	A	A
A	A	A	E	E	E	E
E	I	O	O	U	M	M
C	C	C	B	B	B	R
R	T	T	T	T	L	L
F	N	N	J	H		


ATIVIDADE 16 MATEMÁTICA



NÚMERO PAR: QUANDO FORMAMOS GRUPOS DE 2 EM 2 ELEMENTOS E NÃO FICA RESTO, DIZEMOS QUE ESSE **NUMERAL É PAR**. TODOS OS NÚMEROS TERMINADOS EM **0,2,4,6,8** SÃO PARES

NÚMERO ÍMPAR: QUANDO FORMAMOS GRUPOS DE 2 EM 2 ELEMENTOS E SOBRA 1 ELEMENTO, DIZEMOS QUE ESSE **NUMERAL É ÍMPAR**. TODOS OS NÚMEROS TERMINADOS EM **1,3,5,7,9** SÃO ÍMPARES


1- CONTE OS ELEMENTOS DE CADA CONJUNTO, REGISTRE O NUMERAL, SEPARE OS ELEMENTOS DOS CONJUNTOS DE 2 EM 2 E MARQUE SE ELE É PAR OU ÍMPAR.




NUMERAL: _____
() PAR () ÍMPAR



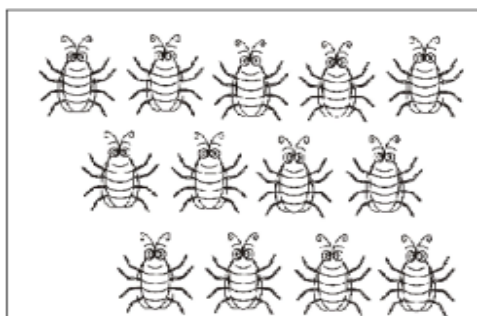
NUMERAL: _____
() PAR () ÍMPAR




NUMERAL: _____
() PAR () ÍMPAR



NUMERAL: _____
() PAR () ÍMPAR



NUMERAL: _____
() PAR () ÍMPAR



NUMERAL: _____
() PAR () ÍMPAR

NOME: _____

DATA: 19/11/2021

ATIVIDADE 17
LÍNGUA PORTUGUESA

1. LEIA O TRECHO DO POEMA:

A CASA E SEU DONO

ESSA CASA É DE CACO

QUEM MORA NELA É O **MACACO**.

ESSA CASA É DE CIMENTO

QUEM MORA NELA É O **JUMENTO**.




ESSA CASA É ELEGANTE

QUEM MORA NELA É O **ELEFANTE**

...



2. CONTE O NÚMERO DE LETRAS E SÍLABAS DO NOME DE CADA ANIMAL ABAIXO, DEPOIS REGISTRE.

DESENHO	PALAVRA	Nº DE LETRAS	Nº DE SÍLABAS
	MACACO		
	JUMENTO		
	ELEFANTE		


ATIVIDADE 18

ARTE



VAMOS FALAR UM POUCO SOBRE PONTO, LINHAS E CORES. O PONTO É O PRIMEIRO ELEMENTO IMPORTANTE PARA A PRODUÇÃO ARTÍSTICA, MUITOS ARTISTAS USAM O PONTO NA REALIZAÇÃO DE SUAS OBRAS DE ARTE, ASSIM COMO A LINHA E A CORES. INICIAMOS O DESENHO A PARTIR DE UM PONTO QUE NADA MAIS É UM SINAL DEIXADO EM UMA SUPERFÍCIE ATRAVÉS DO LÁPIS, CANETA ENTRE OUTROS. NÃO CONSEGUIMOS CRIAR UMA IMAGEM COM UM SÓ PONTO, MAIS PODEMOS CRIAR IMAGENS COM VÁRIOS PONTOS. TAMBÉM PODEMOS LIGAR UM PONTO AO OUTRO COM UMA LINHA FORMANDO ASSIM UMA IMAGEM (FIGURA) E USAR VÁRIAS CORES PARA TER UMA OBRA DE ARTE BEM COLORIDA E HARMONIOSA.

LOGO ABAIXO ESTÁ A ATIVIDADE DE HOJE, VOCÊS IRÃO LIGAR OS PONTOS PARA FORMAR O ANIMAL, NÃO ESQUEÇAM DE DESENHAR OLHOS, BOCA E MAIS ELEMENTOS QUE FORMAM O BICHINHO. EM SEGUIDA VOCÊS IRÃO COMPOR O CENÁRIO (LUGAR) ONDE ESSE ANIMAL VIVE, QUE É A CASA DELE. PINTE UTILIZANDO AS CORES DE SUA PREFERÊNCIA.



NOME: _____

DATA: 22/11/2021

ATIVIDADE 19

LÍNGUA PORTUGUESA

OBSERVE AS PALAVRAS DO POEMA, DEPOIS COMPLETE COM AS SÍLABAS QUE ESTÃO FALTANDO:



A

LHA



RA



BRI



E

FAN



GEN

MEN



CA

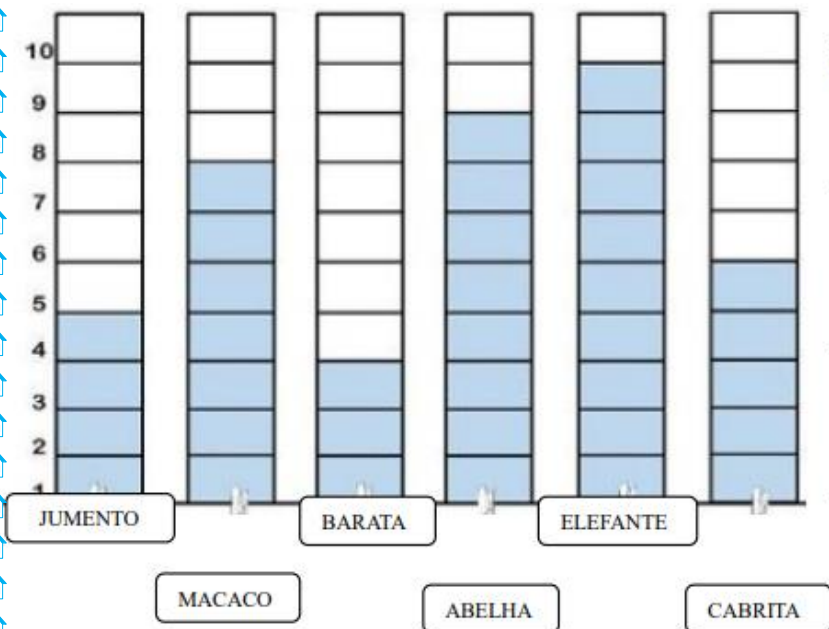


ATIVIDADE 20

MATEMÁTICA

GRAFICO E TABELA

1- A TURMA **A** FEZ UMA VOTAÇÃO PARA SABER A PREFERÊNCIA DE CADA ALUNO, OBSERVE: A CASA E SEU DONO




- QUAL FOI O ANIMAL MAIS VOTADO PELA TURMA?

- QUANTOS VOTOS ELE GANHOU?

- O ANIMAL MENOS VOTADO?

- QUANTOS VOTOS ELE GANHOU?

2- AGORA É A NOSSA VEZ, QUAIS SÃO OS ANIMAIS PREFERIDOS DO 2º ANO B ? SE VOCÊ ESTIVER EM CASA PODE FAZER COM A FAMÍLIA. APÓS FAZER A TABELA ORALMENTE COM A PROFESSORA NA LOUSA . PINTE UM QUADRINHO PARA CADA VOTO.



NOME: _____

DATA: 23/11/2021

ATIVIDADE 21

LÍNGUA PORTUGUESA

**A CASA
(Toquinho)**

**ERA UMA CASA
MUITO ENGRAÇADA
NÃO TINHA TETO
NÃO TINHA NADA**

**NINGUÉM PODIA
ENTRAR NELA NÃO
PORQUE NA CASA
NÃO TINHA CHÃO**

**NINGUÉM PODIA
DORMIR NA REDE
PORQUE NA CASA
NÃO TINHA PAREDE**

**NINGUÉM PODIA
FAZER PIPI
PORQUE PINICO
NÃO TINHA ALI**

**MAS ERA FEITA
COM MUITO ESMERO
NA RUA DOS BOBOS
NÚMERO ZERO.**



1- FAZER A LEITURA APONTADA DO TEXTO DESTACANDO O ESPAÇAMENTO ENTRE AS PALAVRAS E A DIREÇÃO DA ESCRITA.

CONVERSAR COM OS ALUNOS SOBRE:

POR ONDE O TEXTO DEVE COMEÇAR A SER LIDO?

COMENTAR QUE CADA VEZ QUE É APONTADO NO TEXTO, UMA PALAVRA É LIDA.

MOSTRAR QUE AS PALAVRAS SÃO ESCRITAS SEPARADAS.

DIALOGAR SOBRE O ASSUNTO PRINCIPAL.

2- CANTE COM SEUS COLEGAS A MÚSICA " A CASA".

3- ESCREVA ABAIXO O TÍTULO DA MÚSICA;


4- COMO ERA A CASA? DISCUTA COM SEUS AMIGOS.

5- QUAL A PRIMEIRA SÍLABA DA PALAVRA CASA? _____

ATIVIDADE 22

MATEMÁTICA

1 - PINTE AS FORMAS GEOMÉTRICAS E LIGUE AOS NOMES CORRETOS USANDO CORES DIFERENTES.




QUADRADO

RETÂNGULO

TRIÂNGULO

CÍRCULO

2 - CIRCULE OS OBJETOS QUE TÊM FORMATO RETANGULAR.



3 - COMPLETE A SEQUÊNCIA.



NOME: _____

DATA: 24/11/2021

ATIVIDADE 23

LÍNGUA PORTUGUESA



VAMOS LISTAR O QUE PODEMOS ENCONTRAR EM CADA CÔMODO DE UMA CASA:

SALA	QUARTO
<hr/> <hr/> <hr/> <hr/> <hr/>	<hr/> <hr/> <hr/> <hr/> <hr/>
COZINHA	BANHEIRO
<hr/> <hr/> <hr/> <hr/> <hr/>	<hr/> <hr/> <hr/> <hr/> <hr/>

ATIVIDADE 24


ARTE

A Casa Amarela é uma pintura a óleo do pintor holandês Vincent van Gogh, de setembro de 1888. Também tem a pintura de uma obra que ele mesmo fez, um dos cômodos da casa foi retratado em uma de suas mais conhecidas pinturas: Quarto em Arles.



AGORA. É COM VOCÊ:

DESENHE O COMODO DA CASA QUE VOCÊ MAIS GOSTA DE FICAR?

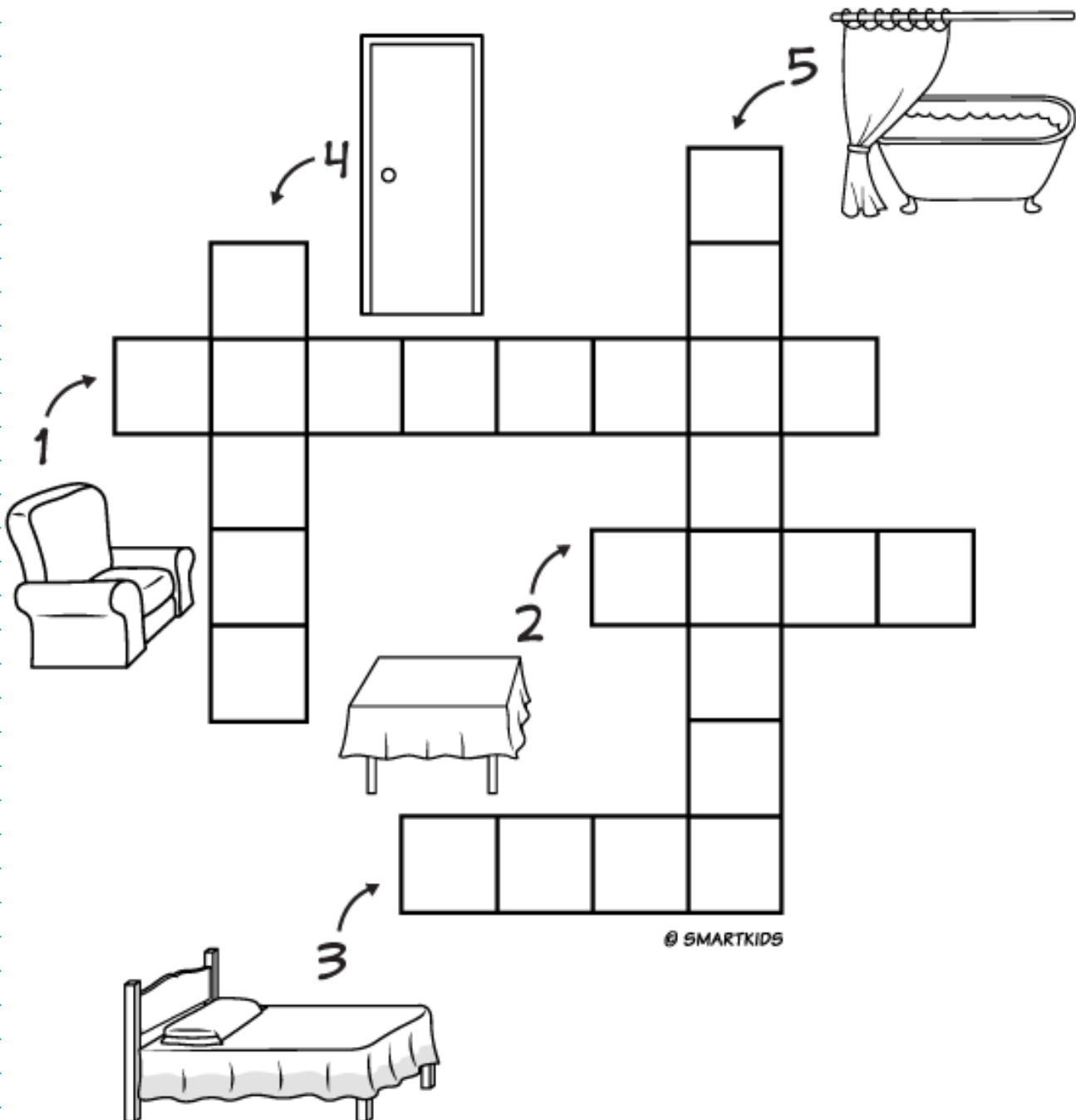


NOME: _____

DATA: 25/11/2021

ATIVIDADE 25 CRUZADINHA


Escreva corretamente no diagrama abaixo o nome de 5 elementos que são encontrados em uma casa:




ATIVIDADE 26
MATEMÁTICA
LATERALIDADE



1) PINTE SOMENTE QUEM ESTÁ INDO PARA A **ESQUERDA**.



3) AGORA, PINTE SOMENTE QUEM ESTÁ INDO PARA A **DIREITA**.



ORIENTAÇÕES PARA AS ATIVIDADES DOS LIVROS ÁPIS.

ATIVIDADES 27/28

CIÊNCIAS/ MATEMÁTICA

TEMPO/ HORAS

PÁGINAS:

- 91 EXERCÍCIOS 1 E 2;
- 92 EXERCÍCIO 1;
- 93 EXERCÍCIO 2, 3 E 4;
- 94 E 95 LER COM A FAMÍLIA OU COM A PROFESSORA NA ESCOLA.

ATIVIDADE 29

GEOGRAFIA

MEIOS DE COMUNICAÇÃO

PÁGINA:

- 97 EXERCÍCIO 1.

O AMBIENTE EM QUE VIVEMOS

- 106 EXERCÍCIOS 1,2,3 E 4.

ATIVIDADE 30

HISTÓRIA

O RESPEITO AO MEIO AMBIENTE

PÁGINAS:

- 118 EXERCÍCIOS 1 E 2;
- 119 LEITURA;
- 120 EXERCÍCIO 1 E 2;
- 121 EXERCÍCIO 1 E 2;
- 121 DESAFIO A, B, C. 2 E 3.

REFERÊNCIAS BIBLIOGRÁFICAS APOSTILA 14

<https://i.pinimg.com/564x/eb/f2/96/ebf2962b3fae5fa402503ec051e17249.jpg>

<https://3.bp.blogspot.com/-QnaXTx0aHY4/VVCJtWGdg-I/AAAAAAAAxw0/fTdoUauoIA/s1600/atividade-reta-numerica-pares-impares-subtracao-adicao-turma-da-moranguinho.png>

https://3.bp.blogspot.com/-7_asTMM7SMo/VVCizOJ_p0I/AAAAAAAAxwk/0bmlicoxCOwI/s1600/atividade-reta-numerica-pares-impares-subtracao-adicao-turma-da-moranguinho-2.png

<https://i.ytimg.com/vi/5uF4tFd2U24/maxresdefault.jpg>

BLOG EDUCAÇÃO E TRNSFORMAÇÃO

<https://educacaoetransformacaooficial.blogspot.com/2020/04/sequencia-didatica-casa-e-seu-dono.html>

BLOG LIVE WORK SHEETS

<https://es.liveworksheets.com/ha1840702eg>

https://4.bp.blogspot.com/-5_acXPY5yuw/VTkisxzEjbl/AAAAAAAAxY0/1V6tdBclNhg/s1600/ATIVIDADE-MATERIAL-DOURADO-DEZENA-UNIDADE.png

<https://1.bp.blogspot.com/->

<zSZAD6SdRng/XsA7s8oSIzI/AAAAAAAAAEd0/XeSTID4HHBwYXAvPD0435OV1tRwI7X99gCK4BGAsYHg/Slide1.JPG>

[http://servicos.rolandia.pr.gov.br/educacao/wp-](http://servicos.rolandia.pr.gov.br/educacao/wp-content/uploads/aulas_online/escolas/GARRASTAZU%20MEDICI/3%C2%BA%20ANO/2021/2%C2%BAROT-3%C2%BAANO%28GARRASTA%29.pdf)

content/uploads/aulas_online/escolas/GARRASTAZU%20MEDICI/3%C2%BA%20ANO/2021/2%C2%BAROT-3%C2%BAANO%28GARRASTA%29.pdf

<https://i.ytimg.com/vi/jb5z-TyJfw/0.jpg>

<https://giareta.blogspot.com/2012/07/sequencia-didatica-casa.html>

<https://tse1.mm.bing.net/th?id=OIP.q8TIIDII DP6AKRJClchWwQHaKe&pid=15.1>

[https://atividadespedagogicas.net/wp-content/uploads/2018/05/ATIVIDADES-PARA-TRABALHAR-LATERALIDADE-](https://atividadespedagogicas.net/wp-content/uploads/2018/05/ATIVIDADES-PARA-TRABALHAR-LATERALIDADE-1.jpg)

[1.jpg https://upload.wikimedia.org/wikipedia/commons/thumb/7/7b/Vincent_van_Gogh_-_The_yellow_house_%28%27The_street%27%29.jpg/800px-Vincent_van_Gogh_-_The_yellow_house_%28%27The_street%27%29.jpg](https://upload.wikimedia.org/wikipedia/commons/thumb/7/7b/Vincent_van_Gogh_-_The_yellow_house_%28%27The_street%27%29.jpg/800px-Vincent_van_Gogh_-_The_yellow_house_%28%27The_street%27%29.jpg)

[_The_yellow_house_%28%27The_street%27%29.jpg](https://upload.wikimedia.org/wikipedia/commons/f/ff/Camera_da_Letto_Vincent_van_Gogh.jpg)

https://upload.wikimedia.org/wikipedia/commons/f/ff/Camera_da_Letto_Vincent_van_Gogh.jpg

<https://www.smartkids.com.br/content/puzzles/images/1063/original/cruzadinha-partes-da-casa.png>

<https://www.smartkids.com.br/content/puzzles/images/1063/original/cruzadinha-partes-da-casa.png>

LIVRO ÁPIS CIÊNCIAS

LIVRO ÁPIS GEOGRAFIA

LIVRO ÁPIS HISTÓRIA