

E.M. "SANTINO FRANCISCO VIEIRA"

NOME _____ 3º ANO

4ª REMESSA: 19/04/21 A 10/05/21

ATIVIDADES DE MATEMÁTICA

DESAFIO MATEMÁTICO

OBSERVE QUE CADA FRUTA TEM UM VALOR.

SEJA ESPERTO E DESCUBRA O VALOR DE CADA FRUTA:

$$\text{🍏} + \text{🍏} + \text{🍏} = 30$$

$$\text{🍏} + \text{🍌} + \text{🍌} = 18$$

$$\text{🍌} - \text{🥥} = 2$$

$$\text{🥥} + \text{🍏} + \text{🍌} = ??$$

QUAL É O VALOR:

A) MAÇÃ _____

B) BANANA _____

C) COCO _____

ESCREVA OS NÚMEROS DE 10 EM 10:

10		30		50		70			100
110				150					200

DESCUBRA O TOTAL EM DINHEIRO QUE CADA CRIANÇA POSSUI CONTANDO DE 10 EM 10.



2 NOTAS DE R\$ 10 = R\$ _____



1 NOTA DE R\$ 10 = R\$ _____



6 NOTAS DE R\$ 10 = R\$ _____



3 NOTAS DE R\$ 10 = R\$ _____



4 NOTAS DE R\$ 10 = R\$ _____



7 NOTAS DE R\$ 10 = R\$ _____



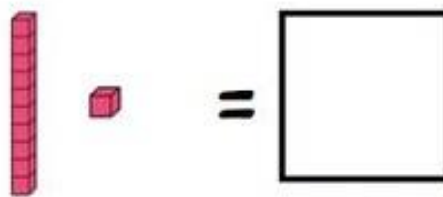
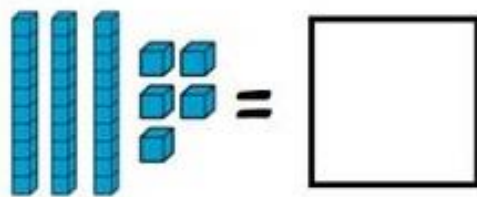
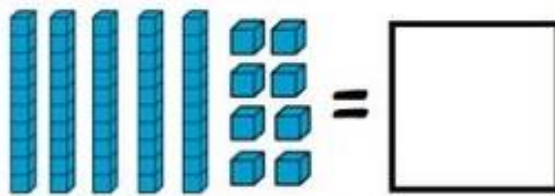
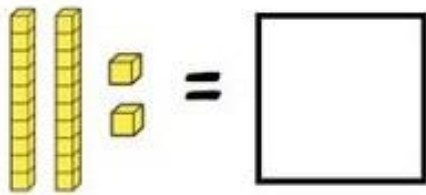
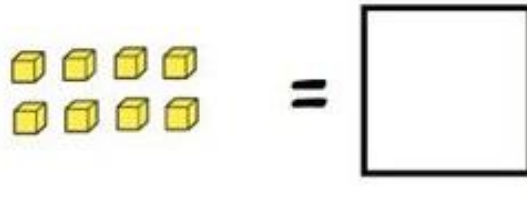
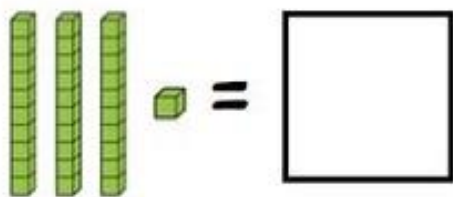
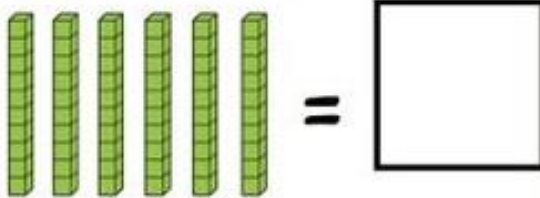
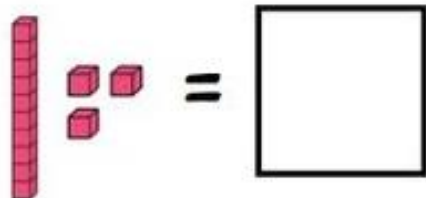
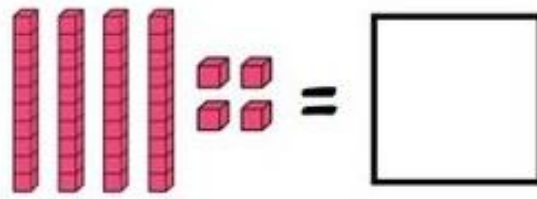
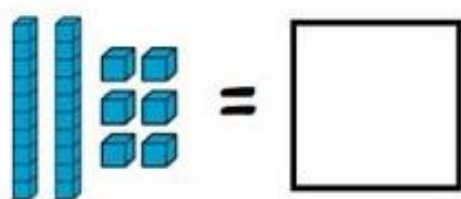
5 NOTAS DE R\$ 10 = R\$ _____



CUBINHO= 1 (UNIDADE)

BARRINHA= 10 (DEZENA)

ESCREVA A QUANTIDADE:



COMPLETE A FAMÍLIA DO NÚMERO 10:



$10+0=$	10
$10+1=$	
$10+2=$	
$10+3=$	
$10+4=$	
$10+5=$	
$10+6=$	
$10+7=$	
$10+8=$	
$10+9=$	

COMPLETE A FAMÍLIA DO NÚMERO 20:



$20+0=$	20
$20+1=$	
$20+2=$	
$20+3=$	
$20+4=$	
$20+5=$	
$20+6=$	
$20+7=$	
$20+8=$	
$20+9=$	

COMPLETE A FAMÍLIA DO NÚMERO 30:



$30+0=$	30
$30+1=$	
$30+2=$	
$30+3=$	
$30+4=$	
$30+5=$	
$30+6=$	
$30+7=$	
$30+8=$	
$30+9=$	

COMPLETE A FAMÍLIA DO NÚMERO 40:




$40+0=$	40
$40+1=$	
$40+2=$	
$40+3=$	
$40+4=$	
$40+5=$	
$40+6=$	
$40+7=$	
$40+8=$	
$40+9=$	

ADIVINHAÇÃO DAS FIGURAS GEOMÉTRICAS

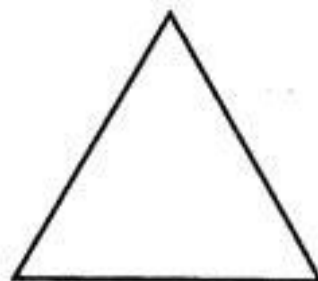
QUEM SOU EU?

⇒ **TENHO QUATRO LADOS IGUAIS.
SOU SEU AMIGO.
PODE-SE FAZER VÁRIOS DESENHOS
COMIGO.**
SOU O



QUADRADO


⇒ **SOU LEGAL PARA BRINCAR.
TENHO TRÊS LADOS.
VOCÊ QUER ME DESENHAR?**
SOU O




TRIÂNGULO

⇒ **SOU REDONDO COMO BOLA.
NÃO ME CONFUNDA COM MOLA**
SOU O

⇒ **SOU ASSIM:
DOIS LADOS PEQUENOS,
E DOIS MAIORES.
FAÇA UM X EM MIM:**



RETÂNGULO



CÍRCULO

PRESTE ATENÇÃO, LEIA O PROBLEMA ENCONTRE A SOLUÇÃO:



ELA RESOLVEU DAR ALGUNS PEIXES PARA SUA MELHOR AMIGA.


ELA DEU 7 PEIXES PARA SUA AMIGA ANA.

1- QUANTOS PEIXES MARIANA TINHA NO AQUÁRIO? _____

2- QUANTOS PEIXES ANA GANHOU? _____

3- QUANTOS PEIXES SOBRARAM NO AQUÁRIO DE MARIANA? _____

EM UMA CESTA TEMOS TODAS ESSAS FRUTAS:



QUANTAS FRUTAS SÃO? _____

E EM 2 CESTAS IGUAIS A ESSA QUANTAS FRUTAS TEREMOS?

CALENDARIO
2021
ABRIL



DATAS COMEMORATIVAS DO MÊS

02 – SEXTA FEIRA DA PAIXÃO
 04 – PÁSCOA 21 – TIRADENTES



DOM	SEG	TER	QUA	QUI	SEX	SAB
				1	2	3
4	5	6	7	8	9	10
11	12	13	14	15	16	17
18	19	20	21	22	23	24
25	26	27	28	29	30	

QUAL É O MÊS DESTE CALENDÁRIO? _____

QUAIS SÃO AS DATAS COMEMORATIVAS DESTE MÊS?

EM QUE ANO ESTAMOS? () 2020 () 2021 () 2022

QUANTOS DIAS TEM ABRIL? _____

QUAIS SÃO OS DIAS DE ABRIL QUE CAIRÃO NO DOMINGO?



NA LOJA PERTO DA CASA DA MÔNICA, VENDE MÁSCARAS DE PROTEÇÃO. VEJA OS PREÇOS NA TABELA E RESPONDA AS PERGUNTAS A SEGUIR.

TABELA DE PREÇOS

 MÁSCARA DA MÔNICA	
 MÁSCARA DO BIDU	
 MÁSCARA DO CEBOLINHA	

A) QUAL A MÁSCARA DE MAIOR VALOR?

RESPOSTA: _____

B) QUAL A MÁSCARA DE MENOR VALOR?

RESPOSTA: _____

C) A MÔNICA COMPROU UMA MÁSCARA DO **CEBOLINHA** E UMA MÁSCARA DO **BIDU**. QUAL O VALOR QUE IRÁ PAGAR NA COMPRA DAS MÁSCARAS? MARQUE COM UM (X) A RESPOSTA CORRETA.

() R\$9,00

() R\$ 5,00

() R\$10,00

A PROFESSORA DO 2º ANO B FEZ UMA PESQUISA PARA SABER QUAL O LANCHE PREFERIDO DA TURMA. VEJA O GRÁFICO:



1) PREENCHA A TABELA COM A QUANTIDADE DE CRIANÇAS QUE ESCOLHERAM CADA LANCHE:

LANCHES	QUANTIDADE DE VOTOS
	
	
	
	

RESPONDA:

A) QUAL O LANCHE MAIS ESCOLHIDO? _____

B) QUANTAS CRIANÇAS VOTARAM NO LANCHE MAIS ESCOLHIDO? _____

C) SE VOCÊ ESTIVESSE NESSA TURMA QUAL LANCHE ESCOLHERIA?

FAÇA O NUMERAL DE 400 A 500:

400									
410									
420									
430									
440									
450									
460									
470									
480									
490									
500									

ESCREVA OS NOMES DAS CENTENAS ABAIXO:

100	CEM
200	
300	
400	
500	
600	
700	
800	
900	

FAÇA OS NUMERAIS DE 500 A 600:

500									
510									
520									
530									
540									
550									
560									
570									
580									
590									
600									

AGORA VAMOS FAZER O NUMERAL PULANDO DE 100 EM 100:

