

INTERPRETAÇÃO DE TEXTO

HELENA A MENINA DE CABELOS CACHEADOS

HELENA É UMA MENINA QUE MORA COM SUA FAMÍLIA EM UM APARTAMENTO NO CENTRO DA CIDADE DE SÃO PAULO.

COMO ELA NÃO TEM MUITO ESPAÇO PARA BRINCAR, FICA POR MUITAS HORAS EM SEU QUARTO ARRUMANDO SEUS CABELOS CACHEADOS.

TODA VEZ QUE SUA MÃE CONVIDA ELA PARA PASSEAR DE CARRO ELA DEMORA DEMAIS, POIS QUER FICAR BEM BONITA.



➤ QUAL É O TÍTULO DO TEXTO?

➤ QUAL É O NOME DO MENINA?

➤ ELA MORA AONDE?

➤ POR QUE ELA FICA HORAS NO QUARTO?

➤ QUANDO SUA MÃE CONVIDA PARA PASSEAR O QUE ELA FAZ?

IBÚNA, 08 DE NOVEMBRO DE 2021

- ENUMERE OS PARÁGRAFOS;
- QUANTOS PARÁGRAFOS POSSUI ESTE TEXTO?


- COPIE DO TEXTO QUAL É A PALAVRA QUE TEM AS LETRAS **"SS"**?

- PROCURE NO TEXTO PALAVRAS COM **"RR"** E ESCREVA ABAIXO?

- COPIE DO TEXTO QUAL É A PALAVRA QUE TEM AS LETRAS **"BR"**?

- COPIE DO TEXTO QUAL É A PALAVRA QUE TEM AS LETRAS **"CH"**?

- CRIE UMA FRASE PARA CADA IMAGEM ABAIXO:







IBÚNA, 09 DE NOVEMBRO DE 2021

DESCUBRA O NÚMERO

8 centenas + 1 dezena + 2 unidades = _____

5 centenas + 2 dezenas + 1 unidade = _____

9 centenas + 5 dezenas + 2 unidades = _____

9 centenas + 2 unidades = _____

6 centenas + 3 dezenas + 3 unidades = _____

4 centenas + 2 dezenas + 1 unidade = _____

9 centenas + 4 dezenas + 7 unidades = _____

7 centenas + 1 unidade = _____

9 centenas + 4 dezenas + 9 unidades = _____

8 centenas + 5 dezenas + 7 unidades = _____

6 centenas + 5 dezenas + 9 unidades = _____

3 centenas + 1 unidade = _____

2 centenas + 6 dezenas + 6 unidades = _____

8 centenas + 2 dezenas + 2 unidade = _____

1 centena + 6 dezenas + 3 unidades = _____

3 centenas + 8 unidades = _____

6 dezenas + 3 unidades = _____

6 dezenas + 5 unidades = _____

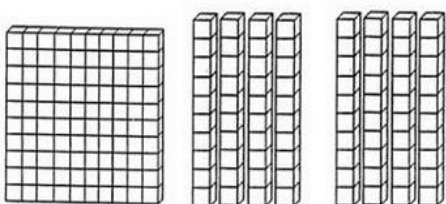
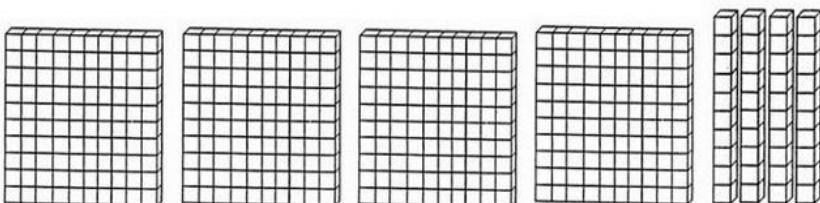

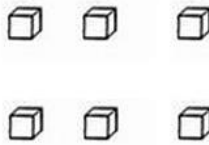
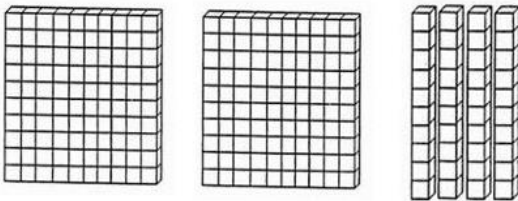
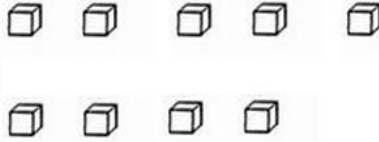
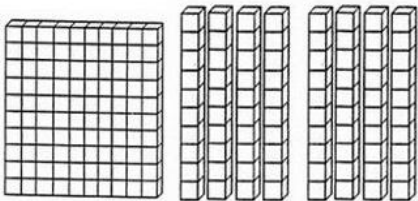
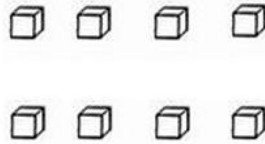
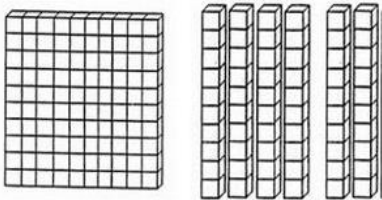
7 dezenas + 2 unidades = _____



DATA: _____

ATIVIDADE COM MATERIAL DOURADO

1 – Conte com atenção e registre o resultado:



ARTIGO DEFINIDO E INDEFINIDO

➤ Artigos definidos:

A – O – As – Os

➤ Artigos Indefinidos:

Um – Uma – Uns – Umas

➤ Circule os artigos definidos e pinte de azul os indefinidos:

📖 A criança estava comendo uns doces.

📖 O menino comprou umas canetas.

📖 As professores fizeram umas lembrancinhas para as crianças do 4º ano.

📖 O macaco comeu umas bananas.

📖 O cachorro mordeu o menino.

📖 A gata dormiu em cima de uma coberta.

📖 Comprei umas rosas e uns cravos para dar para minha mãe.

📖 Uma menina chutou a bola de um menino.

📖 O homem comprou uma bolsa para sua mulher.

📖 A folha de papel está riscada.

📖 Hoje comi uma bala de hortelã.

📖 Juliana comeu o chocolate de Ana.

📖 A garrafa de Pedro está sob uma mesa.

📖 João comprou uma bola na loja.



ARTIGO DEFINIDO E INDEFINIDO

- Complete, escrevendo o que se pede:

Artigos definidos	
avião	
criança	
brinquedos	
papagaio	

- Complete, escrevendo o que se pede:

Artigos indefinidos	
janelas	
porta	
jornal	
computadores	

- Escreva os artigos definidos e os indefinidos:

Artigo definido:

Artigo indefinido:



1 – Complete o mês abaixo.

CALENDÁRIO



ANO: _____

MÊS: _____

DOMINGO	SEGUNDA - FEIRA	TERÇA - FEIRA	QUARTA- FEIRA	QUINTA- FEIRA	SEXTA- FEIRA	SÁBADO

2 – Responda as questões.

- Escreva qual mês você completou:
 - Este mês é de que ano?
 - Qual é o primeiro dia do mês?
 - Quantos dias tem este mês?
 - Quantos dias tem uma semana?
 - Quais são os dias da semana?
-

IBÚNA, 11 DE NOVEMBRO DE 2021

Calcule com atenção:

a) $129 - 75 =$

b) $530 - 220 =$

c) $215 - 112 =$


d) $475 - 352 =$

e) $433 + 132 =$

f) $259 + 64 =$

g) $645 + 145 =$

h) $398 + 250$

a)	b)	c)
d)	e)	f)
g)	h)	

15 DE NOVEMBRO

DIA DA PROCLAMAÇÃO DA REPÚBLICA

DURANTE MUITOS ANOS O BRASIL FOI GOVERNADO PELOS IMPERADORES **DOM PEDRO I** E **DOM PEDRO II**.

MUITOS BRASILEIROS DESEJAVAM MUDAR A FORMA DE GOVERNO E INICIARAM UMA CAMPANHA PARA QUE O BRASIL TIVESSE UM **GOVERNO REPUBLICANO**, ISTO É, UM GOVERNO ELEITO PELO POVO.

NO DIA **15 DE NOVEMBRO DE 1889**, O MARECHAL DEODORO DA FONSECA PROCLAMOU A REPÚBLICA. O BRASIL PASSOU A SER GOVERNADO POR UM PRESIDENTE ELEITO PELO POVO.

O PRIMEIRO PRESIDENTE DO NOSSO PAÍS FOI O PRÓPRIO **MARECHAL DEODORO DA FONSECA**.



ATIVIDADES

1. COMPLETE AS FRASES DE ACORDO COM O QUE VOCÊ LEU:

A) QUEM PROCLAMOU A REPÚBLICA DO BRASIL?

.....

B) A REPÚBLICA FOI PROCLAMADA NO DIA

CAÇA-PALAVRAS

2. PROCURE NO DIAGRAMA AS PALAVRAS AO LADO:


N	T	I	M	A	R	E	C	H	A	L	I
T	C	T	N	B	R	A	S	I	L	E	R
L	O	G	E	P	R	E	I	H	M	N	E
A	R	O	P	R	I	M	E	I	R	O	G
H	A	V	R	E	P	Ú	B	L	I	C	A
S	E	E	E	S	I	E	T	Y	P	R	T
L	Q	R	E	I	D	Y	A	Y	O	A	N
E	H	N	D	D	A	N	H	F	V	K	L
C	N	O	V	E	M	B	R	O	O	S	R
D	H	H	E	N	U	A	R	P	A	Í	S
N	E	B	W	T	W	O	T	T	O	E	O
U	S	U	H	E	P	E	D	R	O	L	L

BRASIL
GOVERNO
MARECHAL
NOVEMBRO
PAÍS
PEDRO
POVO
PRESIDENTE
PRIMEIRO
REPÚBLICA



3. COMPLETE AS LACUNAS E A CRUZADINHA:

CRUZADINHA



HORIZONTAL →

3. O BRASIL PASSOU A SER GOVERNADO POR UM PRESIDENTE ELEITO PELO

.....

5. O PRIMEIRO DO NOSSO PAÍS FOI O PRÓPRIO MARECHAL DEODORO DA FONSECA.

↓ **VERTICAL**

1. NO DIA 15 DE DE 1889, O MARECHAL DEODORO DA FONSECA PROCLAMOU A REPÚBLICA.

2. DURANTE MUITOS ANOS O BRASIL FOI PELOS IMPERADORES DOM PEDRO I E DOM PEDRO II.

4. UM GOVERNO REPUBLICANO É UM GOVERNO PELO POVO.

mcris.mcarvalho.blogspot.com

OBESERVAÇÃO:

NOS DIAS 15,16,17,18 E 19 SERÁ APLICADO A AVALIAÇÃO DIAGNÓSTICA. PORTANTO, NÃO ESTOU ENVIANDO ATIVIDADES NESTES DIAS. GRATA.


Sapo-cururu

Sapo-cururu,
na beira do rio.
Quando o sapo canta, ó maninha,
é que está com frio.

Sapo-cururu,
na beira do mar.
Quando o sapo canta, ó maninha,
diz que quer casar.

A mulher do sapo
diz que está lá dentro,
fazendo rendinha, ó maninha,
para o casamento.

Domínio público



➤ Qual é o título do texto:

➤ Quantas estrofes possui?

➤ Quantos versos possui?

➤ Este texto relata a história de:

() Um elefante () Um sapo () Um macaco

➤ Retire as rimas do texto:

- Rio – _____
- Dentro – _____

➤ O sapo vive onde?

➤ O que a mulher do sapo está fazendo?

$0 \times 2 = 0$

$1 \times 2 = 2$

$2 \times 2 = 2+2=4$

$3 \times 2 = 2+2+2=6$

$4 \times 2 = 2+2+2+2=8$

$5 \times 2 = 2+2+2+2+2=10$


$6 \times 2 = 2+2+2+2+2+2=12$

$7 \times 2 = 2+2+2+2+2+2+2=14$

$8 \times 2 = 2+2+2+2+2+2+2+2=16$

$9 \times 2 = 2+2+2+2+2+2+2+2+2=18$

$10 \times 2 = 2+2+2+2+2+2+2+2+2+2=20$



Descubra o resultado das contas e escreva abaixo:

9×2

4×2

2×2

10×2

5×2

1×2

7×2

0×2

3×2

8×2

6×2

Vamos calcular:

C	D	U
4	5	
$\times 2$		

C	D	U
3	2	
$\times 2$		

C	D	U
3	1	
$\times 2$		

C	D	U
1	1	
$\times 2$		

C	D	U
6	2	
$\times 2$		

C	D	U
5	1	
$\times 2$		

C	D	U
1	2	1
$\times 2$		

C	D	U
2	2	2
$\times 2$		

C	D	U
1	4	3
$\times 2$		

C	D	U
1	1	0
$\times 2$		

C	D	U
1	1	2
$\times 2$		

C	D	U
2	0	7
$\times 2$		


ORDEM ALFABÉTICA

Siga as instruções:

- Circule a letra inicial de cada palavra no alfabeto;
- Enumere as palavras em ordem alfabética;
- Escreva os nomes das palavras em ordem alfabética;

A - B - C - D - E - F - G - H - I - J - K - L - M - N - O - P - Q - R -
S - T - U - V - W - X - Y - Z

Segunda __
Terça __
Quarta __
Quinta __
Sexta __
Sábado __
Domingo __




Siga as instruções:

- Circule a letra inicial de cada palavra no alfabeto;
- Enumere as palavras em ordem alfabética;
- Escreva os nomes das palavras em ordem alfabética;

A - B - C - D - E - F - G - H - I - J - K - L - M - N - O - P - Q - R -
S - T - U - V - W - X - Y - Z

Janeiro __ Outubro __
Fevereiro __ Novembro __
Março __ Dezembro __
Abril __
Maio __
Junho __
Julho __
Agosto __
Setembro __



SÍLABA TÔNICA

A sílaba tônica é a sílaba mais forte dentro de uma palavra. Quando ela tem acento é mais fácil de identificar.

- As palavras abaixo possuem acentos, coloque o acento e após faça a separação silábica e circule a sílaba tônica. Veja o exemplo:

Você = vo-cê

domino = _____

Pure = _____

cipo = _____

Sofa = _____

virus = _____

cracha = _____

tunel = _____

parabens = _____

impar = _____

VOVO = _____

VOVO = _____

- Encontre a sílaba tônica e reescreva a sílaba, preste muito atenção nas palavras que não possuem acento. LEMBRE-SE: a sílaba tônica é a palavra mais forte quando você fala.

álbum

jardim

Próximo

pirulito

Fósforo

café

último

cadeira

Espada

rápido

Cartaz

sofá



IBÚNA, 24 DE NOVEMBRO DE 2021

Observe as despesas de Amanda do mês de agosto e responda as perguntas abaixo:



Mês <u>agosto</u> despesas	
Aluguel.....	R\$ 450,00
Supermercado.....	R\$ 170,00
Luz.....	R\$ 54,00
Condomínio.....	R\$ 80,00
Telefone.....	R\$ 76,00
Escola.....	R\$ 300,00
Diversos.....	R\$ 180,00



a) Qual é a **maior** despesa dessa família?


b) Qual é a **menor** despesa?

c) Qual é o gasto **total** com aluguel, condomínio e telefone?

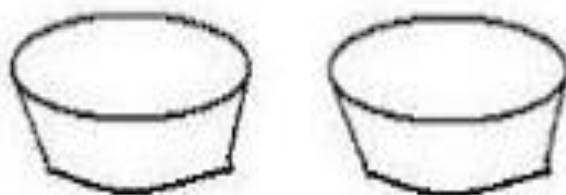
d) Com \$1.000,00 a família de Amanda consegue pagar a despesa total do mês de agosto?

Represente estas divisões corretamente:

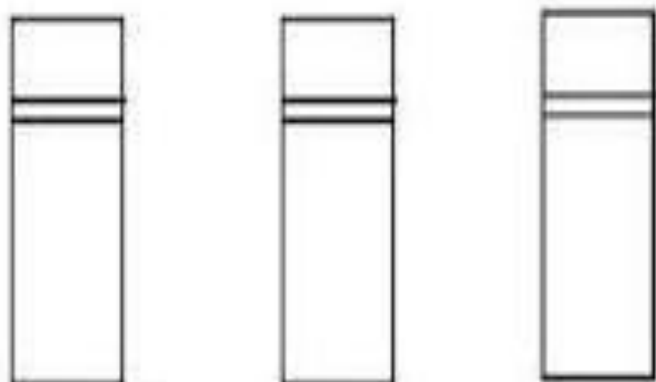
$$9 \div 3 = \underline{\quad}$$



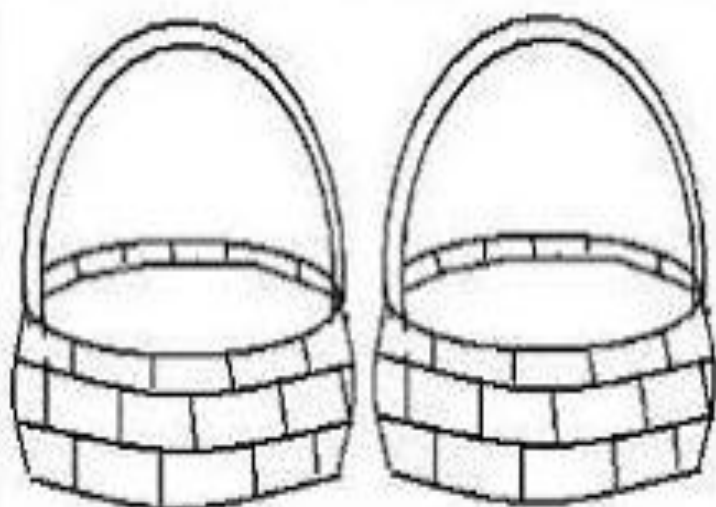
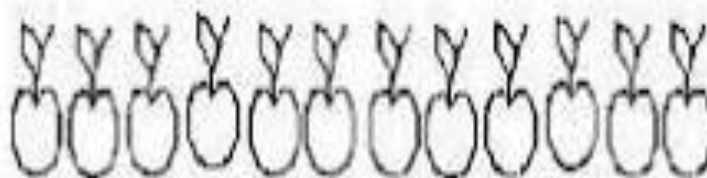
$$8 \div 2 = \underline{\quad}$$



$$15 \div 3 = \underline{\quad}$$



$$12 \div 2 = \underline{\quad}$$



GRAU DE SUBSTANTIVOS

- Complete com a palavra em grau aumentativo ou diminutivo, preste atenção no contexto.

Uma história que começa pequena e termina grande

Camila sempre teve muitos sonhos. Primeiro, ela sonhou com um lugar onde tudo era pequeno.

No sonho ela chegou a um _____ (lugar) e percebeu que havia _____ (animais) estranhos. Eles eram muito _____ (pequenos). No _____ (lugar) havia: _____ (abelhas), _____ (cães), _____ (cães), _____ (aves), _____ (gatos), _____ (formigas), _____ (minhocas) e muitas _____ (pessoas) _____ (pequenas).

De repente, sentiu um _____ (frio) e um _____ (chuva) decidiu sair dali para se proteger.

Foi para perto de um _____ (casa grande) onde tudo era grande, e lá havia um _____ (cão) muito bravo. Bem perto dali passava um _____ (rio), e Camila pegou uma _____ (barco) para voltar ao seu lar. Ao desembarcar, encontrou um _____ (homem), que se aproximou e lhe deu um _____ (copo) com água pra matar a sede.

Um barulho muito forte parecia vir de uma floresta, do outro lado de onde estava. A curiosidade foi grande e Camila foi ver o que estava acontecendo. De repente, um _____ (rapaz) saiu correndo atrás de um _____ (mulher) que corria atrás de um _____ (cão) que corria atrás de uma _____ (rato). Uma confusão daquelas de deixar qualquer _____ (cabelo) em pé!

Neste instante o relógio despertou e Camila retornou à realidade. Logo foi tomar café com seus pais.


(Kely Cláudia Gonçalves)




OBSERVAÇÃO: RESOLVA AS CONTINHAS NO VERSO DA FOLHA.

MATEMÁTICA


RESOLVA E PINTE O RESULTADO:




$8 \div 2$		
6	4	2




$9 \div 3$		
2	6	3




$10 \div 5$		
2	4	3




$20 \div 4$		
4	6	5




$36 \div 6$		
6	8	7




$63 \div 7$		
8	7	9




$56 \div 8$		
7	6	9




$36 \div 9$		
3	4	5




$10 \div 2$		
3	2	5



$12 \div 3$		
4	2	4




$25 \div 5$		
5	6	3




$42 \div 7$		
8	4	6


1) UMA BOMBONIERE VENDEU 56 TORTINHAS DE LIMÃO PELA MANHÃ E 78 À TARDE. QUANTAS TORTINHAS DE LIMÃO A BOMBONIERE VENDEU AO TODO NESSE DIA?

OPERAÇÃO	RESPOSTA
	<hr/> <hr/> 

2) MARIA COMPROU 45 BOTÕES VERMELHOS E UMA CAIXA COM 500 BOTÕES COLORIDOS. QUAL O TOTAL DE BOTÕES ELA FICOU SE JÁ TINHA 156 BOTÕES?

OPERAÇÃO	RESPOSTA
	<hr/> <hr/> 

3) UMA LOJA DE ROUPAS VENDEU 143 CALÇAS, 276 CAMISAS E 65 BERMUDAS. QUANTAS PEÇAS DE ROUPAS FORAM VENDIDAS AO TODO?

OPERAÇÃO	RESPOSTA
	<hr/> <hr/> 

REFERÊNCIAS

Sites:

materiaispdg.com.br

www.krokotak.com

<https://br.pinterest.com/pin/486599934740581904/>

[@atividadesanosiniciais](https://www.instagram.com/atividadesanosiniciais)

https://educacaoetransformacaooficial.blogspot.com/2020/12/multiplicacao_11.html

<https://educacaoetransformacaooficial.blogspot.com/2019/11/proclamacao-da-republica.html>

Apostilas em PDF:

- ✓ atividades 3ºano PDF prefeitura municipal de Fundão estado do espirito santo, secretária municipal de educação e sistema municipal de ensino 2021. 1º Bloco de atividades ensino fundamental I;
- ✓ atividades domiciliares PDF apostila II 3ºano- Ensino Fundamental- Prefeitura Municipal de São Vicente;