


E. M. " ALEXANDRE VANNUCHI LEME "

14 ° APOSTILA

REFERENTES AOS DIAS : 08 /11 Á 29 /11



**QUERIDO (A) ALUNO
VOCE É CAPAZ!
DÊ CRÉDITO EM VOCÊ!**



PROFESSORA : PATRÍCIA ELAINE

2º ANO B

DEVOLVER DIA : 30 /11

NOME :

OLÁ MEUS AMORES !

ESPERO QUE TODOS ESTEJAM BEM !

ESTA APOSTILA É REFERENTE AOS DIAS : 08, 09, 10, 11, 12, 16, 17, 18, 19, 22, 23, 24, 25, 26, 27, 28 e 29 /11.

A APOSTILA IRÁ ATIVIDADES INTERDISCIPLINARES, ESPERO QUE RESOLVAM DEVAGAR. TODO DIA, TIRE UM TEMPINHO PARA FAZER SUAS ATIVIDADES . NÃO FAÇA CORRENDO . AS QUESTÕES QUE NÃO CONSEGUIREM RESOLVER , ANOTEM EM UMA FOLHA O QUE NÃO ENTENDEREM , PROCURAREI RESPONDER SUAS DÚVIDAS OU PODERÁ MANDAR UM VIA WHATSAAP, ESTAREI SEMPRE A DISPOSIÇÃO .

PINTE OS DESENHOS BEM BONITO , SEMPRE COLOCAR NOME COMPLETO NAS ATIVIDADES . AS ATIVIDADES QUE NÃO TIVEREM DATA MARCADA, PEDIR PARA A CRIANÇA COLOCAR . PINTAR O CALENDÁRIO NOS DIAS CORRESPONDENTES .

TERÃO ATIVIDADES DO LIVRO ÁPIS DE LÍNGUA PORTUGUESA E ATIVIDADES DA APOSTILA . AS ATIVIDADES DO LIVRO QUE ESTIVEREM ESCRITO , EM DUPLA, SE NÃO CONSEGUIREM RESOLVER ,NÃO TERÁ PROBLEMA , MAS SE CONSEGUIREM FICAREI MUITO FELIZ .

**** ORIENTAÇÕES PARA FAZER AS ATIVIDADES DO LIVRO ÁPIS DE LÍNGUA PORTUGUES .****

***ATENÇÃO PARA OS DIAS QUE HAVERÁ ATIVIDADES NA APOSTILA TAMBÉM ***

❖ DIA 08 /11 FAZER AS ATIVIDADES DAS PÁGINAS 142 , 143 e 144 / ALFABETO DE LETRAS MAIÚSCULAS E DE LETRAS MINÚSCULAS / LETRA X .
❖ DIA 09 /11 FAZER AS ATIVIDADES DAS PÁGINAS 145 , 146 / DUAS LETRAS , UM SOM :CH FAZER UMA ATIVIDADE DA APOSTILA TAMBÉM .
❖ DIA 10 /11 FAZER AS ATIVIDADES DAS PÁGINAS 148 , 149 E 150 ATÉ A ATIVIDADE 9 / DUAS LETRAS,UM SOM : NH .
❖ DIA 11 / 11 FAZER AS ATIVIDADES DAS PÁGINAS 156 ,157 E 158 / LEITURA: RELATO PESSOAL / SOPA DE BALEIA .INTERPRETAÇÃO DO TEXTO .
❖ DIA 18 / 11 FAZER AS ATIVIDADES DAS PÁGINAS 162 E 163 / PONTUAÇÃO E PARÁGRAFO . FAZER UMA ATIVIDADE DA APOSTILA TAMBÉM .
❖ DIA 22 /11 FAZER AS ATIVIDADES DAS PÁGINAS 170 E 171 / TIL / . FAZER UMA ATIVIDADE DA APOSTILA TAMBÉM . FAZER UMA ATIVIDADE DA APOSTILA TAMBÉM .
❖ DIA 23 / 11 FAZER AS ATIVIDADES DAS PÁGINAS 166 ,167, 168 E 169 / LETRAS M E N NO INÍCIO DE SÍLABAS / LETRA N NO FINAL DE SÍLABAS / MESMO SOM, OUTRA LETRA: LETRA M NO FINAL DE SÍLABA.
❖ DIA 25 /11 FAZER AS ATIVIDADES DAS PÁGINAS 186, 188 E 189 ATÉ A ATIVIDADE 3 / LE TRA G / LETRA QUE E QUI . FAZER UMA ATIVIDADE DA APOSTILA TAMBÉM .
❖ DIA 26 /11 FAZER AS ATIVIDADES DAS PÁGINAS 202, 203 , 204 E 205 / MESMO SOM, OUTRAS LETRAS : QUE E QUI // MESMO SOM , OUTRAS LETRAS : CE E CI .
❖ DIA 29/11 FAZER AS ATIVIDADES DAS PÁGINAS 206 E 207 / LETRAS : Ç . FAZER UMA ATIVIDADE DA APOSTILA TAMBÉM .

NOME:

DATA: 09 / 11 / 2021

@clickseducativos

ATIVIDADES DE MATEMÁTICA - 2º ANO

I. RESOLVA AS OPERAÇÕES ABAIXO COM ATENÇÃO.

$$\begin{array}{r|l} \text{D} & \text{U} \\ 1 & 0 \\ + & \\ \hline & 0 \end{array}$$

$$\begin{array}{r|l} \text{D} & \text{U} \\ 1 & 0 \\ + & \\ \hline & 1 \end{array}$$

$$\begin{array}{r|l} \text{D} & \text{U} \\ 1 & 0 \\ + & \\ \hline & 2 \end{array}$$

$$\begin{array}{r|l} \text{D} & \text{U} \\ 1 & 0 \\ + & \\ \hline & 3 \end{array}$$

$$\begin{array}{r|l} \text{D} & \text{U} \\ 1 & 0 \\ + & \\ \hline & 5 \end{array}$$

$$\begin{array}{r|l} \text{D} & \text{U} \\ 1 & 0 \\ + & \\ \hline & 7 \end{array}$$

$$\begin{array}{r|l} \text{D} & \text{U} \\ 1 & 0 \\ + & \\ \hline & 4 \end{array}$$

$$\begin{array}{r|l} \text{D} & \text{U} \\ 1 & 0 \\ + & \\ \hline & 6 \end{array}$$

$$\begin{array}{r|l} \text{D} & \text{U} \\ 1 & 0 \\ + & \\ \hline & 8 \end{array}$$

$$\begin{array}{r|l} \text{D} & \text{U} \\ 1 & 0 \\ + & \\ \hline & 9 \end{array}$$

$$\begin{array}{r|l} \text{D} & \text{U} \\ 1 & 1 \\ + & \\ \hline & 3 \end{array}$$

$$\begin{array}{r|l} \text{D} & \text{U} \\ 1 & 2 \\ + & \\ \hline & 1 \end{array}$$

$$\begin{array}{r|l} \text{D} & \text{U} \\ 1 & 2 \\ + & \\ \hline & 0 \end{array}$$

$$\begin{array}{r|l} \text{D} & \text{U} \\ 1 & 4 \\ + & \\ \hline & 1 \end{array}$$

$$\begin{array}{r|l} \text{D} & \text{U} \\ 1 & 5 \\ + & \\ \hline & 2 \end{array}$$

$$\begin{array}{r|l} \text{D} & \text{U} \\ 1 & 6 \\ + & \\ \hline & 3 \end{array}$$

NOME:

DATA: / /

@clickseducativos

ATIVIDADES DE MATEMÁTICA - 2º ANO

I. RESOLVA AS OPERAÇÕES ABAIXO COM ATENÇÃO.

$$\begin{array}{r|l} \text{D} & \text{U} \\ 1 & 3 \\ - & \\ \hline & 1 \end{array}$$

$$\begin{array}{r|l} \text{D} & \text{U} \\ 1 & 2 \\ - & \\ \hline & 0 \end{array}$$

$$\begin{array}{r|l} \text{D} & \text{U} \\ 1 & 5 \\ - & \\ \hline & 4 \end{array}$$

$$\begin{array}{r|l} \text{D} & \text{U} \\ 1 & 5 \\ - & \\ \hline & 2 \end{array}$$

$$\begin{array}{r|l} \text{D} & \text{U} \\ 1 & 6 \\ - & \\ \hline & 1 \end{array}$$

$$\begin{array}{r|l} \text{D} & \text{U} \\ 1 & 6 \\ - & \\ \hline & 3 \end{array}$$

$$\begin{array}{r|l} \text{D} & \text{U} \\ 1 & 7 \\ - & \\ \hline & 1 \end{array}$$

$$\begin{array}{r|l} \text{D} & \text{U} \\ 1 & 7 \\ - & \\ \hline & 6 \end{array}$$

$$\begin{array}{r|l} \text{D} & \text{U} \\ 1 & 9 \\ - & \\ \hline & 8 \end{array}$$

$$\begin{array}{r|l} \text{D} & \text{U} \\ 1 & 9 \\ - & \\ \hline & 9 \end{array}$$

$$\begin{array}{r|l} \text{D} & \text{U} \\ 1 & 7 \\ - & \\ \hline & 3 \end{array}$$

$$\begin{array}{r|l} \text{D} & \text{U} \\ 1 & 3 \\ - & \\ \hline & 3 \end{array}$$

$$\begin{array}{r|l} \text{D} & \text{U} \\ 1 & 9 \\ - & \\ \hline & 6 \end{array}$$

$$\begin{array}{r|l} \text{D} & \text{U} \\ 1 & 9 \\ - & \\ \hline & 2 \end{array}$$

$$\begin{array}{r|l} \text{D} & \text{U} \\ 1 & 9 \\ - & \\ \hline & 7 \end{array}$$

$$\begin{array}{r|l} \text{D} & \text{U} \\ 1 & 6 \\ - & \\ \hline & 6 \end{array}$$

NOME _____

DATA 12 / 11 / 2021

Vamos colorir!

15 de
Novembro

*

Proclamação
da República



Marechal Manuel Deodoro da Fonseca

blogdatia-jaque.blogspot.com.br

Data comemorativa

15 DE NOVEMBRO – PROCLAMAÇÃO DA REPÚBLICA



Escolha a opção correta:

❖ Quando foi que o Brasil deixou de ser governado por imperador?

- 7 de setembro
- 15 de novembro de 1889
- 21 de abril

❖ Quem proclamou a República no Brasil?





- Dom Pedro I
- Tiradentes
- Marechal Deodoro da Fonseca

ESCOLA: _____

NOME: _____ DATA: ____ / ____ / ____

MATEMÁTICA 2º ANO

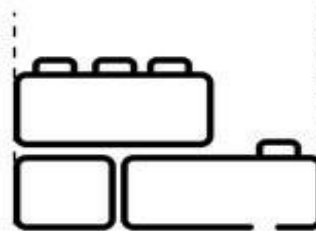
1. Usando os centímetros e a régua indicada, meça os brinquedos e escreva suas medidas



O foguete tem ____ centímetros

O trenzinho tem ____ centímetros

2. Agora é a sua vez, use uma régua de verdade para medir os brinquedos



O carrinho de brinquedo possui entre ____ e ____ centímetros

A medida dos bloquinhos está entre ____ e ____ centímetros

As medidas entre os centímetros se chamam milímetros.

NOME: _____

TURMA: _____

ATIVIDADES SOBRE A PROCLAMAÇÃO DA REPÚBLICA

1) COMPLETE AS PALAVRAS COM A, E, I, O E U



B R S L


N V M B R



R P B L C

2) ENCONTRE AS PALAVRAS RELACIONADAS A PROCLAMAÇÃO DA REPÚBLICA NO CAÇA-PALAVRAS ABAIXO:

- 1. REPÚBLICA
- 2. DEODORO
- 3. ELEIÇÃO
- 4. NOVEMBRO
- 5. DEMOCRACIA



R	R	E	P	Ú	B	L	I	C	A	R	O	S	B	B
D	D	L	B	O	I	P	E	B	R	U	X	A	S	E
R	R	E	R	P	C	O	N	T	E	N	T	E	L	L
A	A	I	O	D	E	M	O	C	R	A	C	I	A	S
T	T	Ç	X	D	A	N	S	E	P	O	I	S	N	A
E	E	Ã	A	F	O	E	L	E	I	Ç	Ã	O	S	S
N	O	V	E	M	B	R	O	O	U	R	A	S	E	Y
N	N	O	S	V	A	S	O	O	U	R	A	S	E	Y







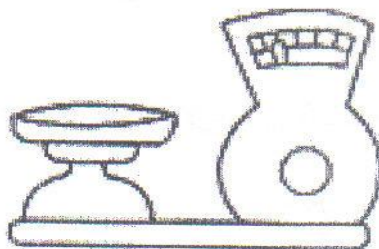
ATIVIDADE DE CASA

DATA: ___/___/___

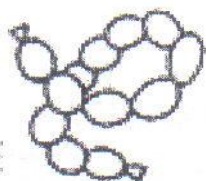
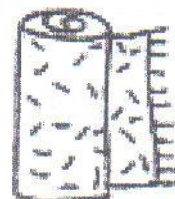
1) RECORTE DE REVISTAS OU JORNALS FIGURAS DE COISAS QUE MEDIMOS COM O METRO E COLE-AS ABAIXO.



2) CIRCULE O INSTRUMENTO USADO PARA PESAR.



3) PINTE SOMENTE OS PRODUTOS QUE SÃO VENDIDOS A LITRO.




PINTE E MARQUE




www.smartkids.com.br

1. Pinte o que encontramos, à venda, por litro:



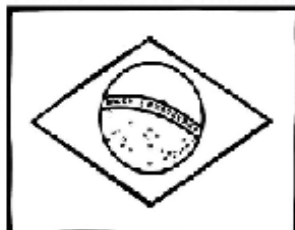
2. Marque com um X o que é vendido a litro:



NOME:

DATA : 19 / 11 / 2021

Dia da Bandeira Nacional



O Dia da Bandeira Nacional é 19 de novembro. A Bandeira, o Hino Nacional, as Armas e o Selo são os símbolos da nossa Pátria.

Pátria é a terra em que nascemos.

A nossa Pátria é o Brasil.

Todos os países têm a sua bandeira. Cada bandeira representa uma pátria. A bandeira acima representa o nosso país ou a nossa pátria, o Brasil.

A nossa bandeira tem quatro cores.

- O **verde** representa as nossas matas e florestas.
- O **amarelo** representa as nossas riquezas, como o ouro de nossas minas.
- O **azul** mostra a cor do nosso céu.
- O **branco** simboliza a paz e a união do povo brasileiro.


Na esfera azul existem vinte e sete estrelas que simbolizam os estados e o Distrito Federal, capital do Brasil

Na nossa bandeira há um lema: **Ordem e Progresso.**

Nas festas cívicas e escolares, campeonatos esportivos e outros eventos, hasteamos a bandeira ao som do Hino Nacional.

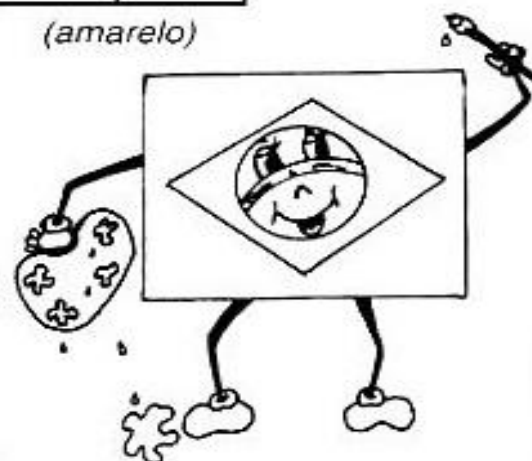
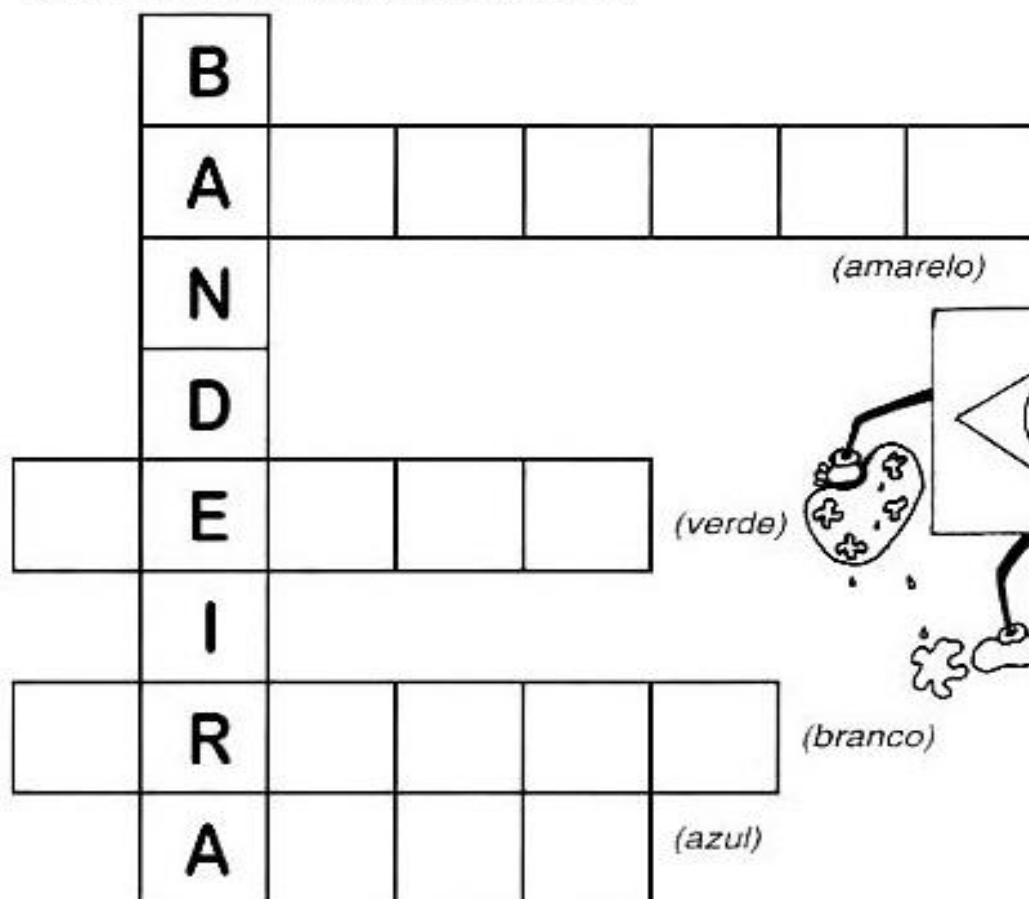
Amar e respeitar a nossa bandeira é demonstrar nosso amor e respeito pelo Brasil.

PINTE BEM BONITO



NOME :

- Completar a cruzadinha abaixo com as cores da Bandeira do Brasil.



- Desenhar a bandeira do seu time preferido no espaço abaixo:



Nome: _____

Consciência negra



O negro e sua influência na cozinha brasileira.

Você sabia que muitos dos alimentos do nosso dia são de origem africana?

Podemos citar o azeite de dendê, a pimenta malagueta, o feijão preto e o quiabo.

Além disso, os negros nos ensinaram a fazer vatapá, caruru, mungunzá, acarajé, angu e pamonha.

Foram os negros, também, que nos ensinaram a fazer pratos com camarão seco e a usar as panelas de barro e a colher de pau.

Circule no texto, as contribuições que do negro para a cozinha brasileira. Depois complete a relação em ordem alfabética:

Acarajé
Angu



NOME: _____

PROFESSOR: _____ DATA: _____

Atividades Suzano

20 DE
NOVEMBRO

$82 + 14 =$

DIA

$28 + 17 =$

NACIONAL

$44 + 35 =$

DA

$71 + 43 =$

CONSCIÊNCIA

$52 + 11 =$

NEGRA

$37 + 26 =$

$22 + 15 =$

$69 + 23 =$



REFERÊNCIAS :

LIVRO ÁPIS ;

SMART KIDS.COM.BR;

NOSSO CLUBINHO.COM.BR;

W.W.W. TODA MATERIA.COM.BR ;

@ CLICLS EDUCATIVO ; BLOGDLIA.JAQUEBLOGS POT.COM.BR ;

W.W.W. ATIVIDADE SUZANO ;