

E.M. ALEXANDRE VANNUCHI LEME

APOSTILA 14

PERÍODO DE 08 DE NOVEMBRO A 29 DE NOVEMBRO

DATA DA ENTREGA: 29 DE NOVEMBRO



PROFESSORA: RITA DE CÁSSIA

PRIMEIRO ANO B

Nome do aluno \_\_\_\_\_

ESCREVA SEU NOME: \_\_\_\_\_

DATA: \_\_\_\_\_

ESCREVA O NOME DAS FIGURAS COM AS PALAVRAS DO  
TEXTO E DEPOIS SEPRE AS SÍLABAS:

O JOGO DO PEGA – PEGA (PRIMEIRA PARTE)

AUTORA FLAVIA

A BOLA CAIU NO MATO E BATEU NO  
PÉ DO SAPO.

O SAPO PULOU DE LADO E FALOU:

- EU TE PEGO BOLA MALUCA!

E DEU PETELECO NA BOLA.



AGORA COMPLETE O TEXTOS COM ESTAS PALAVRAS:

A \_\_\_\_\_ CAIU NO \_\_\_\_\_

E BATEU NO PÉ DO \_\_\_\_\_.

O \_\_\_\_\_ PULOU DE LADO E

FALOU:

- EU TE PEGO \_\_\_\_\_

MALUCA!

E DEU PETELECO NA \_\_\_\_\_.

RESPONDA:

1-) ONDE A BOLA CAIU?

R: \_\_\_\_\_

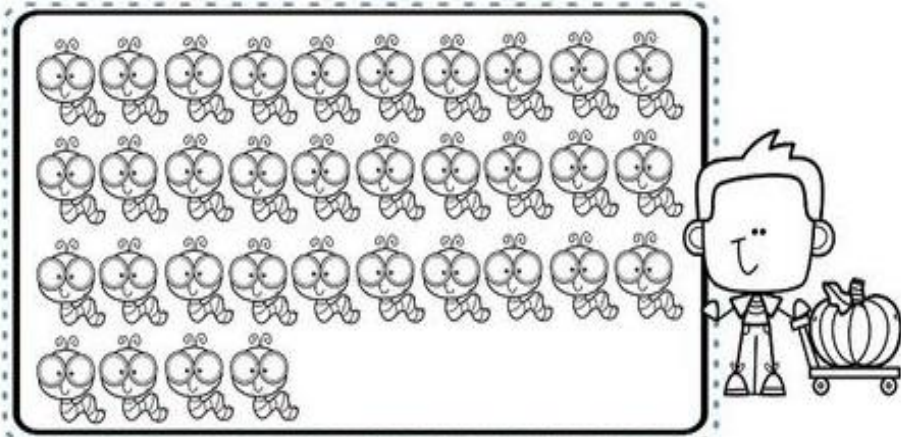
2-) ONDE A BOLA BATEU?

R: \_\_\_\_\_

3-) O QUE O SAPO FEZ?

R: \_\_\_\_\_

1 - CONTE E CIRCULE DE 10 EM 10.



1 GRUPO DE 10 LAGARTINHAS FORMA 1 DEZENA.  
1 LAGARTINHA É 1 UNIDADE.

2 - QUANTOS GRUPOS DE 10 VOCÊ CIRCULOU?

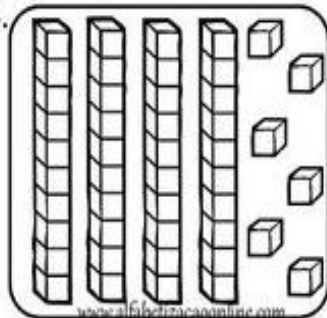
3 - QUANTOS SOBRARAM?

4 - ENTÃO VOCÊ CIRCULOU:

DEZENAS E

UNIDADES.

5 - PINTE AS COLUNAS E CUBINHOS REPRESENTANDO A QUANTIDADE DO CONJUNTO DE LAGARTINHAS.



# Sequência Numérica




# 123






1 - Complete a sequência numérica:

0							
10							
20							
30							
40							

QUEM VEM ANTES?



QUEM VEM DEPOIS?



ESCREVA O SEU NOME: \_\_\_\_\_ COLOQUE A DATA: \_\_\_\_\_

O PATO É UM ANIMAL DIFERENTE:

O JOGO DO PEGA-PEGA (SEGUNDA PARTE)

FLÁVIA MUNIZ

A BOLA VOOU NO CÉU E CAIU NA CUCA DO PATO.

O PATO FICOU BIRUTA E FALOU:

- EU TE PEGO BOLA MALUCA!

E DEU UMA BICADA NA BOLA.

1-) ONDE A BOLA VOOU?

R: \_\_\_\_\_

2-) ONDE A BOLA FOI CAIR?

R: \_\_\_\_\_

3-) O QUE O PATO FEZ COM A BOLA?

R: \_\_\_\_\_

4-) QUAL É O TÍTULO DA HISTÓRIA?

R: \_\_\_\_\_

1-) ELE NÃO TEM BOCA ELE TEM?

R: \_\_\_\_\_









2-) ELE NÃO TEM MÃO, ELE TEM?

R: \_\_\_\_\_

3-) ELE NÃO TEM PELO ELE TEM?

R: \_\_\_\_\_

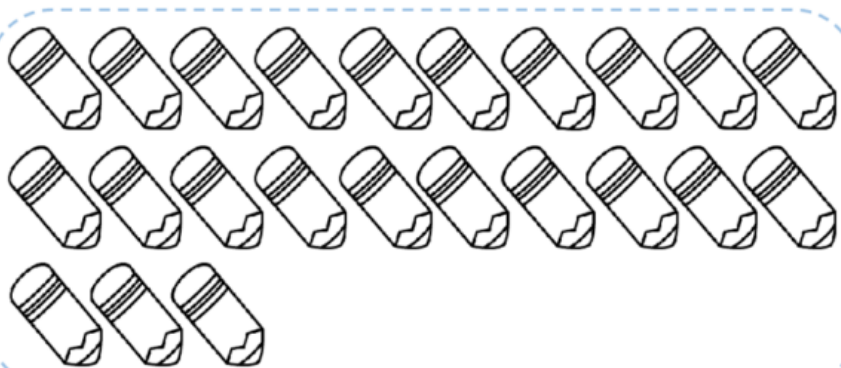
O PATO É UMA AVE, ESCREVA O NOME DAS AVES:

( EMA, TUCANO, PELICANO, GALO, PAPAGAIO, PAVÃO, GAIIVOTA, CORUJA)



- OBSERVE O DESENHO, CONTE ATÉ 10 E CIRCULE. DEPOIS CONTE MAIS 10 E CIRCULE NOVAMENTE.



- AGORA COMPLETE.

A – QUANTOS GRUPOS DE 10 VOCÊ CIRCULOU?

ISSO QUER DIZER QUE VOCÊ CIRCULOU  DEZENAS.

**1 DEZENA =**

**10 + 10 =**  2 DEZENAS

B – QUANTOS LÁPIS FICARAM FORA DO LIMITE QUE VOCÊ FEZ?

C – QUANTOS LÁPIS FALTAM PARA FORMAR OUTRA DEZENA?

VAMOS VER COMO SE ESCREVE:

1- UM	2- DOIS	3 - TRÊS
4 - QUATRO	5 - CINCO	6 - SEIS
7 - SETE	8 - OITO	9 - NOVE
10 - DEZ	11 - ONZE	12 - DOZE
13 - TREZE	14 - CATORZE	15 - QUINZE
16 DEZESSEIS	17 DEZESSETE	18 DEZOITO
19 DEZENOVE	20 VINTE	30 TRINTA
40 QUARENTA	50 CINQUENTA	

OLHANDO NA TABELA ACIMA ESCREVA O NOME DOS NÚMEROS:

1- \_\_\_\_\_

18- \_\_\_\_\_

25- \_\_\_\_\_

20- \_\_\_\_\_

21- VINTE E UM

30- \_\_\_\_\_

40- \_\_\_\_\_

46- \_\_\_\_\_

ESCREVA SEU NOME SOZINHO: DATA: \_\_\_\_\_

COMPLETE SEGUINDO O TEXTO DA AULA PASSADA:


A \_\_\_\_\_ VOOU NO \_\_\_\_\_ E  
CAIU NA CUCA DO \_\_\_\_\_.

O \_\_\_\_\_ FICOU BIRUTA E FALOU:

- EU TE PEGO \_\_\_\_\_ MALUCA.

E DEU UMA BICADA NA \_\_\_\_\_.

ESCREVA O NOME DAS FIGURAS DE ACORDO COM O QUE VOCÊ  
COMPLETOU:




PROCURE O NOME DAS AVES NO CAÇA PALAVRAS:

DEPOIS ESCREVA OS NOMES DAS AVES SEPARANDO AS SÍLABAS:

P	A	V	Ã	O	A	B	C	D	E
F	G	H	I	P	A	T	O	J	K
L	M	C	O	R	U	J	A	C	D
G	A	L	O	C	A	N	O	D	C
C	D	E	T	U	C	A	N	O	B
E	M	A	C	S	Á	B	I	A	B

SEPARE AS SÍLABAS:



### DEZENA

Desenhe os objetos que faltam para completar uma dezena.






UMA DEZENA É IGUAL:



UMA DEZENA É IGUAL:

Pinte somente 1 dezena.



## Qual é o numeral ?

1- Descubra qual é o numeral escondido atrás do desenho.

1		3	4	5		7	8	9	
11	12		14	15	16		18		20
	22	23		25	26	27		29	30
31		33	34		36	37	38	39	
	42	43		45	46	47	48		50

2- Escreva o numeral correspondente no quadro ao lado.

	→	<input type="text"/>		→	<input type="text"/>		→	<input type="text"/>
	→	<input type="text"/>		→	<input type="text"/>		→	<input type="text"/>
	→	<input type="text"/>		→	<input type="text"/>		→	<input type="text"/>
	→	<input type="text"/>		→	<input type="text"/>		→	<input type="text"/>
	→	<input type="text"/>		→	<input type="text"/>		→	<input type="text"/>

ESCREVA SEU NOME SOZINHO

DATA: \_\_\_\_\_

VOCÊ SABE QUE TIPO DE ANIMAL É O GATO?

\_\_\_\_\_

A-) O CORPO DO GATO É COBERTO DE?

R: \_\_\_\_\_

O JOGO DO PEGA-PEGA (TERCEIRA PARTE)

FLÁVIA MUNIZ

B-) O GATO NASCE DA BARRIGA DA?

R: \_\_\_\_\_

A BOLA ROLOU DE LADO E BATEU NO RABO DO GATO.

O GATO PERTENCE AO GRUPO DE ANIMAIS QUE SÃO OS MAMÍFEROS, VOCÊ SABIA QUE NÓS TAMBÉM SOMOS MAMÍFEROS.

O GATO PULOU A JATO E FALOU:

- EU TE PEGO BOLA MALUCA!

E DEU UMA PATADA NA BOLA.

RESPONDA:

COMPLETE O TEXTO DE ACORDO COM O TEXTO

1-) ONDE A BOLA BATEU NO GATO?

A \_\_\_\_\_ ROLOU DE LADO E BATEU

R: \_\_\_\_\_

NO RABO DO \_\_\_\_\_.

2-) COMO FOI O PULO QUE O GATO DEU?

O \_\_\_\_\_ PULOU A JATO E FALOU:

R: \_\_\_\_\_

- EU TE PEGO \_\_\_\_\_ MALUCA!

3-) O QUE O GATO FEZ COM A BOLA?









E DEU UMA PATADA NA \_\_\_\_\_.

R: \_\_\_\_\_










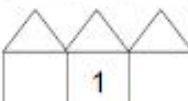

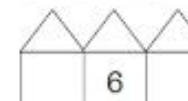
:



1) Colorir os círculos de acordo com o número de elementos de cada conjunto e escrever o número que os representam:







		<input type="text"/>
		<input type="text"/>
		<input type="text"/>
		<input type="text"/>
		<input type="text"/>
		<input type="text"/>

2) Observe os números e escreva o antecessor e o sucessor de:


0	1	2	3	4	5	6	7	8	9	10	11	12	13	14	15
															
															
															

## GRÁFICO BRINCANDO COM CARTAS

AMANDA E SEUS AMIGOS ESTAVAM BRINCANDO DE VER QUEM CONSEGUIA MAIS PONTOS AO SORTEAR AS CARTAS DO JOGO DAS CARTAS DOS ANIMAIS. OBSERVE A TABELA ABAIXO E DESCUBRA QUAIS CARTAS CADA CRIANÇA SORTEOU:

CRIANÇA	CARTAS	QUANTIDADE	NÚMERO
AMANDA		<input type="text"/>	<input type="text"/>
MARIANA		<input type="text"/>	<input type="text"/>
CAIO		<input type="text"/>	<input type="text"/>
ELIAS		<input type="text"/>	<input type="text"/>
ALICE		<input type="text"/>	<input type="text"/>
GIOVANA		<input type="text"/>	<input type="text"/>

AGORA, COMPLETE O GRÁFICO ABAIXO DE ACORDO COM O NÚMERO DE ANIMAIS DE CADA CARTA, QUE CADA CRIANÇA CONSEGUIU, NESTA BRINCADEIRA:



COMPLETE A RETA NUMÉRICA COM OS NÚMEROS FALTOSOS:









ESCREVA O SEU NOME SOZINHO:

DATA: \_\_\_\_\_ OBSERVANDO AS FIGURAS RESPONDA:

VOCÊ CONHECE ESTES MAMÍFEROS? ESCREVA O NOME DELES:

A-) QUAL ANIMAL DA TABELA ACIMA QUE NOS FORNECE LEITE?

R: \_\_\_\_\_

B-) QUAL ANIMAL QUE CONSEGUE VIRAR UMA BOLA PARA SE ESCONDER DO PREDADOR?

R: \_\_\_\_\_

C-) QUAL DESTES ANIMAIS CONSEGUE FICAR VÁRIOS DIAS SEM BEBER ÁGUA?

R: \_\_\_\_\_

D-) QUAL DESTES ANIMAIS GOSTA DE BRINCAR NA ÁGUA? R: \_\_\_\_\_

E-) QUAL DESTES ANIMAIS VIVE APENAS NA ÁGUA?

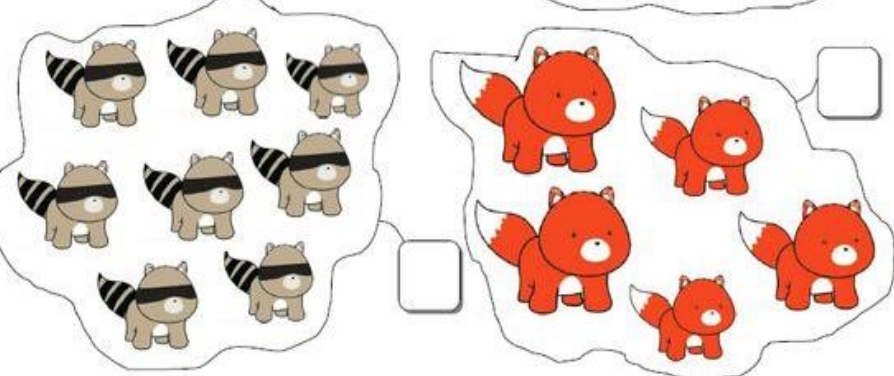
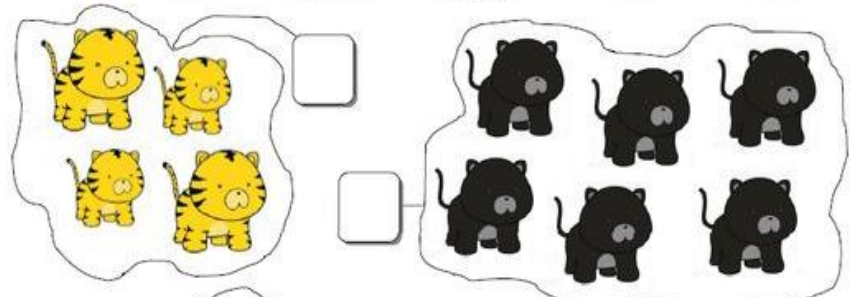

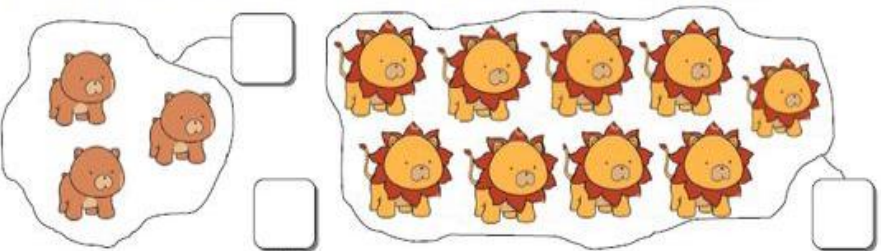
R: \_\_\_\_\_

F-) QUAL DESTES ANIMAIS GOSTA DE BANANA?

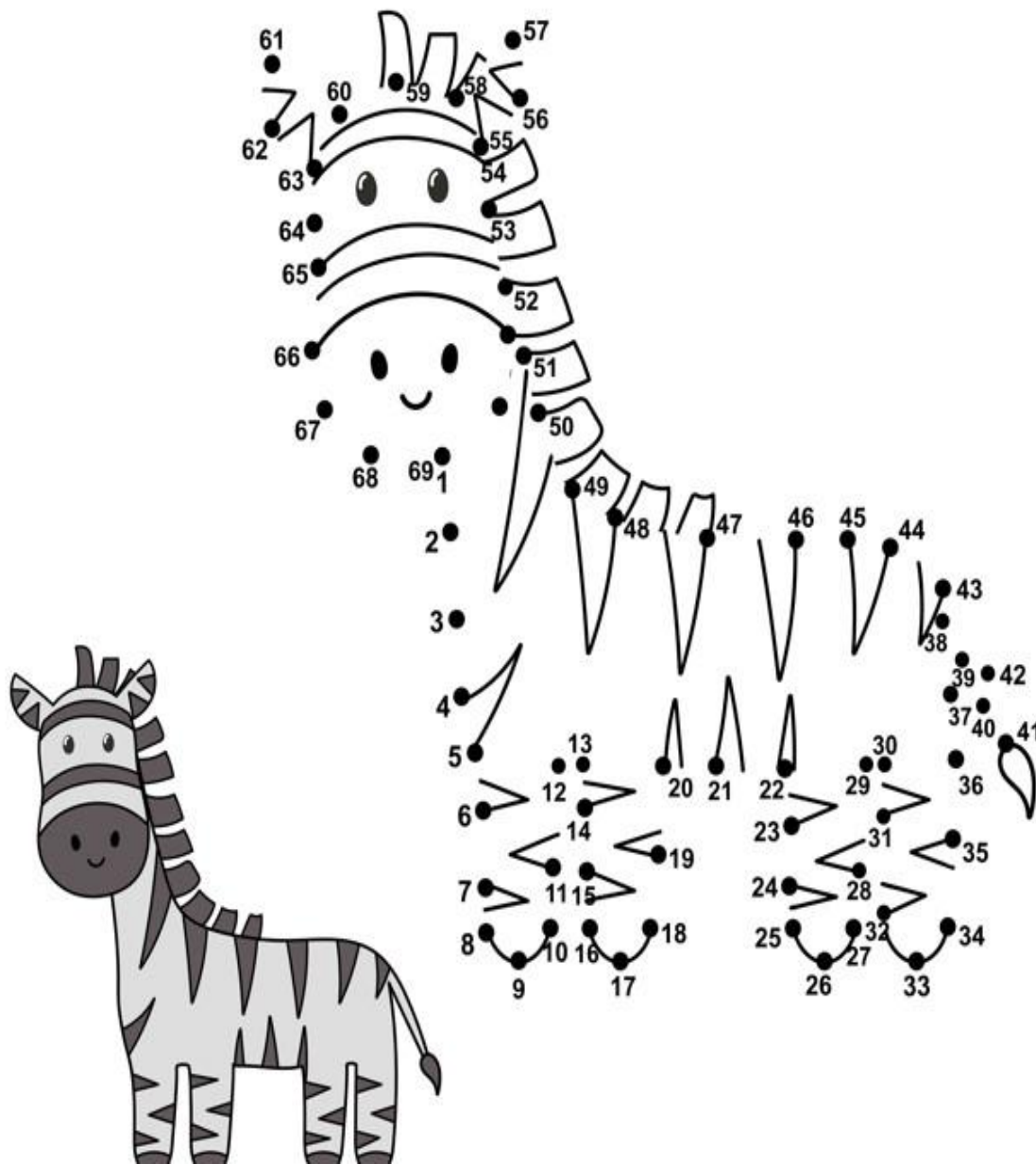
R: \_\_\_\_\_



• CONTE E DESCUBRA QUANTOS ANIMAIS HÁ EM CADA CONJUNTO:



LIGUE OS PONTOS SEGUINDO A SEQUÊNCIA NUMÉRICA:



ESCREVA SEU NOME: DATA: \_\_\_\_\_

TEXTO INFORMATIVO:





A JIBÓIA PERTENCE A UM GRUPO DIFERENTE DE ANIMAIS, ELA PERTENCE AO GRUPO DOS RÉPTEIS.

OS RÉPTEIS GERALMENTE TEM AS PERNINHAS BEM CURTINHAS FAZENDO QUE QUASE QUE SUA BARRIGUINHA ARRASTE NO CHÃO.

OS RÉPTEIS TEM O CORPO COBERTO DE PLAQUINHAS QUE PODEM SER BEM DURAS COMO NAS TARTARUGAS E MAIS FININHAS COMO NAS COBRAS.

OS RÉPTEIS NASCEM DE OVOS .

VAMOS ESCREVER O NOME DE ALGUNS RÉPTEIS

(JABUTI, JACARÉ, JIBÓIA E CAMALEÃO)

RESPONDA COM OS ANIMAIS DA TABELA:

A-) QUAL DESTES ANIMAIS MUDA DE COR?

R: \_\_\_\_\_

B-)QUAL DESTES ANIMAIS TEM SUA CASINHA NAS COSTAS?

R: \_\_\_\_\_

O JOGO DO PEGA-PEGA (QUARTA PARTE)

FLÁVIA MUNIZ

A BOLA RODOU FOI DO LADO DE LÁ E BATEU NA JIBÓIA.

A JIBÓIA FICOU ROXA DE RAIVA E FALOU:

- EU TE PEGO BOLA MALUCA!

E DEU UMA BOCADA NA BOLA.

RESPONDA:

1-) A BOLA BATEU EM QUE ANIMAL AGORA?

R: \_\_\_\_\_

2-)COMO A JIBÓIA FICOU ?

R: \_\_\_\_\_

3-) O QUE A JIBÓIA FALOU PARA A BOLA?

R: \_\_\_\_\_

4-)O QUE A JIBÓIA FEZ COM A BOLA?


R: \_\_\_\_\_



# MATEMÁTICA COM OS DINOSSAUROS



1- OBSERVE A PROMOÇÃO DOS DINOSSAUROS DE COLEÇÃO NAS LOJAS MIL.



VEJA QUANTOS DINOSSAUROS ALICE COMPROU E COLOQUE O VALOR QUE ELA PAGOU POR CADA GRUPO.

	→	<input type="text"/>
	→	<input type="text"/>
	→	<input type="text"/>

LIGUE OS PONTOS SEGUINDO A SEQUÊNCIA NUMÉRICA E VEJA QUAL RÉPTIL VAI APARECER:



ESCREVA SEU NOME: \_\_\_\_\_ DATA: \_\_\_\_\_

COMPLETE O NOME DOS RÉPTEIS COM AS LETRAS QUE FALTAM:

OLHANDO NA HISTÓRIA DA AULA PASSADA COMPLETE O TEXTO:



A \_\_\_\_\_ RODOU FOI DO LADO DE LÁ E BATEU NA \_\_\_\_\_.





A \_\_\_\_\_ FICOU ROXA DE RAIVA E FALOU:

- EU TE PEGO \_\_\_\_\_ MALUCA!

E DEU UMA BOCADA NA \_\_\_\_\_.

ESCREVA O NOME DAS FIGURAS DO TEXTO:

	
_____	_____

	
J _ _ B _ _ _ _	J _ _ C _ _ R _ _
	
J _ _ B _ _ T _ _	C _ _ M _ _ L _ _

1-) A \_\_\_\_\_ É PERIGOSA MAS NÃO TEM VENENO.

2-) O \_\_\_\_\_ ANDA BEM DEVAGAR.

3-) O \_\_\_\_\_ MUDA DE COR QUANDO TEM PERIGO.

4-) O \_\_\_\_\_ É UM ANIMAL MUITO FORTE.

RECORTE AS PEÇAS AO LADO E MONTE ABAIXO O DINOSSAURO:





ESCREVA SEU NOME: \_\_\_\_\_

DATA: \_\_\_\_\_

TEXTO INFORMATIVO:

O JOGO DO PEGA PEGA ( QUINTA PARTE)

FLAVIA MUNIZ

A BOLA FUGIU, ROLOU, PULOU, BATEU E LÁ NO LAGO CAIU.

O PEIXE FICOU DANADO, NADOU ATÉ O MEIO DO LAGO E FALOU;

- EU TE PEGO BOLA MALUCA!

E DEU UMA RABADA NA BOLA.

RESPONDA:

1-) ONDE A BOLA FOI CAIR?

R: \_\_\_\_\_

2-) QUAL ANIMAL QUE ESTÁ BRAVO COM A BOLA AGORA?

R: \_\_\_\_\_

3-) COMO O QUE O PEIXE BATEU NA BOLA?

R: \_\_\_\_\_

OS PEIXES É MAIS UM DOS REINOS ANIMAIS.






OS PEIXES RESPIRAM DEBAIXO DA ÁGUA, TEM O CORPO COBERTO DE ESCAMAS.

ELES NÃO TEM PERNINHAS E SIM NADADEIRAS.

E TAMBÉM BOTAM OVOS.

VOCÊ SABIA QUE A BALEIA E O GOLFINHO SÃO MAMÍFEROS, ELES NÃO RESPIRAM EMBAIXO DA ÁGUA.


SEPARE AS SÍLABAS:

		
TUBARÃO	BAIACU	PIABA
		
BADEJO	TILÁPIA	





# QUANTIDADE




- PINTE 5 PEIXINHOS DE ROXO;
- PINTE 6 PEIXINHOS DE VERMELHO;
- PINTE O RESTANTE DE AMARELO.

QUANTOS PEIXES AMARELOS EXISTEM?


QUANTOS PEIXES ESTÃO NADANDO PARA DIREITA?

QUANTOS NADAM PARA ESQUERDA?

QUANTOS PEIXES EXISTEM?



OS PEIXINHOS NADAM DE 3 EM 3.  
OBSERVE O PEIXINHO DO MEIO. ESCREVA O NÚMERO ANTERIOR E O SEGUINTE  
EM SEUS COMPANHEIROS DE VIAJEM.



MAR DE BOMBEIRA DE COLÓMBIA

ESCREVA SEU NOME: \_\_\_\_\_

DATA: \_\_\_\_\_

COLOQUE O NOME NAS FIGURAS QUE APARECEM NO

TEXTO:

O JOGO DO PEGA PEGA (PARTE FINAL)

FLÁVIA MUNIZ

A BOLA VOOU, SUBIU LÁ NO CÉU.

CAIU NO MATO E BATEU NO MACACO.

O MACACO PEGOU A BOLA E FALOU:

- DE NOVO??!! ETA BOLA MALUCA!

E JOGOU A BOLA NO MATO.

RESPONDA:

1-) EM QUE ANIMAL A BOLA BATEU?

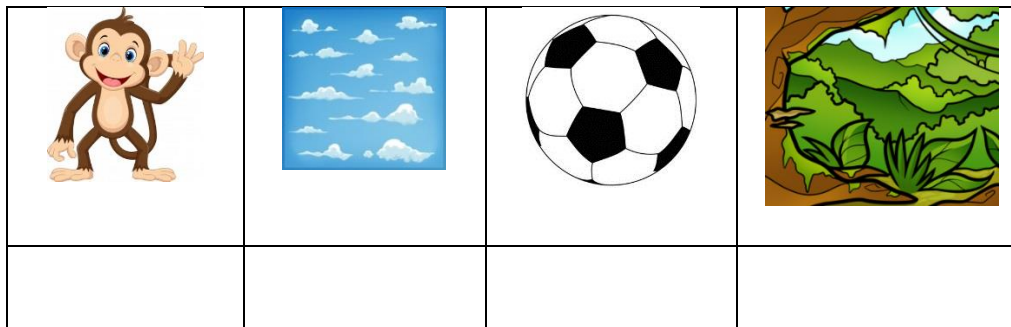
R: \_\_\_\_\_

2-) O QUE O MACACO FALOU?

R: \_\_\_\_\_

3-) O QUE O MACACO FEZ COM A BOLA?

R: \_\_\_\_\_



AGORA COMPLETE O TEXTO:

A \_\_\_\_\_ VOOU, SUBIU LÁ NO \_\_\_\_\_.

CAIU NO \_\_\_\_\_ E BATEU NO \_\_\_\_\_.

O \_\_\_\_\_ PEGOU A \_\_\_\_\_ E

FALOU:

- DE NOVO??!! ETA \_\_\_\_\_ MALUCA!

E JOGOU A \_\_\_\_\_ NO \_\_\_\_\_.

O MACACO PERTENCE A UM REINO ANIMAL QUE NÓS JÁ ESTUDAMOS.

QUAL É O REINO ANIMAL AO QUE O MACACO PERTENCE?

PEIXE




RÉPTIL

MAMÍFERO



PINTANDO OS FATOS

PINTE AS FIGURAS DE ACORDO COM A LEGENDA. PARA ISTO RESOLVA OS FATOS:



LEGENDA:

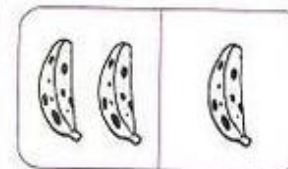

RESULTADO 5 – AZUL

RESULTADO 6 – VERMELHO

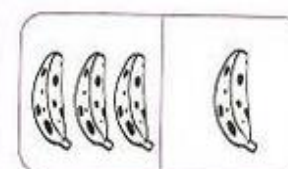
RESULTADO 7 – AMARELO

RESULTADO 8 - VERDE

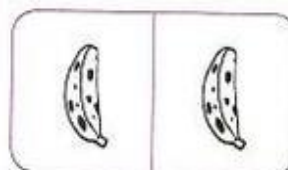
• DESENHE O TOTAL DE BANANAS QUE OS MACACOS PEGARAM NA BANANEIRA.



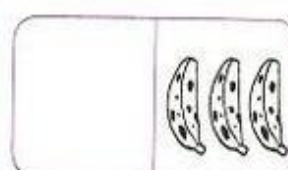
$2 + 1 = \underline{\quad}$



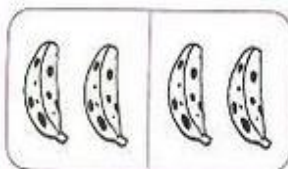
$3 + 1 = \underline{\quad}$



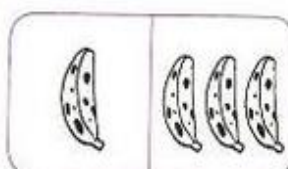
$1 + 1 = \underline{\quad}$



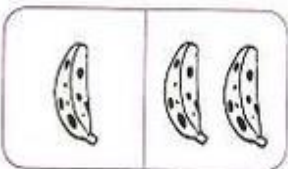
$0 + 3 = \underline{\quad}$



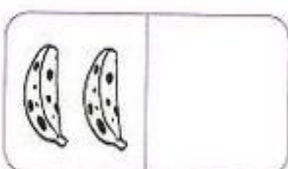
$2 + 2 = \underline{\quad}$



$1 + 3 = \underline{\quad}$



$1 + 2 = \underline{\quad}$



$2 + 0 = \underline{\quad}$






ESCREVA SEU NOME: \_\_\_\_\_




DATA: \_\_\_\_\_

EM QUE PARTE DO CORPO DO ANIMAL A BOLA BATEU?






ESCREVA O QUE CADA ANIMAL FEZ COM A BOLA:

(BOCADA, PATADA, BICADA, RABADA, PETELECO)

 <p>E DEU</p> <p>UM _____</p>	 <p>E DEU UM</p> <p>_____</p>
 <p>E DEU UMA</p> <p>_____</p>	 <p>E DEU UMA</p> <p>_____</p>
 <p>E DEU UMA</p> <p>_____</p>	

 <p>BATEU</p> <p>NO _____</p>	 <p>BATEU</p> <p>NA _____</p>	 <p>BATEU</p> <p>NO _____</p>
--	--	--

O QUE CADA ANIMAL FEZ QUANDO A BOLA BATEU NELE?

 <p>O SAPO</p> <p>_____</p>	 <p>O PATO</p> <p>_____</p>	 <p>O</p> <p>GATO</p> <p>_____</p>
 <p>A JIBÓIA</p> <p>FICOU</p> <p>_____</p>	 <p>O</p> <p>PEIXE</p> <p>_____</p>	



### COMPLETE A SEQUÊNCIA.

3

+2   -1   +5

-2

+2   -4   +3

-1

-6

+9











### QUANTAS PATAS TEM?

QUANTAS PATAS TEM CADA ANIMAL?

ESCREVA SEU NOME: \_\_\_\_\_  
 DATA: \_\_\_\_\_

AGORA VOCÊ VAI SEPARAR ESTES ANIMAIS DE ACORDO COM  
 SEU REINO :

ESCREVA O NOME DOS ANIMAIS:

MAMÍFEROS	AVES

OBSERVANDO OS NOMES QUE VOCÊ ESCREVEU  
 DESCUBRA A LETRA QUE FALTA E COMPLETE:

C \_ \_ V \_ \_ L \_ \_

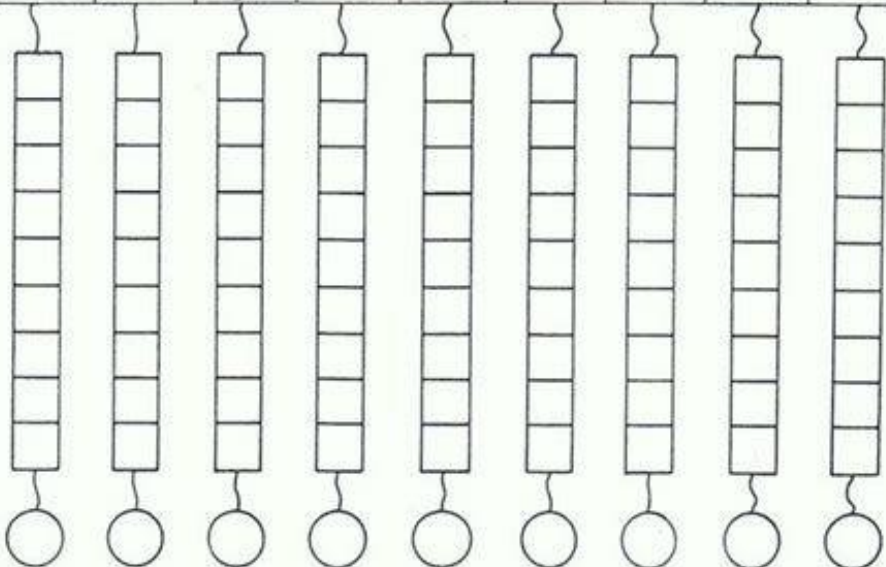

T \_ \_ C \_ \_ N \_ \_

P \_ \_ V \_ \_ \_ \_

P \_ \_ P \_ \_ G \_ \_ \_ \_ \_



CONTE OS ANIMAIS E PINTE NO GRÁFICO A QUANTIDADE. DEPOIS REGISTRE O NUMERAL NO CÍRCULO ABAIXO.




6- NUMA FAZENDA HAVIA 12 CAVALOS E 10 VACAS. QUANTOS ANIMAIS HAVIAM NA FAZENDA?



OPERAÇÃO

RESPOSTA: HAVIAM \_\_\_\_\_ NA FAZENDA.


7- HAVIAM 15 PASSARINHOS NUM JARDIM, 7 VOARAM. QUANTOS PÁSSAROS FICARAM?



OPERAÇÃO

RESPOSTA: FICARAM \_\_\_\_\_ PÁSSAROS.

8- NA FAZENDA DO SEU JOÃO HÁ VÁRIOS ANIMAIS, VEJA O GRÁFICO.



a) QUANTOS CAVALOS TEM NA FAZENDA?

b) QUAL ANIMAL TEM MENOS NA FAZENDA?







c) QUAL ANIMAL TEM MAIS NA FAZENDA?

d) QUANTOS ANIMAIS SEU JOÃO TEM?



ESCREVA SEU NOME: \_\_\_\_\_ DATA: \_\_\_\_\_

ESCREVA O NOME DAS FIGURAS:

AGORA COLOQUE CADA ANIMAL NA COLUNA CERTA:

ESCAMAS	PELO	PENA

PROCURE O NOME DOS ANIMAIS NO CAÇA PALAVRAS

B	A	I	A	C	U	C	X	V	B
M	V	C	B	O	D	E	C	X	Z
B	V	C	V	C	A	V	A	L	O
G	A	I	V	O	T	A	C	D	E
S	D	C	A	M	E	L	O	D	S
P	I	A	B	A	M	N	G	H	J
X	M	V	A	C	A	M	N	V	C
G	A	L	O	S	V	N	M	M	M

BAIACU

BODE

CAVALO

GAIVOTA

CAMELO

PIABA

VACA











GALO



ESCREVA SEU NOME: \_\_\_\_\_ DATA: \_\_\_\_\_

AGORA ACHE O NOME DOS ANIMAIS NO CAÇA-PALAVRAS:

ESCREVA O NOME DO ANIMAL E SEPRE AS SÍLABAS:

	NOME			
				
				
				
				
				
				
				
				
				
				
				

A	B	R	A	T	O	C	S	F	G	H	I	J	K	L
Z	X	C	V	B	N	M	G	A	T	O	M	N	B	C
A	S	D	F	V	A	C	A	W	D	F	G	H	J	L
A	S	D	F	G	H	J	L	N	C	A	V	A	L	O
S	M	A	C	A	C	O	G	H	J	K	L	Ç	P	I
Z	X	C	V	B	N	M	L	E	Ã	O	J	K	L	Ç
B	O	D	E	A	S	D	F	G	H	J	K	L	Ç	P
A	S	D	F	G	H	J	B	O	D	E	F	G	H	J
A	S	C	A	M	E	L	O	D	E	F	G	H	I	S
A	S	D	F	G	H	N	M	E	B	A	L	E	I	A
S	D	F	L	O	B	O	D	A	S	C	R	T	F	A

RESPONDA:

QUAIS DESTES ANIMAIS PODEMOS CRIAR EM NOSSA CASA OU FAZENDA?

R: \_\_\_\_\_

QUAIS DESTES ANIMAIS PODEMOS ENCONTRAR NA MATA PERTO DE NOSSAS CASAS?

R: \_\_\_\_\_

QUAL DESTES ANIMAIS PODEMOS SÓ ENCONTRAR NA ÁGUA?

R: \_\_\_\_\_


QUAL DESTES ANIMAIS QUE MORA LÁ NO DESERTO?

R: \_\_\_\_\_




# GRÁFICOS

OBSERVE O GRÁFICO DE UMA PESQUISA FEITA NO ZOOLOGICO E RESPONDA.

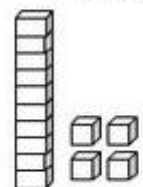
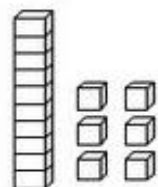
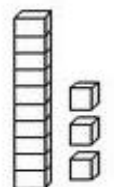
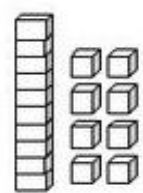

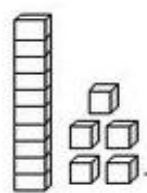
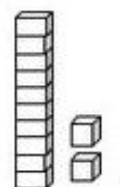
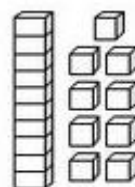
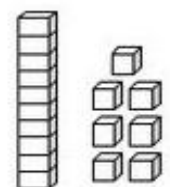


4- SOMANDO-SE OS VOTOS DO GATO E DO MACACO QUAL QUANTIDADE VOU TER?

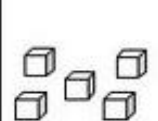

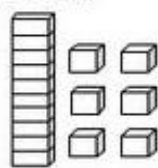

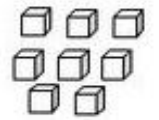
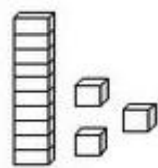
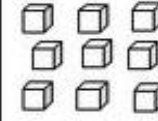
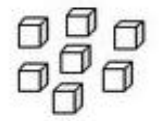
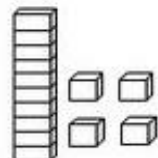


ISRAELA KOTONA

1- ESCREVA O NÚMERO CORRESPONDENTE AO MATERIAL DOURADO.

 _____	 _____	 _____
 _____	 _____	 _____
 _____	 _____	 _____

2 - SOME AS UNIDADES E EM SEGUIDA LIGUE AO RESULTADO.

 + 	
 + 	
 + 	

ESCREVA SUE NOME: \_\_\_\_\_ DATA: \_\_\_\_\_

VAMOS CONVERSAR SOBRE O TEXTO:

O JOGO DO PEGA-PEGA

FLÁVIA MUNIZ

A BOLA CAIU NO MATO E BATEU NO  
PÉ DO SAPO.

O SAPO PULOU DE LADO E FALOU:

- EU TE PEGO BOLA MALUCA!

E DEU PETELECO NA BOLA

A BOLA VOOU NO CÉU E CAIU NA CUCA DO PATO.

O PATO FICOU BIRUTA E FALOU:

- EU TE PEGO BOLA MALUCA!

E DEU UMA BICADA NA BOLA.

A BOLA ROLOU DE LADO E BATEU NO RABO  
DO GATO.

O GATO PULOU A JATO E FALOU:

- EU TE PEGO BOLA MALUCA!

E DEU UMA PATADA NA BOLA.

1- QUAL É O NOME DO TEXTO?

R: \_\_\_\_\_

2-QUEM É A AUTORA DO TEXTO?

R: \_\_\_\_\_

3-CIRCULE NO TEXTO A PALAVRA BOLA

4-QUANTAS VEZES VOCÊ ACHOU A PALAVRA  
BOLA?


R: \_\_\_\_\_

5-QUAIS FORAM OS ANIMAIS QUE APARECERAM  
NESTA PARTE DO TEXTO?

R: \_\_\_\_\_

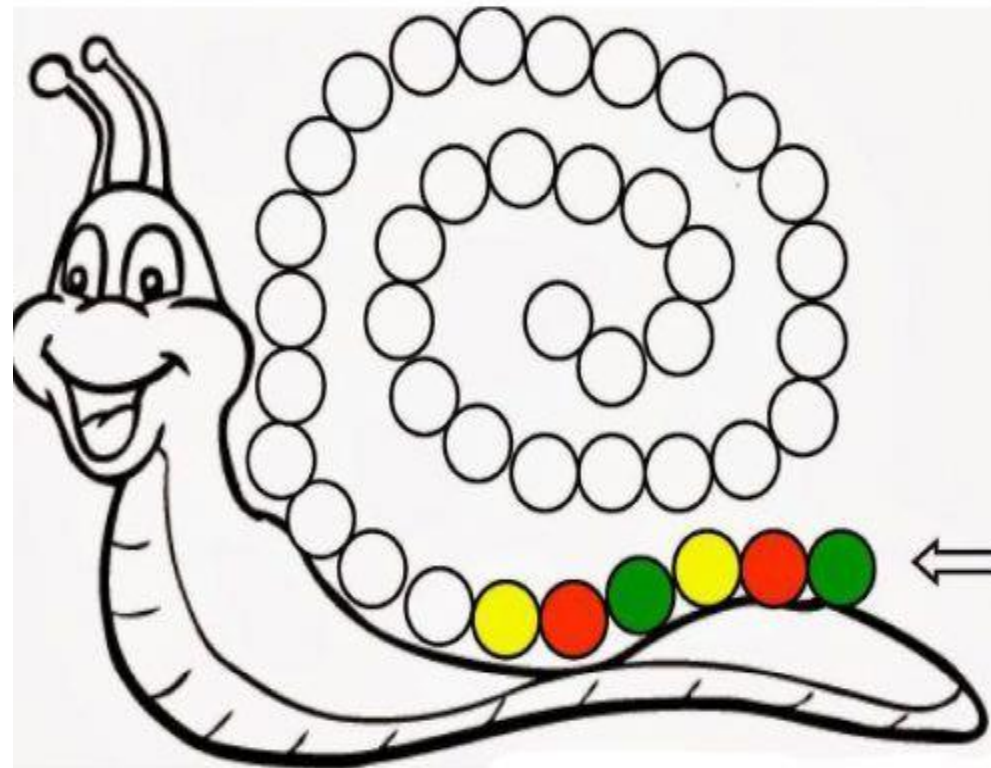
6- COPIE ESTA PARTE DO TEXTO EM UM CADERNO  
E ME MANDE UMA FOTO.

LEVE A ABELHA ATÉ A FLOR:



PRESTE BEM ATENÇÃO!!!

CONTINUE PINTANDO SEGUINDO A SEQUÊNCIA DE CORES CORRETAMENTE:





REFERÊNCIAS:

\* [https://www.alfabetizacaoonline.com/2020/03/08/matematica-1o-ano-  
numeros-naturais/](https://www.alfabetizacaoonline.com/2020/03/08/matematica-1o-ano-<br/>numeros-naturais/)

\* [https://mungfali.com/page/89C040B6C9AB4E1763AF88A4F28DD10056654D4B/educa%C3%A7%C3%A3o\\_infantil\\_facil:\\_sequencia\\_num%C3%A9rica\\_at%C3%A9\\_100\\_em\\_](https://mungfali.com/page/89C040B6C9AB4E1763AF88A4F28DD10056654D4B/educa%C3%A7%C3%A3o_infantil_facil:_sequencia_num%C3%A9rica_at%C3%A9_100_em_)

\* [https://mungfali.com/page/66F83787695804AE36990B72A04E0428DD80ECB6/atividade\\_pronta\\_-\\_sequ%C3%Aancia\\_num%C3%A9rica\\_do\\_1\\_ao\\_](https://mungfali.com/page/66F83787695804AE36990B72A04E0428DD80ECB6/atividade_pronta_-_sequ%C3%Aancia_num%C3%A9rica_do_1_ao_)

\* [https://1.bp.blogspot.com/-shtXZETjG1Y/WdDHysM26EI/AAAAAAAAfLk/odIGrJXA7tgF1ErKc8P\\_dPtKcacevKQqgCLcBGAs/s1600/TRABLHANDO%2BDEZENA-page-001.jpg](https://1.bp.blogspot.com/-shtXZETjG1Y/WdDHysM26EI/AAAAAAAAfLk/odIGrJXA7tgF1ErKc8P_dPtKcacevKQqgCLcBGAs/s1600/TRABLHANDO%2BDEZENA-page-001.jpg)

\* [https://www.google.com.br/search?q=LIGUE+OS+N%C3%9AMEROS+JACAR%C3%89&tbm=isch&ved=2ahUKEwj88b-4rP3zAhWgDrkGHd2aDXUQ2-cCegQIABAA&oq=LIGUE+OS+N%C3%9AMEROS+JACAR%C3%89&gs\\_lcp=CgNpbWcQAzoHCAAQsQMqQzoICAAQgAQQsQM6BQgAEIAEOgQIABBDogsIABCABBCxAxCDAToICAAQsQMqQgE6BggAEAgQHIDaDVi9V2DoWWgAcAB4BIABlgGIAYYZkgEEOC4yMZgBAKABAaoBC2d3cy13aXotaW1nsAEAwAEB&sclient=img&ei=SBuDyfytIqCd5OUP3bW2qAc&bih=500&biw=1079&hl=pt-BR#imgrc=IH50ARa1LFLbmM](https://www.google.com.br/search?q=LIGUE+OS+N%C3%9AMEROS+JACAR%C3%89&tbm=isch&ved=2ahUKEwj88b-4rP3zAhWgDrkGHd2aDXUQ2-cCegQIABAA&oq=LIGUE+OS+N%C3%9AMEROS+JACAR%C3%89&gs_lcp=CgNpbWcQAzoHCAAQsQMqQzoICAAQgAQQsQM6BQgAEIAEOgQIABBDogsIABCABBCxAxCDAToICAAQsQMqQgE6BggAEAgQHIDaDVi9V2DoWWgAcAB4BIABlgGIAYYZkgEEOC4yMZgBAKABAaoBC2d3cy13aXotaW1nsAEAwAEB&sclient=img&ei=SBuDyfytIqCd5OUP3bW2qAc&bih=500&biw=1079&hl=pt-BR#imgrc=IH50ARa1LFLbmM)

\* <http://www.supercoloring.com/puzzle-games/triceratops-dinosaur-jigsaw-puzzle>

\* [https://mungfali.com/page/30556A7506F438FDF4ADE14AAA529FAECFF9823D/a\\_arte\\_de\\_educar:\\_atividades\\_com\\_numerais](https://mungfali.com/page/30556A7506F438FDF4ADE14AAA529FAECFF9823D/a_arte_de_educar:_atividades_com_numerais)

\* [https://israelakotonESCREVA\\_SEUa.blogspot.com/2021/02/diagnostica-inicial-2-ano.html](https://israelakotonESCREVA_SEUa.blogspot.com/2021/02/diagnostica-inicial-2-ano.html)

\* [https://mungfali.com/page/D1066712EC477EC75F30655B34CAE75098264400/pin\\_em\\_1\\_ano-\\_matem%C3%A1tica](https://mungfali.com/page/D1066712EC477EC75F30655B34CAE75098264400/pin_em_1_ano-_matem%C3%A1tica)

\* <https://mungfali.com/post/6110ED9BE8716E687C71C4D0CFCC5D6AA7011776>

\* <https://israelakotona.blogspot.com/>

\* <http://pt.slideshare.net/mobile/culturart/apostila-com-material-dourado-e-snd>