



E.M. "BAIRRO MANUEL CLEMENTE".

PROFESSORA : ANTONIA

1º ANO A

ATIVIDADES DO PERÍODO 08/11 A 30/11/2021.

14ª APOSTILA

A CUCA – TARSILA DO AMARAL



RETIRADA: 30/11

Roteiro de atividades		
DIA	DESCRIÇÃO	PÁGINA
	CAPA A CUCA - OBRA TARSILA DO AMARAL.	01
	ROTEIRO DE ATIVIDADES.	02
08/11	FORMANDO PALAVRAS – NÚMEROS E SÍLABAS.	03
09/11	LER E CIRCULAR AS PALAVRAS COM R.	04
09/11	PINTAR DE ACORDO COM OS RESULTADOS	05
10/11	COBRINDO OS PONTILHADOS LETRA R E PINTAR AS FICHAS.	06
10/11	COMPLETAR O GRÁFICO E RESPONDER AS QUESTÕES.	07
11/11	CIRCULAR A PALAVRA DE ACORDO COM O NOME DA FIGURA.	08
11/11	CONTE E REGISTRE DE 2 EM 2.	09
12/11	COMPLETE E COPIE E FORMAR AS FRASES.	10
12/11	SITUAÇÃO PROBLEMAS.	11
12/11	PROCLAMAÇÃO DA REPÚBLICA.	12
16/11	CIRCULAR AS LETRAS R NO TEXTO.	13
16/11	A SEMANA, RESPONDA AS QUESTÕES.	14
17/11	COPIAR AS FRASES SUBSTITUINDO AS IMAGENS.	15
17/11	MESES DO ANO, QUAIS SÃO?	16
18/11	FAMÍLIA SILÁBICA DA LETRA "S", COMPLETAR AS PALAVRAS COM A FAMÍLIA.	17
18/11	MARCANDO AS HORAS NO RELÓGIO DIGITAL.	18
19/11	LIGUE AS FIGURAS A SUA INICIAL .	19
19/11	AMARELINHA MALUCA, COMPLETE COM NÚMEROS FALTOSOS.	20
22/11	CIRCULAR AS LETRAS "S" DO TEXTO, RESPONDER AS PERGUNTAS E REESCREVER O TEXTO COM AS PALAVRAS QUE FALTAM.	21
22/11	CONTAR E REGISTRAR O NÚMERO DE QUANTIDADES NO CÍRCULO.	22
23/11	COMPLETAR COM A FAMÍLIA DO "S".	23
23/11	FORMAS GEOMÉTRICAS, PINTO O TREM DE ACORDO COM A LEGENDA.	24
24/11	1- LER E DEPOIS CIRCULAR A LETRA S; 2-COMPLETAR COM A FAMÍLIA DA LETRA 'S'; 3-JUNTAR E FORMAR AS PALAVRAS E ; 4-ESCREVER O NOME DAS FIGURAS.	25
24/11	ANTES E DEPOIS, COMPLETE.	26
25/11	SEGUIR AS SETAS E FORMAR AS PALAVRAS.	27
25/11	UNIDADES DE MEDIDAS, RECORTE E COLE CADA UM NA SUA COLUNA.	28
26/11	DESCUBRA O SEGREDO E CONTINUE ,E, PINTAR OS NOMES DAS FIGURAS.	29
29/11	NUMERAR OS NOMES DOS DESENHOS NA COLUNA DO MEIO.	30
30/11	TROCA LETRAS.	31



E.M. "BAIRRO MANUEL CLEMENTE".

IBIÚNA, 08 DE NOVEMBRO DE 2021.

PROFESSORA : ANTONIA

1º ANO A

ALUNO(A): _____

LÍNGUA PORTUGUESA / MATEMÁTICA

Formando palavras

R

Forme palavras de acordo com a numeração:



1 RA	2 DA	3 TO	4 O	5 RU
6 GA	7 SA	8 PA	9 BO	10 MO
11 RI	12 GIO	13 RE	14 LO	15 ZA
16 LO	17 SEI	18 A	19 TA	20 RO

$13+19$

RE TA

$1+14$

$20+17+1$

$5+6$

$13+10$

$20+2$

$1+3$

$1+10$

$11+8$

$20+7$

$5+18$

$20+9$



E.M. "BAIRRO MANUEL CLEMENTE".

IBIÚNA, 09 DE NOVEMBRO DE 2021.

PROFESSORA : ANTONIA


1º ANO A

ALUNO(A): _____

LÍNGUA PORTUGUESA

ALFABETIZAÇÃO


LEIA E CIRCULE AS PALAVRAS COM R E ESCREVA-AS



RATO

O R ESTÁ NO **RATO**
NO RELÓGIO DO RENATO
NO RETRATO DA ROSINHA
E NA ROUPA DA RITINHA

CIRCULE DE VERDE AS FIGURAS QUE INICIAM COM A LETRA R.





E.M. "BAIRRO MANUEL CLEMENTE".

IBIÚNA, 09 DE NOVEMBRO DE 2021.

PROFESSORA : ANTONIA

1º ANO A

ALUNO(A): _____




MATEMÁTICA






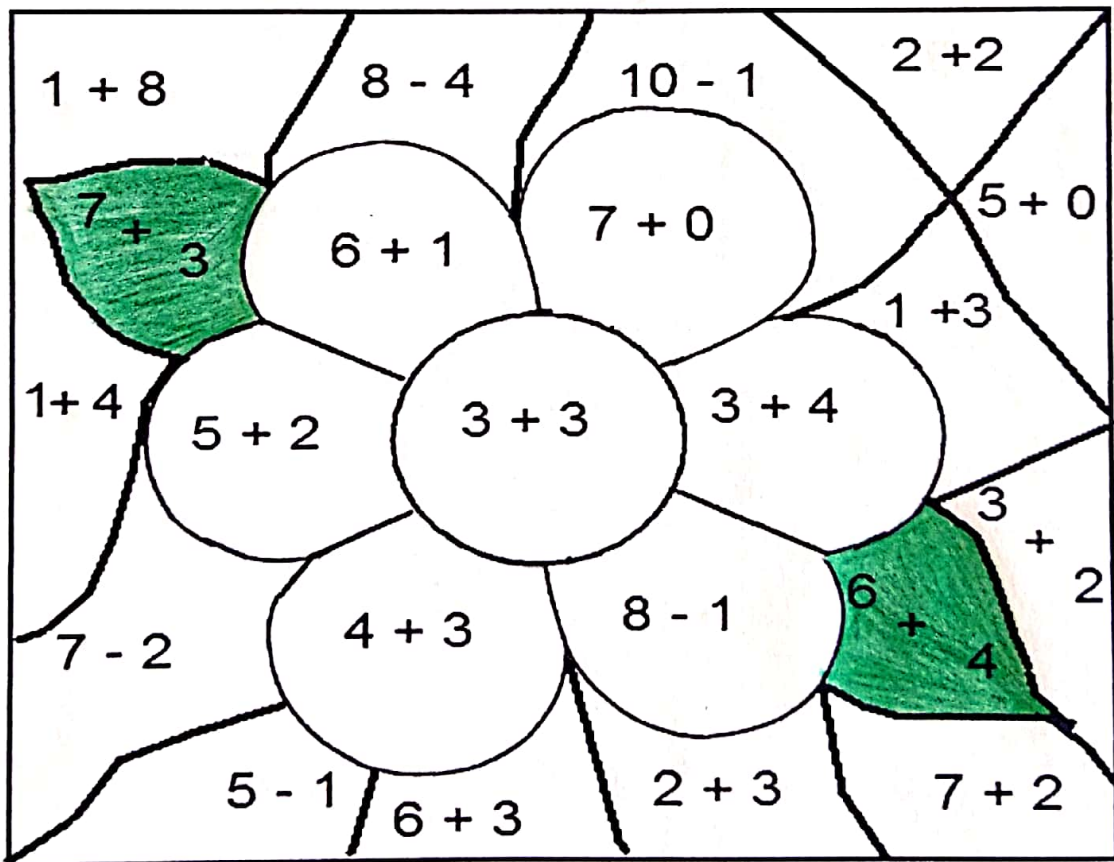
Mistura de Alegria

MATEMÁTICA

Pinte de acordo com os resultados:

- 6 de amarelo 
- 7 de vermelho 
- 10 de verde 

- 4 de azul 
- 5 de marrom 
- 9 de rosa 





E.M. "BAIRRO MANUEL CLEMENTE".

IBIÚNA, 10 DE NOVEMBRO DE 2021.

PROFESSORA : ANTONIA

1º ANO A

ALUNO(A): _____

LÍNGUA PORTUGUESA



ROSINHA





RINOCERONTE

VAMOS COBRIR O PONTILHADO:







VAMOS, AGORA, COMPLETAR AS PALAVRAS:



QUAIS PALAVRAS COMEÇAM COM A LETRA R?

VAMOS PINTAR AS FICHAS!





E.M. "BAIRRO MANUEL CLEMENTE".

IBIÚNA, 10 DE NOVEMBRO DE 2021.


PROFESSORA : ANTONIA

1º ANO A

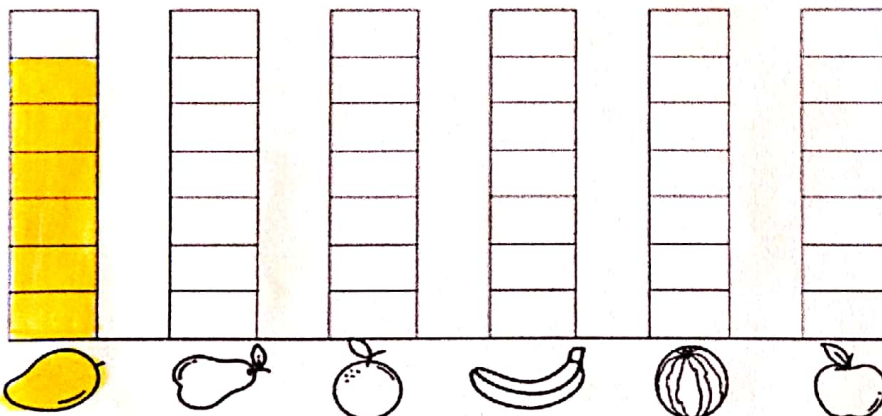
ALUNO(A): _____

MATEMÁTICA

1) FUI À FEIRA COMPRAR ALGUMAS FRUTAS. VEJA NO QUADRO ABAIXO AS FRUTAS QUE COMPRI:



A) CONTE AS FRUTAS E PINTE O GRÁFICO. DEPOIS RESPONDA AS QUESTÕES PROPOSTAS.



B) QUAL FRUTA COMPRI MAIOR QUANTIDADE?

() MANGA. () LARANJA. () MELANCIA. () BANANA.

C) O QUE COMPRI EM MENOR QUANTIDADE: PÊRAS OU MAÇÃS?

D) QUAIS FRUTAS COMPRI EM QUANTIDADES IGUAIS?

() BANANA E LARANJA.

() LARANJA E MANGA.

() BANANA E MANGA.

() MAÇÃ E PÊRA.



E.M. "BAIRRO MANUEL CLEMENTE".

IBIÚNA, 11 DE NOVEMBRO DE 2021.

PROFESSORA : ANTONIA

1º ANO A

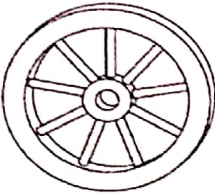



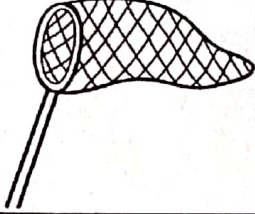


ALUNO(A): _____

LÍNGUA PORTUGUESA

ATIVIDADE

1. CIRCULE A PALAVRA DE ACORDO COM O NOME DE CADA FIGURA.

LETRA R

	<p>RIO RODA ROLO</p>		<p>RUA RUGA RUTE</p>
	<p>REDE REI RÉGUA</p>		<p>RATO RODA REI</p>
	<p>RIO RETA REMO</p>		<p>REMO REI RELÓGIO</p>
	<p>RÁDIO RALO RABO</p>		<p>RAPA REDE RAMO</p>
	<p>RAMO RATO RALO</p>		<p>RIO RIPA RIFA</p>

[https://4.bp.blogspot.com/-](https://4.bp.blogspot.com/-Yxvm4WzDwNs/W7YYzScdYMI/AAAAAAAAACNf8/ID4T1yzEE3stW676kJ_fCb1abzyFG0oigCLcBGAs/s1600/s)

[Yxvm4WzDwNs/W7YYzScdYMI/AAAAAAAAACNf8/ID4T1yzEE3stW676kJ_fCb1abzyFG0oigCLcBGAs/s1600/s](https://4.bp.blogspot.com/-Yxvm4WzDwNs/W7YYzScdYMI/AAAAAAAAACNf8/ID4T1yzEE3stW676kJ_fCb1abzyFG0oigCLcBGAs/s1600/s)
equencia-alfabetica-para-ditado-da-letra-r-imprimir-atividade.jpg



E.M. "BAIRRO MANUEL CLEMENTE".

IBIÚNA, 11 DE NOVEMBRO DE 2021.

PROFESSORA : ANTONIA

1º ANO A

ALUNO(A): _____

MATEMÁTICA

CONTE E REGISTRE SEMPRE DE 2 EM 2.

track:educativos

A)

2		6
	10	
14		18

B)

20		24
	28	
32		36



C)

38		42
	46	
50		54



D)

56		60
	64	
68		72

E)

74		78
	82	
86		90

OBSERVE OS NÚMEROS PARA RESPONDER OS QUADROS.

A) 2 - 4 - 6 - 8 - 10 - 12 - 14 - 16 - 18.

B) 20 - 22 - 24 - 26 - 28 - 30 - 32 - 34 - 36.

C) 38 - 40 - 42 - 44 - 46 - 48 - 50 - 52 - 54 .

D) 56 - 58 - 60 - 62 - 64 - 66 - 68 - 70 - 72 .

E) 74 - 76 - 78 - 80 - 82 - 84 - 86 - 88 - 90.



E.M. "BAIRRO MANUEL CLEMENTE".

IBIÚNA, 12 DE NOVEMBRO DE 2021.

PROFESSORA : ANTONIA

1º ANO A

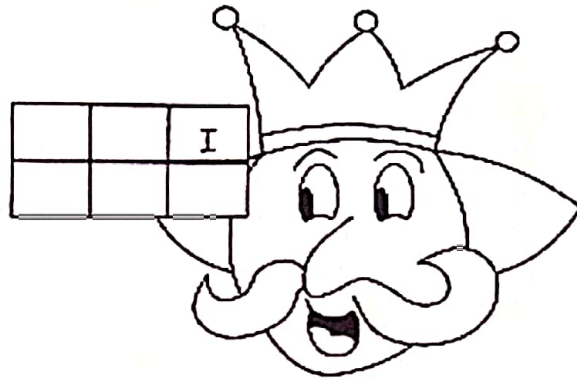
ALUNO(A): _____

LÍNGUA PORTUGUESA

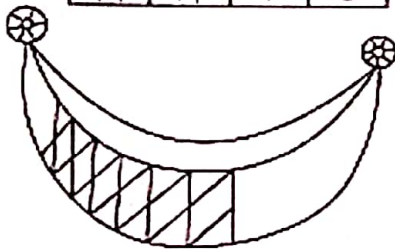
COMPLETE E COPIE:



R	A	T	O
R	A	T	O

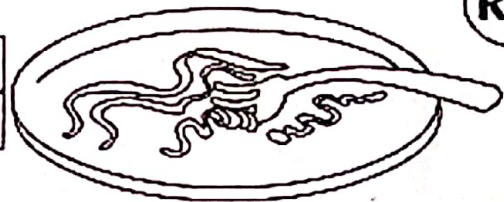


		I



		D	E

M	A	C	A			Ã	O



RA
RE
RI
RO
RU

FORME PALAVRAS:

RE → DE
 RE → MÉDIO
 RE → MO

RÁ → PIDO
 RÁ → DIO

RO → DA
 RO → DO
 RO → BÔ

RI → TA
 RI → VELINO

RA → BO
 RA → TO
 RA → LO

RU → A
 RU → MO



E.M. "BAIRRO MANUEL CLEMENTE".

IBIÚNA, 12 DE NOVEMBRO DE 2021.

PROFESSORA : ANTONIA

1º ANO A

ALUNO(A): _____


MATEMÁTICA

SITUAÇÃO PROBLEMA

MAGALI DESENHOU PARA SUA PROFESSORA 4 ABACAXIS E 3 MELANCIAS. QUANTAS FRUTAS ELA DESENHOU?




ROSINHA ENCONTROU UM NINHO COM 3 PASSARINHOS. CHEGARAM MAIS 6. QUANTOS PASSARINHOS TEM NO TOTAL?



NO SÍTIO DE CHICO BENTO TEM 5 GALINHAS E 3 VACAS. QUANTOS ANIMAIS ELE TEM AO TODO?



MAGALI PLANTOU PELA MANHÃ NO SEU JARDIM 6 FLORES E À TARDE MAIS 3. QUANTAS FLORES TEM NO JARDIM DELA?





E.M. "BAIRRO MANUEL CLEMENTE".

IBIÚNA, 12 DE NOVEMBRO DE 2021.

PROFESSORA : ANTONIA

1º ANO A

ALUNO(A): _____

HISTÓRIA

15 DE NOVEMBRO – PROCLAMAÇÃO DA REPÚBLICA



🍷 Escolha a opção correta:

❖ Quando foi que o Brasil deixou de ser governado por imperador?

- 7 de setembro
- 15 de novembro de 1889
- 21 de abril

❖ Quem proclamou a República no Brasil?

- Dom Pedro I
- Tiradentes
- Marechal Deodoro da Fonseca



E.M. "BAIRRO MANUEL CLEMENTE".

IBIÚNA, 16 DE NOVEMBRO DE 2021.

PROFESSORA : ANTONIA


1º ANO A

ALUNO(A): _____

LÍNGUA PORTUGUESA

CIRCULE AS LETRAS **R** QUE APARECEM NO TEXTO.

TEM NO ROLO E NO RELÓGIO.
NO REPOLHO E NA ROLHA.
APARECE NA RAIZ,
MAS NÃO QUIS FICAR NA FOLHA.



(ABC DA MÔNICA)

QUANTAS VEZES APARECE A LETRA **R** NO TEXTO?

AGORA, COMPLETE O TEXTO COM AS PALAVRAS QUE ESTÃO FALTANDO.

TEM NO _____ E NO _____,
NO _____ E NA _____.
APARECE NA _____,
MAS NÃO QUIS FICAR NA FOLHA.

REPOLHO - ROLO - ROLHA - RELÓGIO - RAIZ



E.M. "BAIRRO MANUEL CLEMENTE".

IBIÚNA, 16 DE NOVEMBRO DE 2021.

PROFESSORA : ANTONIA

1º ANO A

ALUNO(A): _____

MATEMÁTICA

A SEMANA

A semana vai e vem,
Cada dia trabalho tem.
Domingo, segunda-feira, terça-feira
Quarta-feira, quinta-feira, sexta-feira
E sábado também.

Carolina Rodrigues Pinto



1) Circule, no poema, os dias da semana que você vai à escola e pinte os dias que não tem aula.

2) Quantos dias tem a semana?

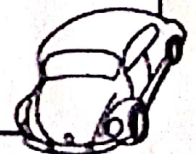
3) Que dia da semana é hoje?

4) Amanhã que dia será?

5) Qual é o primeiro dia da semana?

6) O que, o que é?

São 7 irmãos. 5 têm o mesmo sobrenome e 2, não.





E.M. "BAIRRO MANUEL CLEMENTE".


IBIÚNA, 17 DE NOVEMBRO DE 2021.

PROFESSORA : ANTONIA

1º ANO A



ALUNO(A): _____



LÍNGUA PORTUGUESA



COPIE AS FRASES SUBSTITUINDO AS IMAGENS
POR PALAVRAS.

O  ROEU A  .

A  É DO  .

O  É  .

BANCO DE PALAVRAS:

RATO – REDE – RODA – ROBÔ – REI – RICO.

<https://2.bp.blogspot.com/-i7OSY44H5m0/Wwhixk8QzzI/AAAAAAAAAGPU/668h0QpgqJI9onXWaBUqLPtRdGnzzEKZgCLcBGAs/s1600/FRASE%2BR-02.png>



E.M. "BAIRRO MANUEL CLEMENTE".

IBIÚNA, 17 DE NOVEMBRO DE 2021.

PROFESSORA : ANTONIA

1º ANO A







ALUNO(A): _____

MATEMÁTICA

MESES DO ANO



AGORA É COM VOCÊ!

-  Qual é o primeiro mês do ano? _____
-  Pinte de vermelho o mês do seu aniversário.
-  Qual é o quarto mês do ano? _____
-  Qual é o mês que tem o nome com 4 letras? _____
-  Qual é o mês que tem o maior número de letras? _____
-  Em qual mês do ano festejamos o Natal? _____



E.M. "BAIRRO MANUEL CLEMENTE".

IBIÚNA, 18 DE NOVEMBRO DE 2021.

PROFESSORA : ANTONIA

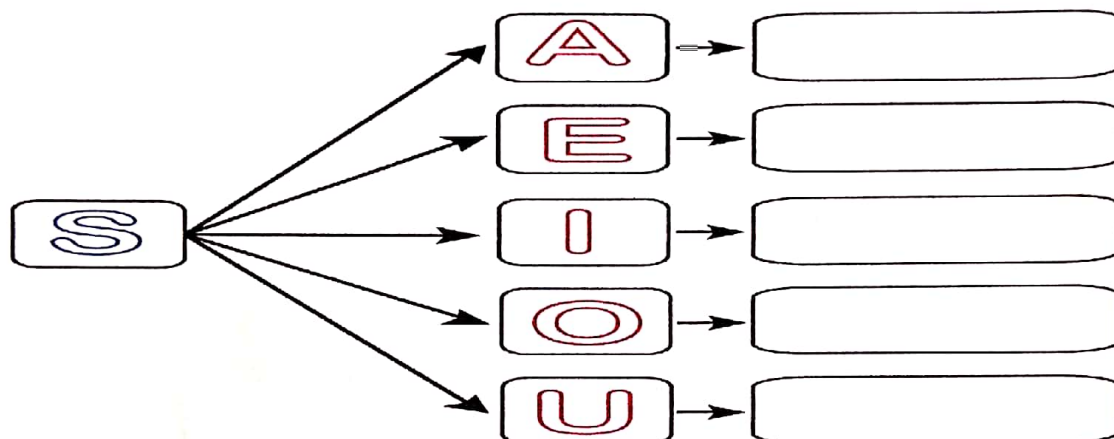
1º ANO A

ALUNO(A): _____

LÍNGUA PORTUGUESA

FAMÍLIA SILÁBICA S

UNA A LETRA S COM CADA VOGAL E FORME AS SÍLABAS:



1- VAMOS COMPLETAR COM SA, SE, SI, SO OU SU:



___ PO



___ NO



___ CO



___ L



___ REIA



___ PATO



E.M. "BAIRRO MANUEL CLEMENTE".

IBIÚNA, 18 DE NOVEMBRO DE 2021.

PROFESSORA : ANTONIA

1º ANO A









ALUNO(A): _____

MATEMÁTICA



MARCANDO NO RELÓGIO DIGITAL

- A QUE HORAS VOCÊ REALIZA CADA UMA DAS ATIVIDADES ABAIXO? MARQUE UM X NO HORÁRIO E, DEPOIS, REGISTRE NO RELÓGIO DIGITAL.

COLUNA 1	COLUNA 2	COLUNA 3
EU ACORDO E ME LEVANTO ÀS... 	<input type="radio"/> 7 HORAS <input type="radio"/> 8 HORAS <input type="radio"/> 9 HORAS	
EU ALMOÇO ÀS... 	<input type="radio"/> 10 HORAS <input type="radio"/> 11 HORAS <input type="radio"/> 12 HORAS	
VOU PARA A ESCOLA ÀS... 	<input type="radio"/> 7 HORAS <input type="radio"/> 12 HORAS <input type="radio"/> 13 HORAS	
VOU DORMIR ÀS... 	<input type="radio"/> 20 HORAS <input type="radio"/> 21 HORAS <input type="radio"/> 22 HORAS	



E.M. "BAIRRO MANUEL CLEMENTE".

IBIÚNA, 19 DE NOVEMBRO DE 2021.

PROFESSORA : ANTONIA

1º ANO A









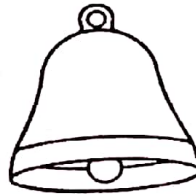
ALUNO(A): _____

LÍNGUA PORTUGUESA

LINGUAGEM

FAMÍLIA SILÁBICA
S

LIGUE:





E.M. "BAIRRO MANUEL CLEMENTE".

IBIÚNA, 22 DE NOVEMBRO DE 2021.

PROFESSORA : ANTONIA

1º ANO A

ALUNO(A): _____

LÍNGUA PORTUGUESA

CIRCULE AS LETRAS S QUE APARECEM NO TRAVA-LÍNGUA.

OLHA O SAPO DENTRO DO SACO,
O SACO COM O SAPO DENTRO,
O SAPO BATENDO PAPO,
E O PAPO SOLTANDO VENTO.



QUANTAS VEZES APARECE A LETRA S NO TEXTO?

QUANTAS VEZES VOCÊ ABRE A BOCA PARA FALAR A PALAVRA SAPO?

QUANTAS LETRAS TEM A PALAVRA SAPO?

AGORA, COMPLETE O TEXTO COM AS PALAVRAS QUE ESTÃO FALTANDO.

OLHA O _____ DENTRO DO _____.
O _____ COM O _____ DENTRO,
O _____ BATENDO PAPO,
E O PAPO _____ VENTO.

S



E.M. "BAIRRO MANUEL CLEMENTE".

IBIÚNA, 22 DE NOVEMBRO DE 2021.








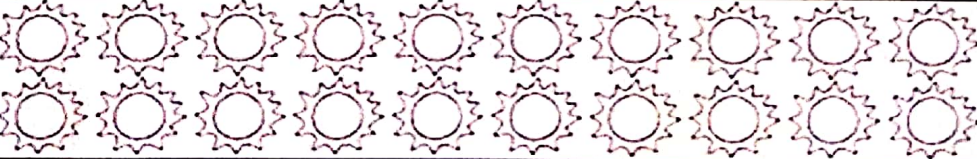
PROFESSORA : ANTONIA

1º ANO A

ALUNO(A): _____

MATEMÁTICA

- CONTE E ESCREVA O NUMERAL QUE INDICA A QUANTIDADE DE ELEMENTOS NO CÍRCULO AO LADO.

	<input type="text"/>
	<input type="text"/>
	<input type="text"/>
	<input type="text"/>
	<input type="text"/>
	<input type="text"/>
	<input type="text"/>
	<input type="text"/>



E.M. "BAIRRO MANUEL CLEMENTE".

IBIÚNA, 23 DE NOVEMBRO DE 2021.

PROFESSORA : ANTONIA

1º ANO A

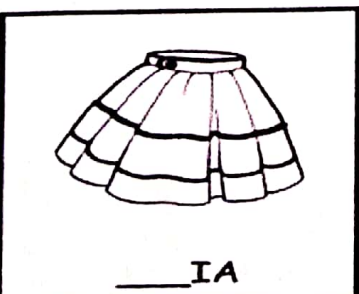








ALUNO(A): _____

LÍNGUA PORTUGUESA



VAMOS COMPLETAR AS PALAVRAS:

SA - SE - SI - SO - SU





E.M. "BAIRRO MANUEL CLEMENTE".

IBIÚNA, 23 DE NOVEMBRO DE 2021.

PROFESSORA : ANTONIA

1º ANO A

ALUNO(A): _____

MATEMÁTICA

FORMAS GEOMÉTRICAS

CAPRICHE NA PINTURA DO TRENZINHO, SEGUINDO A LEGENDA.



AMARELO




AZUL



VERMELHO



VERDE





E.M. "BAIRRO MANUEL CLEMENTE".

IBIÚNA, 24 DE NOVEMBRO DE 2021.

PROFESSORA : ANTONIA

1º ANO A

ALUNO(A): _____

LÍNGUA PORTUGUESA

1. LEIA E DEPOIS CIRCULE A LETRA S:

SAIA SAÚDE SINETA SOZINHO
SECRETO SENTIDO SOPA SACOLA

2. COMPLETE COM SA, SE, SI, SO ou SU:



___ PATO



___ RROTE



___ RVETE



___ NO



___ CO



___ LDADO

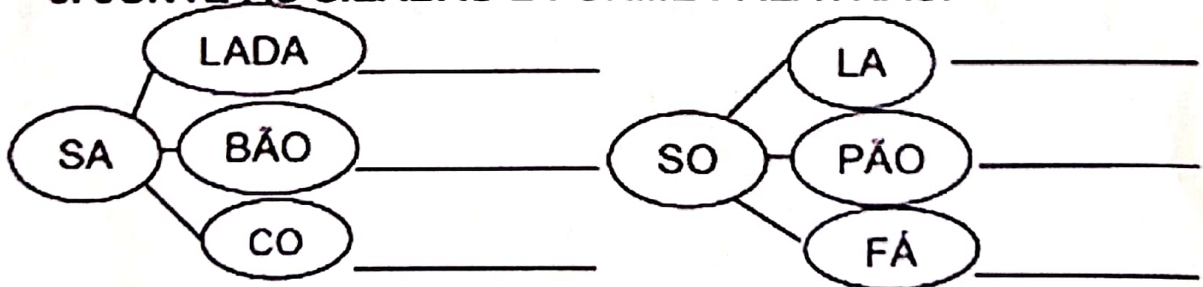


___ PO



___ RPENTE

3. JUNTE AS SÍLABAS E FORME PALAVRAS:



4. ESCREVA O NOME DAS FIGURAS:











E.M. "BAIRRO MANUEL CLEMENTE".

IBIÚNA, 24 DE NOVEMBRO DE 2021.

PROFESSORA : ANTONIA

1º ANO A

ALUNO(A): _____

MATEMÁTICA

Coloque o número que vem antes e depois.



	25	
	18	
	30	
	56	
	74	
	15	
	27	
	71	



	95	
	23	
	69	
	99	
	12	
	20	
	40	
	69	



E.M. "BAIRRO MANUEL CLEMENTE".

IBIÚNA, 25 DE NOVEMBRO DE 2021.

PROFESSORA : ANTONIA


1º ANO A


ALUNO(A): _____


LÍNGUA PORTUGUESA

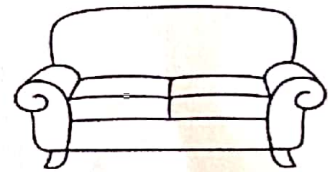


SIGA AS SETAS E PARA FORMAR AS PALAVRAS:

 → PATO _____
→ COLA _____
→ LADA _____




 → NECA _____
→ PA _____
→ FÁ _____



 → CO _____
→ ADO _____
→ JEIRA _____



 → TE _____
→ TA _____
→ REIA _____





E.M. "BAIRRO MANUEL CLEMENTE".

IBIÚNA, 25 DE NOVEMBRO DE 2021.

PROFESSORA : ANTONIA

1º ANO A


ALUNO(A): _____

MATEMÁTICA

UNIDADES DE MEDIDAS.

Recorte os objetos abaixo e cole na coluna correta:

COMPRAMOS A:		
METRO	QUILO	LITRO





E.M. "BAIRRO MANUEL CLEMENTE".

IBIÚNA, 26 DE NOVEMBRO DE 2021.

PROFESSORA : ANTONIA

1º ANO A

ALUNO(A): _____

LÍNGUA PORTUGUESA

DESCUBRA O SEGREDO E CONTINUE:

SA

SINO



si - no

SE

SAPO



SI

SOFÁ



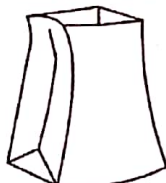
SO

SUCO



SU

SACOLA



SAPATO



SA	PO	CA	BO
SE	CO	SA	RA
CU	SI	CO	RE
BA	NO	LA	BU
BE	RI	SO	PA
PE	SI	FÁ	RU
PI	SA	PA	TO
SU	SO	PO	MA
CO	RO	SU	LE


PINTE OS NOMES DOS DESENHOS:



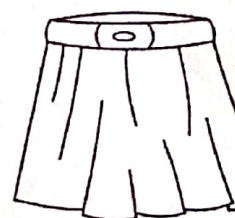
SABIÁ
SEU
SAPO
SABIDO



SUCO
SÃO
SOPA
SUADO



SEDE
SOL
SOMA
SODA



SACADA
SOPAPO
SABÃO
SAIA



É.M. "BAIRRO MANUEL CLEMENTE".

IBIÚNA, 29 DE NOVEMBRO DE 2021.

PROFESSORA : ANTONIA

1º ANO A

ALUNO(A): _____

LÍNGUA PORTUGUESA / MATEMÁTICA


NUMERE OS NOMES DOS DESENHOS DE ACORDO:



1-SOLDADO



2-SAPO



3-SUCO



4-SOFÁ



5-SAPATO




6-SABIA



7-SELO



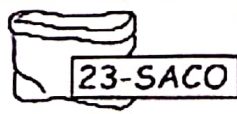
8-SOL



9-SACI



10-SOLA



23-SACO



22-SOPA




21-SEREIA

- SALA
- SAPO
- SABONETE
- SUCO
- SINO
- SOFÁ
- SAL
- SACOLA
- SAPATO
- SAIA
- SABIÁ
- SOLA
- SOLDADO
- SELO
- SACO
- SOPA
- SALAME
- SACI
- SEIS
- SEREIA
- SALADA
- SOL
- SETA



11-SALAME



12-SALA



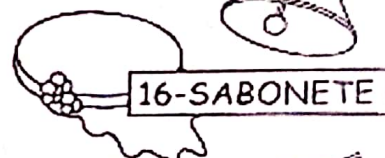
13-SEIS



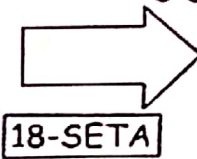
14-SACOLA



15-SINO



16-SABONETE



18-SETA



17-SAIA



20-SALADA



19-SAL

- SA
- SE
- SI
- SO
- SU



E.M. "BAIRRO MANUEL CLEMENTE".

IBIÚNA, 30 DE NOVEMBRO DE 2021.

PROFESSORA : ANTONIA

1º ANO A

ALUNO(A): _____

LÍNGUA PORTUGUESA

TROCA-LETRA S

Troque as letras iniciais das palavras pela letra S.

MALA: SALA

TELA: _____

PINO: _____

BELO: _____

TERRA: _____

BOLA: _____

BETE: _____

TECA: _____

TACO: _____

MENTA: _____

FINAL: _____

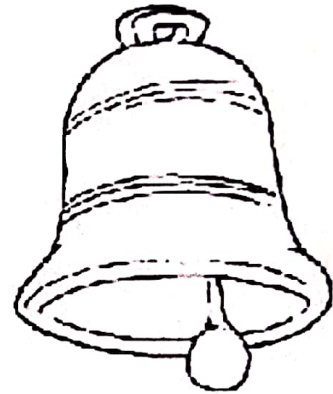
COPA: _____

CUSTO: _____

VOLTA: _____

BALÃO: _____

FANTA: _____





E.M. "BAIRRO MANUEL CLEMENTE".

IBIÚNA, 30 DE NOVEMBRO DE 2021.



PROFESSORA : ANTONIA

1º ANO A

ALUNO(A): _____

MATEMÁTICA

CIRCULE OS PRODUTOS QUE COMPRAMOS A METRO.



PINTE OS PRODUTOS QUE COMPRAMOS A LITRO.



MARQUE COM UM X O QUE PODEMOS COMPRAR A QUILO.

