



E.M. BAIRRO MANUEL CLEMENTE.

PROFESSORA: Marcia Aguiar

ANO: 2º A

ALUNO: _____

ATIVIDADES DE LÍNGUA PORTUGUESA E MATEMÁTICA

Ivan Cruz – Pulando Corda I



APOSTILA 14

ATIVIDADES DO PERÍODO DE 08/11/21 A 30/11/21

ENTREGA AOS PAIS 08/11/21

DEVOLUÇÃO DA APOSTILA NA UNIDADE

ESCOLAR : 30/11/21



E.M. BAIRRO MANUEL CLEMENTE.

PROFESSORA: Marcia Aguiar

ANO: 2º A

ALUNO: _____

DIA	DESCRIÇÃO	PÁGINA
08/11	LEITURA BIOGRAFIA ARTÍSTA: IVAN CRUZ..E COLORIR	03,04
09/11	LEITURA TEXTO :HIGIENE PESSOAL E RESPONDA.	05
09/11	MATEMÁTICA :OBSERVE AS CASAS E RESPONDA.	06
10/11	OBSERVE AS FRUTAS E RESPONDA E ENUMERE / MATEMÁTICA:OBSERVE A LISTA DE NUMERAIS E RESPONDA.	07
11/11	LEITURA DO TEXTO E RESPONDA/ PINTE OS BRINQUEDOS COM AS CORES INDICADAS	10
12 E 15/11	PROCLAMAÇÃO DA REPÚBLICA-LEITURA INFORMATIVA ,EXERCÍCIOS E COLORIR O DESENHO SOBRE A DATA	11,12 E 13
16/11	LENDO AS FRASES E MARQUE A CORRETA/COMPLETE A TABELA DE NUMEROS	14 E 15
17/11	ENUMERE AS FÍGURAS E RESPONDA / RESOLVA AS CONTINHAS	16 E 17
18/11	CAÇA PALAVRAS MESES DO ANO E LEITURA DOS MESES DO ANO.	18
19/11	LEIA AS PALAVRAS E COPIE / ENUMERE OS DESENHOS	19
22 E 23/11	RESOLVA AS CONTINHAS / CAÇA PALAVRAS DAS FRUTAS	20 E 21
24/11	ESCREVA AS PALAVRAS NO LUGAR CERTO / COMPLETE A SEQUÊNCIA NUMÉRICA	22 E 23
25/11	FAÇA UMA LISTA DE BRINQUEDOS E BRINCADEIRAS / DIAS DA SEMANA RESPONDA:	24 E 25
26/11	LEITURA E INTERPRETAÇÃO TEXTO-À PIPA DE MIGUEL/ LEITURA DO GRÁFICO E RESPONDA.	26 E 27
29/11	COMPLETE COM AS SÍLABAS QUE FALTAM E REESCREVA AS FRASES /RESOLVA AS CONTINHAS.	28 E 29
30/11	LEIA AS PALAVRAS E RESPONDA AOS EXERCÍCIOS / COMPLETE A SEQUÊNCIA NUMÉRICA.	30 E 31



E.M. BAIRRO MANUEL CLEMENTE.

PROFESSORA: Marcia Aguiar

ANO: 2º A

ALUNO: _____

DATA: 08/11

LÍNGUA PORTUGUESA

Leitura



Biografia: Artista Plástico IvanCruz.

O artista plástico Ivan Cruz nasceu em 1947 no Rio de Janeiro e brincava pelas ruas de seu bairro como toda criança, foi no ano de 1990 que Ivan Cruz pintou seus primeiros quadros com temas de sua infância, mais precisamente suas brincadeiras. Passou a retratar em suas telas: piões, crianças pulando corda, pulando

Ivan Cruz propõe resgatar um sentido pedagógico para suas obras.

“Resgatar o lúdico, a imaginação, poder incentivar o

desenvolvimento Real das crianças, motor e cognitivo proporcionado pelas velhas brincadeiras”.





E.M. BAIRRO MANUEL CLEMENTE.


PROFESSORA: Marcia Aguiar

ANO: 2º A

ALUNO: _____

DATA: 08/11

ARTE





E.M. BAIRRO MANUEL CLEMENTE.

PROFESSORA: Marcia Aguiar

ANO: 2º A

ALUNO: _____

DATA: 09/11

LÍNGUA PORTUGUESA

✚ SAÚDE

HIGIENE PESSOAL



PARA TER BOA SAÚDE
DEVEMOS DO CORPO CUIDAR
TOMAR BANHO DIARIAMENTE E
ROUPAS LIMPAS USAR.

MANTER AS MÃOS BEM LAVADAS E
AS UNHAS SEMPRE CORTADAS
LAVAR FRUTAS E VERDURAS
ANTES DE SEREM USADAS.

COMER SEMPRE NA HORA CERTA E
OS DENTES ESCOVAR
AO DORMIR, AO ACORDAR
E DEPOIS DE ME ALIMENTAR.

SEMPRE ESPORTES PRATICAR E
BEM CEDO LEVANTAR, BEBER
ÁGUA FILTRADA PARA AS
DOENÇAS EVITAR.



- 2) ENCONTRE NO CAÇA-PALAVRAS AS 8 PALAVRAS QUE ESTÃO EM DESTAQUE NO POEMA.





E.M. BAIRRO MANUEL CLEMENTE.

PROFESSORA: Marcia Aguiar

ANO: 2º A

ALUNO: _____

DATA: 09/11

MATEMÁTICA

OBSERVE BEM AS CASAS ABAIXO E RESPONDA O QUE SE PEDE:



1- QUANTAS CASAS VOCÊ VÊ NA IMAGEM ACIMA?

2- QUAL É O NÚMERO DA CASA QUE TEM ANTENA?

3- QUAL É O NÚMERO DA CASA QUE TEM CORTINAS EM TODAS AS JANELAS?

4- QUAL É O NÚMERO DA CASA QUE FICA ENTRE A CASA 46 E A CASA 52?

5- SE HOUVESSE OUTRA CASA DEPOIS DA CASA 52, QUAL SERIA O NÚMERO DELA?



E.M. BAIRRO MANUEL CLEMENTE.

PROFESSORA: Marcia Aguiar

ANO: 2º A

ALUNO: _____

DATA: 10/11


LÍNGUA PORTUGUESA

FRUTAS FAVORITAS

1. HÁ O NOME DE OITO FRUTAS ABAIXO, MAS CADA UM DOS NOMES ESTÁ EMBARALHADO. DESEMBARALHE-OS E ESCREVA CORRETAMENTE OS NOMES DAS FRUTAS:

1. NABANA - _____
2. RMOGOAN - _____
3. JACERE - _____
4. RAPE - _____
5. MÃLIO - _____
6. SÊSGEPO - _____
7. ÇÃMA - _____
8. LEMANCAI - _____

2. NUMERE AS FRUTAS ABAIXO DE ACORDO COM OS NÚMEROS RELACIONADOS À ELAS NO EXERCÍCIO ANTERIOR:





E.M. BAIRRO MANUEL CLEMENTE.

PROFESSORA: Marcia Aguiar

ANO: 2º A

ALUNO: _____

DATA: 10/11

MATEMÁTICA

NUMERAIS POR EXTENSO



0 ZERO	10 DEZ	20 VINTE	200 DUZENTOS
1 UM	11 ONZE	30 TRINTA	300 TREZENTOS
2 DOIS	12 DOZE	40 QUARENTA	400 QUATROCENTOS
3 TRÊS	13 TREZE	50 CINQUENTA	500 QUINHENTOS
4 QUATRO	14 QUATORZE	60 SESSENTA	600 SEISCENTOS
5 CINCO	15 QUINZE	70 SETENTA	700 SETECENTOS
6 SEIS	16 DEZESSEIS	80 OITENTA	800 OITOCENTOS
7 SETE	17 DEZESSETE	90 NOVENTA	900 NOVECENTOS
8 OITO	18 DEZOITO	100 CEM	1000 MIL
9 NOVE	19 DEZENOVE		

1- ESCREVA OS NÚMEROS POR EXTENSO ATÉ 20

- | | | | |
|----|-------|----|-------|
| 1 | _____ | 11 | _____ |
| 2 | _____ | 12 | _____ |
| 3 | _____ | 13 | _____ |
| 4 | _____ | 14 | _____ |
| 5 | _____ | 15 | _____ |
| 6 | _____ | 16 | _____ |
| 7 | _____ | 17 | _____ |
| 8 | _____ | 18 | _____ |
| 9 | _____ | 19 | _____ |
| 10 | _____ | 20 | _____ |



E.M. BAIRRO MANUEL CLEMENTE.

PROFESSORA: Marcia Aguiar

ANO: 2º A

ALUNO: _____

DATA: 11/11

LÍNGUA PORTUGUESA

ATIVIDADE 5 – LÍNGUA PORTUGUESA

LEIA O TEXTO ABAIXO COM ATENÇÃO:

ANA, A BOA DE BOLA



PAULO, ANA E RENATA VÃO JOGAR BOLA.

ANA É A GOLEADORA DO TIME.

PAULO JOGA A BOLA PARA RENATA.

ANA PEDE A RENATA:

— AQUI, RENATA!

A BOLA CAI NO PÉ DE ANA. ANA PÕE A BOLA NA REDE E FAZ UM BELO GOL.

(GRAÇA BOQUET)

COMPLETE AS FRASES DE ACORDO COM O TEXTO.

- 1) _____, _____ E RENATA VÃO JOGAR _____.
- 2) _____ É A GOLEADORA DO _____.
- 3) _____ JOGA A _____ PARA RENATA.
- 4) ANA _____ A RENATA:
- 5) — AQUI, _____!
- 6) ANA PÕE A BOLA NA REDE E FAZ UM BELO _____.



E.M. BAIRRO MANUEL CLEMENTE.

PROFESSORA: Marcia Aguiar

ANO: 2º A

ALUNO: _____

DATA: 11/11

MATEMÁTICA

1- PINTE OS BRINQUEDOS COM AS CORES INDICADAS NA LEGENDA

AMARELO	1
VERDE	2
AZUL	3
VERMELHO	4
LILÁS	5
LARANJA	6
MARRON	7



E.M. BAIRRO MANUEL CLEMENTE.

PROFESSORA: Marcia Aguiar


ANO: 2º A

ALUNO: _____

DATA: 12 E 15/11 LÍNGUA PORTUGUESA / HISTÓRIA

Data comemorativa

15 DE NOVEMBRO – PROCLAMAÇÃO DA REPÚBLICA



Escolha a opção correta:

❖ Quando foi que o Brasil deixou de ser governado por imperador?

- 7 de setembro
- 15 de novembro de 1889
- 21 de abril

❖ Quem proclamou a República no Brasil?

- Dom Pedro I
- Tiradentes
- Marechal Deodoro da Fonseca



E.M. BAIRRO MANUEL CLEMENTE.

PROFESSORA: Marcia Aguiar

ANO: 2º A

ALUNO: _____

DATA: 12 E 15/11 LÍNGUA PORTUGUESA / HISTÓRIA

ATIVIDADES SOBRE A PROCLAMAÇÃO DA REPÚBLICA

1) COMPLETE AS PALAVRAS COM A, E, I, O E U



B R S L

N V M B R



R P B L C

2) ENCONTRE AS PALAVRAS RELACIONADAS A PROCLAMAÇÃO DA REPÚBLICA NO CAÇA-PALAVRAS ABAIXO:

1. REPÚBLICA 2. DEODORO 3. ELEIÇÃO
4. NOVEMBRO 5. DEMOCRACIA



R R E P Ú B L I C A R O S B B
D D L B O I P E B R U X A S E
R R E R P C O N T E N T E L L
A A I O D E M O C R A C I A S
T T Ç X D A N S E P O I S N A
E E A A F O E L E I Ç Ã O S S
N O V E M B R O O U R A S E Y
N N O S V A S O O U R A S E Y





E.M. BAIRRO MANUEL CLEMENTE.

PROFESSORA: Marcia Aguiar

ANO: 2º A

ALUNO: _____

DATA: 12 E 15/11 LÍNGUA PORTUGUESA / HISTÓRIA

15 de Novembro Proclamação da República





E.M. BAIRRO MANUEL CLEMENTE.

PROFESSORA: Marcia Aguiar

ANO: 2º A

ALUNO: _____


DATA: 16/11

LÍNGUA PORTUGUESA

LENDO FRASES

LEIA E PINTE A FIGURA DE ACORDO COM A FRASE:


EU SOU A MAÇÃ.




EU SOU O SINO.



EU SOU A TOMADA.



EU SOU A PIPA.





E.M. BAIRRO MANUEL CLEMENTE.

PROFESSORA: Marcia Aguiar

ANO: 2º A

ALUNO: _____

DATA: 16/11

MATEMÁTICA

COMPLETE OS NÚMEROS QUE FALTAM:

0	1	2							
10				14				18	
	21					26			
			33				37		
40					45				
	51								
60								68	
	71								





E.M. BAIRRO MANUEL CLEMENTE.

PROFESSORA: Marcia Aguiar

ANO: 2º A

ALUNO: _____

DATA: 17/11

LÍNGUA PORTUGUESA

LEIA AS PALAVRAS E NUMERE OS DESENHOS DE ACORDO COM SEUS NOMES.




1

2



3



4




5



7

6



8



9



10

1. _____

2. _____

3. _____

4. _____

5. _____

6. _____

7. _____

8. _____

9. _____

10. _____



E.M. BAIRRO MANUEL CLEMENTE.

PROFESSORA: Marcia Aguiar

ANO: 2º A

ALUNO: _____

DATA: 17/11

MATEMÁTICA

Siga a trilha resolvendo as adições e subtrações usando seus resultados. Dica: o último resultado é 10.

The maze is a grid of squares with numbers and arithmetic operations. The path starts at a sheep and ends at a cow. The path consists of squares containing: 3, +2, -1, +5, -2, +2, -4, +3, -1, -6, +9. The final result is 10.



E.M. BAIRRO MANUEL CLEMENTE.

PROFESSORA: Marcia Aguiar

ANO: 2º A

ALUNO: _____

DATA: 18/11

LÍNGUA PORTUGUESA / MATEMÁTICA

PROCURE NO CAÇA-PALAVRAS OS MESES DO ANO:

J	A	N	E	I	R	O	L	M	Ç	M	A	I	O	R
U	Z	W	J	U	N	H	O	N	Z	V	G	R	T	T
L	X	C	X	S	E	T	E	M	B	R	O	W	A	W
H	R	A	G	O	S	T	O	K	Y	T	S	X	B	Z
O	O	U	T	U	B	R	O	L	S	R	T	Q	R	Y
J	T	Q	K	N	O	V	E	M	B	R	O	R	I	L
D	E	Z	E	M	B	R	O	Y	H	J	K	Ç	L	P
F	E	V	E	R	E	I	R	O	Ç	M	A	R	Ç	O

1- JANEIRO	7- JULHO
2- FEVEREIRO	8- AGOSTO
3- MARÇO	9- SETEMBRO
4- ABRIL	10- OUTUBRO
5- MAIO	11- NOVEMBRO
6- JUNHO	12- DEZEMBRO



E.M. BAIRRO MANUEL CLEMENTE.

PROFESSORA: Marcia Aguiar

ANO: 2º A

ALUNO: _____

DATA: 19/11

LÍNGUA PORTUGUESA / MATEMÁTICA

LEIA AS PALAVRAS ABAIXO E COPIE-AS DE ACORDO COM A FAMÍLIA DAS LETRAS A QUE PERTENCE.

FACA	UFA	FALA	VILA
VALE	VIDA	FERA	FOTO
VERA	FILA	VACA	VALA
FITA	FALE	VOTO	UVA

F		V	

NUMERE OS DESENHOS DE ACORDO COM AS FICHAS DAS PALAVRAS.



- | |
|------------|
| 1 - VELA |
| 2 - GAVETA |
| 3 - FACA |
| 4 - VASO |
| 5 - VOVÔ |
| 6 - FITA |
| 7 - VACA |
| 8 - VIOLÃO |
| 9 - FOTO |
| 10 - PAVÃO |





E.M. BAIRRO MANUEL CLEMENTE.

PROFESSORA: Marcia Aguiar

ANO: 2º A

ALUNO: _____


DATA: 22 e 23/11

MATEMÁTICA

TERMOS FALTOSOS

① Complete os fatos com os termos que faltam.

$\square + 7 = 9$	$4 + \square = 8$
$7 - \square = 3$	$\square - 7 = 2$
$6 - 4 = \square$	$9 - 2 = \square$
$\square + 3 = 8$	$2 + \square = 7$
$5 + 4 = \square$	$3 - \square = 3$
$\square - 2 = 6$	$\square - 8 = 0$
$\square + 3 = 9$	$7 - 5 = \square$
$\square - 2 = 7$	$9 - 3 = \square$





E.M. BAIRRO MANUEL CLEMENTE.

PROFESSORA: Marcia Aguiar


ANO: 2º A

ALUNO: _____

DATA: 22 E 23/11 LÍNGUA PORTUGUESA

DESCUBRA OS NOMES DAS FRUTAS DAS RESPECTIVAS PLANTAS E PROCURE NO CAÇA PALAVRAS.

PLANTA	FRUTA
BANANEIRA	
GOIABEIRA	
LARANJEIRA	
MACIEIRA	
MAMOEIRO	
ABACATEIRO	
LIMOEIRO	
TOMATEIRO	
CAJUEIRO	
UMBUZEIRO	
MANGUEIRA	
PEREIRA	
AMOREIRA	
PITANGUEIRA	
FIGUEIRA	
MEXERIQUEIRA	
AÇAIZEIRO	
SAPOTIZEIRO	
COQUEIRO	
PARREIRA	
INGAZEIRO	
JAMBUZEIRO	
JABUTICABEIRA	



B	P	R	M	S	T	O	M	A	T	E	H	P	L
A	V	N	A	S	F	G	H	A	Ç	A	Í	I	A
N	A	A	N	A	G	O	I	A	B	A	F	T	R
A	M	B	G	P	W	E	T	Y	U	I	G	A	A
N	O	A	A	O	F	G	V	H	Y	J	H	N	N
A	R	C	F	T	G	C	G	H	D	V	J	G	J
F	A	A	R	I	M	A	M	Ã	O	A	K	A	A
G	J	T	H	K	Y	J	D	G	T	H	L	F	S
H	P	E	R	A	G	U	G	A	L	I	M	Ã	O
U	M	B	U	K	M	E	X	E	R	I	C	A	A
D	W	R	F	B	M	A	Ç	Ã		F	I	G	O
Z	X	C	V	B	N	N	J	A	M	B	O	H	I
U	G	T	C	O	Q	U	E	I	R	O	L	T	N
V	F	J	A	B	U	T	I	C	A	B	A	T	G
A	G	H	J	K	L	L	Ç	A	M	Ç	U	G	Á



E.M. BAIRRO MANUEL CLEMENTE.

PROFESSORA: Marcia Aguiar

ANO: 2º A


ALUNO: _____

DATA: 24/11


LÍNGUA PORTUGUESA

ESCREVA AS PALAVRAS NOS QUADROS CORRETOS

GATO	PROFESSORA	HEROÍNA
CAMPEÃO	BOI	GALINHA
GATA	GALO	ATOR
MENINO	MENINA	VACA
CAMPEÃ	PROFESSOR	HERÓI
		ATRIZ



MASCULINO



FEMININO



E.M. BAIRRO MANUEL CLEMENTE.

PROFESSORA: Marcia Aguiar


ANO: 2º A

ALUNO: _____

DATA: 24/11

MATEMÁTICA


SEQUÊNCIA NUMÉRICA



1	2	3	4	5	6
7	8	9	10	11	12
13	14	15	16	17	18
19	20	21	22	23	24
25	26	27	28	29	30

1 - OBSERVE O QUADRO DE NUMERAIS ACIMA E COMPLETE O QUADRO DE NUMERAIS ABAIXO

1					
7					
13					
19					
25					





E.M. BAIRRO MANUEL CLEMENTE.

PROFESSORA: Marcia Aguiar

ANO: 2º A

ALUNO: _____

DATA: 25/11

LÍNGUA PORTUGUESA


9) VAMOS FAZER LISTAS! ESCREVA ABAIXO 5 BRINQUEDOS QUE VOCE ADORA:

1.	
2.	
3.	
4.	
5.	



10) AGORA UMA LISTA DE BRINCADEIRAS!

1.	
2.	
3.	
4.	
5.	



11) DESCUBRA A BRINCADEIRA COMPLETANDO COM VOGAIS E RESCREVA SEU NOME ABAIXO:

 _M _R _L _NH _

--





E.M. BAIRRO MANUEL CLEMENTE.

PROFESSORA: Marcia Aguiar

ANO: 2º A

ALUNO: _____

DATA: 25/11 MATEMÁTICA

DIAS DA SEMANA

UMA SEMANA TEM

7 DIAS

VAMOS CONHECER?



1º DOMINGO
2º SEGUNDA-FEIRA
3º TERÇA-FEIRA
4º QUARTA-FEIRA
5º QUINTA-FEIRA
6º SEXTA-FEIRA
7º SÁBADO

RESPONDA AS PERGUNTAS:

QUANTOS DIAS TEM UMA SEMANA? _____

QUAL É O PRIMEIRO DIA DA SEMANA? _____

QUAL É O ÚLTIMO DIA DA SEMANA? _____

QUE DIA DA SEMANA É HOJE? _____



E.M. BAIRRO MANUEL CLEMENTE.

PROFESSORA: Marcia Aguiar

ANO: 2º A

ALUNO: _____

DATA: 26/11

LÍNGUA PORTUGUESA

A PIPA DE MIGUEL

MIGUEL GANHOU UMA LINDA PIPA COLORIDA.

MIGUEL E SEU PAI SOLTARAM A PIPA NO PARQUE DA CIDADE.

A PIPA RODOPIOU E VOOU ALTO NO CÉU.

MIGUEL FICOU MUITO FELIZ.



Kátia Teixeira

COMPREENSÃO DO TEXTO

1. QUAL É O TÍTULO DO TEXTO?

2. O QUE MIGUEL GANHOU?

3. ONDE MIGUEL E SEU PAI FORAM SOLTAR PIPA?



E.M. BAIRRO MANUEL CLEMENTE.

PROFESSORA: Marcia Aguiar

ANO: 2º A

ALUNO: _____


DATA: 26/11

MATEMÁTICA



GRÁFICO

JOÃO FOI AO MERCADO E COMPROU 7 BATATAS, 5 CENOURAS, 6 BETERRABAS E 4 REPOLHOS.

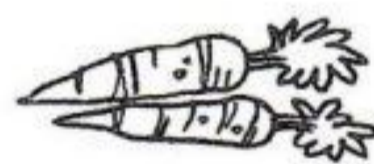

1. PINTE NESTES GRÁFICOS UM QUADRINHO PARA CADA VEGETAL COMPRADO.




REPOLHO



BETERRABA



CENOURA



BATATA



2. QUANTOS VEGETAIS JOÃO COMPROU NO TOTAL? SOME.



E.M. BAIRRO MANUEL CLEMENTE.

PROFESSORA: Marcia Aguiar



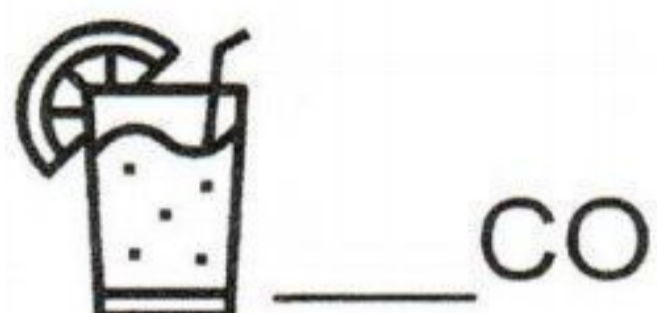
ANO: 2º A

ALUNO: _____

DATA: 29/11

LÍNGUA PORTUGUESA

1. QUAIS SÍLABAS ESTÃO FALTANDO?



2. REESCREVA AS FRASES SUBSTITUINDO OS DESENHOS POR PALAVRAS.

A) MAMÃE FEZ  DE ABACAXI.

_____.

B) GANHEI UM  PRETO.

_____.

C) O  DA MINHA CASA É MARROM.

_____.



E.M. BAIRRO MANUEL CLEMENTE.

PROFESSORA: Marcia Aguiar

ANO: 2º A

ALUNO: _____

DATA: 29/11

MATEMÁTICA

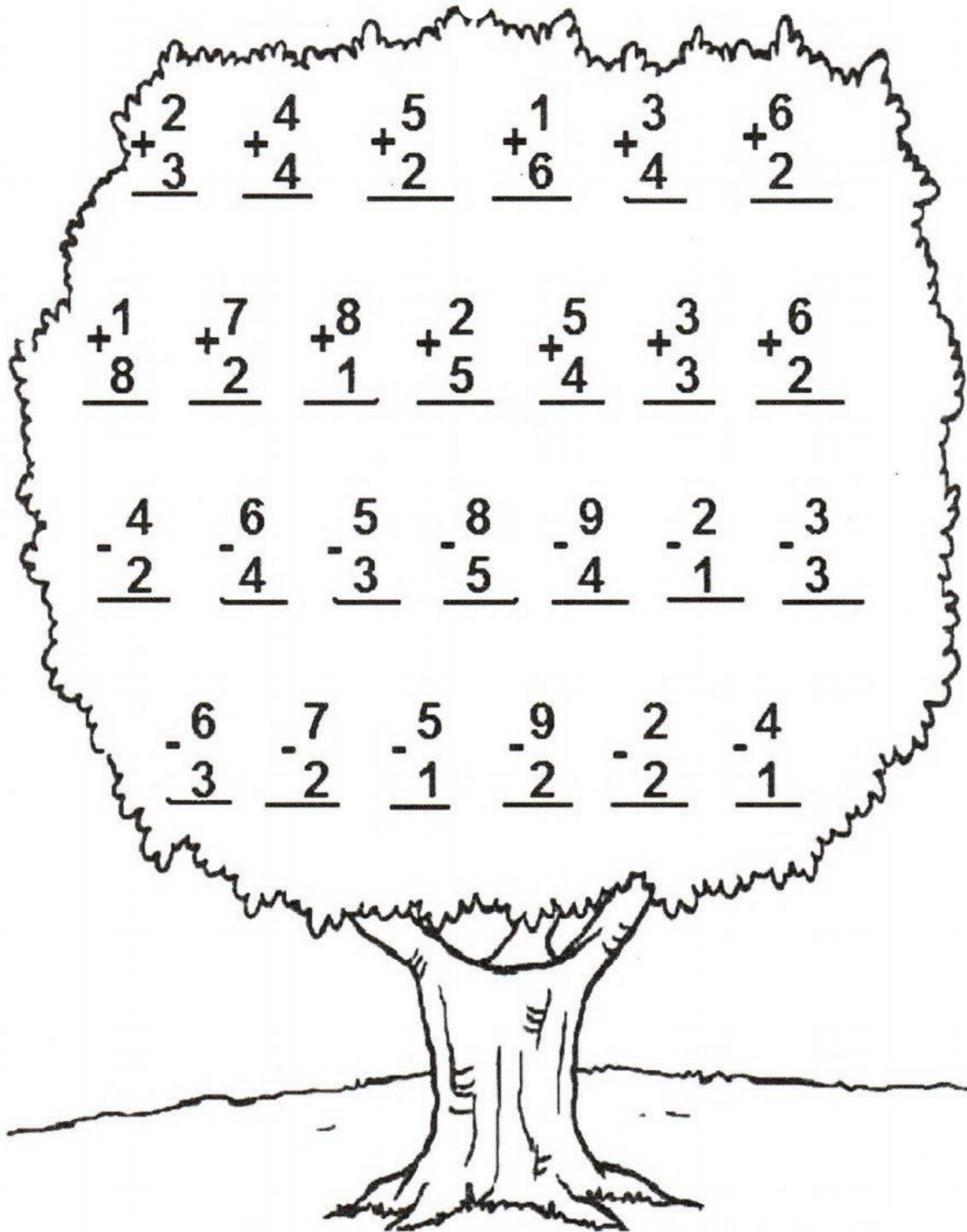
RESOLVA AS OPERAÇÕES

$$\begin{array}{r} 2 \\ + 3 \\ \hline \end{array} \quad \begin{array}{r} 4 \\ + 4 \\ \hline \end{array} \quad \begin{array}{r} 5 \\ + 2 \\ \hline \end{array} \quad \begin{array}{r} 1 \\ + 6 \\ \hline \end{array} \quad \begin{array}{r} 3 \\ + 4 \\ \hline \end{array} \quad \begin{array}{r} 6 \\ + 2 \\ \hline \end{array}$$

$$\begin{array}{r} 1 \\ + 8 \\ \hline \end{array} \quad \begin{array}{r} 7 \\ + 2 \\ \hline \end{array} \quad \begin{array}{r} 8 \\ + 1 \\ \hline \end{array} \quad \begin{array}{r} 2 \\ + 5 \\ \hline \end{array} \quad \begin{array}{r} 5 \\ + 4 \\ \hline \end{array} \quad \begin{array}{r} 3 \\ + 3 \\ \hline \end{array} \quad \begin{array}{r} 6 \\ + 2 \\ \hline \end{array}$$

$$\begin{array}{r} 4 \\ - 2 \\ \hline \end{array} \quad \begin{array}{r} 6 \\ - 4 \\ \hline \end{array} \quad \begin{array}{r} 5 \\ - 3 \\ \hline \end{array} \quad \begin{array}{r} 8 \\ - 5 \\ \hline \end{array} \quad \begin{array}{r} 9 \\ - 4 \\ \hline \end{array} \quad \begin{array}{r} 2 \\ - 1 \\ \hline \end{array} \quad \begin{array}{r} 3 \\ - 3 \\ \hline \end{array}$$

$$\begin{array}{r} 6 \\ - 3 \\ \hline \end{array} \quad \begin{array}{r} 7 \\ - 2 \\ \hline \end{array} \quad \begin{array}{r} 5 \\ - 1 \\ \hline \end{array} \quad \begin{array}{r} 9 \\ - 2 \\ \hline \end{array} \quad \begin{array}{r} 2 \\ - 2 \\ \hline \end{array} \quad \begin{array}{r} 4 \\ - 1 \\ \hline \end{array}$$





E.M. BAIRRO MANUEL CLEMENTE.

PROFESSORA: Marcia Aguiar

ANO: 2º A

ALUNO: _____

DATA: 30/11

LÍNGUA PORTUGUESA

1. LEIA AS PALAVRAS E ESCREVA AO LADO DOS DESENHOS.

SAPO SAPATO SACOLA SINO SABÃO SALADA



2. ENCONTRE OS NOMES DOS DESENHOS ABAIXO.

S	A	B	A	O	W	E	R
C	A	S	A	P	A	T	O
S	A	C	S	A	P	T	R
I	S	A	L	A	D	A	H
E	F	G	R	T	Y	U	I
S	I	N	O	D	G	R	U
J	S	A	P	O	R	A	T
S	A	C	O	L	A	P	O



E.M. BAIRRO MANUEL CLEMENTE.

PROFESSORA: Marcia Aguiar

ANO: 2º A

ALUNO: _____

DATA: 30/11

MATEMÁTICA

COMPLETE A SEQUÊNCIA NUMÉRICA ATÉ O 50:

1 3 6
12 9
15 16 18
24 21
27 28 30 32
38 33
40 41 44
50 48 47



E.M. BAIRRO MANUEL CLEMENTE.

PROFESSORA: Marcia Aguiar

ANO: 2º A

ALUNO: _____

Referências

DIA		PÁGINA
	https://brasilpelaeducacao.blogspot.com/biografia-de-ivan-cruz.html	**
	https://amorensina.com.br	**
	https://novaescola.com.br	**
	https://atividadespedagogicasuzano.com.br	**
	https://danieducar.com.br	**
	https://wwwmundopedagogico.br	**
	https://wwwmundopedagogico.br	**
	https://wwwespacoprofessor.com.br	**
	https://wwwespacoprofessor.com.br	**
	https://wwwespacoprofessor.com.br	**
	https://wwwespacoprofessor.com.br	**