

EM Alexandre Vannuchi Leme

Nome _____

Atividades de 08 a 29/11

Caderno 14

2º Termo A EJA



NOME: _____ DATA: _____

LEITURA E INTERPRETAÇÃO DE TEXTO

OS CURIOSOS PEIXES

A palavra "peixe" é usada para um grande número de animais aquáticos. A maior parte desses animais acabam nem sendo peixes, como o golfinho, o polvo e os crustáceos, pois têm características bem diferentes do que se classifica como peixe.

Os peixes são animais curiosos e há muitas coisas legais que podemos saber sobre eles. O Pirarucu, por exemplo, é o maior peixe de água doce e pode chegar a ter dois metros e pesar 200 quilos. O agulhão-vela é o peixe mais rápido do mundo e chega a nadar com a velocidade de 115 quilômetros por hora. O atum nada muito, ele chega a percorrer 170 quilômetros em um único dia.

Alguns peixes são muito apreciados como alimento. O bacalhau é um deles. Há muitos tipos de bacalhau, entre eles o ling, o zarbo, o saithe e o do Porto, que é considerado o mais saboroso e mais caro.

1. Todos os animais aquáticos são peixes?

SIM

NÃO

2. De acordo com o texto, qual é o peixe mais rápido do mundo?

PIRARUCU

AGULHÃO-VELA

ATUM

3. Quanto quilômetros um atum consegue percorrer por dia?

4. Alguns peixes são apreciados como alimento. O bacalhau é um deles. Quais são os quatro tipos de bacalhau citados no texto?

FIQUE DE OLHO!

1 Observe as figuras e escreva o nome delas em ordem alfabética.

A		I		R	
B		J		S	
C		L		T	
D		M		U	
E		N		V	
F		O		X	
G		P		Z	
H		Q			



1 - UM - um	15- QUINZE - quinze	200- DUZENTOS - duzentos
2 - DOIS - dois	16- DEZESSEIS - dezesseis	300- TREZENTOS - trezentos
3 - TRÊS - três	17- DEZESSETE - dezessete	400- QUATROCENTOS - quatrocentos
4 - QUATRO - quatro	18- DEZOITO - dezoito	500- QUINHENTOS - quinhentos
5 - CINCO - cinco	19- DEZENOVE - dezenove	600- SEISCENTOS - seiscentos
6 - SEIS - seis	20- VINTE - vinte	700- SETECENTOS - setecentos
7 - SETE - sete	30- TRINTA - trinta	800- OITOCENTOS - oitocentos
8 - OITO - oito	40- QUARENTA - quarenta	900 - NOVECENTOS - novecentos
9 - NOVE - nove	50- CINQUENTA - cinquenta	1000 - um mil - um mil
10 - DEZ - dez	60- SESSENTA - sessenta	
11 - ONZE - onze	70- SETENTA - setenta	
12 - DOZE - doze	80- OITENTA - oitenta	
13 - TREZE - treze	90- NOVENTA - noventa	
14 - CATORZE - catorze	100- CEM - cem	



Coloque cada número em Seu Lugar adequado

400	<input type="text"/>	SETENTA E NOVE
12	<input type="text"/>	CENTO E SESSENTA E NOVE
124	<input type="text"/>	NOVENTA E OITO
169	<input type="text"/>	TRINTA E NOVE
39	<input type="text"/>	CENTO E VINTE E QUATRO
79	<input type="text"/>	DUZENTOS
55	<input type="text"/>	CINQUENTA E CINCO
40	<input type="text"/>	QUARENTA
98	<input type="text"/>	QUATROCENTOS
200	<input type="text"/>	DOZE

Copie os Numero no Caderno

Matemática

Noah foi ao shopping comprar presentes para a mamãe. Observe o que ele comprou e resolva de acordo.

1 - Dentro desta caixa tem 3 pares de sapatos.
Quantas unidades são?

--



2 - Papai deu 90 reais para Noah comprar um vestido. O vestido custou 50 reais. Quanto sobrou?

D	U

3 - O vestido da mamãe tem 35 botões na parte de trás. Mas ao abrir o embrulho, alguns caíram e ficaram apenas 24. Quantos botões caíram?

D	U

Ortografia... (ch) (lh) (nh)

1-Circule nas palavras abaixo, as sílabas com: ch, lh e nh.



cachorro



aranha



chapéu



ovelha



galinha



joaninha



abelha



chave



ninho



ilha

2-Classifique as palavras acima de acordo com a sílaba em destaque:

ch

lh

nh


Blank box for classification with 5 horizontal lines.

Blank box for classification with 5 horizontal lines.

Blank box for classification with 5 horizontal lines.

Vamos Treinar; Leia e Copie a Lista de palavras no Caderno

LEIA A PALAVRA E PINTE AS SÍLABAS COM NH.



GALINHA

galinha

NHA NHE NHI NHO NHU NHÃO

nha nhe nhi nho nhu nhão

MINHOCA	UNHA	SARDINHA
PAMONHA	RAINHA	VINHO
ARANHA	NINHO	BANHO
CAMINHO	JOANINHA	DINHEIRO
FARINHA	CEGONHA	CAMINHÃO
PINHEIRO	PIRANHA	COZINHA
SONHO	LINHA	FRONHA

ESCOLA _____



NOME: _____ DATA: ____ / ____ / ____

Resumo

A Proclamação da República

- Com a independência, passou a vigorar em nosso país a **Monarquia**, que é a forma de governo exercida por um rei ou imperador. Em 1840, o Brasil passou a ser governado por D. Pedro II, no período chamado Segundo Reinado, que durou quase 50 anos.
- No dia 15 de novembro de 1889, o marechal Deodoro da Fonseca proclamou a República no Brasil. Findava a monarquia.
- A partir dessa data, o Brasil passou a ser governado por um presidente. Normalmente, o povo brasileiro escolhe o seu presidente por meio de eleições.
- Com a República, as antigas províncias foram transformadas em Estados e foi convocada uma Assembléia Constituinte para elaborar uma Constituição republicana.
- A Constituição é a lei fundamental de um país; estabelece a forma de governo e os direitos e deveres dos cidadãos.
- A partir da promulgação da Constituição republicana, os presidentes passaram a ser eleitos para governar o país por 4 anos.
- O primeiro presidente da República brasileira foi o marechal Deodoro da Fonseca, eleito pelo Congresso. O seu vice-presidente foi o Marechal Floriano Peixoto.

1- Responda.

a) Qual foi o período chamado de Segundo Reinado?

b) Quem proclamou a República? Em que dia?

c) O que é monarquia?

d) Qual a diferença entre monarquia e república?



Data comemorativa

15 DE NOVEMBRO – PROCLAMAÇÃO DA REPÚBLICA



Escolha a opção correta:

❖ Quando foi que o Brasil deixou de ser governado por imperador?

- 7 de setembro
- 15 de novembro de 1889
- 21 de abril

❖ Quem proclamou a República no Brasil?

- Dom Pedro I
- Tiradentes
- Marechal Deodoro da Fonseca

Ensinando com Carinho

Resolva as Subtrações e Depois escreva os resultados das contas por extenso :

$$\begin{array}{r} 67 \\ - 43 \\ \hline \square \square \end{array}$$

$$\begin{array}{r} 84 \\ - 43 \\ \hline \square \square \end{array}$$

$$\begin{array}{r} 75 \\ - 64 \\ \hline \square \square \end{array}$$

$$\begin{array}{r} 77 \\ - 27 \\ \hline \square \square \end{array}$$

$$\begin{array}{r} 56 \\ - 23 \\ \hline \square \square \end{array}$$

$$\begin{array}{r} 87 \\ - 53 \\ \hline \square \square \end{array}$$

$$\begin{array}{r} 86 \\ - 71 \\ \hline \square \square \end{array}$$

$$\begin{array}{r} 76 \\ - 22 \\ \hline \square \square \end{array}$$

$$\begin{array}{r} 66 \\ - 33 \\ \hline \square \square \end{array}$$

$$\begin{array}{r} 87 \\ - 24 \\ \hline \square \square \end{array}$$

Língua Portuguesa

Naquele dia de chuva o João viu um ninho nos ramos de uma pereira. Lá estão três passarinhos novos. Os passarinhos piam e a mãe voa para o ninho. Ela leva-lhes comida. Ou é um gafanhoto ou uma minhoca. Quando chove, a pereira, é o guarda-chuva dos passarinhos. Nesses dias, as abelhas e os coelhos não vão para a rua.



- Copia as palavras com ch, nh e lh

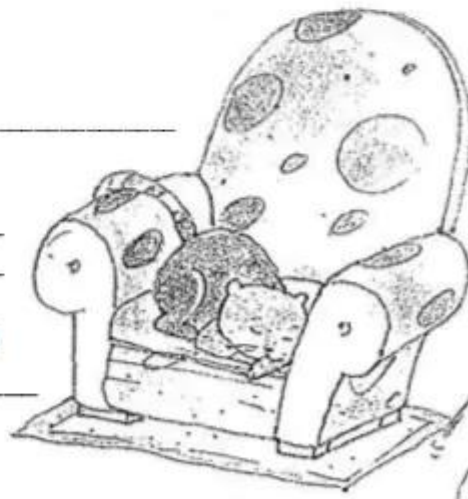
- Lê as palavras e ordena a frase.

castanho dorme O gato sofá no .

- O que viu o João?

- Os passarinhos são dois, três ou quatro?




- O que lhes leva a mãe?



Nome _____
Data _____



COMPLETE AS FRASES ARRASTANDO AS PALAVRAS DOS
RETÂNGULOS AO FINAL DA PÁGINA PARA OS LOCAIS MAIS
ADEQUADOS.

- A) A DO PALHAÇO É ENGRAÇADA.
- B) O NOME DO PALHAÇO É 
- C) PAÇOCA FAZ PALHAÇADA NA .
- D) VOVÓ FEZ CAFÉ E COLOCOU .
- E) MEU TÊNIS TEM 
- F) O PAPAÍ GOSTA DE BEBER ÁGUA NA .
- G) TODA -FEIRA PAÇOCA VAI À CIDADE.
- H) O PALHAÇO USA LENÇO NO 
- I) PAÇOCA AMA A .
- J) O PALHAÇO PAÇOCA MORA NA .

PESCOÇO	CALÇA	CRIANÇADA
TAÇA	CADARÇO	AÇÚCAR
TERÇA	PRAÇA	PAÇOCA
ROÇA		

Após Completar as Frases Copie – as em seu caderno, lembre-se toda frase começa com letra MAIUSCULA.

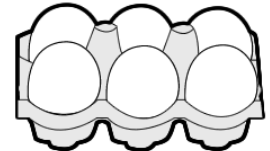
NOME: _____

TURMA: _____

NOSSO
CLUBINHO






ATIVIDADES DE MATEMÁTICA

1) DESCUBRA QUAL O TROCO QUE DONA SANDRA IRÁ RECEBER AO PAGAR AS COMPRAS:



	1 KG FEIJÃO	1 KG ARROZ	1 LITRO DE LEITE	MEIA DÚZIA DE OVOS
VALOR	R\$ 6,00	R\$ 9,00	R\$ 3,00	R\$ 2,00
PAGAMENTO	R\$ 10,00	R\$ 20,00	R\$ 5,00	R\$ 2,00
OPERAÇÃO	10 - 6	___ - ___	___ - ___	___ - ___
TROCO	R\$ 4,00			

2). FAÇA UMA PESQUISA E DESCUBRA O PREÇO DE CADA UM DESSES PRODUTOS QUE COMPRAMOS NO SUPERMERCADO.

PRODUTO	VALOR UNIDADE	VALOR 3 UNIDADES
 ACHOCOLATADO		
 LATA DE ÓLEO		
 1 KG DE FEIJÃO		
 1 LITRO DE LEITE		
 PÃO FRANCÊS		

ESCOLA: _____ DATA: ____/____/____

NOME: _____

N

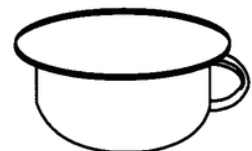
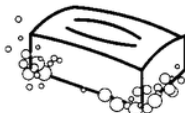
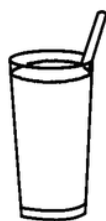



CAÇA-PALAVRAS LEGAL

NH

N


NH

S	A	R	D	I	N	H	A	E	D	R	B
E	R	G	S	H	U	B	M	O	M	B	I
R	A	O	A	E	V	A	S	T	A	A	N
W	N	I	B	X	E	I	R	T	R	P	Ó
P	H	F	O	C	M	L	E	A	I	A	C
I	A	A	N	A	C	A	L	U	N	N	U
N	I	R	E	M	O	R	Z	N	H	E	L
H	R	I	T	P	N	I	V	I	E	L	O
E	R	N	E	E	F	N	E	P	I	A	R
I	F	H	S	P	C	A	V	E	R	N	A
R	P	A	R	T	A	E	C	N	O	M	G
O	F	S	E	S	R	I	V	I	N	H	O
C	A	M	I	N	H	Ã	O	C	O	R	S
V	T	I	N	S	C	E	G	O	N	H	A
G	B	A	N	A	N	A	A	P	O	S	E
A	E	S	O	M	B	R	I	N	H	A	N
E	V	I	T	A	M	I	N	A	T	A	D



✎ Complete as frases de acordo com os desenhos.

- Vovó fez uma vitamina de _____.
- Lucas jogou _____ com a _____ nova.
- Mamãe ganhou uma _____ de bolo.
- Eu gosto de _____ de creme.
- Juliana deixou cair suco no _____.
- O bebê toma a _____.
- O _____ do meu pai é vermelho.
- Camila colocou os _____ no estojo.



NOME: _____ DATA: _____

MATEMÁTICA

Resolva as adições

$$\begin{array}{r} 236 \\ + 260 \\ \hline \end{array}$$

$$\begin{array}{r} 151 \\ + 897 \\ \hline \end{array}$$

$$\begin{array}{r} 802 \\ + 776 \\ \hline \end{array}$$

$$\begin{array}{r} 180 \\ + 620 \\ \hline \end{array}$$

$$\begin{array}{r} 961 \\ + 649 \\ \hline \end{array}$$

$$\begin{array}{r} 553 \\ + 455 \\ \hline \end{array}$$

$$\begin{array}{r} 195 \\ + 666 \\ \hline \end{array}$$

$$\begin{array}{r} 501 \\ + 799 \\ \hline \end{array}$$

$$\begin{array}{r} 520 \\ + 287 \\ \hline \end{array}$$

$$\begin{array}{r} 240 \\ + 423 \\ \hline \end{array}$$

$$\begin{array}{r} 538 \\ + 943 \\ \hline \end{array}$$

$$\begin{array}{r} 586 \\ + 956 \\ \hline \end{array}$$

$$\begin{array}{r} 674 \\ + 662 \\ \hline \end{array}$$

$$\begin{array}{r} 984 \\ + 534 \\ \hline \end{array}$$

$$\begin{array}{r} 801 \\ + 990 \\ \hline \end{array}$$

$$\begin{array}{r} 632 \\ + 290 \\ \hline \end{array}$$

$$\begin{array}{r} 328 \\ + 310 \\ \hline \end{array}$$

$$\begin{array}{r} 669 \\ + 805 \\ \hline \end{array}$$

$$\begin{array}{r} 533 \\ + 323 \\ \hline \end{array}$$

$$\begin{array}{r} 988 \\ + 215 \\ \hline \end{array}$$

$$\begin{array}{r} 379 \\ + 233 \\ \hline \end{array}$$

$$\begin{array}{r} 379 \\ + 635 \\ \hline \end{array}$$

$$\begin{array}{r} 227 \\ + 820 \\ \hline \end{array}$$

$$\begin{array}{r} 508 \\ + 983 \\ \hline \end{array}$$

$$\begin{array}{r} 371 \\ + 311 \\ \hline \end{array}$$





O PATINHO FEIO

NUMA FAZENDA, PERTO DE UM LAGO, UMA PATA FEZ SEU NINHO. O PATINHO QUE NASCEU POR ÚTIMO ERA FEIO E PASSOU A SER MALTRATADO PELA MÃE, PELOS IRMÃOZINHOS E OUTROS ANIMAIS. UM DIA, NÃO AGUENTANDO MAIS, O PATINHO SOLITÁRIO FOI EMBORA. ELE VIVEU ENTÃO EM BUSCA DE NOVAS AVENTURAS. FINALMENTE, SE VIU NUM LINDO JARDIM. ENTÃO ENCONTROU TRÊS BELOS CISNES E DESCOBRIU QUE ELE ERA NA VERDADE UM CISNE, UM LINDO CISNE.

FAÇA UM X NA ALTERNATIVA CORRETA

1. QUEM É O PERSONAGEM PRINCIPAL?

A) PATO B) CISNE C) GALINHA D) VACA


2. NA HISTÓRIA A PALAVRA **SOLITÁRIO** SIGNIFICA:

A) TRISTE B) AMADO C) SOZINHO D) ALEGRE

3. ONDE O CONTO SE ACONTECE?

A) CIDADE B) BOSQUE C) FAZENDA D) JARDIM

4. ESCREVA OS NOMES DOS ANIMAIS QUE MALTRATARAM O PATINHO FEIO



ATIVIDADE DE MATEMÁTICA

➤ Observe a tabela abaixo com os anos em que foram inventados alguns brinquedos

Brinquedo	Ano
Patins	1863
Ioiô	1929
Lego	1932
Skate	1975
Bambolê	1958
Fliperama	1947
Barbie	1958



- A) Dos brinquedos da tabela, qual foi inventado há mais tempo?

- B) Dos brinquedos da tabela, qual foi inventado há menos tempo?

- C) O lego foi inventado antes ou depois do ioiô? _____
- D) E o bambolê, foi inventado antes ou depois do fliperama? _____
- E) Há quantos anos foi inventado o skate? _____
- F) Escreva os números da tabela em ordem crescente:

- G) Há quantos anos a Barbie foi inventada? _____
- H) Qual é a diferença de idade entre a invenção dos Patins e da Barbie? _____

