

# E.M. "BENEDITA CORDEIRO MEDELOS"


NOME: \_\_\_\_\_

TURMA: 2º ANO A

PROFESSORA: ELIANE

## MINHAS ATIVIDADES CONSCIÊNCIA NEGRA

### MENINA BONITA DO LAÇO DE FITA



ATIVIDADES: 16/11/2021 a 19/11/2021

DATA DE RETIRADA: 16/11/2021

DATA DE DEVOLUÇÃO: 23/11/2021

IBIÚNA, 16 DE NOVEMBRO DE 2021.

ESCOLA: \_\_\_\_\_

IBIÚNA, \_\_\_\_\_

NOME: \_\_\_\_\_

## LÍNGUA PORTUGUESA

### **SEQUÊNCIA DIDÁTICA MENINA BONITA DO LAÇO DE FITA**

LIVRO

AUTOR(A)

ILUSTRAÇÕES

EDITORA

PERSONAGENS



DESENHO DO LIVRO COM PERSONAGENS E CENÁRIOS

Educação e Transformação

## MATEMÁTICA

1. VEJA O QUADRO NUMÉRICO.

1	2	3	4	5	6	7	8	9	10
11	12	13	14	15	16	17	18	19	20
21	22	23	24	25	26	27	28	29	30
31	32	33	34	35	36	37	38	39	40
41	42	43	44	45	46	47	48	49	50

OBSERVANDO O QUADRO NUMÉRICO COMPLETE AS SEQUÊNCIAS.

21						27			30
----	--	--	--	--	--	----	--	--	----

31				35					40
----	--	--	--	----	--	--	--	--	----

41		43							50
----	--	----	--	--	--	--	--	--	----

TENTE ESTA:

51				55					60
----	--	--	--	----	--	--	--	--	----

IBIÚNA, 17 DE NOVEMBRO DE 2021.

ESCOLA: \_\_\_\_\_  
IBIÚNA, \_\_\_\_\_  
NOME: \_\_\_\_\_

LÍNGUA PORTUGUESA

**SEQUÊNCIA DIDÁTICA**  
**MENINA BONITA DO LAÇO DE FITA**

PREENCHA A CRUZADINHA USANDO AS PALAVRAS DO QUADRO:


Education e Transformação

LAÇO - MENINA - JABUTICABA  
COELHO - TINTA - CAFÉ


NOME: \_\_\_\_\_ DATA: \_\_\_\_\_


## Encontre o Resultado


Recorte os números no final da página. Faça as contas e cole o resultado no quadrado final. Boa sorte!

$7 +$  $=$

$6 +$  $=$

$4 +$  $=$

$8 +$  $=$

$3 +$  $=$

10 9 8 6 7

IBIÚNA, 18 DE NOVEMBRO DE 2021.

ESCOLA: \_\_\_\_\_

IBIÚNA, \_\_\_\_\_

NOME: \_\_\_\_\_

## LÍNGUA PORTUGUESA

### SEQUÊNCIA DIDÁTICA MENINA BONITA DO LAÇO DE FITA

PINTE AS SÍLABAS QUE FORMAM O NOME  
DE CADA FIGURA:



GA FI CA CO FÉ



ME MO NI NA NE



GO LA TO BO ÇO



TO VA TIN PA TA



CO E NO LHO LO



J A D A B U T I P A C A B A

Educação e Transformação

# Adição 10

Nome: \_\_\_\_\_

+ + + + + + +



$2 + 3 = \underline{\quad}$

$5 + 5 = \underline{\quad}$

$6 + 4 = \underline{\quad}$

$3 + 7 = \underline{\quad}$

$5 + 2 = \underline{\quad}$

$1 + 8 = \underline{\quad}$

$8 + 2 = \underline{\quad}$

$7 + 3 = \underline{\quad}$

$2 + 7 = \underline{\quad}$

$3 + 3 = \underline{\quad}$

$5 + 5 = \underline{\quad}$

$7 + 1 = \underline{\quad}$

$1 + 9 = \underline{\quad}$

$4 + 4 = \underline{\quad}$

IBIÚNA, 19 DE NOVEMBRO DE 2021.

ESCOLA: \_\_\_\_\_  
IBIÚNA, \_\_\_\_\_  
NOME: \_\_\_\_\_

LÍNGUA PORTUGUESA

**SEQUÊNCIA DIDÁTICA**  
**MENINA BONITA DO LAÇO DE FITA**

1- QUEM ERA O ADMIRADOR DA MENINA?  
2- O COELHO TOMOU BANHO DE \_\_\_\_\_  
3- ELA FICAVA PARECENDO UMA PRINCESA DAS TERRAS DA \_\_\_\_\_  
4- DE QUE O COELHO SE EMPANTURROU?  
5- O QUE O COELHO QUERIA DESCOBRIR SOBRE A MENINA?  
6- O QUE A MÃE GOSTAVA DE FAZER NO CABELO DA MENINA?  
7- QUE ADORNO A MENINA USAVA NO CABELO PARA FAZER UM LAÇO?

Educação e Transformação



MATEMÁTICA

VAMOS RESOLVER AS CONTINHAS?

$$\begin{array}{r|l} 3 & 2 \\ + 1 & 4 \\ \hline \end{array}$$

$$\begin{array}{r|l} 4 & 1 \\ + 1 & 8 \\ \hline \end{array}$$

$$\begin{array}{r|l} 1 & 5 \\ + 3 & 3 \\ \hline \end{array}$$

$$\begin{array}{r|l} 2 & 3 \\ + 1 & 4 \\ \hline \end{array}$$

$$\begin{array}{r|l} 3 & 3 \\ + 1 & 1 \\ \hline \end{array}$$

$$\begin{array}{r|l} 4 & 3 \\ + 3 & 3 \\ \hline \end{array}$$

$$\begin{array}{r|l} 2 & 5 \\ + 1 & 4 \\ \hline \end{array}$$

$$\begin{array}{r|l} 1 & 3 \\ + 2 & 2 \\ \hline \end{array}$$

$$\begin{array}{r|l} 2 & 3 \\ + 1 & 0 \\ \hline \end{array}$$

$$\begin{array}{r|l} 2 & 7 \\ + 1 & 2 \\ \hline \end{array}$$

$$\begin{array}{r|l} 1 & 6 \\ + & 2 \\ \hline \end{array}$$

$$\begin{array}{r|l} 2 & 3 \\ + & 6 \\ \hline \end{array}$$

