

DIA DA SEMANA: \_\_\_\_\_

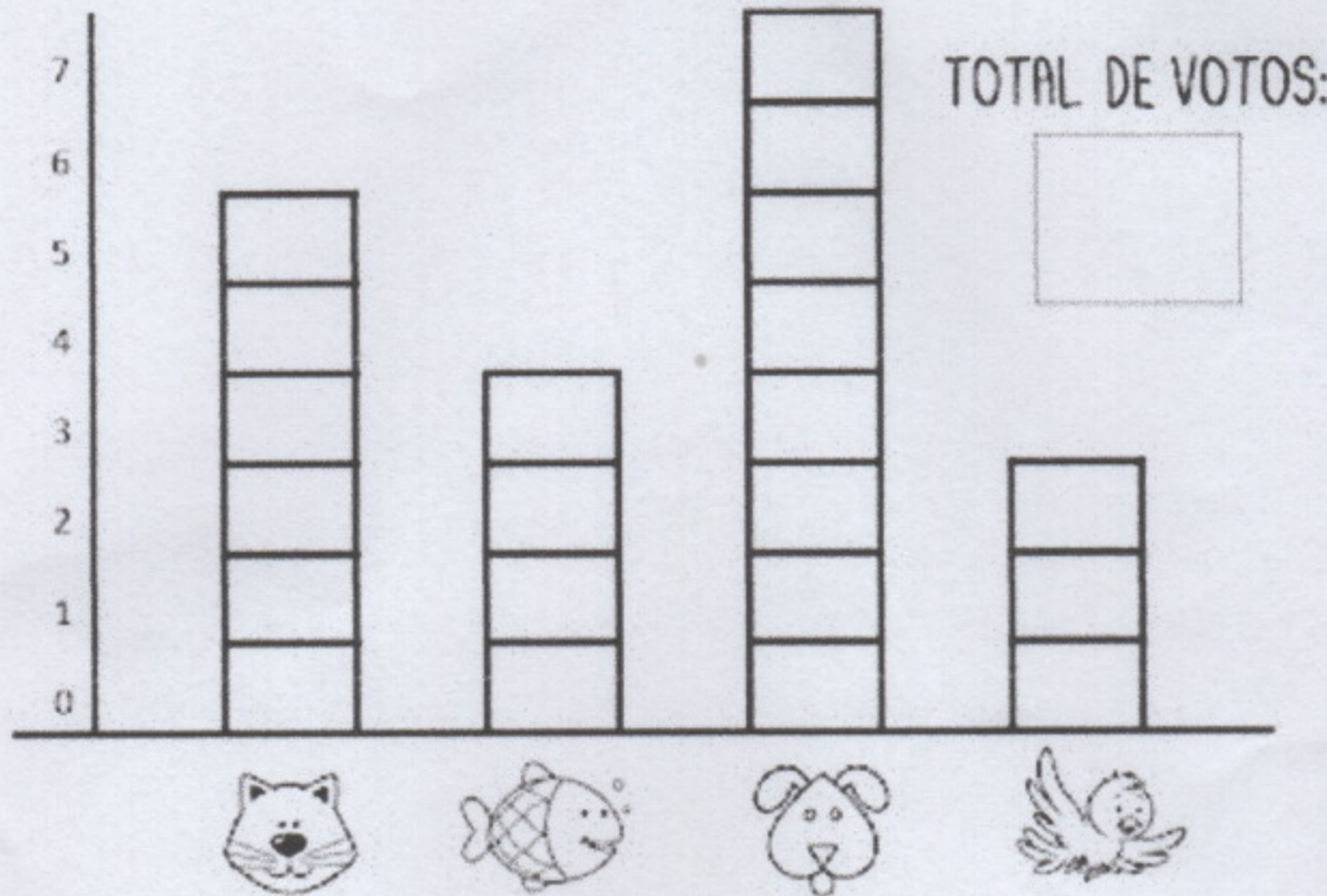
NOME: \_\_\_\_\_

MATEMÁTICA

NOME: \_\_\_\_\_

DATA: / /

ANIMAL DE ESTIMAÇÃO QUE O 1º ANO GOSTARIA DE TER



1. QUAL ANIMAL TEVE MAIS VOTOS?

2. QUAL ANIMAL TEVE MENOS VOTOS?

1. QUAL ANIMAL TEVE 6 VOTOS?

2. QUANTOS VOTOS TEVE O PEIXE?

5. QUAL ANIMAL VOCÊ ESCOLHERIA?

DIA DA SEMANA: \_\_\_\_\_

NOME: \_\_\_\_\_

LÍNGUA PORTUGUESA



# PAINEL DE LETRAS

Para fazer sorvete é preciso...


OVOS ✓  
LEITE  
CREME  
AÇÚCAR  
LIMÃO



ABACAXI  
MANGA  
GOIABA  
MORANGO  
CHOCOLATE

.....

O	U	T	O	N	O	S	T	R	A	V	E
C	R	C	V	E	A	Ç	Ú	C	A	R	V
U	I	H	X	I	S	E	N	T	E	V	A
L	M	O	R	A	N	G	O	R	A	E	L
O	O	C	E	R	E	J	V	L	B	Z	M
S	R	O	N	T	C	G	O	I	A	B	A
A	A	L	Q	U	R	E	S	M	C	R	N
B	N	A	R	I	E	R	A	Ã	A	A	G
E	I	T	U	R	M	I	T	O	X	N	A
R	L	E	I	T	E	S	R	V	I	C	L
L	A	B	A	C	A	C	O	L	A	O	I
E	N	E	R	I	R	O	N	A	C	L	N



ATIVIDADES PARA O DIA 17/11/2021

DIA DA SEMANA: \_\_\_\_\_

NOME: \_\_\_\_\_

MATEMÁTICA

NOME: \_\_\_\_\_

DATA: \_\_/\_\_/\_\_

CIRCULE O NÚMERO QUE ESTÁ NO LUGAR ERRADO:




0	1	2	3	4	5	6	3	8	9
---	---	---	---	---	---	---	---	---	---

10	11	12	13	24	15	16	17	18	19
----	----	----	----	----	----	----	----	----	----




20	21	22	23	24	25	26	27	82	29
----	----	----	----	----	----	----	----	----	----

30	13	32	33	34	35	36	37	38	39
----	----	----	----	----	----	----	----	----	----



40	41	42	43	44	55	46	47	48	49
----	----	----	----	----	----	----	----	----	----

50	51	52	53	54	55	36	57	58	59
----	----	----	----	----	----	----	----	----	----



60	61	62	63	64	65	66	67	68	79
----	----	----	----	----	----	----	----	----	----

Portafolios.blogspot.com

MATEMÁTICA

# ORDEM DECRESCENTE

QUANDO DISPOMOS OS NÚMEROS DO MAIOR PARA O MENOR, USAMOS A **ORDEM DECRESCENTE**.



8      6      4 ANOS

1. ESCREVA OS NÚMEROS DE 9 A 1 NA **ORDEM DECRESCENTE**.

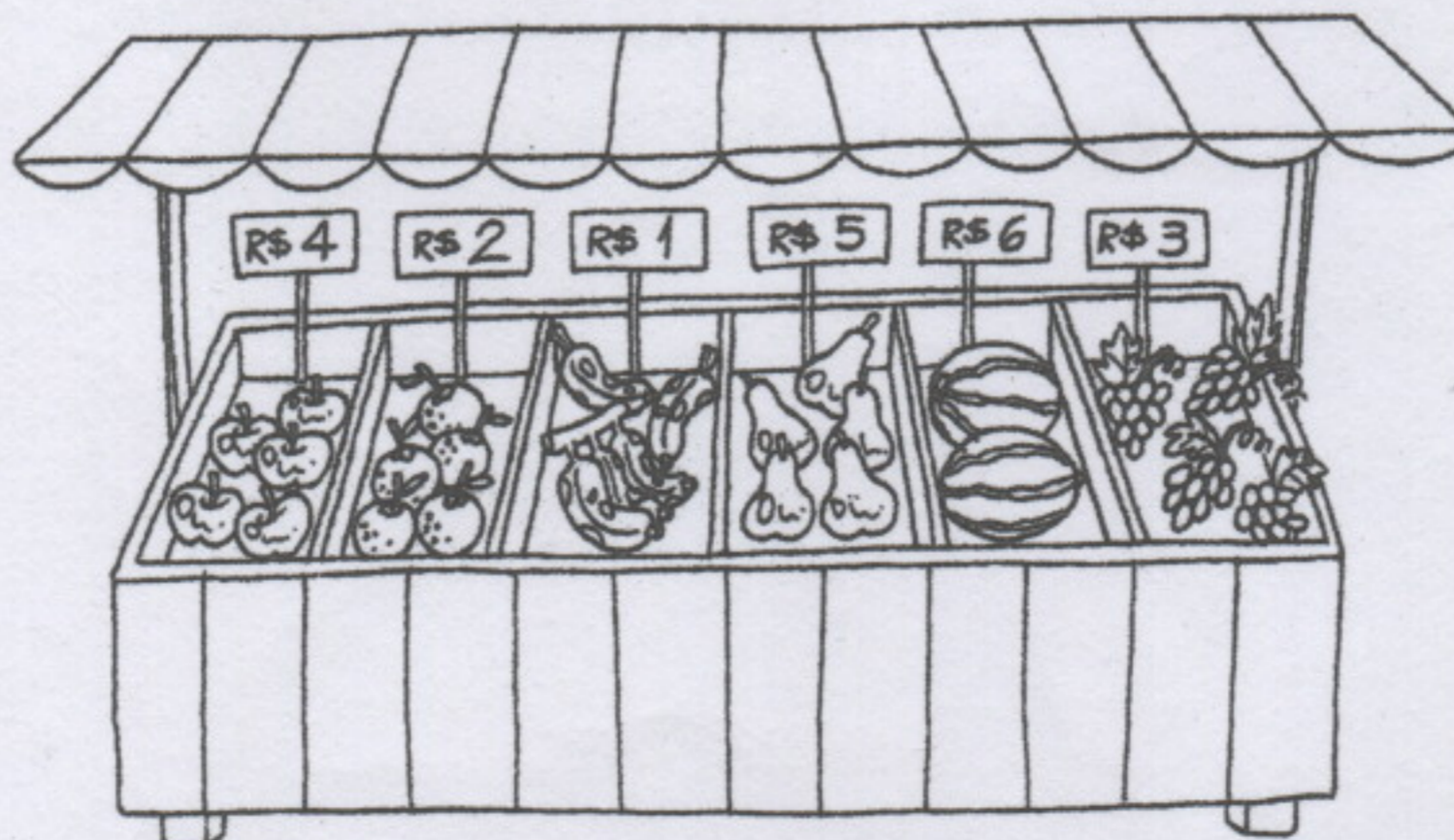
--	--	--	--	--	--	--	--	--	--

2. ORGANIZE ESTES NÚMEROS EM **ORDEM DECRESCENTE**.

26	22	25	24	27	21	30	20	29	28
----	----	----	----	----	----	----	----	----	----

--	--	--	--	--	--	--	--	--	--

3. ESCREVA OS PREÇOS EM **ORDEM DECRESCENTE**.



R\$	R\$	R\$	R\$	R\$	R\$
-----	-----	-----	-----	-----	-----

DIA DA SEMANA: \_\_\_\_\_

















NOME: \_\_\_\_\_

LÍNGUA PORTUGUESA

**NOME:** \_\_\_\_\_

**DATA:** \_\_\_\_/\_\_\_\_/\_\_\_\_

ESCOLHA O BALÃO CORRETO PARA COMPLETAR OS NOMES DOS INSETOS

	MOS _____ TO	
	_____ CA	
	_____ MIGA	
	BOR _____ LETA	
	_____ NHOCA	
	_____ ANINHA	
	A _____ LHA	
	CA _____ COL	

DANI EDUCAR

DIA DA SEMANA: \_\_\_\_\_

NOME: \_\_\_\_\_


MATEMÁTICA

DATA: \_\_\_/\_\_\_/\_\_\_

NOME: \_\_\_\_\_

ESCREVA OS NÚMEROS QUE ESTÃO FALTANDO:

9				5			2	1	0
18					14			11	10
29				25			22	21	20
		37					32		30
48					44			41	40
			56				52		50
				65		63			60
	78	77						71	70
89							82		80
99								91	90



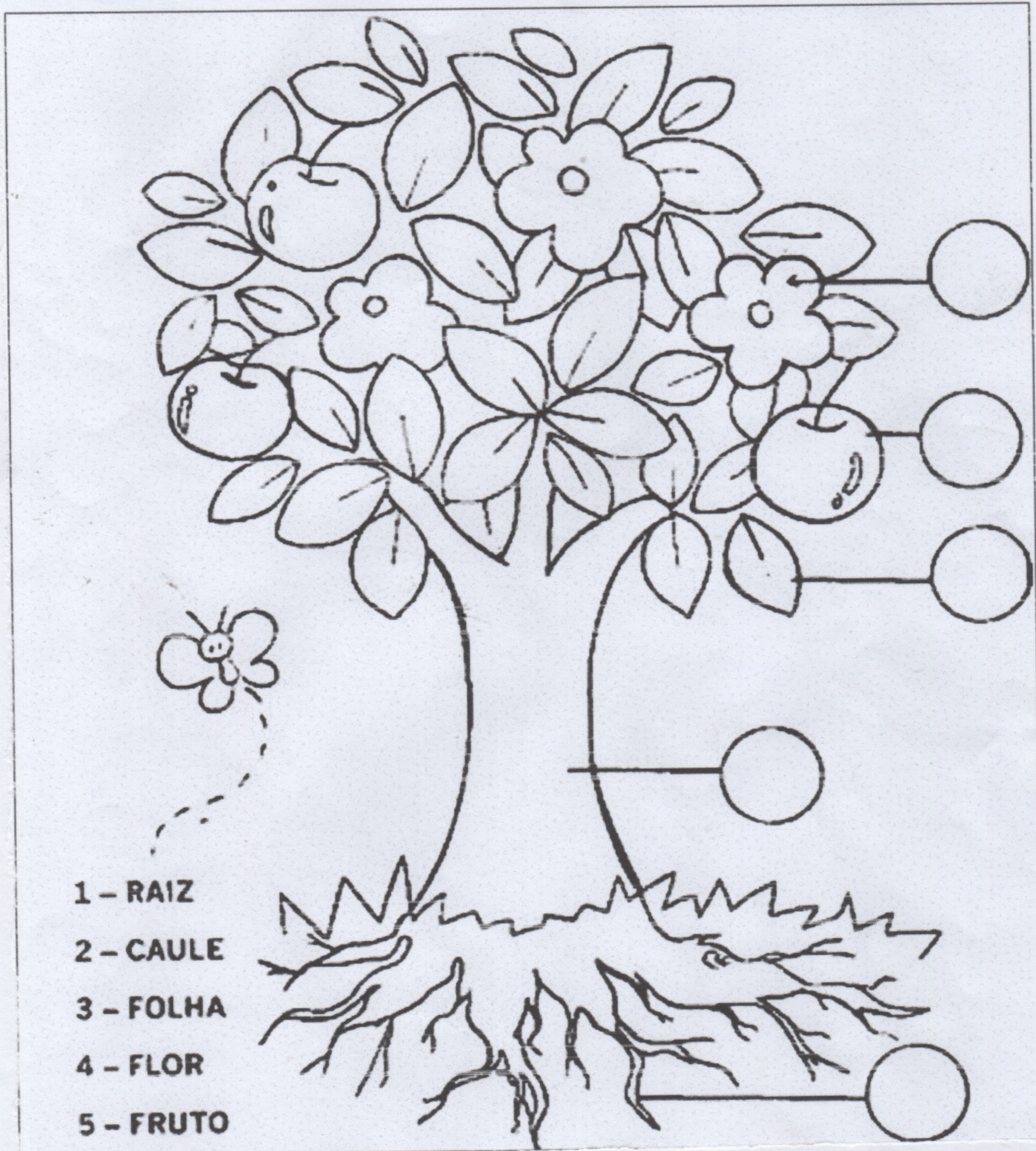
DIA DA SEMANA: \_\_\_\_\_

NOME: \_\_\_\_\_

CIÊNCIAS

CIÊNCIAS – PARTES DAS PLANTAS

OBSERVE A ÁRVORE ABAIXO E NUMERE AS SUAS PARTES.



DIA DA SEMANA: \_\_\_\_\_

NOME: \_\_\_\_\_

LÍNGUA PORTUGUESA

# DIA DA BANDEIRA

1. LIGUE OS SIGNIFICADOS DE CADA COR DA BANDEIRA NACIONAL



OURO E RIQUEZAS



CÉU



PAZ



MATASE FLORESTAS

