

MINHAS ATIVIDADES

A diferença nos enriquece...
O respeito nos une!



NOME: _____
PROFESSOR(A): _____

EM Salvador Ferreira de Campos -

Professora Dandra Luz Camargo

Atividades referentes aos dias: 16, 17, 18, 19, 22, 23,
24, 25 e 26/11

Nome: _____ 2º ano

CAÇA-PALAVRAS DO LH:

P	A	L	H	A	Ç	O	G	A	L	H	O	N	F	C	I	M	G
T	E	L	H	A	L	C	O	E	L	H	I	N	H	A	T	L	A
B	T	D	F	A	L	H	O	G	F	O	L	H	A	B	H	I	L
R	E	P	O	L	H	O	F	M	I	L	H	O	C	D	A	H	I
J	O	E	L	H	O	M	E	D	A	L	H	A	L	G	J	F	K

➔ **LIGUE O DESENHO À PALAVRA CORRETA:**



FOLHA
FILHA



CHOCALHO
GALHO



OLHO
MOLHO



ILHA
MARAVILHA



MEDALHA
ESPANTALHO



REPOLHO
TOALHA



COELHO
JOELHO



JULHO
TELHA



MILHO
FILHO



PILHA
PIOLHO



MEDALHA
MALHA



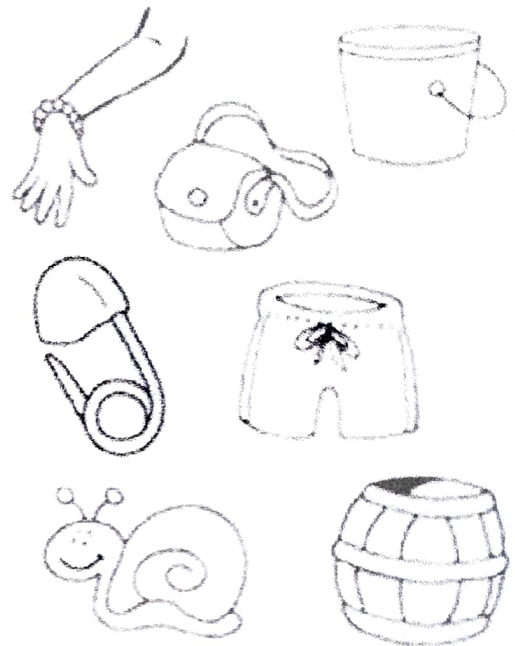
TALHA
TOALHA



EU CAÇO, EU ACHO

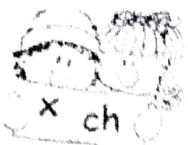
1) Descubra os nomes das figuras e circule-as no diagrama.

U	C	A	W	R	N	C	B	P
B	O	L	S	A	J	A	A	U
B	P	F	V	E	M	L	R	L
A	H	I	Q	S	V	Ç	R	S
C	G	N	B	L	S	Â	I	E
D	K	E	Q	Y	W	O	L	I
E	V	T	N	O	O	A	S	R
L	T	E	B	A	L	D	E	A
C	A	R	A	C	O	L	J	B



2) Forme frases com os nomes dos desenhos em destaque.





Ortografando

► Palavras escritas com **x** com som de **ch**.

enxuto - enxofre - enxugar - peixaria - enxergar
xarope - ameixa - coxa - enfeixar - bexiga

- Veja o palhaço Enxuto. Ele escreve seu nome com x.
- Hoje, Enxuto vai aprender a escrever também, outras palavras onde o **x** tem som de **ch**.

Registre as palavras que você formou.

1	2	3	4	5	6	7
nh	xa	da	xo	a	fei	ca
8	9	10	11	12	13	14
me	en	le	te	mei	u	ra
15	16	17	18	19	20	21
xam	cai	bai	pu	xe	xi	val
22	23	24	25	26	27	28
rou	bru	nol	ria	ba	bal	e

9 + 2 + 8

5 + 12 + 2

2 + 10

4 + 11

16 + 2

17 + 4

15 + 18

9 + 2 + 3

22 + 20 + 24

23 + 2 + 25

5 + 26 + 7 + 20

20 + 7 + 14

9 + 4 + 21

17 + 20 + 1

A pomba e a formiga

ORTOGRAFIA



Escolhe a forma correta de escrita de cada palavra

1.	formiga	fromiga
2.	porcura	procura
3.	sequiosa	sequioza
4.	forças	froças
5.	diminoir	diminuir
6.	correr	carrer
7.	dirigiu-se	dirijiu-se
8.	incelinou-se	inclinou-se
9.	alcançar	alcanssar
10.	escurregou	escorregou
11.	riveiro	ribeiro
12.	currente	corrente
13.	arastou	arrastou
14.	girtava	gritava
15.	sucorro	socorro
16.	afogar-me	afugar-me
17.	sobreviver	subreviver
18.	obirgada	obrigada
19.	natoresa	natureza
20.	priocupada	preocupada

ESCOLA _____

NOME: _____ DATA: ____/____/____



Mix ortográfico

1- Complete com X ou CH.

- | | | |
|------------------|-----------------|--------------------|
| a) _____ ifre | e) fle _____ a | i) fa _____ ineiro |
| b) li _____ eira | f) pei _____ e | j) _____ icara |
| c) _____ iqueiro | g) _____ uveiro | k) _____ arope |
| d) _____ umbo | h) _____ iote | l) _____ aveiro |

2- Complete com M ou N.

- | | | |
|--------------------|------------------|----------------|
| a) ba _____ deira | f) viagem _____ | k) ta _____ pa |
| b) la _____ terna | g) vo _____ tade | l) sa _____ ba |
| c) bo _____ bom | h) u _____ bigo | m) ca _____ po |
| d) fa _____ tasia | i) la _____ pião | n) ve _____ to |
| e) em _____ brulho | j) já _____ tar | o) ge _____ te |

3- Complete com G ou J.

- | | |
|--------------------|---------------------|
| a) ma _____ estade | f) _____ eito |
| b) _____ ente | g) sar _____ eta |
| c) can _____ ica | h) _____ eleia |
| d) ti _____ ela | i) berin _____ eila |
| e) _____ iló | j) _____ irassol |

4- Complete com LH ou Li.

- | | |
|------------------|-------------------|
| a) jú _____ o | f) famí _____ a |
| b) coa _____ ada | g) ju _____ o |
| c) a _____ o | h) domicí _____ o |
| d) te _____ a | i) mi _____ o |
| e) brasí _____ a | j) ma _____ a |




FRASES




ORGANIZE OS NÚMEROS DAS PALAVRAS E FORME A FRASE

www.danieleducar.com.br

5 VOOU 1 A 4 BETO 3 DO 2 BEXIGA




1 ANA 4 PEIXE 2 PEGOU 3 UM




2 BORBOLETAS 3 VOAM 1 AS



2 CRIANÇAS 1 AS 3 FIZERAM 4 BOLO



COMPLETE AS FRASES DE ACORDO
COM AS IMAGENS



MEU _____ DE COR QUEBROU.

EU E MEU PRIMO LUAN JOGAMOS O _____.

EU FUI VIAJAR DE _____ PARA SÃO PAULO.

A _____ DO MEU JARDIM É AMARELA.

AGORA É SUA VEZ!

ESCREVA FRASES UTILIZANDO O NOME DAS FIGURAS
ACIMA:

Four horizontal dashed lines for writing.

FRASES



Escolha uma situação pinte de acordo com a figura e crie uma frase:

A menina bebeu...




- leite quente e comeu pão.
- leite morno e comeu pão.
- leite frio e não comeu.

Foi para a escola...



- com a mãe.
- com o pai.
- com a avó.

Pelo caminho...



- não encontrou ninguém.
- encontrou muita gente.
- encontrou muitos meninos.

Agora escreva um pequeno texto juntando as frases que você formou.

A professora esqueceu de deixar as palavras separadas nas frases abaixo, vamos separar?




AVOVÓFEZUNSDOCINHOSPARAACHAPEUZINHOVERMELHO.

.....
.....

CHAPEUZINHOVERMELHOLEVOUACESTAPARAFLORESTA.

.....
.....



ATIVIDADES SUZANO



OLOBOVESTIUARROUPADAVOVÓPARAENGANARCHAPEUZINHO.

.....
.....

OCACADORSALVOUCHAPEUZINHOVERMELHODOLOBO.

.....
.....




FRASES

ORGANIZE OS NÚMEROS DAS PALAVRAS E COLE A FRASE

QUEM?	
1	A MUIA VELHA LEVOU
2	MAGAL E UMA MENINA
3	A MINHOCA COMEU
4	O MACAÇO MANEJO


www.criativemais.com.br



COMO?	
1	TODAA MAÇA
2	COM BANANA
3	A MALA NO PE SCOOÇO
4	QUE COME MELANCIA

ONDE?	
1	EM CIMA DA ARVORE
2	NA ESCOLA
3	PARA A MATA
4	DA MESA





ORDENE AS FRASES

PASSARINHO BEM CANTOU O ALTO

GALINHA NINHO A FEZ QUINTAL SEU NO

PAPAI CARRO PRETO O COMPROU UM

VOVÓ UM A DOCE FEZ MAMÃO DE

Complete os números no quadro observando a sequência numérica:



50		52	53		55				59
60	61			64			67		
70		72			75			78	
80							87		89
90		92			95			98	
100		102				106			
110	111								
120		122							129

Escreva todos os números pares faltantes:

Agora, escreva os números ímpares que estavam faltando:

COMPLETE A SEQUÊNCIA DOS NÚMEROS

1) 2, 4, 6, _____, _____, _____, _____, _____, _____, _____

2) 85, 88, 91, _____, _____, _____, _____, _____, _____, _____

3) 65, 69, 73, _____, _____, _____, _____, _____, _____, _____

4) 72, 77, 82, _____, _____, _____, _____, _____, _____, _____

5) 21, 31, 41, _____, _____, _____, _____, _____, _____, _____

6) 54, 56, 58, _____, _____, _____, _____, _____, _____, _____

7) 75, 78, 81, _____, _____, _____, _____, _____, _____, _____

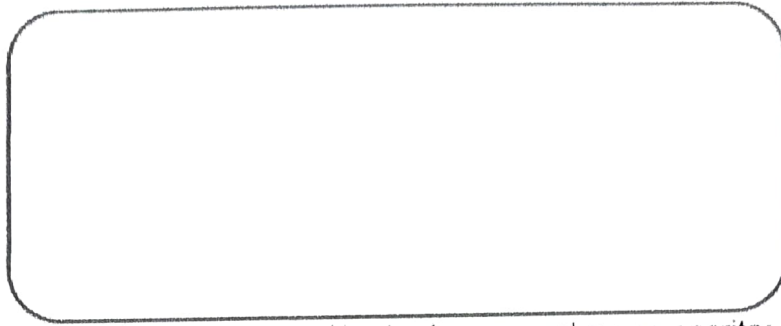
8) 9, 13, 17, _____, _____, _____, _____, _____, _____, _____

9) 78, 83, 88, _____, _____, _____, _____, _____, _____, _____

10) 5, 15, 25, _____, _____, _____, _____, _____, _____, _____



SISTEMA DE NUMERAÇÃO DECIMAL



Ligue fazendo a correspondência do numeral a sua escrita:

174

8

107

65

71

200

Setenta e um

Cento e setenta e quatro

Duzentos

Sessenta e cinco

Oito

Cento e sete



No quadro abaixo represente os números como no exemplo:

	3ª ordem	2ª ordem	1ª ordem
	Centena	Dezena	Unidade
582	5	2	2
939			
803			
701			
628			

LEIA OS NÚMEROS POR EXTENSO E COLOQUE EM NÚMEROS NA TABELA

DUZENTOS E OITENTA E CINCO

C	D	U

QUINHENTOS E OITENTA E UM


C	D	U

DECOMPOLHA OS NÚMEROS EM CENTENAS, DEZENAS E UNIDADES

número	Centena	Dezena	Unidade
555			
86			
678			
56			
876			

LEONOR TEM

235

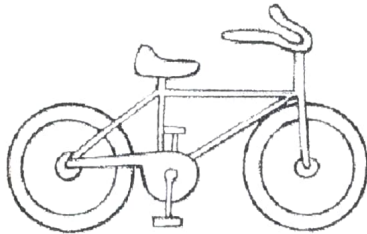


CARRINHOS DE BRINQUEDO

C	D	U

BIANCA TEM

35



BICICLETAS

C	D	U

CAROLINA TEM

160

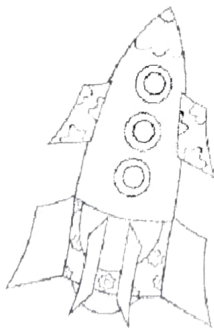


URSINHOS DE PELÚCIA

C	D	U


RICARDO TEM

407



FOGUETES DE BRINQUEDO


C	D	U



NUMA CAIXA HÁ 7 CHOCOLATES AMARGOS E 8 CHOCOLATES BRANCOS. QUANTOS CHOCOLATES HÁ NNESSA CAIXA?

www.aprenderbrincar.com

RESPOSTA: HÁ 15 CHOCOLATES NNESSA CAIXA.



PEDRO COMPROU 15 GIBIS PARA LER. ATÉ O MOMENTO LÊU 4. QUANTOS GIBIS AINDA FALTAM ELE LER?

www.aprenderbrincar.com


RESPOSTA: FALTAM 11 GIBIS PARA ELE LER.



NO JARDIM HAVIA 5 BORBOLETAS GRANDES E CHEGARAM MAIS 4 BORBOLETAS PEQUENAS. QUANTAS BORBOLETAS TINHAM AO TODO?

www.aprenderbrincar.com

RESPOSTA: TINHAM 9 BORBOLETAS NO TOTAL.




O CARTEIRO TINHA 9 CARTAS PARA ENTREGAR. ENTREGOU APENAS 7. QUANTAS CARTAS FALTAM ELE ENTREGAR?

www.aprenderbrincar.com

RESPOSTA: FALTAM 2 CARTAS PARA ENTREGAR.


APRENDER E BRINCAR



VOVO MARIA FEZ 28 BOINHOS. SEU NETO GABRIEL COMEU 7. QUANTOS BOINHOS RESTARAM?

www.aprenderbrincar.com


RESPOSTA: _____



A DIRETORA GOSTA DE COMER DUAS FRUTAS A TARDE E DUAS FRUTAS A NOITE. QUANTAS FRUTAS A DIRETORA COME POR DIA?

www.aprenderbrincar.com

RESPOSTA: _____



UMA GALINHA BOTOU 12 OVOS. MAS 10 QUEBRARAM. COM QUANTOS OVOS LLA FICOU?

www.aprenderbrincar.com


RESPOSTA: _____



FELIPE TINHA 18 BEXIGAS, GANHOU MAIS 5. COM QUANTAS BEXIGAS ELE FICOU?

www.aprenderbrincar.com

RESPOSTA: _____



EM UM GALINHEIRO HAVIAM 10 PINTINHOS.
NASCERAM MAIS 6. QUANTOS PINTINHOS HÁ
AGORA NO GALINHEIRO?

nome do aluno(a): _____

RESPOSTA: _____



ANA TEM 5 LÁPIS DE COR. QUANTO ELA
PRECISARA GANHAR PARA FICAR COM 12
LÁPIS?

nome do aluno(a): _____

RESPOSTA: _____



OS AMIGOS ESTÃO JOGANDO FUTEBOL.
LUCAS FEZ 9 GOLS E SEU AMIGO FELIPE FEZ 3.
QUANTOS GOLS ELLES FIZERAM NO TOTAL?

nome do aluno(a): _____

RESPOSTA: _____



NO JOGO DE XADREZ PEDRO FEZ 7 PONTOS E
MARIANA FEZ 4. QUANTOS PONTOS ELLES
FIZERAM JUNTOS?

nome do aluno(a): _____

RESPOSTA: _____

ATIVIDADES DE MATEMÁTICA

1) CALCULE MENTALMENTE OS RESULTADOS DAS ADIÇÕES E ESCREVA AS RESPOSTAS:



- | | | |
|--------------------|---------------------|--------------------|
| A) $5 + 8 =$ _____ | G) $10 + 7 =$ _____ | M) $6 + 6 =$ _____ |
| B) $7 + 9 =$ _____ | H) $11 + 7 =$ _____ | N) $7 + 7 =$ _____ |
| C) $6 + 7 =$ _____ | I) $5 + 7 =$ _____ | O) $8 + 8 =$ _____ |
| D) $8 + 9 =$ _____ | J) $6 + 8 =$ _____ | P) $9 + 9 =$ _____ |
| E) $8 + 7 =$ _____ | K) $6 + 9 =$ _____ | |
| F) $9 + 7 =$ _____ | L) $6 + 10 =$ _____ | |

2) CALCULE MENTALMENTE O RESULTADO DAS ADIÇÕES E LIGUE CADA ENVELOPE A SUA CAIXA DE CORREIO:

12+24	•	•	74
45+22	•	•	67
64+10	•	•	36
17+20	•	•	37

3) CALCULE O RESULTADO DE CADA OPERAÇÃO:

A)
$$\begin{array}{r} 25 \\ + 4 \\ \hline \end{array}$$

B)
$$\begin{array}{r} 29 \\ + 10 \\ \hline \end{array}$$

C)
$$\begin{array}{r} 15 \\ + 3 \\ \hline \end{array}$$

D)
$$\begin{array}{r} 30 \\ + 6 \\ \hline \end{array}$$



Matemática

Operações com
Números Naturais



ADIÇÃO

$$\begin{array}{r} \square \\ + 25 \\ + 15 \\ \hline \square \\ \square \end{array}$$

$$\begin{array}{r} \square \\ + 36 \\ + 36 \\ \hline \square \\ \square \end{array}$$

$$\begin{array}{r} \square \\ + 57 \\ + 18 \\ \hline \square \\ \square \end{array}$$

$$\begin{array}{r} \square \\ + 29 \\ + 44 \\ \hline \square \\ \square \end{array}$$

$$\begin{array}{r} \square \\ + 78 \\ + 8 \\ \hline \square \\ \square \end{array}$$

$$\begin{array}{r} \square \\ + 65 \\ + 19 \\ \hline \square \\ \square \end{array}$$

$$\begin{array}{r} \square \\ + 42 \\ + 28 \\ \hline \square \\ \square \end{array}$$

$$\begin{array}{r} \square \\ + 16 \\ + 17 \\ \hline \square \\ \square \end{array}$$

$$\begin{array}{r} \square \\ + 27 \\ + 37 \\ \hline \square \\ \square \end{array}$$

$$\begin{array}{r} \square \\ + 52 \\ + 39 \\ \hline \square \\ \square \end{array}$$

SUBTRAÇÃO

$$\begin{array}{r} 33 \\ - 22 \\ \hline \square \\ \square \end{array}$$

$$\begin{array}{r} 45 \\ - 15 \\ \hline \square \\ \square \end{array}$$

$$\begin{array}{r} 28 \\ - 14 \\ \hline \square \\ \square \end{array}$$

$$\begin{array}{r} 54 \\ - 23 \\ \hline \square \\ \square \end{array}$$

$$\begin{array}{r} 79 \\ - 55 \\ \hline \square \\ \square \end{array}$$

$$\begin{array}{r} 85 \\ - 45 \\ \hline \square \\ \square \end{array}$$

$$\begin{array}{r} 67 \\ - 66 \\ \hline \square \\ \square \end{array}$$

$$\begin{array}{r} 90 \\ - 10 \\ \hline \square \\ \square \end{array}$$

$$\begin{array}{r} 25 \\ - 14 \\ \hline \square \\ \square \end{array}$$

$$\begin{array}{r} 19 \\ - 5 \\ \hline \square \\ \square \end{array}$$

RESOLVA AS ADIÇÕES.

$23 + 54 =$

$41 + 18 =$

$20 + 59 =$

$62 + 16 =$

$44 + 33 =$

$51 + 26 =$

$36 + 61 =$

$25 + 42 =$

$72 + 12 =$

$16 + 33 =$

$27 + 42 =$

$18 + 61 =$

$39 + 20 =$

$46 + 12 =$

$54 + 31 =$

$45 + 24 =$

