

EM BAIRRO MORRO GRANDE

APOSTILA DE ESTUDOS REMOTOS

Nº 14

CONTEÚDOS DO 4º BIMESTRE

PERÍODO DE 08 A 26 DE NOVEMBRO

1º ANO A

2021

PROFESSOR: MARCELO DE ALMEIDA ALVES

ELABORADA DE ACORDO COM AS ORIENTAÇÕES PEDAGÓGICAS Nº 17 DA SME DE 07/10/2021



PREFEITURA DA ESTÂNCIA TURÍSTICA DE
IBIÚNA
Por uma educação pedagógica, investida no presente, gerando o futuro
SECRETARIA DE EDUCAÇÃO



ATIVIDADE 01 LÍNGUA PORTUGUESA

BETO, O BOM DE BOLA



PAULO, BETO E RENATO VÃO JOGAR BOLA.
BETO É O GOLEADOR DO TIME.
PAULO JOGA A BOLA PARA RENATO.
BETO PEDE A RENATO:
— AQUI, RENATO!
A BOLA CAI NO PÉ DE BETO.
BETO PÕE A BOLA NA REDE E FAZ UM BELO GOL.

Graça Boquet

1) QUEM VAI JOGAR BOLA?

2) DAS TRÊS CRIANÇAS, O GOLEADOR É:


- PAULO. BETO. RENATO.

3) ONDE CAIU A BOLA QUE RENATO JOGOU?

- NO PÉ DE PAULO. NO PÉ DE BETO.

ATIVIDADE 02 CIÊNCIAS

O CORPO HUMANO



BANCO DE PALAVRAS

BRAÇO	PERNA	COXA	OMBRO
JOELHO	MÃO	PÉ	CABEÇA

ATIVIDADE 03 MATEMÁTICA

MATEMÁTICA

RESOLVA AS ADIÇÕES ABAIXO:



$5+2=$



$7+1=$



$3+3=$



$1+4=$



$4+5=$



$8+2=$



$2+3=$



$1+6=$



$6+4=$



$9+1=$



$7+2=$



$2+6=$

ATIVIDADE 04 HISTÓRIA

DIA E NOITE

Regina C. Villaça Lima



QUANDO ACORDO BEM CEDINHO
VEJO QUE É UM LINDO DIA,
POIS O SOL ESTÁ A BRILHAR
TRAZENDO LUZ, CALOR E ALEGRIA.

CHEGANDO A NOITE DEVAGARINHO
VEJO NO CÉU A BRILHAR
A LUA E LINDAS ESTRELINHAS
ENFEITANDO ATÉ O DIA RAIAR!



ATIVIDADE 05 LÍNGUA PORTUGUESA

BETE DEU A BOLA PARA BENÍCIO.
BENÍCIO COLOCOU A BOLA NA BACIA.
BETE EXCLAMOU:
_QUE ISSO BENÍCIO?
BENÍCIO RESPONDEU:
_ UAI, BOLA NA BACIA, VIRA BOLA MACIA!
BENÍCIO TEM CADA UMA!



ISABEL CRISTINA S. SOARES

1 – PINTE OS ESPAÇOS ENTRE AS PALAVRAS DO TEXTO.

2 – BETE DEU A BENÍCIO:

- A BACIA
- A BANANA
- A BOLA



ATIVIDADE 06 GEOGRAFIA

COMO É MINHA CASA?



MARQUE SIM OU NÃO NOS QUADRINHOS PARA RESPONDER



















	SIM	NÃO
EU MORO EM APARTAMENTO	<input type="checkbox"/>	<input type="checkbox"/>
NA MINHA CASA TÊM VIZINHOS	<input type="checkbox"/>	<input type="checkbox"/>
A RUA DA MINHA CASA É CALÇADA	<input type="checkbox"/>	<input type="checkbox"/>
NA MINHA CASA TÊM TELEVISÃO	<input type="checkbox"/>	<input type="checkbox"/>
NA MINHA CASA TÊM QUINTAL OU JARDIM PARA BRINCAR	<input type="checkbox"/>	<input type="checkbox"/>
MEU AVÔ OU AVÓ MORA COMIGO	<input type="checkbox"/>	<input type="checkbox"/>
EU TENHO ANIMAIS DE ESTIMAÇÃO	<input type="checkbox"/>	<input type="checkbox"/>

ATIVIDADE 07 MATEMÁTICA

MATEMÁTICA

RESOLVA AS SUBTRAÇÕES ABAIXO:

 $7-1=$	 $5-2=$	 $4-3=$	 $9-6=$
 $8-4=$	 $7-1=$	 $2-1=$	 $6-2=$
 $9-8=$	 $3-3=$	 $5-4=$	 $8-7=$
 $5-1=$	 $4-2=$	 $6-5=$	 $2-2=$

Cores primárias



Cores secundárias



ATIVIDADE 09 LÍNGUA PORTUGUESA


2 – BENÍCIO COLOCOU A BOLA:

- NO BALDE
- NA BACIA
- NO BERÇO

3 – COMPLETE DE ACORDO COM O TEXTO.

- A) _____ NA _____, VIRA BOLA _____
- B) _____ DEU A BOLA PARA _____.

4 – ESCREVA OS NOMES DE ACORDO COM O TEXTO.



SITUAÇÃO PROBLEMA

MÔNICA LEU 5 GIBIS PELA MANHÃ E 7 GIBIS A TARDE. QUANTOS GIBIS ELA LEU NO TOTAL?



CEBOLINHA E MÔNICA ESTÃO BRINCANDO JUNTOS. ELE TROUXE 3 CARRINHOS E ELA 2 BONECAS. QUANTOS BRINQUEDOS ELES TEM JUNTOS?



MÔNICA FOTOGRAFOU 5 BORBOLETAS GRANDES E CHEGARAM MAIS 4 BORBOLETAS PEQUENAS. QUANTAS BORBOLETAS VOAM AO TODO?



MAGALI ADORA SORVETE. ELA PEDIU 3 BOLAS NO SABOR DE CHOCOLATE E 4 DE MORANGO. QUANTAS BOLAS DE SORVETE ELA CHUPOU ?



ATIVIDADE 11 MATEMÁTICA


MATEMÁTICA

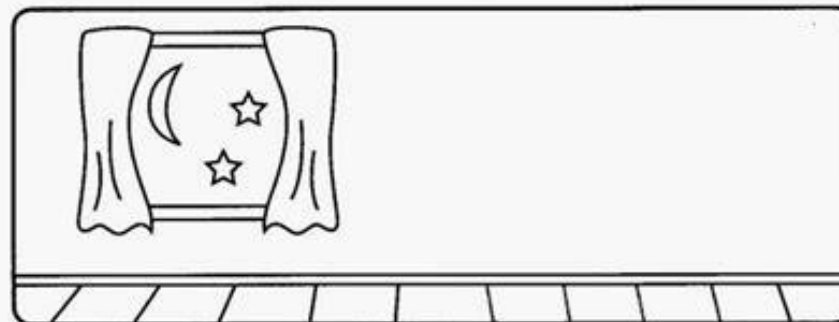

RESOLVA AS ADIÇÕES ABAIXO:

www.darteducar.com.br

$\begin{array}{r} 3 \\ +5 \\ \hline \end{array}$	$\begin{array}{r} 6 \\ +1 \\ \hline \end{array}$	$\begin{array}{r} 2 \\ +2 \\ \hline \end{array}$	$\begin{array}{r} 8 \\ +1 \\ \hline \end{array}$
$\begin{array}{r} 4 \\ +2 \\ \hline \end{array}$	$\begin{array}{r} 1 \\ +3 \\ \hline \end{array}$	$\begin{array}{r} 7 \\ +3 \\ \hline \end{array}$	$\begin{array}{r} 4 \\ +4 \\ \hline \end{array}$
$\begin{array}{r} 1 \\ +9 \\ \hline \end{array}$	$\begin{array}{r} 2 \\ +5 \\ \hline \end{array}$	$\begin{array}{r} 5 \\ +4 \\ \hline \end{array}$	

É DIA OU NOITE?

 PINTE AS CENAS, RECORTE AS FIGURAS ABAIXO E COLE-AS NOS QUADROS DE ACORDO COM ATIVIDADES QUE FAZEMOS DURANTE O DIA E À NOITE.




ATIVIDADE 13 LÍNGUA PORTUGUESA

LÍNGUAGEM ORAL, LEITURA E ESCRITA

LEIA.

BICO DE PATO
PÉ DE COELHO
CAÍ DO CAVALO
E QUEBREI O JOELHO!

ISABEL CRISTINA S. SOARES





1) QUAIS OS ANIMAIS QUE APARECEM NO TEXTO?

Two horizontal writing lines with a dashed midline and a pencil icon on the left side.

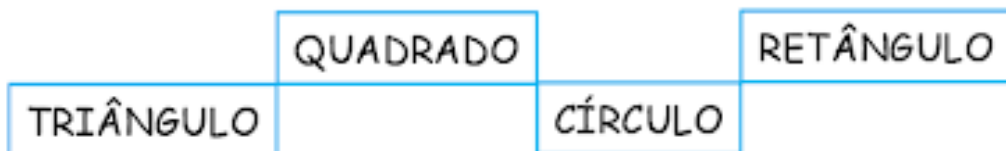
A horizontal writing line with a dashed midline and a pencil icon on the left side.

Pinte a rua mais parecida com a sua.




ATIVIDADE 15 MATEMÁTICA

1 - PINTE AS FORMAS GEOMÉTRICAS E LIGUE AOS NOMES CORRETOS USANDO CORES DIFERENTES.



2 - CIRCULE OS OBJETOS QUE TÊM FORMATO RETANGULAR.




3 - COMPLETE A SEQUÊNCIA.



VERMELHO, AZUL E AMARELO SÃO AS TRÊS CORES PRIMÁRIAS. E, SE A GENTE MISTURAR, TEM AS CORES SECUNDÁRIAS

NO ROXO, AZUL E VERMELHO. NO VERDE, AZUL E AMARELO. NO LARANJA, O VERMELHO E O AMARELO SEMPRE BELO.



ATIVIDADE 17 LÍNGUA PORTUGUESA

LIGUE AS FIGURAS AO NOME.



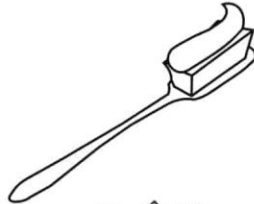
CAMA
CASA
CARRO




BATOM
BALA
BANCO




PALITO
PAPEL
PANELA




ESCOVA
ESCOLA
ESPIGA



MALA
MATO
MAPA




AMORA
ABACAXI
AMEIXA




CÉU
CANETA
CACHORRO



ÓCULOS
ORELHA
OVO



GELO
GULA
GALO



PEIXE
PIPA
PÃO

SISTEMA MONETÁRIO

1 - Ligue cada nota de dinheiro ao seu valor correspondente e escreva a quantidade por extenso como no modelo.



R\$ 5,00

Cinco reais

R\$ 10,00

R\$ 2,00

R\$ 20,00

R\$ 50,00

R\$ 100,00

ATIVIDADE 19 LÍNGUA PORTUGUESA

O GATINHO AZUL

O GATINHO VIU A LATA DE TINTA PERTO DA MESA.

DE REPENTE O RATINHO PASSOU LIGEIRO E SUBIU NA MESA.

O GATINHO FOI ATRÁS E DEU UM BOTE!


MAS... PLOFT!!!

O GATINHO CAIU DENTRO DA LATA DE TINTA AZUL.



ISABEL CRISTINA S. SOARES

1 - ESCREVA ABAIXO O TÍTULO DO TEXTO.



2 - OS PERSONAGENS DO TEXTO SÃO:

- () A LATA E O GATINHO
- () O GATINHO E O RATINHO
- () A LATA DE TINTA


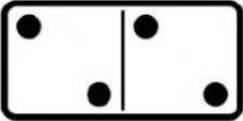


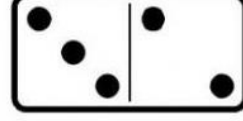

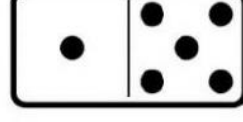

Pesquise no caça-palavras os nomes das partes do corpo abaixo.

PESCOÇO CABEÇA OMBRO
BRAÇO BARRIGA PERNA

C	A	F	A	Ç	A	Q	N	G	M
A	B	H	P	E	S	C	O	Ç	O
B	K	L	E	D	X	Ç	U	R	P
E	B	H	B	V	O	M	B	R	O
Ç	A	T	R	M	B	C	O	S	E
A	R	J	A	G	R	Ç	X	Z	A
G	R	H	Ç	H	N	R	R	S	C
S	I	I	O	A	M	P	P	E	G
R	G	K	U	P	E	R	N	A	Ç
S	A	T	O	R	N	B	C	E	P


ATIVIDADE 21 MATEMÁTICA

SOMANDO COM AS PEÇAS DO DOMINÓ

	<input type="text" value="4"/>	+	<input type="text" value="6"/>	=	<input type="text" value="10"/>
	<input type="text"/>	+	<input type="text"/>	=	<input type="text"/>
	<input type="text"/>	+	<input type="text"/>	=	<input type="text"/>
	<input type="text"/>	+	<input type="text"/>	=	<input type="text"/>
	<input type="text"/>	+	<input type="text"/>	=	<input type="text"/>
	<input type="text"/>	+	<input type="text"/>	=	<input type="text"/>
	<input type="text"/>	+	<input type="text"/>	=	<input type="text"/>
	<input type="text"/>	+	<input type="text"/>	=	<input type="text"/>


66

- Ver as cenas abaixo e colorir nos círculos de amarelo o que fazemos de dia e de azul o que fazemos à noite.



- Completar a frase com a palavra **DIA** e colorir a cena certa.

Hoje o _____ está:



ATIVIDADE 23 LÍNGUA PORTUGUESA









COMPLETE OS QUADRADINHOS DE ACORDO COM OS SÍMBOLOS.



NÚMERO DE LETRAS DA PALAVRA




NÚMERO DE VEZES QUE VOCÊ ABRIU A BOCA PRA FALAR A PALAVRA.

ANIMAL	PALAVRA		
	GATO		
	SAPO		
	MACACO		
	JACARÉ		
	CAVALO		
	TUBARÃO		

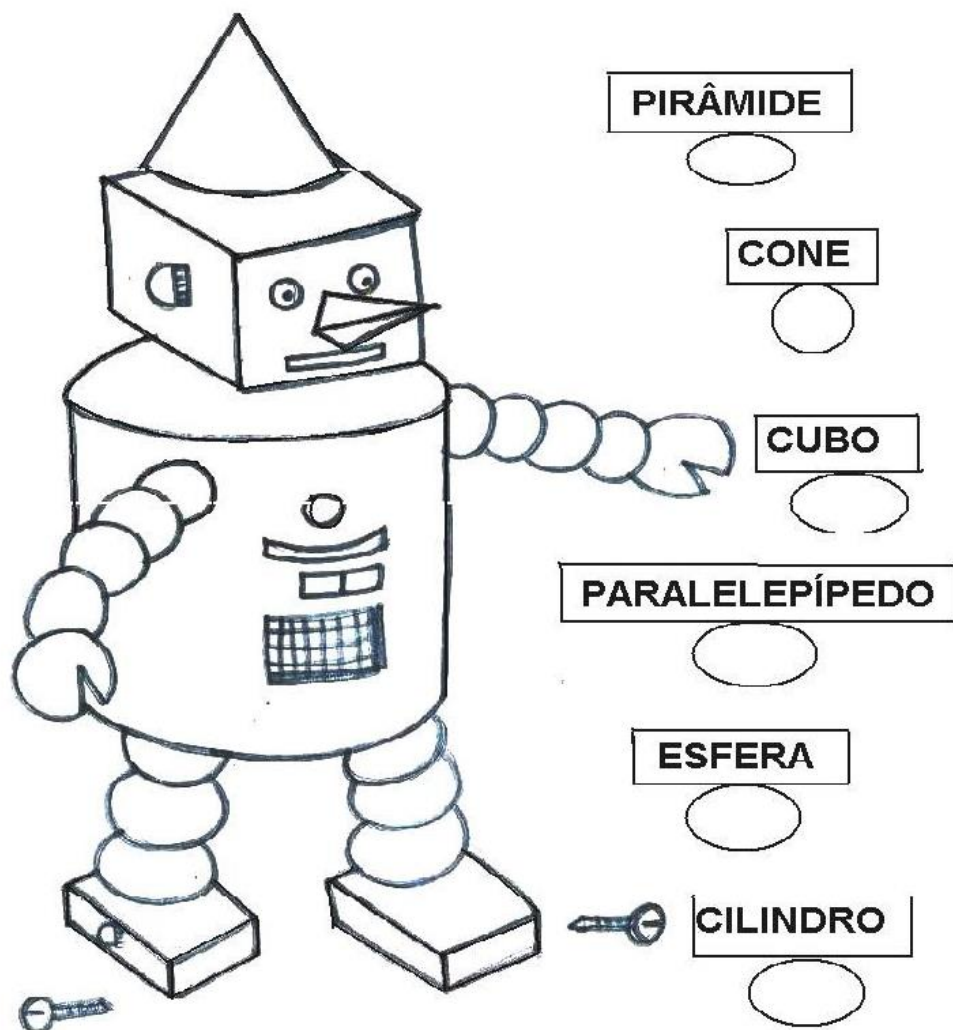
LAR DOCE LAR

PINTE A FIGURA QUE REPRESENTA A CONSTRUÇÃO MAIS PARECIDA COM O LOCAL ONDE VOCÊ MORA.



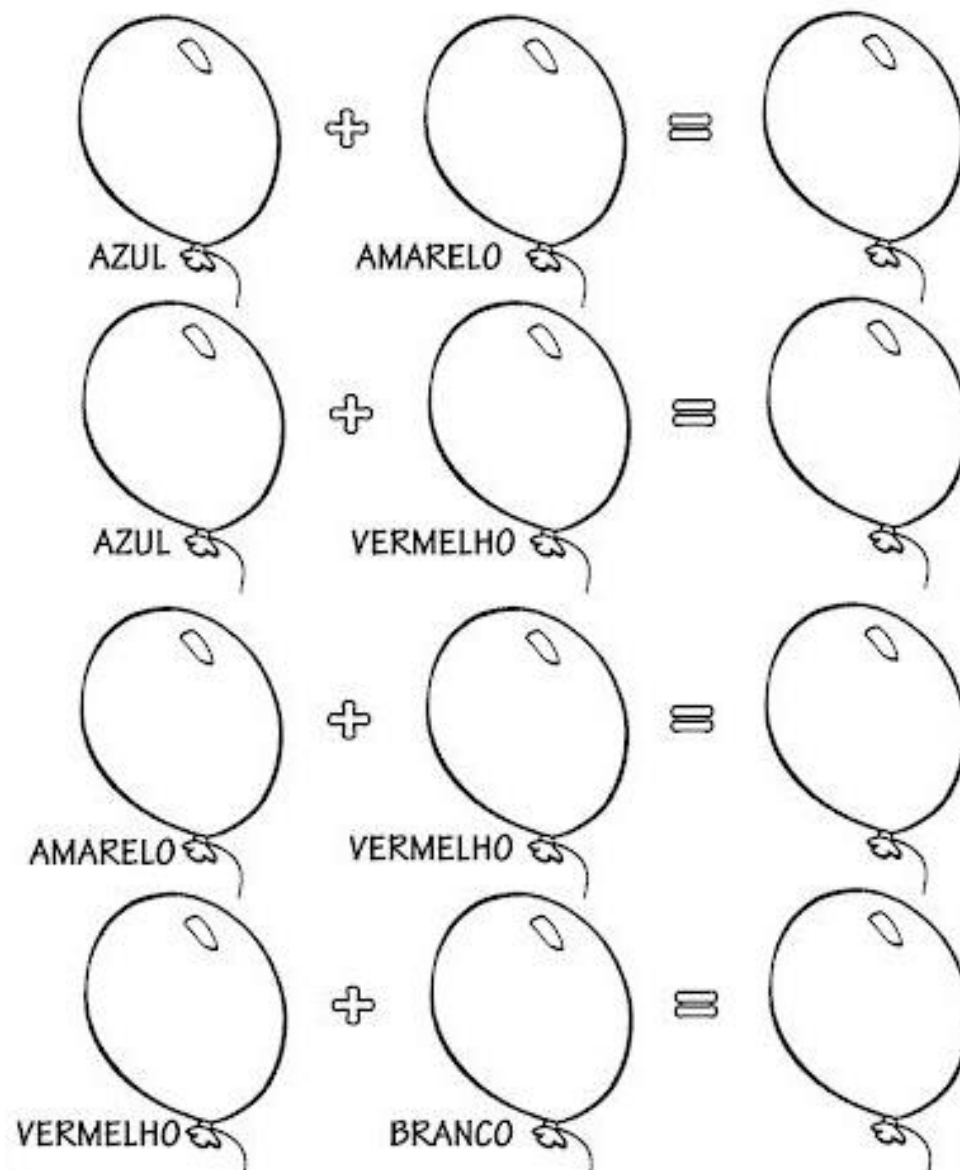
ATIVIDADE 25 MATEMÁTICA

12-OBSERVE ESTE DESENHO DO ROBÔ E
ESCREVA A QUANTIDADE DE FIGURAS PLANAS
PEDIDAS:



QUAL É A COR?


1- JUNTE AS CORES E DESCUBRA UMA NOVA COR:



ATIVIDADE 27 LÍNGUA PORTUGUESA

DEDÉ

Adiléa M. I. Generoso



ESTE É O DEDÉ.
DEDÉ É UM MENINO MUITO
LEVADO!
ELE FAZ UMA PIPA.

A PIPA É DE PAPEL COLORIDO.

DEDÉ VAI ATÉ O CAMPO EMPINAR A PIPA.

A PIPA SOBE BEM ALTO.

DE REPENTE, UM VENTO FORTE SOPRA E A

PIPA CAI EM UMA ÁRVORE.

DEDÉ PEGA UM GALHO E TIRA A PIPA.

ELE VOLTA PARA CASA MUITO FELIZ!

★ **LIGUE:**

vinte e cinco centavos

um real

dez centavos

cinco centavos

cinquenta centavos



Referencias

<https://br.pinterest.com/pin/829717931332873236/>

<https://ensinoja.com.br/pequenos-textos-para-alfabetizacao-1-ano/>

<https://amorensina.com.br/pequenos-textos-para-leitura/>

<https://www.mestredosaber.com.br/30-atividades-de-portugues-1-ano/>

<https://danieducar.com.br/matematica-1-ano-adicao/>

https://www.liveworksheets.com/worksheets/pt/Matem%C3%A1tica/Adi%C3%A7%C3%A3o/ADI%C3%87%C3%83O_kl1868190oe

<https://danieducar.com.br/atividades-matematica-subtracao-1-ano/>

<https://br.pinterest.com/pin/498281146272250099/>

<https://br.pinterest.com/pin/794744665464018730/>

<https://www.soescola.com/probleminhas-adicao-atividades-matematica28429-1>

<https://br.pinterest.com/pin/181973641177711230/>

<https://www.atividadesparaimprimir.com/2019/08/atividade-sobre-dinheiro.html?m=1>

<https://www.lipitipi.org/2014/08/atividades-educativas-ciencias-partes.html>

<https://www.liveworksheets.com/worksheets/pt/Ci%C3%Aancias/Partes do corpo/Partes do corpo yf1224018ke>

<https://br.pinterest.com/pin/459367230715302760/>

<https://mungfali.com/page/B320426E554891BBB7BD35551DAA82A30D7B4A13/30-atividades-dia-e-noite-para-imprimir-online-cursos>

<https://escolaeducacao.com.br/atividades-de-geografia-educacao-infantil/atividades-de-geografia-1-ano-pinte-a-rua/>

<https://br.pinterest.com/pin/449656344037883391/>

<https://br.pinterest.com/pin/21814379436082996/>

<https://bau-de-atividades.com/atividades-sobre-cores-primarias-e-secundarias/>