

## Apostila Nº 14\*



PREFEITURA DA ESTÂNCIA TURÍSTICA DE  
**IBIÚNA**  
*Por uma Ibiúna próspera. Investindo no presente, gerando o futuro.*  
SECRETARIA DE EDUCAÇÃO



E.M. “Bairro Morro Grande” / E.M. “Benedito Domingues Vieira”  
Estrada Municipal Benedito Domingues Vieira, S/Nº - Ibiúna - SP  
Fone: (15) 3249-1634

**Atividades Impressas, Conforme Orientações Pedagógicas Nº 18 De 27/10/2021**  
**Da Secretaria Municipal De Educação.**

**Datas: 08, 09, 10, 11, 12, 16, 17, 18, 19, 22, 23, 24, 25, 26, 29 e 30/11**  
**Total = 16 Dias**



**\*ATIVIDADES PARA OS ALUNOS QUE NÃO FORAM AUTORIZADOS PELOS RESPONSÁVEIS A  
RETORNAREM PARA AS AULAS PRESENCIAIS.**

**E.M. “Bairro Morro Grande”**  
**Professora Patrícia**  
**2º Ano A – 4º Bimestre/2021**

**Nome:** \_\_\_\_\_

**Data Prevista Para Devolução Na Escola: 01/12/2021 (Quarta-feira)**

**ATENÇÃO!**

**PARA OS ALUNOS QUE OPTARAM EM CONTINUAR AS ATIVIDADES DE MANEIRA REMOTA É IMPORTANTE LEMBRAR:**

***\* PARA TIRAR DÚVIDAS OU FALAR COM A PROFESSORA SOBRE AS ATIVIDADES E/OU OUTROS ASSUNTOS POR WHATSAPP OU PRESENCIALMENTE, NOS SEGUINTE HORÁRIOS:***

**12h15 ATÉ 12h30**

**OU**

**17h00 ATÉ 17h15**

***\*AS ATIVIDADES DE CADERNO SÃO IMPORTANTÍSSIMAS E DEVEM SER REALIZADAS E APRESENTADAS À PROFESSORA POR FOTOS E NA DATA DE DEVOLUÇÃO DESTA.***

***\*CONTINUEM CUMPRINDO COM OS COMBINADOS, ACOMPANHANDO O GRUPO DE WHATSAPP, RETIRANDO E ENTREGANDO O MATERIAL (APOSTILA) NAS DATAS MARCADAS.***

***ESCREVA O NOME COMPLETO NA CAPA DA APOSTILA.***

***OBRIGADA!***

***PROF<sup>a</sup> PATRÍCIA***

**PINTE DE VERDE OS DIAS EM QUE TEREMOS ATIVIDADES NESSA APOSTILA (CONSULTE A CAPA!)**

**CALENDARIO**

**2021**



**NOVEMBRO**

DATAS COMEMORATIVAS DO MÊS

02 – FINADOS      15 PROCLAMAÇÃO DA REPÚBLICA  
20 – CONSCIÊNCIA NEGRA



DOM	SEG	TER	QUA	QUI	SEX	SAB
	1	2	3	4	5	6
7	8	9	10	11	12	13
14	15	16	17	18	19	20
21	22	23	24	25	26	27
28	29	30				

**AGORA RESPONDA: QUANTOS DIAS VOCÊ PINTOU DE VERDE?**

REGISTRE O NÚMERO \_\_\_\_\_

ESCREVA-O POR EXTENSO: \_\_\_\_\_

**ORIENTAÇÕES AOS RESPONSÁVEIS:**

**AJUDEM AS CRIANÇAS LENDO AS QUESTÕES ASSINALADAS PELOS MEGAFONES, MAS NÃO AJUDEM A MARCAR A RESPOSTA.**

**SIMULADOS DE AVALIAÇÕES EXTERNAS**



**QUESTÃO 1 - Marque o quadrinho das letras V, G, E.**

A)  **E A V**

B)  **V G E**

C)  **W J E**

D)  **I V S**



**QUESTÃO 2 - Marque o quadrinho que apresenta SOMENTE letras.**

A)



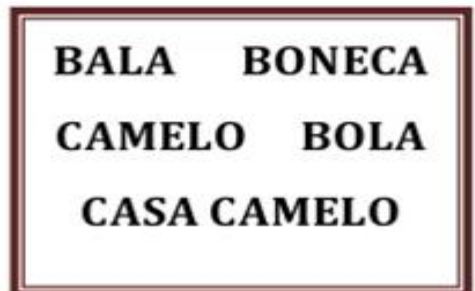
B)



C)



D)





**QUESTÃO 3-** Marque o quadrinho onde estão escritas as palavras abaixo.

CASA – CASTELO – CASACO

- A)  *Castelo* - **casinha** - **caminho**
- B)  casa – CASACO – Castelo
- C)  CASA – CAMA – CAMINHO
- D)  *caderno* - *cartilha* - *casaco*



**QUESTÃO 4 -** Escreva a frase destacada no espaço abaixo.

**A MENINA JOGA PETECA.**




**QUESTÃO 5** - Marque o quadrinho que apresenta o grupo de palavras com o mesmo número de sílabas.

- A)  **BONECA - SAPO - BOLA**
- B)  **CAMELO - PETECA - CANECA**
- C)  **PATA - PATO - SÁBADO**
- D)  **BELA - BANANA - MOLA**



**QUESTÃO 6** - Veja a figura abaixo: Qual é a sílaba (pedacinho) **mediana** do nome dessa figura?



- A)  **BA**
- B)  **CA**
- C)  **NA**
- D)  **DO**

ESCOLA: \_\_\_\_\_

ALUNO (A) \_\_\_\_\_

TURMA: \_\_\_\_\_ DATA: \_\_\_ / \_\_\_ / \_\_\_\_\_

**SIMULADINHO DE MATEMÁTICA**

**1-PINÓQUIO GANHOU DE SEU AMIGO GRILO, MAIS FIGURINHAS PARA A SUA COLEÇÃO. SE ELE GANHOU MAIS 6 FIGURINHAS, COM QUANTAS FIGURINHAS PINÓQUIO FICOU?**

- (A) 14
- (B) 15
- (C) 16



**2-OLHANDO O RÁDIO DO GEPETO, VEMOS A FORMA DE UM:**

- (A) TRIÂNGULO
- (B) CIRCULO
- (C) RETÂNGULO



**3-VEJA O PINÓQUIO E O GRILO FALANTE:**



**QUANTAS PIPAS FALTAM PARA PINÓQUIO FICAR COM A MESMA QUANTIDADE DE BOLAS QUE O GRILO TEM?**

- (A) 2
- (B) 3
- (C) 4

**4-QUANTOS QUADRADOS VEMOS NO DESENHO ABAIXO?**

- (A) 3
- (B) 4
- (C) 6



5-GEPETO FEZ 14 CAIXINHAS DE MADEIRA, SE 4 SE QUEBRARAM, QUANTAS RESTARAM?



- (A) 9
- (B) 10
- (C) 11

6-SE VOCÊ CIRCULAR GRUPOS DE 5, QUANTOS GRUPOS SE FORMARÃO?



- (A) 2 GRUPOS
- (B) 3 GRUPOS
- (C) 4 GRUPOS

7-COMPLETE A SEQUÊNCIA:

45	46				50	51
----	----	--	--	--	----	----

MARQUE A ALTERNATIVA QUE COMPLETA A SEQUÊNCIA:

- (A) 48-49-50
- (B) 37-38-39
- (C) 47-48-49

8-MARQUE A ESCRITA DO NÚMERO ABAIXO:

- (A) TRINTA E OITO
- (B) QUARENTA
- (C) TRINTA E NOVE

39

9-MARQUE O RESULTADO DA SUBTRAÇÃO

ABAIXO:

$10 - 8 = \underline{\quad}$

- (A) 1
- (B) 2
- (C) 3

10-VEJA A TABELA E RESPONDA:

CARRINHOS	16
PIÕES	15
BOLAS	14

QUAL É O BRINQUEDO QUE PINÓQUIO TEM EM MENOR QUANTIDADE?

- (A) CARRINHOS
- (B) PIÕES
- (C) BOLAS

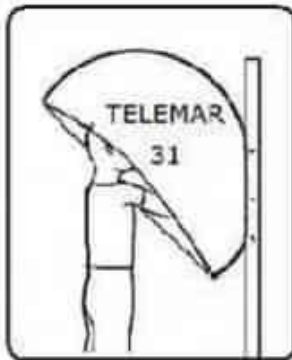


ESCOLA \_\_\_\_\_ DATA: \_\_\_\_ / \_\_\_\_ / \_\_\_\_  
PROF: \_\_\_\_\_ TURMA: \_\_\_\_\_  
NOME: \_\_\_\_\_

**SIMULADO PROVINHA BRASIL**

1-Escriva aqui o seu nome:

\_\_\_\_\_




GÁS



ALÔ

POSTO



MOTO



PADARIA



FARMÁCIA



2-Leia o texto:

**ATENÇÃO**  
HAVERÁ VACINA PARA CÃES E GATOS NA CRECHE D.RITA NO DIA 30/11/11.

3 - O assunto principal deste texto:

CONTAR UMA PIADA

FAZER UM CONVITE

ANUNCIAR UM FATO

FAZER RECEITA



4-MARQUE COM UM X A RESPOSTA CERTA:



- BOLA
- PETECA
- BONECA
- PIÃO

- FOCA
- TOCA
- BOCA
- BOTA



5-



- AVE
- ARMÁRIO
- ÁRVORE
- ARGOLA

6-

- CANECA
- BONECA
- PETECA
- PANELA



7-DITADO DE LETRAS:NTL

- P R S
- N T L
- V A C
- G U Q

8- Este desenho começa com a letra:

- C
- S
- P
- N



9- Marque o nome do desenho



- ESCADA
- ESTRELA
- ESPELHO
- ESCOVA

10-EU QUERO UM PRESENTE:

- 1
- 2
- 3
- 4

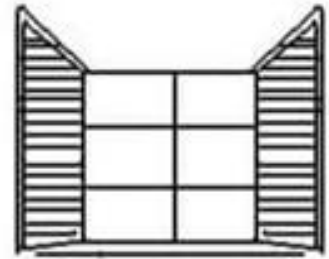


11- Marque onde tem só  
letras:

- R\$12,00
- FELIZ NATAL
- ANO DE 2008
- \*NOITE FELIZ\*

12- Número de sílabas:

- 1
- 2
- 3
- 4



13-



- BISCOITO
- BICICLETA
- BISNAGA
- BICA

14- Começa igual ao desenho:

- GALO
- VASO
- CASA
- PATO



15 Onde está a letra cursiva:

- PORTA - NATA
- prega maria*
- primo - nome
- PAPAI - NATAL

16- Ditado: paca

- PATA
- PACA
- PALA
- PAPA

17- Marque o cartão de natal:



18-

*Oi Lucas,*

*Convido você para passar a noite de natal na minha casa. Vamos fazer amigo oculto e uma gostosa ceia.*

*Tiago.*

- FAZER UMA PROPAGANDA.
- CONVIDAR PARA JOGAR BOLA.
- FAZER UM CONVITE DE NATAL.
- FAZER UMA RECEITA DE BOLO.

19- Doce de cajuzinho

- Amendoim
- Leite condensado
- Uma colher de toddy
- Uma colher de manteiga

- RECEITA
- CONVITE
- BILHETE
- CARTA



20- NOITE DE NATAL

NESTE DIA COMEMORAMOS O NASCIMENTO DO MENINO JESUS. É UM DIA DE MUITA ALEGRIA E PAZ.

- A MORTE DE JESUS.
- O NASCIMENTO DE JESUS
- PAPAÍ NOEL
- NOITE DE SÃO JOÃO

21- Ditado: (O pato é do papai)

\_\_\_\_\_

22-

PAPAI NOEL  
 EU GOSTARIA DE GANHAR UM PRESENTE NESTE  
 NATAL. MORO NO LAZARETO. TENHO 6 ANOS E  
 ESTUDO NA E.E.LUÍZA DE MARILLAC. VOU FICAR TE  
 ESPERANDO.  
 BEIJOS DE LUÍS

ESTE TEXTO É :

CONVITE

PROPAGANDA

CARTA

PIADA

23- ESCREVA O NOME DOS DESENHOS:








24- FORME UMA FRASE COM:




25- CONTE AS LETRAS DAS PALAVRAS E MARQUE UM X:

<div style="border: 1px solid black; border-radius: 10px; padding: 5px; display: inline-block;">NATAL</div>	<input type="checkbox"/> 2 <input type="checkbox"/> 3 <input type="checkbox"/> 4 <input type="checkbox"/> 5	<div style="border: 1px solid black; border-radius: 10px; padding: 5px; display: inline-block;">ÁRVORE</div>	<input type="checkbox"/> 3 <input type="checkbox"/> 6 <input type="checkbox"/> 8 <input type="checkbox"/> 4
<div style="border: 1px solid black; border-radius: 10px; padding: 5px; display: inline-block;">ESTRELA</div>	<input type="checkbox"/> 7 <input type="checkbox"/> 2 <input type="checkbox"/> 1 <input type="checkbox"/> 5	<div style="border: 1px solid black; border-radius: 10px; padding: 5px; display: inline-block;">LUA</div>	<input type="checkbox"/> 4 <input type="checkbox"/> 1 <input type="checkbox"/> 3 <input type="checkbox"/> 2

26- CONTE AS BOLAS DE CADA ÁRVORE E ESCREVA ABAIXO:



27 - NUMERE AS ESTRELAS:



28-  $\cancel{\text{O}} \cancel{\text{O}} \text{O} \text{O} = 4 - 2 = \underline{\quad}$

$\cancel{\text{O}} \text{O} \text{O} = 3 - 1 = \underline{\quad}$

$\cancel{\text{O}} \cancel{\text{O}} \text{O} \text{O} \text{O} = 5 - 2 = \underline{\quad}$

29 - RETIRE AS VOGAIS DAS PALAVRAS:

Á R V O R E :    NO I T E :

30 - DÊ O ANTECESSOR

3     5     2


1     7     4

E O SUCESSOR:

4     7     8

2     5     3

MARQUE COM UM X ONDE MOSTRA O NÚMERO DE CRIANÇAS QUE ESTÁ NA FILA:




3       7       6       4

VEJA OS BRINQUEDOS. MARQUE X NO BRINQUEDO QUE CUSTA CINCO REAIS:



VEJA O GRÁFICO. MARQUE X ONDE MOSTRA QUAL BRINQUEDO QUE FLADSON TEM MAIS:



- CARRINHOS
- JOGOS
- BOLAS

VITÓRIA TEM 8 FLORES PARA SEREM DIVIDIDOS EM DOIS VASOS IGUALMENTE.



FAÇA UM X NO QUADRADINHO QUE MOSTRA QUANTAS FLORES FICARÃO EM CADA VASO.

7       6       5       4

CLARICE TEM CINCO LÁPIS. ELA VAI DAR DOIS PARA A YASMIM. MARQUE X NO NÚMERO DE LÁPIS QUE CLARICE FICARÁ.




- 5
- 2
- 3
- 4

ESCOLA: \_\_\_\_\_  
TURMA: \_\_\_\_\_ PROFESSOR(A): \_\_\_\_\_  
EU SOU: \_\_\_\_\_



# PROBLEMINHA!

1- OBSERVE A IMAGEM DO QUADRO E RESPONDA COM ATENÇÃO:



QUANTAS NÚVENS?

QUANTOS CÍRCULOS?

QUANTAS CASAS?

QUANTOS QUADRADOS?

QUANTAS ÁRVORES?

QUANTOS TRIÂNGULOS?

QUANTOS CARROS?

QUANTAS FLORES?



REFERÊNCIAS:

<https://corujapedagogica.com/> (capa)

<https://br.pinterest.com/pin/754071531356727729/> [israelakotona.blogspot.com](http://israelakotona.blogspot.com) (Calendário)

<https://www.soescola.com/wp-content/uploads/2017/10/simulado-de-portugues-2-ano-1.jpg>

<http://2.bp.blogspot.com/-sp2BMVcclJc/VkKDOdXubdl/AAAAAAAAAb3E/krrlbQLcuiQ/s1600/>

<http://atividadesemacanosiniciais.blogspot.com/2014/02/simulado-2-ano.html>

<http://nelmundoca9.blogspot.com/2013/10/simulado-prova-brasil-matematica.html>

<https://4.bp.blogspot.com/Vcr5AGuZAgM/VfmqiqpE3ol/AAAAAAAAAb1U/OfUNPI0y8XE/s1600/>

PROBLEMINHA%2B2.png