



ESCOLA MUNICIPAL: “BAIRRO MORRO GRANDE”

APOSTILA DE ESTUDOS REMOTOS

Nº14

CONTEÚDOS DO 4º BIMESTRE

PERÍODO DE 8 DE NOVEMBRO A 30 DE NOVEMBRO

PROFESSORA: TATIANE DE MORAES

1º ANO B

Conforme Orientação Pedagógica de 18/10/2021 da Secretaria Municipal de Educação de Ibiúna.

NOME DO ALUNO(A): _____

ATIVIDADE 01 LÍNGUA PORTUGUESA

BETO, O BOM DE BOLA



PAULO, BETO E RENATO VÃO JOGAR BOLA.
BETO É O GOLEADOR DO TIME.
PAULO JOGA A BOLA PARA RENATO.
BETO PEDE A RENATO:
— AQUI, RENATO!
A BOLA CAI NO PÉ DE BETO.
BETO PÕE A BOLA NA REDE E FAZ UM BELO GOL.

Graça Boquet

1) QUEM VAI JOGAR BOLA?

2) DAS TRÊS CRIANÇAS, O GOLEADOR É:


PAULO. BETO. RENATO.

3) ONDE CAIU A BOLA QUE RENATO JOGOU?

NO PÉ DE PAULO. NO PÉ DE BETO.

ATIVIDADE 02 CIÊNCIAS

O CORPO HUMANO



BANCO DE PALAVRAS

BRAÇO	PERNA	COXA	OMBRO
JOELHO	MÃO	PÉ	CABEÇA

ATIVIDADE 03 MATEMÁTICA

MATEMÁTICA

RESOLVA AS ADIÇÕES ABAIXO:



$5+2=$



$7+1=$




$3+3=$



$1+4=$



$4+5=$



$8+2=$



$2+3=$



$1+6=$



$6+4=$



$9+1=$



$7+2=$



$2+6=$

ATIVIDADE 04 HISTÓRIA


DIA E NOITE

Regina C. Villaça Lima



QUANDO ACORDO BEM CEDINHO
VEJO QUE É UM LINDO DIA,
POIS O SOL ESTÁ A BRILHAR
TRAZENDO LUZ, CALOR E ALEGRIA.

CHEGANDO A NOITE DEVAGARINHO
VEJO NO CÉU A BRILHAR
A LUA E LINDAS ESTRELINHAS
ENFEITANDO ATÉ O DIA RAIAR!



ATIVIDADE 05 LÍNGUA PORTUGUESA

BETE DEU A BOLA PARA BENÍCIO.
 BENÍCIO COLOCOU A BOLA NA BACIA.
 BETE EXCLAMOU:
 _QUE ISSO BENÍCIO?
 BENÍCIO RESPONDEU:
 _ UAI, BOLA NA BACIA, VIRA BOLA MACIA!
 BENÍCIO TEM CADA UMA!



ISABEL CRISTINA S. SOARES


1 – PINTE OS ESPAÇOS ENTRE AS PALAVRAS DO TEXTO.

2 – BETE DEU A BENÍCIO:

- A BACIA
- A BANANA
- A BOLA



COMO É MINHA CASA?



MARQUE SIM OU NÃO NOS QUADRINHOS PARA RESPONDER











	SIM	NÃO
EU MORO EM APARTAMENTO	<input type="checkbox"/>	<input type="checkbox"/>
NA MINHA CASA TÊM VIZINHOS	<input type="checkbox"/>	<input type="checkbox"/>
A RUA DA MINHA CASA É CALÇADA	<input type="checkbox"/>	<input type="checkbox"/>
NA MINHA CASA TÊM TELEVISÃO	<input type="checkbox"/>	<input type="checkbox"/>
NA MINHA CASA TÊM QUINTAL OU JARDIM PARA BRINCAR	<input type="checkbox"/>	<input type="checkbox"/>
MEU AVÔ OU AVÓ MORA COMIGO	<input type="checkbox"/>	<input type="checkbox"/>
EU TENHO ANIMAIS DE ESTIMAÇÃO	<input type="checkbox"/>	<input type="checkbox"/>





ATIVIDADE 07 MATEMÁTICA





MATEMÁTICA

RESOLVA AS SUBTRAÇÕES ABAIXO:

 $7-1=$	 $5-2=$	 $4-3=$	 $9-6=$
--	---	---	---

 $8-4=$	 $7-1=$	 $2-1=$	 $6-2=$
--	---	---	---


 $9-8=$	 $3-3=$	 $5-4=$	 $8-7=$
---	--	--	--

 $5-1=$	 $4-2=$	 $6-5=$	 $2-2=$
--	---	---	---

Cores primárias



Cores secundárias



ATIVIDADE 09 LÍNGUA PORTUGUESA

2 – BENÍCIO COLOCOU A BOLA:

- NO BALDE
- NA BACIA
- NO BERÇO

3 – COMPLETE DE ACORDO COM O TEXTO.

- A) _____ NA _____, VIRA BOLA _____
- B) _____ DEU A BOLA PARA _____.

4 – ESCREVA OS NOMES DE ACORDO COM O TEXTO.









SITUAÇÃO PROBLEMA

MÔNICA LEU 5 GIBIS PELA MANHÃ E 7 GIBIS A TARDE. QUANTOS GIBIS ELA LEU NO TOTAL?



CEBOLINHA E MÔNICA ESTÃO BRINCANDO JUNTOS. ELE TROUXE 3 CARRINHOS E ELA 2 BONECAS. QUANTOS BRINQUEDOS ELES TEM JUNTOS?



MÔNICA FOTOGRAFOU 5 BORBOLETAS GRANDES E CHEGARAM MAIS 4 BORBOLETAS PEQUENAS. QUANTAS BORBOLETAS VOAM AO TODO?



MAGALI ADORA SORVETE. ELA PEDIU 3 BOLAS NO SABOR DE CHOCOLATE E 4 DE MORANGO. QUANTAS BOLAS DE SORVETE ELA CHUPOU ?



ATIVIDADE 11 MATEMÁTICA

MATEMÁTICA

RESOLVA AS ADIÇÕES ABAIXO:

Curso da Educação.com.br

$\begin{array}{r} 3 \\ +5 \\ \hline \end{array}$	$\begin{array}{r} 6 \\ +1 \\ \hline \end{array}$	$\begin{array}{r} 2 \\ +2 \\ \hline \end{array}$	$\begin{array}{r} 8 \\ +1 \\ \hline \end{array}$
$\begin{array}{r} 4 \\ +2 \\ \hline \end{array}$	$\begin{array}{r} 1 \\ +3 \\ \hline \end{array}$	$\begin{array}{r} 7 \\ +3 \\ \hline \end{array}$	$\begin{array}{r} 4 \\ +4 \\ \hline \end{array}$
$\begin{array}{r} 1 \\ +9 \\ \hline \end{array}$	$\begin{array}{r} 2 \\ +5 \\ \hline \end{array}$	$\begin{array}{r} 5 \\ +4 \\ \hline \end{array}$	

ATIVIDADE 12 HISTÓRIA

É DIA OU NOITE?

PINTE AS CENAS, RECORTE AS FIGURAS ABAIXO E COLE-AS NOS QUADROS DE ACORDO COM ATIVIDADES QUE FAZEMOS DURANTE O DIA E À NOITE.

--	--	--	--

ATIVIDADE 13 LÍNGUA PORTUGUESA


Pinte a rua mais parecida com a sua.

LÍNGUAGEM ORAL, LEITURA E ESCRITA

LEIA.

BICO DE PATO
PÉ DE COELHO
CAÍ DO CAVALO
E QUEBREI O JOELHO!



ISABEL CRISTINA S. SOARES



1) QUAIS OS ANIMAIS QUE APARECEM NO TEXTO?

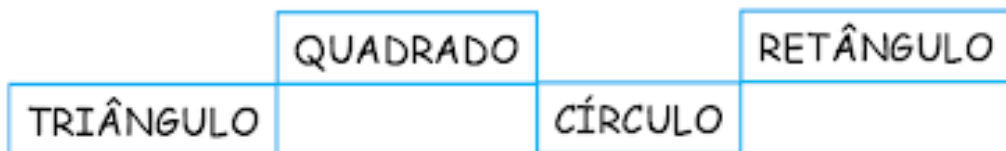
Two horizontal writing lines with a dashed midline and a pencil icon on the left.

A horizontal writing line with a dashed midline and a pencil icon on the left.




ATIVIDADE 15 MATEMÁTICA

1 - PINTE AS FORMAS GEOMÉTRICAS E LIGUE AOS NOMES CORRETOS USANDO CORES DIFERENTES.



2 - CIRCULE OS OBJETOS QUE TÊM FORMATO RETANGULAR.




3 - COMPLETE A SEQUÊNCIA.



VERMELHO, AZUL E AMARELO SÃO AS TRÊS CORES PRIMÁRIAS. E, SE A GENTE MISTURAR, TEM AS CORES SECUNDÁRIAS

NO ROXO, AZUL E VERMELHO. NO VERDE, AZUL E AMARELO. NO LARANJA, O VERMELHO E O AMARELO SEMPRE BELO.



ATIVIDADE 17 LÍNGUA PORTUGUESA

LIGUE AS FIGURAS AO NOME.



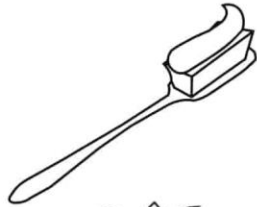
CAMA
CASA
CARRO



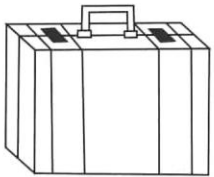
BATOM
BALA
BANCO




PALITO
PAPEL
PANELA



ESCOVA
ESCOLA
ESPIGA



MALA
MATO
MAPA




AMORA
ABACAXI
AMEIXA




CÉU
CANETA
CACHORRO



ÓCULOS
ORELHA
OVO



GELO
GULA
GALO



PEIXE
PIPA
PÃO

SISTEMA MONETÁRIO

1 - Ligue cada nota de dinheiro ao seu valor correspondente e escreva a quantidade por extenso como no modelo.



R\$ 5,00

Cinco reais

R\$ 10,00

R\$ 2,00

R\$ 20,00

R\$ 50,00

R\$ 100,00

ATIVIDADE 19 LÍNGUA PORTUGUESA

O GATINHO AZUL

O GATINHO VIU A LATA DE TINTA PERTO DA MESA.

DE REPENTE O RATINHO PASSOU LIGEIRO E SUBIU NA MESA.

O GATINHO FOI ATRÁS E DEU UM BOTE!


MAS... PLOFT!!!

O GATINHO CAIU DENTRO DA LATA DE TINTA AZUL.



ISABEL CRISTINA S. SOARES

1 - ESCREVA ABAIXO O TÍTULO DO TEXTO.



2 - OS PERSONAGENS DO TEXTO SÃO:

- () A LATA E O GATINHO
- () O GATINHO E O RATINHO
- () A LATA DE TINTA


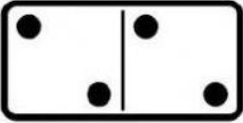


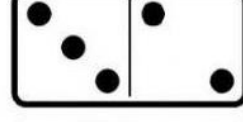

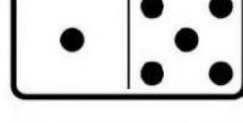

Pesquise no caça-palavras os nomes das partes do corpo abaixo.

PESCOÇO CABEÇA OMBRO
BRAÇO BARRIGA PERNA

C	A	F	A	Ç	A	Q	N	G	M
A	B	H	P	E	S	C	O	Ç	O
B	K	L	E	D	X	Ç	U	R	P
E	B	H	B	V	O	M	B	R	O
Ç	A	T	R	M	B	C	O	S	E
A	R	J	A	G	R	Ç	X	Z	A
G	R	H	Ç	H	N	R	R	S	C
S	I	I	O	A	M	P	P	E	G
R	G	K	U	P	E	R	N	A	Ç
S	A	T	O	R	N	B	C	E	P


ATIVIDADE 21 MATEMÁTICA

SOMANDO COM AS PEÇAS DO DOMINÓ

	$4 + 6 = 10$
	$\square + \square = \square$
	$\square + \square = \square$
	$\square + \square = \square$
	$\square + \square = \square$
	$\square + \square = \square$
	$\square + \square = \square$
	$\square + \square = \square$


66

- Ver as cenas abaixo e colorir nos círculos de amarelo o que fazemos de dia e de azul o que fazemos à noite.



- Completar a frase com a palavra **DIA** e colorir a cena certa.

Hoje o _____ está:



ATIVIDADE 23 LÍNGUA PORTUGUESA









COMPLETE OS QUADRADINHOS DE ACORDO COM OS SÍMBOLOS.



NÚMERO DE LETRAS DA PALAVRA




NÚMERO DE VEZES QUE VOCÊ ABRIU A BOCA PRA FALAR A PALAVRA.

ANIMAL	PALAVRA		
	GATO		
	SAPO		
	MACACO		
	JACARÉ		
	CAVALO		
	TUBARÃO		

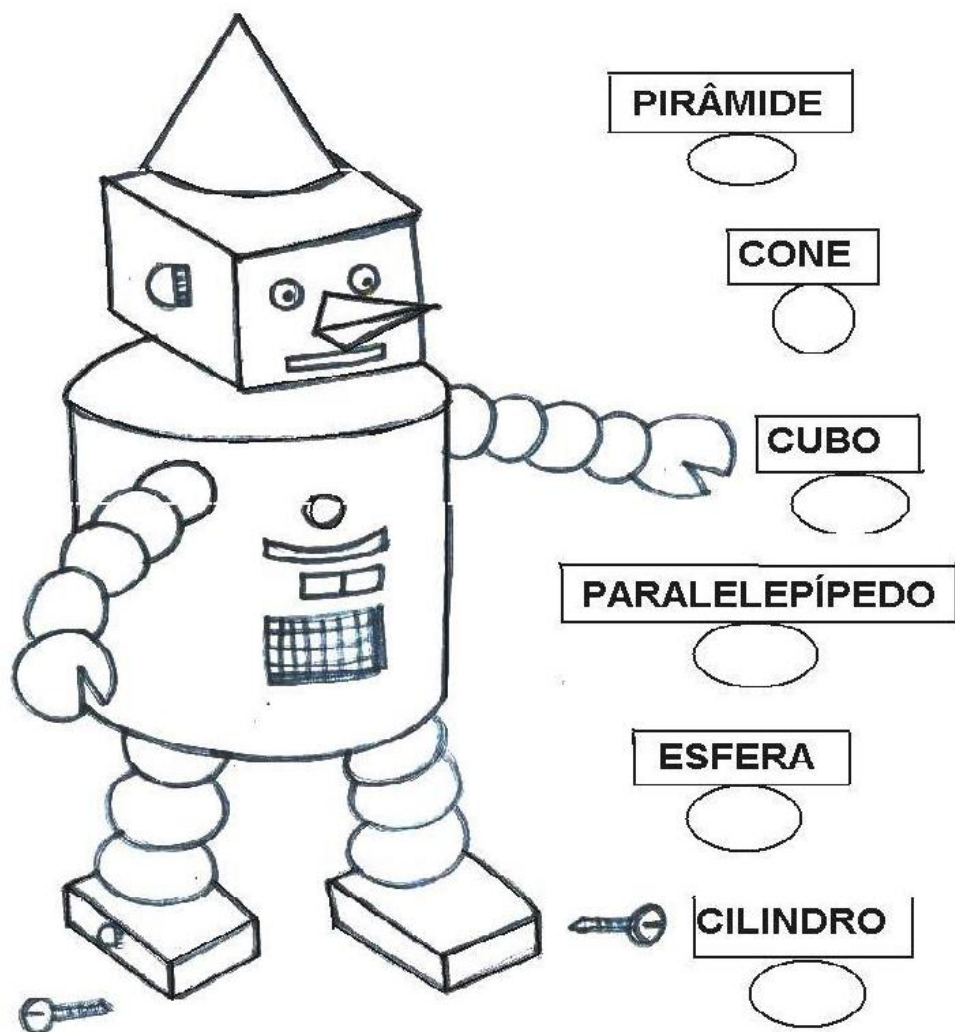
LAR DOCE LAR

PINTE A FIGURA QUE REPRESENTA A CONSTRUÇÃO MAIS PARECIDA COM O LOCAL ONDE VOCÊ MORA.



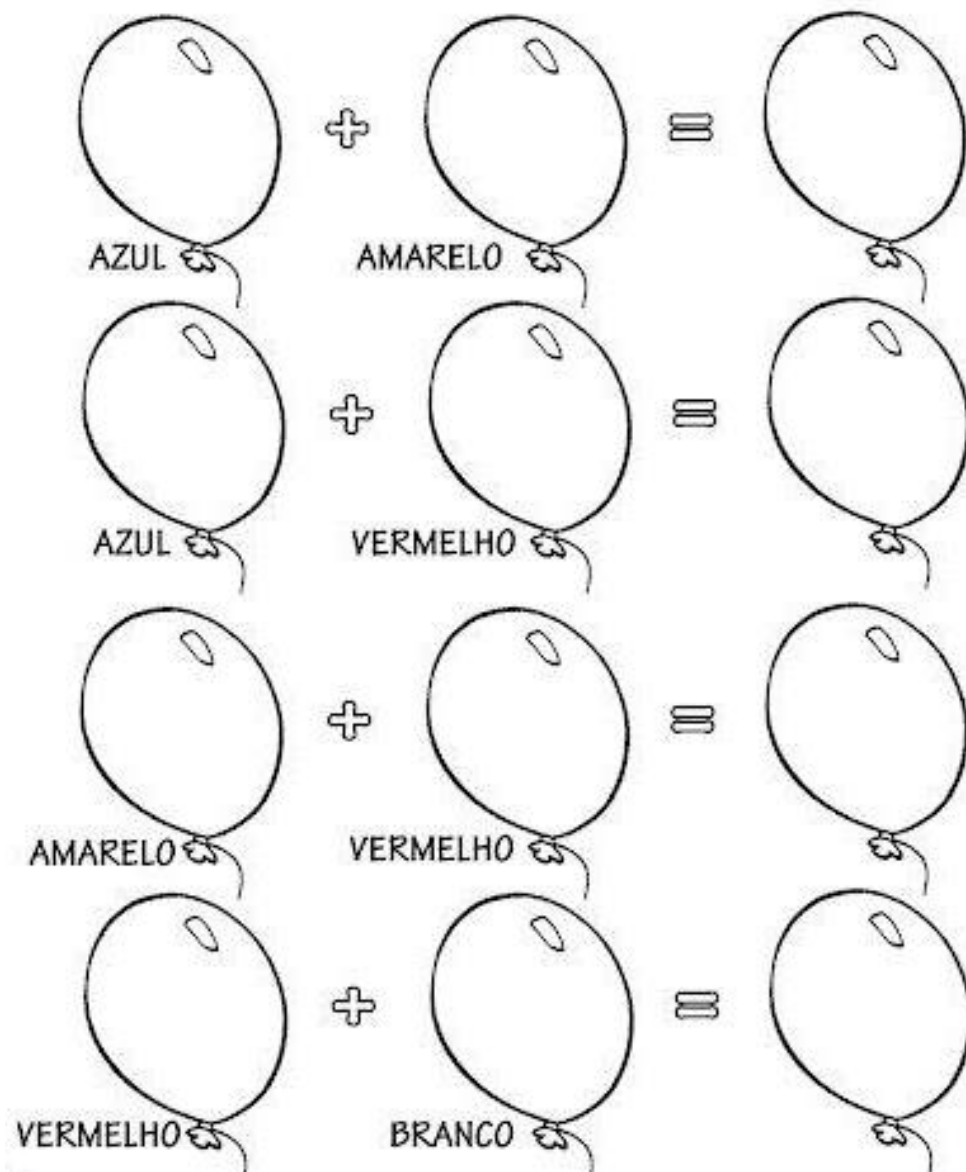
ATIVIDADE 25 MATEMÁTICA

12-OBSERVE ESTE DESENHO DO ROBÔ E
ESCREVA A QUANTIDADE DE FIGURAS PLANAS
PEDIDAS:



QUAL É A COR?


1- JUNTE AS CORES E DESCUBRA UMA NOVA COR:



ATIVIDADE 27 LÍNGUA PORTUGUESA

DEDE

Adiléa M. I. Generoso



ESTE É O DEDÉ.
DEDÉ É UM MENINO MUITO
LEVADO!
ELE FAZ UMA PIPA.

A PIPA É DE PAPEL COLORIDO.

DEDÉ VAI ATÉ O CAMPO EMPINAR A PIPA.

A PIPA SOBE BEM ALTO.

DE REPENTE, UM VENTO FORTE SOPRA E A

PIPA CAI EM UMA ÁRVORE.

DEDÉ PEGA UM GALHO E TIRA A PIPA.

ELE VOLTA PARA CASA MUITO FELIZ

★ LIGUE:

vinte e cinco centavos

um real

dez centavos

cinco centavos

cinquenta centavos



28 LÍNGUA PORTUGUESA

ENCONTRE E PINTE AS LETRAS DE SEU NOME NO FUNDO DO MAR.


A B C D E F

G H I J K L

M N O P Q

R S T U V

W X Y Z



29 MATEMÁTICA

A PARTIR DESSA ATIVIDADE VAMOS FALAR SOBRE OS CUIDADOS QUE DEVEMOS TER COM A NOSSA SAÚDE

Ninguém deve ter medo de ir ao dentista, pois ele trabalha pela saúde dos nossos dentes.

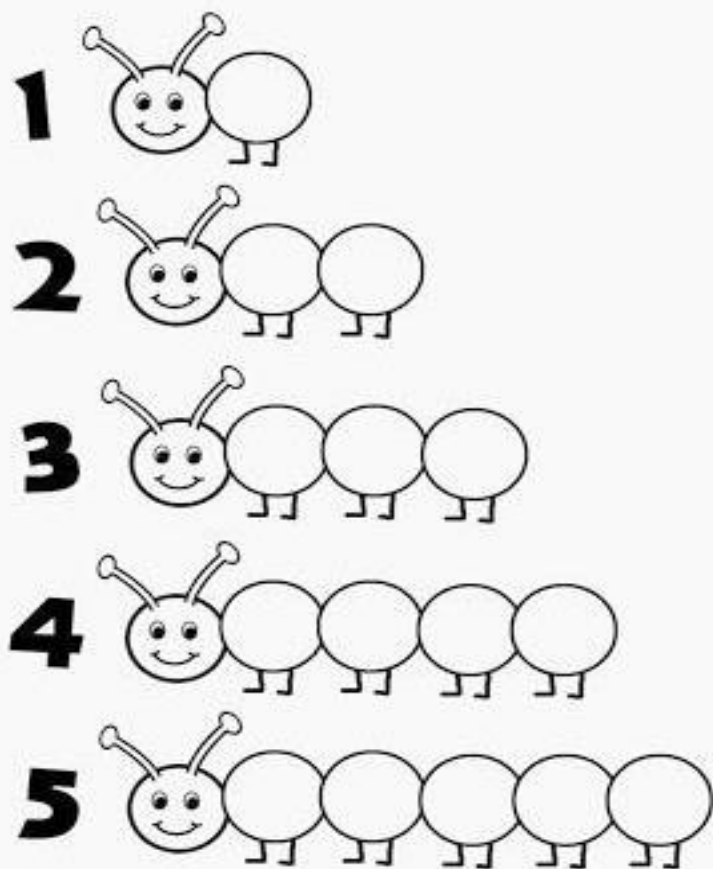


Marcelo vai ao dentista. Usando o giz de cera, ligue Marcelo à cadeira do dentista.



Vamos convidar um dentista para vir à nossa escola?

VAMOS CONTAR E COLORIR?



08. OBSERVE A PALAVRA:

MOÇA



LETRA INICIAL

LETRA FINAL

SÍLABA INICIAL

SÍLABA FINAL

09. OBSERVE A PALAVRA:

CORAÇÃO



LETRA INICIAL

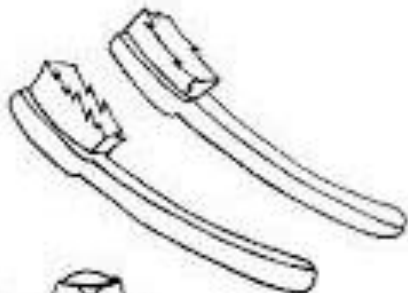
LETRA FINAL

SÍLABA INICIAL

SÍLABA FINAL

SÍLABA MEDIANA

Ligar a quantidade de figuras ao número correspondente.



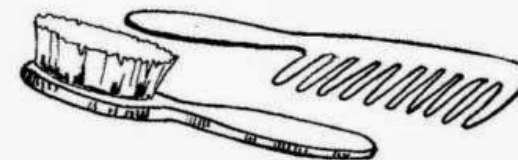
PIOLHOS

PARA EVITAR PIOLHOS, É PRECISO:



• LAVAR A CABEÇA.

• NÃO USAR PENTE OU ESCOVAS DE OUTRAS PESSOAS.



• OS MENINOS DEVEM USAR O CABELO BEM CURTINHO.

• AS MENINAS DEVEM USAR O CABELO PRESO.

• CORTAR AS UNHAS E MANTÊ-LAS SEMPRE LIMPINHAS, POIS ELAS SÃO UM TRANSPORTE PARA O PIOLHO.



Referencias

<https://br.pinterest.com/pin/829717931332873236/>

<https://ensinoja.com.br/pequenos-textos-para-alfabetizacao-1-ano/>

<https://amorensina.com.br/pequenos-textos-para-leitura/>

<https://www.mestredosaber.com.br/30-atividades-de-portugues-1-ano/>

<https://danieducar.com.br/matematica-1-ano-adicao/>

https://www.liveworksheets.com/worksheets/pt/Matem%C3%A1tica/Adi%C3%A7%C3%A3o/ADI%C3%87%C3%83O_kl1868190oe

<https://danieducar.com.br/atividades-matematica-subtracao-1-ano/>

<https://br.pinterest.com/pin/498281146272250099/>

<https://br.pinterest.com/pin/794744665464018730/>

<https://www.soescola.com/probleminhas-adicao-atividades-matematica28429-1>

<https://br.pinterest.com/pin/181973641177711230/>

<https://www.atividadesparaimprimir.com/2019/08/atividade-sobre-dinheiro.html?m=1>

<https://www.lipitipi.org/2014/08/atividades-educativas-ciencias-partes.html>

https://www.liveworksheets.com/worksheets/pt/Ci%C3%Aancias/Partes do corpo/Partes do corpo_yf1224018ke

<https://br.pinterest.com/pin/459367230715302760/>

<https://mungfali.com/page/B320426E554891BBB7BD35551DAA82A30D7B4A13/30-atividades-dia-e-noite-para-imprimir-online-cursos>

<https://escolaeducacao.com.br/atividades-de-geografia-educacao-infantil/atividades-de-geografia-1-ano-pinte-a-rua/>

<https://br.pinterest.com/pin/449656344037883391/>

<https://br.pinterest.com/pin/21814379436082996/>

<https://bau-de-atividades.com/atividades-sobre-cores-primarias-e-secundarias/>