

15ª APOSTILA ATIVIDADES REMOTAS

Período de: 16,17,18,19/11



Dia 19 de novembro

Dia da Bandeira



PROFESSORA: Camila

3º ano B

ROTEIRO DAS PÁGINAS DO LIVRO UTILIZADAS NESTA APOSTILA

LIVRO APRENDER SEMPRE

AULA 4 – OS MESES DO ANO E OS DIAS DA SEMANA O QUE VAMOS APRENDER?
NESTA AULA, VAMOS EXPLORAR INFORMAÇÕES PRESENTES EM UM CALENDÁRIO.
PÁGINAS 115 E 116.



BANDEIRA


NO DIA 19 DE NOVEMBRO, COMEMORAMOS O DIA DA BANDEIRA DO BRASIL.

A BANDEIRA É UM DOS SÍMBOLOS DA PÁTRIA.

SUAS CORES SÃO: VERDE, AMARELO, AZUL E BRANCO.

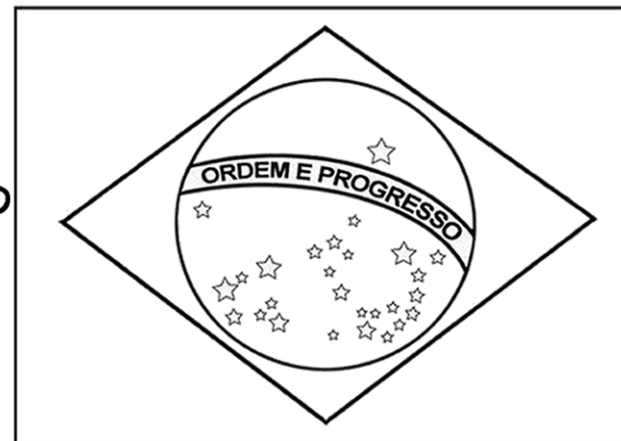
ALÉM DA BANDEIRA, TEMOS TAMBÉM OUTROS SÍMBOLOS: O SELO NACIONAL, O BRASÃO DAS ARMAS E O HINO NACIONAL.

DENTRO DO CÍRCULO DA BANDEIRA, ESTÁ ESCRITA A FRASE: "ORDEM E PROGRESSO".



Educação e Transformação

1- Pinte a bandeira do Brasil corretamente:



2-Escreva o significado que cada cor representa na bandeira:

a) Verde:

B) Amarelo:

c) Azul:

d) Branco:

3- Qual é o significado das estrelas ilustradas na bandeira do Brasil?


NOME: _____ DATA: _____

❖ Decomponha os numerais como no modelo:

189 → 100 + 80 + 9 → 1 centena - 8 dezenas e 9 unidades

154
 295
 177
 300
 270
 315
 190

❖ Represente os numerais no Q.P.



| | Centenas | Dezenas | Unidades |
|-----|----------|---------|----------|
| 260 | | | |
| 123 | | | |
| 189 | | | |
| 247 | | | |
| 384 | | | |
| 421 | | | |

❖ Componha os numerais como no modelo:

* 4 centenas + 5 dezenas + 3 unidades = 400 + 50 + 3 = 453

* 2 centenas + 9 dezenas + 9 unidades = _____

* 5 centenas + 8 dezenas + 4 unidades = _____

* 3 centenas + 3 dezenas + 1 unidade = _____

* 2 centenas + 7 dezenas + 7 unidades = _____

* 3 centenas + 2 dezenas + 5 unidades = _____

A CIGARRA E A FORMIGA

RUTH ROCHA

A CIGARRA PASSOU TODO O VERÃO CANTANDO, ENQUANTO A FORMIGA JUNTAVA SEUS GRÃOS.

QUANDO CHEGOU O INVERNO A CIGARRA VEIO À CASA DA FORMIGA PARA PEDIR QUE LHE DESSE O QUE COMER.

A FORMIGA ENTÃO PERGUNTOU A ELA:

— E O QUE É QUE VOCÊ FEZ DURANTE TODO O VERÃO?

— DURANTE O VERÃO EU CANTEI – DISSE A CIGARRA.

E A FORMIGA RESPONDEU:

— MUITO BEM, POIS AGORA DANÇE!



RESPONDA:

1) O QUE A FORMIGA FEZ NO VERÃO?

2) O QUE A CIGARRA FEZ NO VERÃO?

3) POR QUE A FORMIGA NÃO DEU COMIDA À CIGARRA?

4) O QUE VOCÊ ACHA QUE ACONTECEU À CIGARRA?

5) SE VOCÊ FOSSE A FORMIGA, VOCÊ DARIA COMIDA PARA A CIGARRA? POR QUÊ?

ENTENDENDO O TEXTO:

- ▼ A CIGARRA ERA UMA : MÉDICA CANTORA
- ▼ A CIGARRA TRABALHAVA TODOS OS DIAS: SIM NÃO

▼ A FORMIGA PASSOU O VERÃO CARREGANDO FOLHAS :
 SIM NÃO

▼ A CIGARRA TEVE ALIMENTO PARA PASSAR O INVERNO:
 SIM NÃO


▼ A FORMIGA AJUDOU A CIGARRA DANDO-LHE COMIDA:
 SIM NÃO

▼ ESSE TEXTO É POESIA PARLENDA FÁBULA

ESTRUTURA DO TEXTO

- 1) ENUMERE OS PARÁGRAFOS DO TEXTO
2) PINTO NO TEXTO DE AZUL A FALA DO NARRADOR, DE AMARELO A FALA DA FORMIGA E DE VERMELHO A FALA DA CIGARRA

CAÇA PALAVRAS
AR, ER, IR, OR, UR.



| | | | | | | | | | | | | |
|---|---|---|---|---|---|---|---|---|---|---|---|---|
| V | A | S | D | R | P | O | R | T | A | E | B | V |
| M | H | O | Á | R | T | O | R | Á | T | A | É | E |
| T | L | U | R | V | A | D | O | R | E | T | R | E |
| G | I | R | E | T | L | M | N | V | L | R | E | E |
| N | V | F | B | A | R | C | O | O | B | A | R | V |
| M | R | G | A | R | F | O | B | R | O | C | F | R |
| L | E | Á | R | U | R | S | O | E | R | R | D | O |
| U | R | S | O | R | T | E | R | G | O | R | S | U |
| U | O | P | O | R | C | O | J | F | B | P | O | R |
| I | S | L | U | N | I | C | Ó | R | N | I | O | R |

Nome: _____

3º Ano B

Ibiúna, _____ de _____ de 2021

AULA 4 – OS MESES DO ANO E OS DIAS DA SEMANA

O QUE VAMOS APRENDER?

NESTA AULA, VAMOS EXPLORAR INFORMAÇÕES PRESENTES EM UM CALENDÁRIO.

1. THIAGO ENCONTROU EM UMA CAIXA UM CALENDÁRIO DE 2021. ELE PROPÔS AS SEGUINTES ATIVIDADES PARA SEUS AMIGOS:

- A. VOCÊ SABE QUAIS SÃO OS DIAS DA SEMANA? COMPLETE:

D _____ S _____
 T _____ Q _____
 Q _____ S _____
 S _____

E OS NOMES DOS MESES DO ANO? VOCÊ SABE QUAIS SÃO? COMPLETE:

| | |
|---|---|
| J | J |
| F | A |
| M | S |
| A | O |
| M | N |
| J | D |

2. MATHEUS DISSE QUE NASCEU NO DIA 2 DE JULHO. THIAGO NASCEU NO DIA 29 DE JULHO. ROBERTA NASCEU NO DIA 11 DE NOVEMBRO E BRUNO NO DIA 19 DE NOVEMBRO.


- A. CIRCULE OS DIAS DOS ANIVERSÁRIOS DAS QUATRO CRIANÇAS NOS CALENDÁRIOS APRESENTADOS ABAIXO:

| JULHO 2021 | | | | | | |
|------------|----|----|----|----|----|----|
| D | S | T | Q | Q | S | S |
| | | | | 1 | 2 | 3 |
| 4 | 5 | 6 | 7 | 8 | 9 | 10 |
| 11 | 12 | 13 | 14 | 15 | 16 | 17 |
| 18 | 19 | 20 | 21 | 22 | 23 | 24 |
| 25 | 26 | 27 | 28 | 29 | 30 | 31 |

| NOVEMBRO 2021 | | | | | | |
|---------------|----|----|----|----|----|----|
| D | S | T | Q | Q | S | S |
| | 1 | 2 | 3 | 4 | 5 | 6 |
| 7 | 8 | 9 | 10 | 11 | 12 | 13 |
| 14 | 15 | 16 | 17 | 18 | 19 | 20 |
| 21 | 22 | 23 | 24 | 25 | 26 | 27 |
| 28 | 29 | 30 | | | | |

- B. ESCREVA A DATA DE SEU NASCIMENTO: _____

Tabuada de Multiplicação



- $8 \times 1 = 8$
- $8 \times 2 = 16$
- $8 \times 3 = 24$
- $8 \times 4 = 32$
- $8 \times 5 = 40$
- $8 \times 6 = 48$
- $8 \times 7 = 56$
- $8 \times 8 = 64$
- $8 \times 9 = 72$
- $8 \times 10 = 80$

TABUADA DO 8



PINTE APENAS OS RESULTADOS DA TABUADA DO 8



Reescrita

Fábula

A Cigarra e a Formiga



Handwriting practice lines consisting of two sets of vertical lines, each set containing 10 lines.

REFERÊNCIAS

<https://i.pinimg.com/736x/54/1e/13/541e134591b049f1a7a680d732a400e.jpg>

<https://www.significados.com.br/foto/bandeira-do-brasil.png>

<https://3.bp.blogspot.com/->

[zU2cARqyNJY/W_LkB5Ashkl/AAAAAAAAakuQ/jD5bNpA7I0ge9Vkp8QroTKHh5huCT-ldwCLcBGAs/s1600/bandeira.fw.png](https://3.bp.blogspot.com/-zU2cARqyNJY/W_LkB5Ashkl/AAAAAAAAakuQ/jD5bNpA7I0ge9Vkp8QroTKHh5huCT-ldwCLcBGAs/s1600/bandeira.fw.png)

<https://1.bp.blogspot.com/->

[UODBQqNg0vg/XdEyY2VZC_/AAAAAAAAACWg8/zGJYOi_SljkiOHLOilVH5n3wZ3_ZAFTDgCLcBGAsYHQ/s1600/PicsArt_11-17-09.34.27.jpg](https://1.bp.blogspot.com/-UODBQqNg0vg/XdEyY2VZC_/AAAAAAAAACWg8/zGJYOi_SljkiOHLOilVH5n3wZ3_ZAFTDgCLcBGAsYHQ/s1600/PicsArt_11-17-09.34.27.jpg)

<https://atividadespedagogicasuzano.com.br/wp-content/uploads/2017/09/TABUADADO6E8-page-002-3-724x1024.jpg>

<https://escolaeducacao.com.br/wp-content/uploads/2019/10/tabuada-de-multiplicacao-para-imprimir-8.jpg>

<https://i.pinimg.com/736x/7e/4e/14/7e4e1463d862f212e7a6d07d46010846.jpg>

https://files.liveworksheets.com/def_files/2020/9/27/927191311648144/927191311648144001.jpg