

Escola: E.M. "Moysés José Godinho"

Nome:

Professor(a): Angela

Ano: 3º ano A

# APOSTILA NÚMERO: 15

DATA DA RETIRADA: 22 DE NOVEMBRO

DATA DA DEVOLUÇÃO: 13 DE DEZEMBRO



## Roteiro de Atividades da Apostila Nº 15 – 3º Ano A – Prof. Angela

22/11 segunda-feira	Interpretação de Texto, Furacão de Palavras(Classificação das Sílabas, Ordem Alfabética e Separe as Sílabas).
23/11 terça-feira	Afazeres da Fazenda (Situações Problemas: Adição e Subtração) , Olho de Espantalho (Ortografia Ch, Lh e Nh).
24/11 quarta-feira	Olho de Espantalho (Ortografia Ch, Lh e Nh), Homem de lata (Sequência Numérica).
25/11 quinta-feira	H de homem (Ortografia H inicial e frases), O Leão e o Tempo (Medidas de Tempo).
26/11 sexta-feira	Leão e o Tempo (Medidas de Tempo, pontuação e diálogos).
29/11 segunda-feira	Texto: Carta de Natal (Interpretação e Produção de Texto) e Adição.
30/11 terça-feira	Texto: Bolinho de Chocolate, Interpretando a receita e Subtração.
01/12 quarta-feira	Acróstico: Natal, Escrita de nomes de objetos de natal e Divisão.
02/12 quinta-feira	Lista de presentes, Caça-palavras e Adição.
03/12 sexta-feira	Texto: O natal da floresta, Interpretação e Singular e Plural.
06/12 segunda-feira	Adjetivos do Papai Noel, Frases , Multiplicação e Subtração.
07/2 terça-feira	Lista de Noel (Ordem alfabética), Frases Natalinas (Afirmativa, Exclamativa e Interrogativa) e Doce Tabuada.
08/12 quarta-feira	Os presentes (Classificação das Sílabas), Fornadas Natalinas (Multiplicação).
09/12 quinta-feira	Cena Natalina (Leitura, Ilustração), Substantivos de Natal(Próprio e Comum), Música Secreta (Multiplicação, Estrofes de Música).
10/12 sexta-feira	O caminho do ratinho, O bolinho perdido , Passatempo Multiplicativo (Multiplicação).

Feliz Natal!!!



NOME: \_\_\_\_\_

DATA: 22/11/2021



# O MÁGICO DE OZ

a) Dorothy Gale vivia em um:

Castelo

Fazenda

Cidade

b) A casa de Dorothy foi levada por um:

Ciclone

Raio

Tempestade

c) Dorothy tinha um animal, ele era:

Peixe

Gato

Cachorro

d) A casa de Dorothy caiu e matou:

Bruxa boa do norte

Bruxa malvada do leste

O leão


e) O que Dorothy recebe?

Sapatinhos

Vestido

Brinco

Observe as imagens e numere de acordo com os acontecimentos:



NOME: \_\_\_\_\_

DATA: 22/11/2021 PROFESSOR: \_\_\_\_\_



# Furacão de Palavras

O furacão de Dorothy também passou por aqui! Ele bagunçou as palavras, que estavam organizadas por classificação de quantidade de sílabas!

- 1 Forme uma legenda de cores para as classificações de quantidades de sílabas.



monossílaba



dissílaba



trissílaba



polissílaba

- 2 Classifique as palavras de acordo com o número de sílabas, pintando a borda da cor correspondente da legenda atividade 1.

furacão

Sol

leão

bruxa

só


Dorothy

estrada

espantalho

fé

esmeralda



- 3 Anote as palavras da atividade 2 na coluna correta, registrando-as em ordem alfabética, em cada coluna.

monossílabo	dissílaba	trissílaba	polissílaba

- 4 Separe as sílabas das palavras a seguir. Pinte os quadrinhos da cor referente à legenda que você fez na atividade 1, classificando as palavras de acordo com a quantidade de sílabas.

- A cidade: \_\_\_\_\_
- B tijolos: \_\_\_\_\_
- C sapatos: \_\_\_\_\_
- D rubi: \_\_\_\_\_
- E voadores: \_\_\_\_\_
- F má: \_\_\_\_\_
- G lata: \_\_\_\_\_
- H milho: \_\_\_\_\_
- I fazenda: \_\_\_\_\_
- J Totó: \_\_\_\_\_
- K Glinda: \_\_\_\_\_
- L esconderijo: \_\_\_\_\_
- M coragem: \_\_\_\_\_



NOME: \_\_\_\_\_

DATA: 23/11/2021 PROFESSOR: \_\_\_\_\_



# Afazeres da Fazenda

Antes de ir parar em Oz, Dorothy morava em uma fazenda e tinha vários afazeres diários. Logo antes do furacão passar pelo Kansas, Dorothy teve algumas tarefas para fazer.

- 1 Em uma pilha havia 458 tocos de madeira para lenha já cortados. Dorothy conseguiu cortar mais 133 tocos. Quantos tocos de madeira para lenha ficaram cortados, no total?

Calcule aqui

Resposta:

- 2 O tio de Dorothy comprou um pacote gigante com 50 biscoitos caninos. Até o dia do furacão, Totó já tinha devorado 32 desses biscoitos. Quantos sobraram no pacote?

Calcule aqui

Resposta:



DATA: 23/11/2021

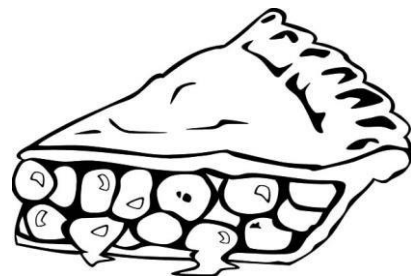
- 3 O tio de Dorothy pediu que ela verificasse a cerca da fazenda. Ela notou que 627 das 659 estacas da cerca estavam em ordem. Quantas estacas precisavam de reparos?

Calcule aqui

Resposta:

- 4 A tia de Dorothy tinha decidido fazer algumas tortas. Dorothy pegou, no estoque com 120 ovos que tinham, 100 ovos para sua tia. Quantos ovos sobraram no estoque?

Calcule aqui



Resposta:

- 5 Dorothy coleciona pedrinhas. Ela tinha uma coleção com 82 pedrinhas e naquele dia ela encontrou mais 19. Com quantas pedrinhas ela ficou na coleção?

Calcule aqui

Resposta:



NOME: \_\_\_\_\_

DATA: 23/11/2021 PROFESSOR: \_\_\_\_\_



# Olho de Espantalho

O desejo do espantalho de Oz é ter um cérebro! Quando tiver, ele não terá tanta dificuldade em ler e poderá aprender com maior facilidade.

1 O espantalho tem grande dificuldade para ler dígrafos! Ajude-o. Leia corretamente as palavras a seguir.

ninho

olho

machado

espantalho

minhoca

chocolate



inhome

ferrolho

caolho

canhão

tocha

charuto

2 Agora, escreva as palavras da atividade anterior na coluna correta.

CH

\_\_\_\_\_  
\_\_\_\_\_  
\_\_\_\_\_  
\_\_\_\_\_

LH

\_\_\_\_\_  
\_\_\_\_\_  
\_\_\_\_\_  
\_\_\_\_\_

NH

\_\_\_\_\_  
\_\_\_\_\_  
\_\_\_\_\_  
\_\_\_\_\_



3 O espantalho se empolgou com o LH de seu nome. Ele descobriu que é possível formar novas palavras usando H depois do L. Acrescente o H nas palavras e forme novas palavras.

Vela: \_\_\_\_\_

Mola: \_\_\_\_\_

Cala: \_\_\_\_\_

Fala: \_\_\_\_\_

Fila: \_\_\_\_\_

Galo: \_\_\_\_\_

4 Encontre no caça-palavras as palavras formados no exercício 3 e pinte cada um de cor diferente.

K	J	L	O	I	K	Y	T	R	F	R	E	F
D	E	R	V	G	T	M	O	L	H	A	S	A
L	S	O	L	J	I	K	M	P	Ç	A	S	V
F	S	T	R	A	W	B	O	M	P	P	S	A
I	C	A	L	H	A	F	G	I	E	V	F	L
L	D	S	F	O	R	E	A	V	E	E	A	R
H	Q	U	N	J	L	P	L	L	H	L	L	D
A	G	A	L	I	N	V	H	N	F	H	H	S
C	A	N	H	P	K	L	O	L	V	A	A	P

5 Preencha o poema a seguir com as palavras do quadro, deixando o texto coerente.

O

\_\_\_\_\_

Está de \_\_\_\_\_

No \_\_\_\_\_

Faz \_\_\_\_\_

De \_\_\_\_\_

Faz \_\_\_\_\_

Por mero \_\_\_\_\_

olho  
 espantalho  
 beicinho  
 cochicho  
 mansinho  
 chocalho  
 capricho

NOME: \_\_\_\_\_


DATA: 24/11/2021 PROFESSOR: \_\_\_\_\_



# Homem de Lata

Antes de sair em sua jornada, por um coração, com Dorothy e o espantalho, o homem de lata deve resolver algumas coisinhas na oficina onde vive.

- 1 O homem de lata deve guardar os parafusos e anotar quantos há. Para isso, ele irá contar de 2 em 2, para ir mais rápido. Ajude-os, anotando a sequência numérica de 2 em 2 nos parafusos.



2 Para guardar os parafusos em segurança, pois são muito valiosos em Oz, o homem de lata deve identificar as regularidades nas sequências a seguir e continuá-las com mais 2 números.

3 - 6 - 9 - 12 - 15 - \_\_\_\_\_ - \_\_\_\_\_

5 - 10 - 15 - 20 - 25 - \_\_\_\_\_ - \_\_\_\_\_

0 - 4 - 8 - 12 - 16 - \_\_\_\_\_ - \_\_\_\_\_

1 - 3 - 4 - 6 - 7 - 9 - \_\_\_\_\_ - \_\_\_\_\_

49 - 42 - 35 - 28 - \_\_\_\_\_ - \_\_\_\_\_

10 - 20 - 30 - 40 - \_\_\_\_\_ - \_\_\_\_\_

11 - 22 - 33 - 44 - \_\_\_\_\_ - \_\_\_\_\_

5 - 10 - 15 - 45 - \_\_\_\_\_ - \_\_\_\_\_



3 Crie outros 4 desafios de sequência numérica saltada e peça para um colega resolver. Anote 4 números. Ele deverá anotar os outros 4

\_\_\_\_\_ - \_\_\_\_\_ - \_\_\_\_\_ - \_\_\_\_\_ - \_\_\_\_\_ - \_\_\_\_\_ - \_\_\_\_\_ - \_\_\_\_\_

\_\_\_\_\_ - \_\_\_\_\_ - \_\_\_\_\_ - \_\_\_\_\_ - \_\_\_\_\_ - \_\_\_\_\_ - \_\_\_\_\_ - \_\_\_\_\_

\_\_\_\_\_ - \_\_\_\_\_ - \_\_\_\_\_ - \_\_\_\_\_ - \_\_\_\_\_ - \_\_\_\_\_ - \_\_\_\_\_ - \_\_\_\_\_

\_\_\_\_\_ - \_\_\_\_\_ - \_\_\_\_\_ - \_\_\_\_\_ - \_\_\_\_\_ - \_\_\_\_\_ - \_\_\_\_\_ - \_\_\_\_\_

NOME: \_\_\_\_\_

DATA: 25/11/2021 PROFESSOR: \_\_\_\_\_



# H de Homem

O H recebe som, dependendo de qual letra o acompanha. Quando, contudo, está no início das palavras, costuma ficar sem som. O som atribuído é o da vogal que o acompanha, com em **H** de **homem**.

- 1 O homem de lata ficou curioso em saber mais palavras começadas com o H, que alguns chamam de H mudo, por não ter som. Leia o nome das palavras e faça uma ilustração para cada uma delas.

helicóptero


hortelã

hipopótamo

hiena

hambúguer

horta



2 Invente a seguir frases com as palavras da atividade 1.

A

B

C

D

E

F

3 Agora, invente e escreva um parágrafo que contenha pelo menos 4 das palavras com H inicial da atividade 1.

\_\_\_\_\_

\_\_\_\_\_

\_\_\_\_\_

\_\_\_\_\_

\_\_\_\_\_

NOME: \_\_\_\_\_

DATA: 25/11/2021 PROFESSOR: \_\_\_\_\_



# O leão e o tempo

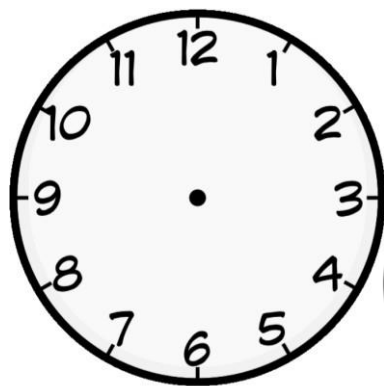
Antes de seguir Dorothy, o espantalho e o homem de lata em sua jornada pela coragem, o leão tinha uma rotina bem definida. Leia a seguir as situações e resolva o que se pede.

- 1 O leão dormia pontualmente às 22h30 e acordava às 7h30. Quantas horas o leão dormia, por noite?

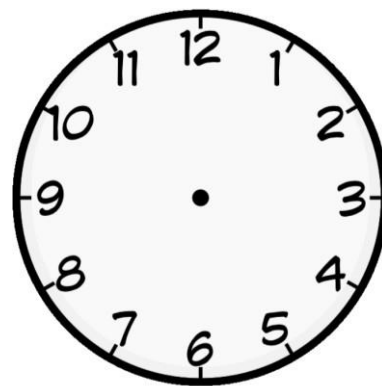

Calcule aqui

Resposta:

- 2 Pela manhã, o leão começava seus exercícios matinais às 9 horas. Ele fazia uma hora de exercícios. Coloque nos relógios os ponteiros do horário de início e término dos exercícios do leão.



**início**




**término**

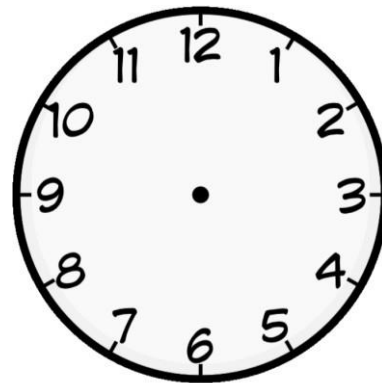
- 3 Para evitar indigestão, o leão costumava mastigar durante 20 segundos cada pedaço de carne que comia. Quanto tempo ele levava, nesse ritmo, para mastigar 3 pedaços de carne?

Calcule aqui

- 4 O banho do leão sempre foi caprichado. Ele entrava no lago às 15h00 e saía uma hora e meia depois. Anote nos relógios os ponteiros que indicam os horários de início e término do banho do leão.



**início**



**término**

- 5 O leão sempre fazia um passeio que terminava às 11h00. Ele começava o passeio uma hora antes. A que horas ele começava seu passeio?

Calcule aqui



NOME: \_\_\_\_\_

DATA: 26/11/2021 PROFESSOR: \_\_\_\_\_



# O leão e o tempo


Antes de seguir Dorothy, o espantalho e o homem de lata em sua jornada pela coragem, o leão tinha uma rotina bem definida. Leia a seguir as situações e resolva o que se pede.

1 Leia as frases a seguir, referentes á história do Mágico de Oz, e pontue-as conforme necessário.

A "Que lugar mais lindo e colorido  - disse Dorothy

B A casa tinha caído em um reino diferente  Aquele não era, definitivamente, o Kansas


C A Bruxa Boa, chamada Glinda, tocou nos sapatos e imediatamente eles passaram para os pés de Dorothy  Glinda olhou para ela e disse   
 Agora os sapatos mágicos de rubi estão à salvo  Não é possível mais tirá-los de seus pés



2 Observe os personagens de cada quadro e escreva diálogos entre eles. Preste atenção para utilizar a pontuação corretamente.


A

Handwriting practice lines for section A, consisting of five horizontal lines within a rectangular frame.





B

Handwriting practice lines for section B, consisting of five horizontal lines within a rectangular frame.



C

Handwriting practice lines for section C, consisting of five horizontal lines within a rectangular frame.



NOME: \_\_\_\_\_

PROFESSOR (A): \_\_\_\_\_

TURMA: \_\_\_\_\_

**APOSTILA NÚMERO: 15**

**DATA DA RETIRADA: 22 DE NOVEMBRO**

**DATA DA DEVOLUÇÃO: 13 DE DEZEMBRO**




ESTUDANTE: \_\_\_\_\_ TURMA: \_\_\_\_\_

PROFESSOR(A): \_\_\_\_\_ DATA: 29/11/2021



# NATAL

## CARTA DE NATAL



QUERIDO PAPAI NOEL,

ESSE ANO FOI UM ANO DIFÍCIL, MAS TENTEI SER UM BOM ALUNO E RESPEITEI TODAS AS REGRAS, SEMPRE OBEDECENDO MEUS PAIS E AS PESSOAS QUE CUIDAM DE MIM. NESSE NATAL EU GOSTARIA DE GANHAR UM PRESENTE MUITO ESPECIAL. EU QUERIA QUE O SENHOR APENAS ENTREGASSE EM TODAS AS CASAS QUE VOCÊ PASSAR UM PACOTE DE SORRISOS. SIM, PAPAI NOEL, ESSE ANO EU NÃO VOU PEDIR NADA ALÉM DE ALEGRIA EM CADA LAR.

EU ESPERO QUE AO ABRIREM ESSE PACOTE DE PRESENTE AS PESSOAS SE DEEM CONTA DE QUE A VERDADEIRA FELICIDADE ESTÁ NA SIMPLICIDADE, NO AMOR PELAS PESSOAS, NA SAÚDE DA FAMÍLIA, NO AJUDAR AO OUTRO.

ESTAREI TE ESPERANDO POR AQUI ÀS 0h DO DIA 25 DE DEZEMBRO. SUA PRESENÇA SERÁ MUITO ESPECIAL PARA RENOVAR O ESTOQUE DE ALEGRIA AQUI DE CASA. AH! NÃO SE ESQUEÇA DE TIRAR UM LINDO SORRISO PARA O SENHOR! DÊ UM BEIJO NA MAMÃE NOEL.


QUE VOCÊ TENHA UMA ENTREGA CHEIA DE FELICIDADES.

COM AMOR,

JOÃO PAULO

BRASÍLIA, 09 DE NOVEMBRO DE 2021

AUTORA KELLY REGINA



### INTERPRETANDO O TEXTO

1. QUAL O GÊNERO LITERÁRIO DO TEXTO ACIMA?

( ) RECEITA ( ) CARTA ( ) ENTREVISTA

2. QUEM ESCREVEU ESSA MENSAGEM? \_\_\_\_\_

3. O QUE O MENINO PEDIU PARA O PAPAI NOEL? \_\_\_\_\_


4. DE QUE LUGAR DO BRASIL O MENINO ESCREVEU O SEU PEDIDO? \_\_\_\_\_

5. EM QUE DATA FOI ESCRITA? \_\_\_\_\_



@PROFESSORADOBIA

ESCREVA UMA PEQUENA CARTA COM SEU PEDIDO DE NATAL.



Nome: \_\_\_\_\_

DATA: 29/11/2021

# CALCULANDO

@Atividades Suzano de Adriana Silva

@Atividades Suzano de Adriana Silva

21

+ 19

114

+ 103

116

+ 214

14

+ 79

110

+ 112

116

+ 114

15

+ 15



ESTUDANTE: \_\_\_\_\_ TURMA: \_\_\_\_\_

PROFESSOR(A): \_\_\_\_\_ DATA: 30/11/2021

# NATAL

## RECEITA



A RATINHA LÁLÁ RESOLVEU RECEBER EM SUA CASA NA NOITE DE NATAL SEUS AMIGOS DA FLORESTA. NA LISTA DE CONVIDADOS TEM O LEÃO, A GIRAFA, O HIPOPÓTAMO, A RÃ, O CROCODILO, O ELEFANTE, E A SENHORA MACACA. PARA A SOBREMESA A RATINHA LALÁ ESCOLHEU SERVIR MINI BOLINHOS QUE FORAM FEITOS COM MUITO AMOR. VEJA ABAIXO A RECEITA QUE LALÁ USOU.

## BOLINHOS DE CHOCOLATE

### INGREDIENTES

- 1/3 (XÍCARA) AÇÚCAR
- 1/3 XÍCARA DE FARINHA DE TRIGO
- 1 OVO
- 1/4 XÍCARA DE MANTEIGA
- 1 COLHER (CHÁ) FERMENTO
- 1 COLHER (SOPA) CHOCOLATE EM PÓ

### MODO DE PREPARO

1. COLOQUE TODOS OS INGREDIENTES DO BOLO EM UMA TIGELA PEQUENA E BATA COM UMA COLHER DE PAU OU NA BATEDEIRA.
2. UNTE UMA FORMINHA DE 14 CM DE DIÂMETRO COM BURACO NO MEIO E DERRAME A MASSA.
3. ASSE NO FORNO MÉDIO (180°), PRÉ-AQUECIDO, POR 30 MINUTOS, OU ATÉ QUE ENFIANDO UM PALITO ELE SAIA LIMPO. DEIXE ESFRIAR E DESENFORME.

### RENDIMENTO

2 PORÇÕES



AUTORA KELLY REGINA

APÓS O JANTAR NA CASA DA RATINHA LÁLÁ, TODOS ELOGIARAM A COMIDA E A SOBREMESA MARAVILHOSA QUE ELA PREPAROU. A NOITE DE NATAL NA FLORESTA FOI ÓTIMA. ELA ENTREGOU PARA CADA UM A SUA RECEITA DO BOLINHO DE CHOCOLATE. TODOS AMARAM!



@PROFESSORADOBIA





# NATAL

DATA: 30/11/2021

## RECEITA

### INTERPRETANDO A RECEITA

1. QUAIS INGREDIENTES FORAM UTILIZADOS NESTA RECEITA DO BOLINHO DE CHOCOLATE? \_\_\_\_\_

2. QUAL O RENDIMENTO DESSA RECEITA? \_\_\_\_\_

3. O QUE SIGNIFICA MODO DE PREPARO E PARA QUÊ ELE É IMPORTANTE? \_\_\_\_\_

4. QUANTO TEMPO ESSA RECEITA DEVE FICAR NO FORNO? \_\_\_\_\_

5. QUAL TEMPERATURA FOI INDICADA PARA ASSAR O BOLINHO? \_\_\_\_\_

### VOCÊ SABIA?

PARA REALIZAR ESSA RECEITA FOI NECESSÁRIO USAR O FORNO À GÁS PARA ASSÁ-LA. NEM SEMPRE ESSES FORNOS EXISTIRAM NA NOSSA HUMANIDADE.

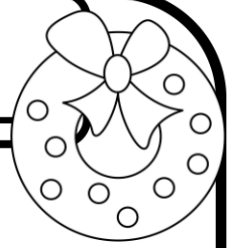
ANTIGAMENTE, AS PESSOAS COZINHAVAM OU ASSAVAM ESSE TIPO DE COMIDA EM FOGÕES A LENHA. VOCÊ JÁ VIU UM FOGÃO A LENHA? PARA QUE ELE FUNCIONE É NECESSÁRIO USAR MADEIRAS PARA ACENDER O FOGO OU CARVÃO.

COM O PASSAR DO TEMPO O HOMEM FOI SE APRIMORANDO ÀS TECNOLOGIAS E DESENVOLVEU O PRIMEIRO FOGÃO À GÁS.

FAÇA UMA PESQUISA JUNTO COM SUA FAMÍLIA SOBRE QUEM FOI O INVENTOR DO FOGÃO À GÁS.



Matemática - Data 30 / 11 / 21



1. Resolva as subtrações

$$\begin{array}{r} 45 \\ - 33 \\ \hline \end{array}$$

$$\begin{array}{r} 286 \\ - 144 \\ \hline \end{array}$$

$$\begin{array}{r} 64 \\ - 42 \\ \hline \end{array}$$

$$\begin{array}{r} 86 \\ - 35 \\ \hline \end{array}$$

$$\begin{array}{r} 154 \\ - 42 \\ \hline \end{array}$$

$$\begin{array}{r} 47 \\ - 36 \\ \hline \end{array}$$


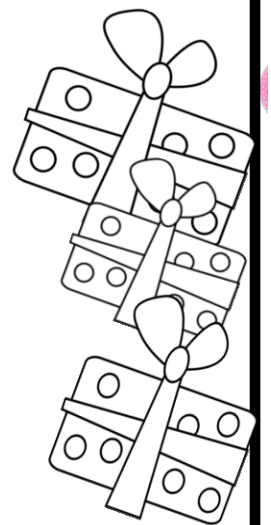
$$\begin{array}{r} 387 \\ - 246 \\ \hline \end{array}$$

$$\begin{array}{r} 83 \\ - 22 \\ \hline \end{array}$$

$$\begin{array}{r} 467 \\ - 336 \\ \hline \end{array}$$

$$\begin{array}{r} 574 \\ - 53 \\ \hline \end{array}$$

$$\begin{array}{r} 248 \\ - 225 \\ \hline \end{array}$$



$$\begin{array}{r} 336 \\ - 134 \\ \hline \end{array}$$

$$\begin{array}{r} 429 \\ - 221 \\ \hline \end{array}$$

$$\begin{array}{r} 184 \\ - 74 \\ \hline \end{array}$$






ESTUDANTE: \_\_\_\_\_ TURMA: \_\_\_\_\_

PROFESSOR(A): \_\_\_\_\_ DATA: 01/12/2021

# ACRÓSTICO NATAL

FORME FRASES COM AS INICIAIS  
DA PALAVRA NATAL



	<hr/> <hr/>
	<hr/> <hr/>
	<hr/> <hr/>
	<hr/> <hr/>
	<hr/> <hr/>

SE PRECISAR, UTILIZE O BANCO DE PALAVRAS ABAIXO










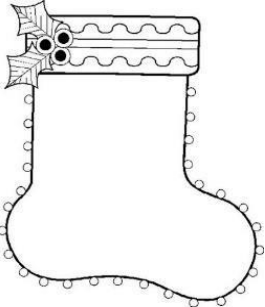

ESTUDANTE: \_\_\_\_\_ TURMA: \_\_\_\_\_

PROFESSOR(A): \_\_\_\_\_ DATA: 01/12/2021




# NATAL

COLOQUE OS NOMES NOS OBJETOS DE NATAL

O MAIS IMPORTANTE DO NATAL É SEMPRE ENTENDER QUE DEVEMOS SER PESSOAS QUE PRATICAM O BEM. O NATAL É UMA DATA QUE NOS AJUDA A TER UM OLHAR DE AMOR PARA OS QUE PRECISAM, MAS ISSO NÃO DEVE SER FEITO SÓ NESSA ÉPOCA.



NOME: \_\_\_\_\_


PROFESSOR: \_\_\_\_\_

DATA: 01/12/2021

Atividades Suzano

# CÁLCULO NATALINO

AJUDE PAPAI NOEL NAS OPERAÇÕES REALIZADAS NA CONTAGEM DE PRESENTES A SER ENTREGUES.







ESTUDANTE: \_\_\_\_\_ TURMA: \_\_\_\_\_

PROFESSOR(A): \_\_\_\_\_ DATA: 02/12/2021




# NATAL

ENCONTRE AS PALAVRAS QUE LEMBRAM O NATAL

G	U	I	R	L	A	N	D	A	P	T	W
E	S	T	R	E	L	A	F	N	H	T	N
H	I	Y	L	I	A	G	R	C	E	I	A
N	A	T	A	L	R	O	I	A	A	N	S
P	A	P	A	I	N	O	E	L	V	N	A
I	S	R	P	R	E	S	E	N	T	E	F
H	S	I	N	O	R	Ç	S	E	F	K	E
L	C	S	A	P	R	E	S	É	P	I	O
N	F	E	T	E	S	U	L	E	T	A	E
P	A	V	Y	I	N	U	T	L	H	N	E
R	T	I	L	A	B	B	R	D	E	I	E
I	L	O	E	U	Á	R	V	O	R	E	O

## PALAVRAS

- CEIA
- ESTRELA
- GUIRLANDA
- NATAL
- PAPAÍ NOEL
- PRESENTE
- PRESEPIO
- SINO
- ÁRVORE


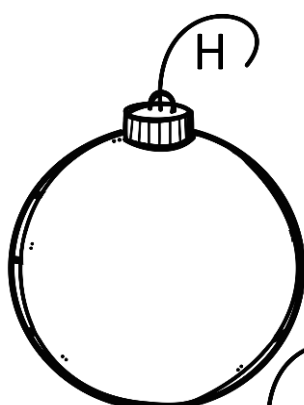


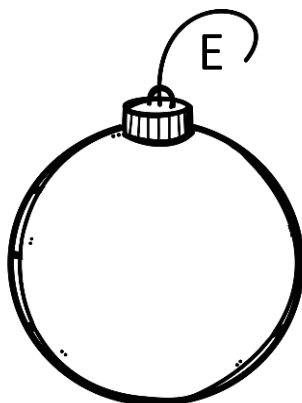
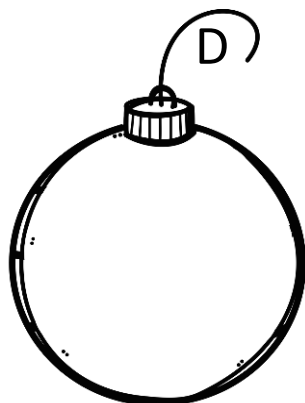

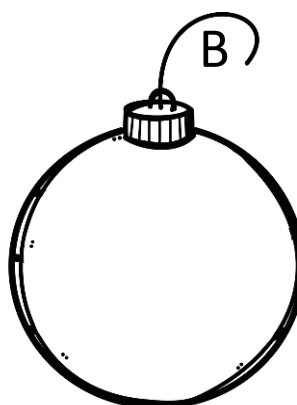
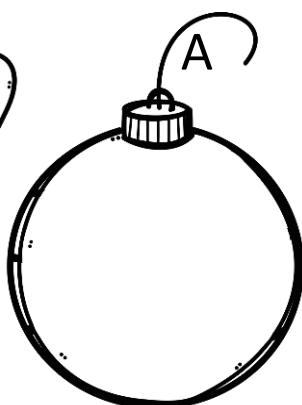




ESTUDANTE: \_\_\_\_\_ TURMA: \_\_\_\_\_  
PROFESSOR(A): \_\_\_\_\_ DATA: 02/12/2021

# NATAL

## ADIÇÃO COM REAGRUPAMENTO



## ARME E EFETUE

A.  $45 + 98$

B.  $85 + 36$

C.  $36 + 27$

D.  $17 + 89$

E.  $37 + 95$

F.  $54 + 68$

G.  $58 + 63$

H.  $67 + 38$

I.  $28 + 54$

J.  $66 + 77$



## O Natal na floresta

Kátia Teixeira

Quem disse que não tem festa na floresta? Tem sim! Afinal Jesus nasceu para todos os seres do planeta.

Lá os preparativos para a festa começam bem antes do mês de dezembro.

O rei da floresta escolhe a árvore mais bonita onde todos os animais se reúnem na noite de Natal.

Os vaga-lumes ficam por conta da iluminação e os pássaros pela decoração da árvore. Cada bicho leva seu prato favorito, exceto os carnívoros, que nesse dia só podem comer frutas e vegetais. Dona onça já tentou bancar a esperta mas foi alertada pelo leão que caso não

cumprisse a ordem seria ela seu prato da noite. Como não queria medir forças com o rei, ela ficou quietinha.

Quando chega a noite de Natal, a floresta fica toda enfeitada e a bicharada em festa comemora o nascimento de Jesus.

Feliz Natal!



Nome: \_\_\_\_\_ Data: 03 / 12 / 21

Sobre o texto Natal na floresta responda:

1. Qual é o assunto do texto?

\_\_\_\_\_

2. Como é o Natal na floresta?

\_\_\_\_\_

\_\_\_\_\_

\_\_\_\_\_



3. Quem escolhe a árvore para a festa de Natal?

( ) onça

( ) elefante

( ) leão

( ) tigre



4. Ligue:

vaga-lumes

pássaros

onça

decoração

comida

iluminação

Nome: \_\_\_\_\_ Data: 03 / 12 / 21

Sobre o texto Natal na floresta responda:

1. Qual foi a regra estabelecida aos animais carnívoros?

\_\_\_\_\_  
\_\_\_\_\_  
-----

2. O que é comemorado no dia de Natal?

\_\_\_\_\_  
\_\_\_\_\_  
-----

Singular e plural



a) Passe as palavras para o plural.

festa \_\_\_\_\_ floresta \_\_\_\_\_

planeta \_\_\_\_\_ rei \_\_\_\_\_

árvore \_\_\_\_\_ onça \_\_\_\_\_

mês \_\_\_\_\_ bichos \_\_\_\_\_

noite \_\_\_\_\_ leão \_\_\_\_\_

bonita \_\_\_\_\_ prato \_\_\_\_\_



Escola: E.M. "Moysés José Godinho"

Nome:



Professor(a): Angela

Ano: 3º ano A

**APOSTILA NÚMERO: 15**

**DATA DA RETIRADA: 22 DE NOVEMBRO**

**DATA DA DEVOLUÇÃO: 13 DE DEZEMBRO**



NOME: \_\_\_\_\_

DATA: 06/12/2021

PROFESSOR: \_\_\_\_\_



# PAPAI NOEL

PINTE A BORDA DE CINCO ADJETIVOS QUE COMBINAM COM O PAPAI NOEL. DEPOIS, ESCREVA FRASES PARA CADA UM DELES.

FELIZ

MAL HUMORADO

FESTIVO

DOENTE

BONDOSO

BEM DISPOSTO

EGOÍSTA

**ALEGRE**



AGORA, ESCREVA AS FRASES. NÃO VALEM FRASES IGUAIS OU PARECIDAS!

1

\_\_\_\_\_

2

\_\_\_\_\_

3

\_\_\_\_\_

4

\_\_\_\_\_

5











\_\_\_\_\_



ESTUDANTE: \_\_\_\_\_ TURMA: \_\_\_\_\_  
PROFESSOR(A): \_\_\_\_\_ DATA: 06/12/2021


# NATAL

## MULTIPLICAÇÃO



### ARME E EFETUE

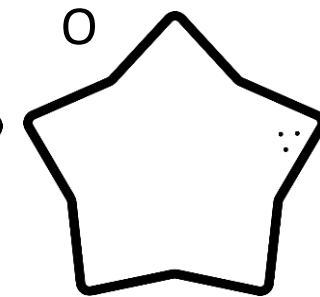
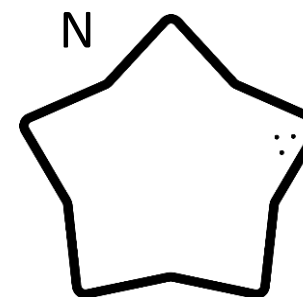
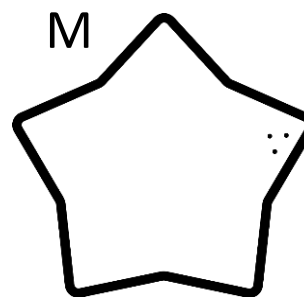
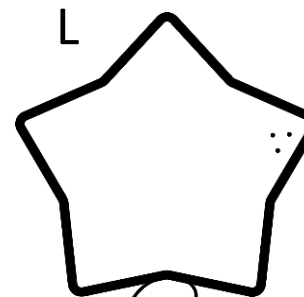

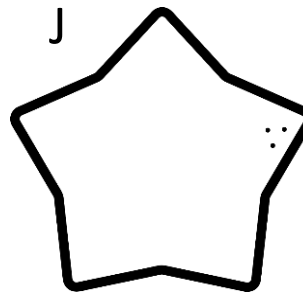

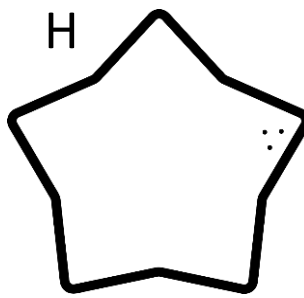
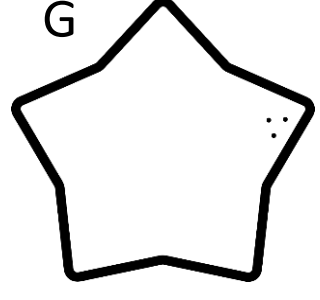
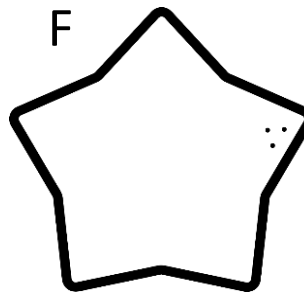
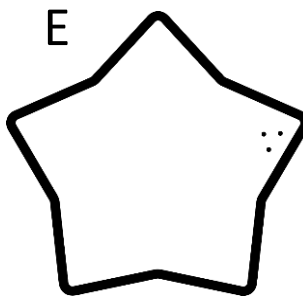
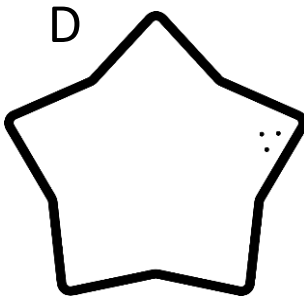
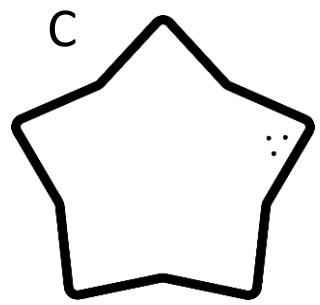
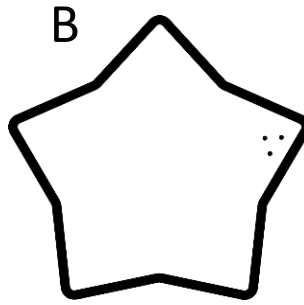
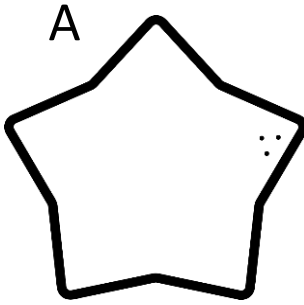

- A.  $8 \times 2 =$
- B.  $5 \times 3 =$
- C.  $3 \times 3 =$
- D.  $7 \times 1 =$
- E.  $4 \times 2 =$
- F.  $6 \times 3 =$
- G.  $2 \times 3 =$
- H.  $8 \times 1 =$
- I.  $1 \times 2 =$



ESTUDANTE: \_\_\_\_\_ TURMA: \_\_\_\_\_  
PROFESSOR(A): \_\_\_\_\_ DATA: 06/12/2021

# NATAL

## SUBTRAÇÃO



**A.**  $99 - 12 =$

**B.**  $74 - 52 =$

**C.**  $45 - 21 =$

**D.**  $15 - 12 =$

**E.**  $55 - 22 =$

**F.**  $86 - 42 =$

**G.**  $66 - 11 =$

**H.**  $35 - 21 =$

**I.**  $25 - 22 =$

**J.**  $77 - 45 =$

**K.**  $55 - 24 =$

**L.**  $98 - 73 =$

**M.**  $53 - 21 =$

**N.**  $36 - 10 =$

**O.**  $50 - 30 =$

NOME: \_\_\_\_\_

DATA: 07/12/2021

PROFESSOR: \_\_\_\_\_



# A LISTA DE NOEL

O DUENDE CHARLES ORGANIZA AS LISTAS DE PAPAÍ NOEL. ELAS DEVEM FICAR EM ORDEM ALFABÉTICA. LEIA OS NOMES E REESCREVA-OS NA ORDEM ALFABÉTICA.

A B C D E F G H I J K L M N O P Q R S T U V W X Y Z

CAROLINA

ASTOLFO

VINÍCIUS

MARIA


CECÍLIA

CRISTIANO

WALTER

SAMANTA

IARA



---

---

---

---

---

---

---

---

---

---

NOME: \_\_\_\_\_

DATA: 07/12/2021

PROFESSOR: \_\_\_\_\_



# FRASES NATALINAS

PINTE COM CAPRICO AS FIGURAS. DEPOIS, PARA CADA FIGURA, ESCREVA TRÊS FRASES DIFERENTES, SENDO UMA AFIRMATIVA, UMA EXCLAMATIVA E UMA INTERROGATIVA.



AFIRMATIVA \_\_\_\_\_

EXCLAMATIVA \_\_\_\_\_

INTERROGATIVA \_\_\_\_\_



AFIRMATIVA \_\_\_\_\_

EXCLAMATIVA \_\_\_\_\_

INTERROGATIVA \_\_\_\_\_



NOME: \_\_\_\_\_

DATA: 07/12/2021

PROFESSOR: \_\_\_\_\_



# DOCE TABUADA!

Resolva as tabuadas a seguir.



$3 \times 1 = \underline{\quad}$

$3 \times 2 = \underline{\quad}$

$3 \times 3 = \underline{\quad}$

$3 \times 4 = \underline{\quad}$

$3 \times 5 = \underline{\quad}$


$3 \times 6 = \underline{\quad}$

$3 \times 7 = \underline{\quad}$

$3 \times 8 = \underline{\quad}$

$3 \times 9 = \underline{\quad}$

$3 \times 10 = \underline{\quad}$



$5 \times 1 = \underline{\quad}$

$5 \times 2 = \underline{\quad}$

$5 \times 3 = \underline{\quad}$

$5 \times 4 = \underline{\quad}$

$5 \times 5 = \underline{\quad}$


$5 \times 6 = \underline{\quad}$

$5 \times 7 = \underline{\quad}$

$5 \times 8 = \underline{\quad}$

$5 \times 9 = \underline{\quad}$

$5 \times 10 = \underline{\quad}$



$8 \times 1 = \underline{\quad}$

$8 \times 2 = \underline{\quad}$

$8 \times 3 = \underline{\quad}$

$8 \times 4 = \underline{\quad}$

$8 \times 5 = \underline{\quad}$


$8 \times 6 = \underline{\quad}$

$8 \times 7 = \underline{\quad}$

$8 \times 8 = \underline{\quad}$

$8 \times 9 = \underline{\quad}$

$8 \times 10 = \underline{\quad}$



$2 \times 1 = \underline{\quad}$

$2 \times 2 = \underline{\quad}$

$2 \times 3 = \underline{\quad}$

$2 \times 4 = \underline{\quad}$

$2 \times 5 = \underline{\quad}$


$2 \times 6 = \underline{\quad}$

$2 \times 7 = \underline{\quad}$

$2 \times 8 = \underline{\quad}$

$2 \times 9 = \underline{\quad}$

$2 \times 10 = \underline{\quad}$



$9 \times 1 = \underline{\quad}$

$9 \times 2 = \underline{\quad}$

$9 \times 3 = \underline{\quad}$

$9 \times 4 = \underline{\quad}$

$9 \times 5 = \underline{\quad}$



$9 \times 6 = \underline{\quad}$

$9 \times 7 = \underline{\quad}$

$9 \times 8 = \underline{\quad}$

$9 \times 9 = \underline{\quad}$

$9 \times 10 = \underline{\quad}$



$6 \times 1 = \underline{\quad}$

$6 \times 2 = \underline{\quad}$

$6 \times 3 = \underline{\quad}$

$6 \times 4 = \underline{\quad}$

$6 \times 5 = \underline{\quad}$

$6 \times 6 = \underline{\quad}$

$6 \times 7 = \underline{\quad}$

$6 \times 8 = \underline{\quad}$

$6 \times 9 = \underline{\quad}$

$6 \times 10 = \underline{\quad}$

NOME: \_\_\_\_\_


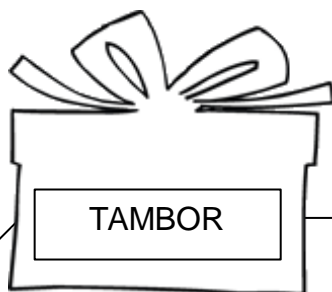


DATA: 08/12/2021

PROFESSOR: \_\_\_\_\_



# OS PRESENTES

LEIA OS NOMES DOS PRESENTES CONTIDOS NOS EMBRULHOS.  
PINTE OS LAÇOS DE ACORDO COM A LEGENDA DE NÚMERO DE  
SÍLABAS DE CADA PALAVRA.



Monossílabo = LARANJA

Trissílabo = AMARELO

Dissílabo = AZUL

Polissílabo = VERDE

NOME: \_\_\_\_\_

DATA: 08/12/2021


PROFESSOR: \_\_\_\_\_




# FORNADAS NATALINAS

1 Dona Marta fez fornadas de bolinhos natalinos para sua loja. Observe as fornadas e anote a multiplicação que as representa.

Bolinhos FANTASIA






Bolinhos DE GOMA



Bolinhos FESTA NATALINA



2 Os amigos Júlia, Marcelo e Natália foram à loja de Dona Marta. Cada um deles pediu um bolinho diferente. Descubra quem pediu qual bolinho, pelas dicas dadas.




Júlia	Marcelo	Natália
		
Preferiu o bolinho cuja quantidade feita poderia estar na tabuada do 2 ou do 7.	O bolinho que lhe chamou a atenção foi o de mesma quantidade que 2X8.	Achou que o bolinho mais apetitoso era o que tinha em menor quantidade.
Qual é o bolinho?	Qual é o bolinho?	Qual é o bolinho?

3 Veja a seguir os preços de cada bolinho e responda o que se pede.

 4 reais	 6 reais	 8 reais
---	---	---

A Quanto os amigos gastaram na loja de Dona Marta? \_\_\_\_\_

B Qual será o valor que Dona Marta ganhará com cada fornada de bolinho?





NOME: \_\_\_\_\_

DATA: 09/12/2021

PROFESSOR: \_\_\_\_\_




# CENA NATALINA

LEIA O TEXTO E COMPLETE A CENA ABAIXO.

NO ALTO DA ÁRVORE DE NATAL HÁ UMA LINDA ESTRELA DOURADA. AO REDOR DA ÁRVORE HÁ QUATRO PRESENTES: DOIS MENORES E DOIS MAIORES. O MAIOR PRESENTE TEM EMBALAGEM AZUL COM BOLINHAS LARANJA.

A LAREIRA TEM DUAS MEIAS NATALINAS. A DA ESQUERDA É VERMELHA E VERDE E A DA DIREITA É AZUL E LARANJA. EM CIMA DA LAREIRA HÁ DUAS VELAS DE NATAL VERMELHAS NO CENTRO E DO LADO DIREITO HÁ UM LINDO URSINHO NATALINO ENFEITANDO O LUGAR.



NOME: \_\_\_\_\_

DATA: 09/12/2021

PROFESSOR: \_\_\_\_\_



# SUBSTANTIVOS DE NATAL

LEIA OS SUBSTANTIVOS. SE FOREM PRÓPRIOS, PINTE A BORDA DE VERDE. SE FOREM COMUNS, PINTE-AS DE VERMELHO.

PÓLO NORTE

RENA

TRENÓ

BRINQUEDO

PAPAI NOEL

ÁRVORE

NATAL

ESTRELA

MAMÃE NOEL

RODOLFO

SINOS

DUENDE TÉO

AGORA, ESCREVA OS SUBSTANTIVOS NA LISTA CORRETA.

PRÓPRIOS

---

---

---

---

---

---

---



COMUNS

---

---

---

---

---

---

---

NOME: \_\_\_\_\_

DATA: 09/12/2021

PROFESSOR: \_\_\_\_\_




# A MÚSICA SECRETA

Resolva as multiplicações e relacione os resultados com a legenda a seguir, para formar o nome de uma famosa música natalina.

A	C	E	F	H	I	L	M	N	O	R	S	T	U	X	Z
18	27	16	21	30	24	25	63	20	36	45	12	49	7	14	54

5	6	3	7	2
X4	X6	X8	X7	X8

3	4	5	6	9
X7	X4	X5	X4	X6



Registre aqui uma estrofe desta música!

---

---

---

---

---

---

NOME: \_\_\_\_\_

DATA: 10/12/2021

PROFESSOR: \_\_\_\_\_



# O CAMINHO DO RATINHO


Resolva a tabuada do 2 a seguir:

2X										
0	1	2	3	4	5	6	7	8	9	10



O ratinho Natalino viu que Mamãe Noel fez biscoitos deliciosos. Um deles caiu no chão! Ajude-o a chegar até o biscoito, pintando apenas quadrinhos que sejam múltiplos de 2. Tome cuidado, pois alguns quadrinhos levam a becos sem saída, portanto nem todos os múltiplos de 2 serão pintados!

INÍCIO								
2	7	4	10	9	15	27	14	
10	8	21	25	10	21	9	15	
15	4	15	8	12	4	10	6	
9	16	20	6	9	15	14	21	
27	25	21	3	27	4	18	9	
					FIM			



NOME: \_\_\_\_\_

DATA: 10/12/2021

PROFESSOR: \_\_\_\_\_



# O BOLINHO PERDIDO

Resolva a tabuada do 7 a seguir:

7X										
0	1	2	3	4	5	6	7	8	9	10



O ajudante do Papai Noel escondeu um bolinho para comer mais tarde e agora não se lembra o caminho para chegar até ele. Ajude-o, pintando apenas múltiplos de 7. Tome cuidado, pois alguns quadrinhos levam a becos sem saída, portanto nem todos os múltiplos de 7 serão pintados!

INÍCIO								
7	15	27	30	7	35	49	81	
14	36	12	45	21	10	14	12	
21	42	49	56	63	20	63	18	
18	21	58	32	45	12	7	72	
25	14	16	27	10	20	28	9	
						FIM		



NOME: \_\_\_\_\_

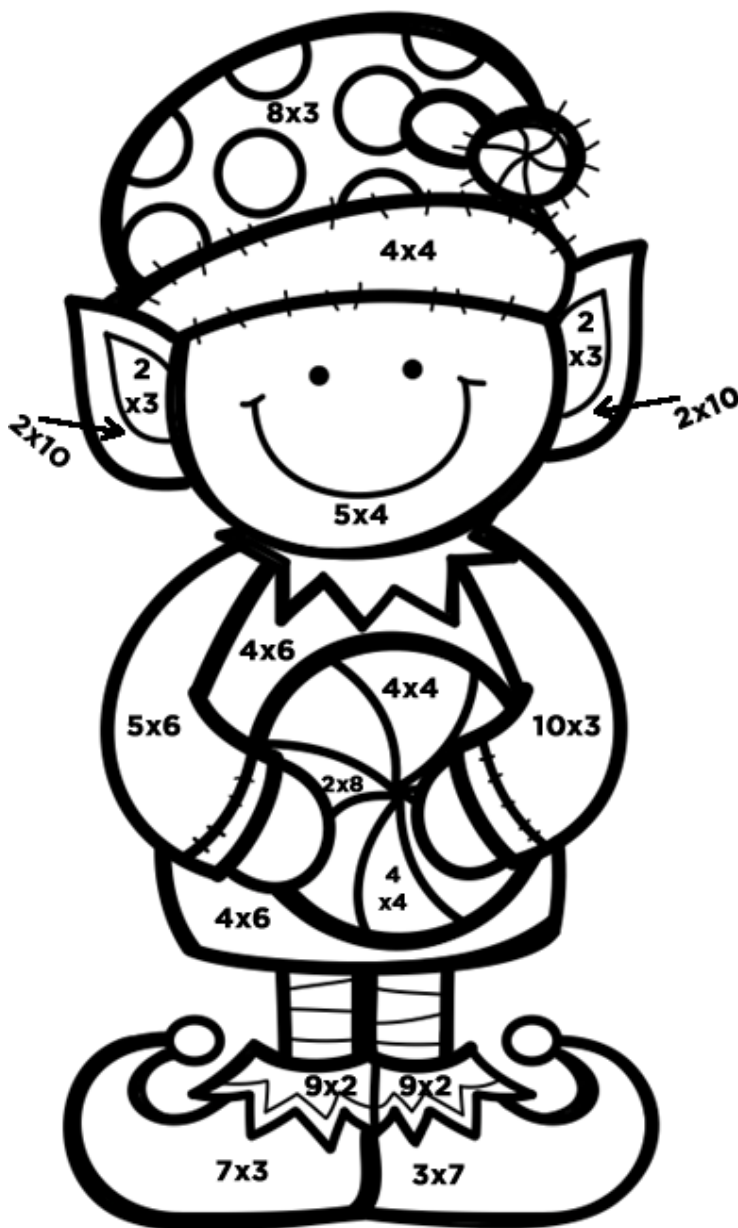
DATA: 10/12/2021

PROFESSOR: \_\_\_\_\_



## PASSATEMPO MULTIPLICATIVO

Resolva as multiplicações do desenho e observe o resultado. Pinte da cor correspondente ao resultado. As partes sem multiplicações você pode escolher a cor!



**6 = rosa**

**16 = vermelho**

**18 = amarelo**

**20 = bege**

**21 = marrom**

**24 = verde**

**30 = laranja**

Referências Apostila 15  
Prof. Angela – 3º Ano A:

<https://janainaspolidorio.com.br>

<https://atividadespedagogicasuzano.com.br>

<https://www.pedagogaingrid.com>

<https://www.instagram.com/redeabcddivertido>

<https://www.instagram.com/@professoradobia>

<https://www.pinterest>

<https://br.freepik.com>

