

E.M. “Benedita Cordeiro Medelos”

Nome: _____

4º ano –B

Professora: Milena

Caderno de Atividades Nº 16

Apostila referente aos dias 22 a 26/11

Data de entrega: 23/11

Data de devolução: 30/11



Roteiro de Atividades:

22/11- Língua Portuguesa, Ler e Escreve páginas 14^a 17, Leia o Conto observando a pontuação; Depois copie a Fabula corretamente com os pontos e as letras maiúsculas.

Matemática- Situações Problemas (folha anexo 1)

23/11- Matemática- Livro Após, faça os exercícios das páginas 79 a 85.

Língua Portuguesa, caça palavras (folha anexo2)

24/11-Geografia- Livro Após, O espaço Natural brasileiro páginas 136 e 137.

Língua Portuguesa- Produção de texto, pinte, cole e recorte as cenas escrevendo uma bela história no caderno. (Folha anexo 3)

25/11 – Ensino da Arte – Vamos Colorir o Lindo desenho! (Folha anexo 4)

Língua Portuguesa – Ditado Visual (folha anexo 5)

Matemática- Escrita Numérica (folha anexo 6)

Aluno(a): _____

Situações problemas 4º ano

1- Arme as contas no seu caderno, seja organizado, resolva as situações problemas e coloque o resultado nos retângulos.

Lembrete: **1 dúzia = 12 / meia dúzia = 6 - 1 dezena = 10 1 centena = 100**

a) Papai compra uma dúzia de pães por dia. Quantos pães comprará em 30 dias?

b) A diretora de uma escola quer organizar 66 cadeiras em um auditório, com 7 cadeiras em cada fileira. Quantas fileiras ela formará?

c) Igor comprou 864 caixas contendo copos descartáveis. Quantos copos ele comprou ao todo, sabendo-se que cada caixa tem uma dúzia de copos?

d) Uma padaria assa 1 280 pães em cada fornada. Quantos pães serão assados em 8 fornadas?

e) Os animais de um zoológico consomem 368 quilos de alimentos por dia. Quantos quilos de alimentos são consumidos em um mês?

2) Consulte a tabuada e ligue as seguintes contas ao resultado:

$6 \times 6 =$

$3 \times 5 =$

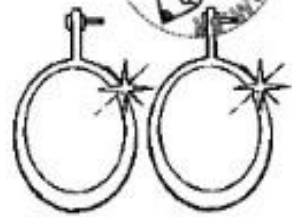
$4 \times 5 =$

$6 \times 7 =$


$5 \times 5 =$

$9 \times 8 =$

CAÇA PALAVRAS BR

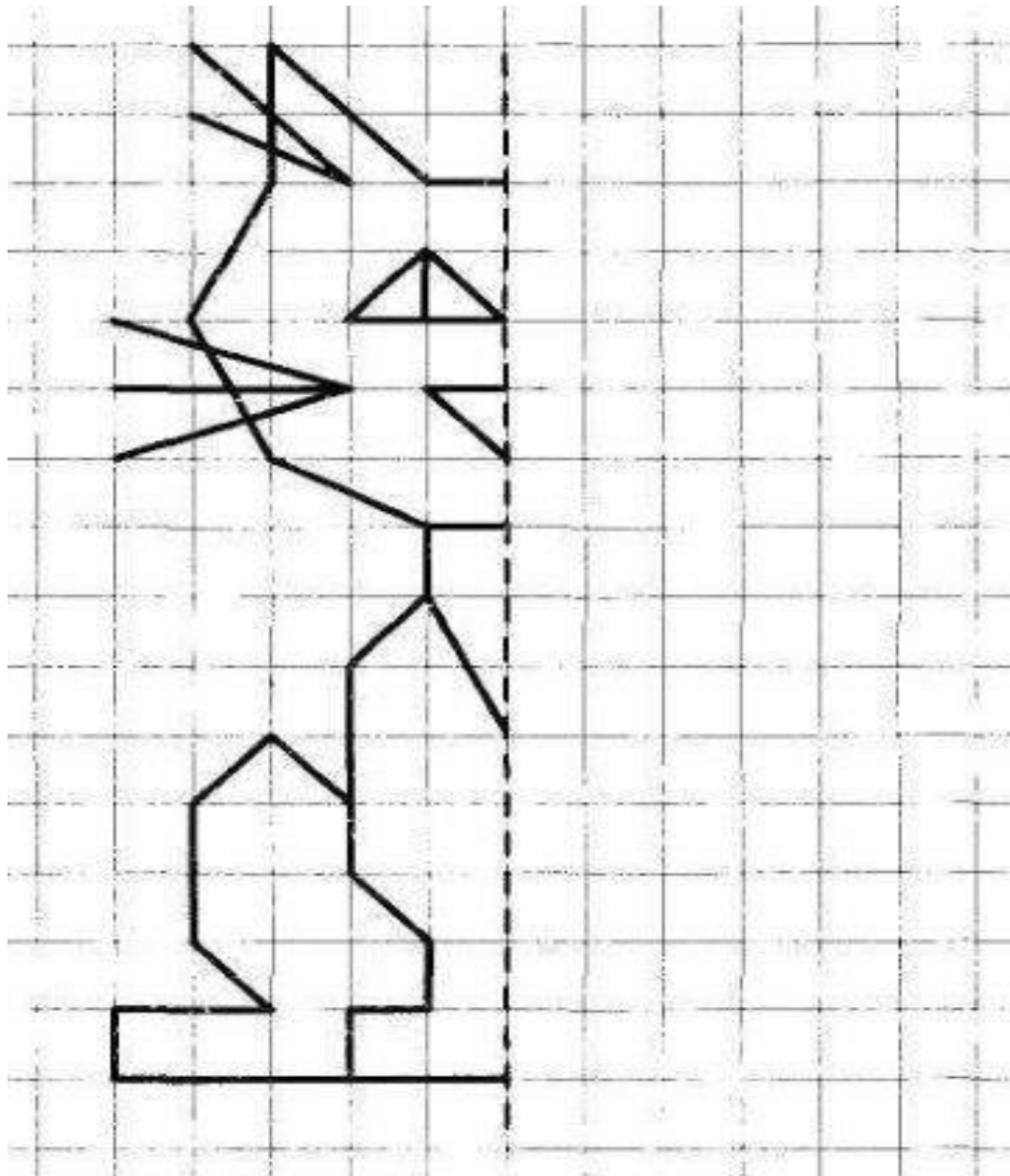


B	R	U	S	C	A	B	R	A	Z	A	B	V
A	Z	B	R	I	M	R	S	R	A	X	R	H
B	E	Q	R	U	O	L	G	F	R	A	I	R
R	B	C	V	I	N	B	R	I	B	U	N	R
I	R	A	E	U	N	K	O	R	E	B	C	I
D	R	B	R	U	V	Q	M	J	Z	R	O	A
O	E	R	S	M	R	X	U	A	F	C	T	X
R	P	I	D	H	Q	U	I	E	H	O	B	U
Á	X	C	O	B	R	A	R	Ç	D	A	O	R
B	Ç	N	L	M	B	R	I	K	E	O	C	B



Complete a simetria, Observe os quadrinhos.

E pinte seu lindo Gatinho!



Nome: _____ data: _____

DITADO VISUAL

OBSERVE AS FIGURAS E ESCREVA SEUS NOMES ABAIXO:

1.  _____ _____ _____	2.  _____ _____ _____	3.  _____ _____ _____	4.  _____ _____ _____
5.  _____ _____ _____	6.  _____ _____ _____	7.  _____ _____ _____	8.  _____ _____ _____
9.  _____ _____ _____	10.  _____ _____ _____	11.  _____ _____ _____	12.  _____ _____ _____
13.  _____ _____ _____	14.  _____ _____ _____	15.  _____ _____ _____	16.  _____ _____ _____

Nome	
Data	

Matemática

1 Escreve os números por extenso e coloca-os nas ordens correctas.

		C	D	U
128	→ Cento e vinte e oito	1	2	8
87	→			
137	→			
37	→			
8	→			
235	→			
179	→			
153	→			
104	→			
26	→			
92	→			
204	→			
159	→			
163	→			
258	→			
2	→			
93	→			
138	→			
157	→			
85	→			
0	→			
277	→			