

E.M "ALICE VIEIRA DE CAMARGO"

NOME:

3º ANO A

16ª APOSTILA

## MINHAS ATIVIDADES



REFERENTES AOS DIAS: 22,23,24,25 E 26 DE NOVEMBRO DE 2021.

PROFESSORA: BIANCA MIRANDA

NOME: \_\_\_\_\_

ESCOLA: \_\_\_\_\_ TURMA: \_\_\_\_\_

DATA: IBIÚNA, 22 DE NOVEMBRO DE 2021 \_\_\_\_\_

DISCIPLINA: GEOGRAFIA \_\_\_\_\_

1. Observe o mapa e responda as questões



2. Pinte de vermelho o estado onde você mora.

3. Qual a capital do seu estado?

\_\_\_\_\_

4. Em qual região do Brasil você mora?

\_\_\_\_\_

5. Identifique, no mapa, outros estados que compõem essa região.

\_\_\_\_\_

\_\_\_\_\_

NOME: \_\_\_\_\_

ESCOLA: \_\_\_\_\_ TURMA: \_\_\_\_\_

DATA: IBIÚNA, 22 DE NOVEMBRO DE 2021 \_\_\_\_\_

DISCIPLINA: LÍNGUA PORTUGUESA \_\_\_\_\_

# SINÔNIMOS E ANTÔNIMOS

1. Marque com um **A** as palavras antônimas e com um **S** as sinônimas.

RUÍDO - BARULHO

BRAVO – MANSO

RÁPIDO – LENTO

SIMPÁTICO – ANTIPÁTICO

CEDO – TARDE

FRIO – QUENTE

MUITO – BASTANTE

ALTO – BAIXO

AMAR – ADORAR

ALEGRE – FELIZ

2. Ligue os sinônimos:

CAMINHAR

FALAR

DIZER

PENSAR

TOMBAR

ANDAR

IMAGINAR

OLHAR

VER

CAIR

3. Acrescente as vogais e forme os antônimos:

POUCO	M			T			
VAZIO	C	H					
CLARO		S	C		R		
DOCE	S		L	G		D	
DERROTA	V		T		R		

Não esqueça de colocar acento quando for necessário!




NOME: \_\_\_\_\_

ESCOLA: \_\_\_\_\_ TURMA: \_\_\_\_\_

DATA: IBIÚNA, 22 DE NOVEMBRO DE 2021 \_\_\_\_\_

DISCIPLINA: LÍNGUA PORTUGUESA \_\_\_\_\_



# SUBTRAÇÃO

SEM RESERVA

VAMOS CALCULAR:

LEMBRE-SE: UNIDADE COM UNIDADE, DEZENA COM DEZENA E CENTENA COM CENTENA!

$$\begin{array}{r} \text{C} \quad \text{D} \quad \text{U} \\ 5 \quad 6 \\ 2 \quad 4 \quad - \\ \hline \end{array}$$

$$\begin{array}{r} \text{C} \quad \text{D} \quad \text{U} \\ 9 \quad 3 \\ 7 \quad 2 \quad - \\ \hline \end{array}$$

$$\begin{array}{r} \text{C} \quad \text{D} \quad \text{U} \\ 8 \quad 5 \\ 2 \quad 4 \quad - \\ \hline \end{array}$$

$$\begin{array}{r} \text{C} \quad \text{D} \quad \text{U} \\ 6 \quad 2 \\ 3 \quad 2 \quad - \\ \hline \end{array}$$

$$\begin{array}{r} \text{C} \quad \text{D} \quad \text{U} \\ 5 \quad 8 \\ 3 \quad 2 \quad - \\ \hline \end{array}$$

$$\begin{array}{r} \text{C} \quad \text{D} \quad \text{U} \\ 3 \quad 8 \\ 1 \quad 3 \quad - \\ \hline \end{array}$$

$$\begin{array}{r} \text{C} \quad \text{D} \quad \text{U} \\ 5 \quad 7 \\ 1 \quad 3 \quad - \\ \hline \end{array}$$

$$\begin{array}{r} \text{C} \quad \text{D} \quad \text{U} \\ 9 \quad 9 \\ 2 \quad 9 \quad - \\ \hline \end{array}$$

$$\begin{array}{r} \text{C} \quad \text{D} \quad \text{U} \\ 8 \quad 7 \quad 4 \\ 5 \quad 5 \quad 1 \quad - \\ \hline \end{array}$$

$$\begin{array}{r} \text{C} \quad \text{D} \quad \text{U} \\ 6 \quad 7 \quad 2 \\ 3 \quad 4 \quad 1 \quad - \\ \hline \end{array}$$

$$\begin{array}{r} \text{C} \quad \text{D} \quad \text{U} \\ 9 \quad 8 \quad 0 \\ 6 \quad 1 \quad 0 \quad - \\ \hline \end{array}$$

$$\begin{array}{r} \text{C} \quad \text{D} \quad \text{U} \\ 3 \quad 2 \quad 8 \\ 2 \quad 2 \quad 4 \quad - \\ \hline \end{array}$$

$$\begin{array}{r} \text{C} \quad \text{D} \quad \text{U} \\ 5 \quad 7 \quad 3 \\ 2 \quad 3 \quad 1 \quad - \\ \hline \end{array}$$

$$\begin{array}{r} \text{C} \quad \text{D} \quad \text{U} \\ 9 \quad 5 \quad 1 \\ 7 \quad 5 \quad 1 \quad - \\ \hline \end{array}$$

$$\begin{array}{r} \text{C} \quad \text{D} \quad \text{U} \\ 7 \quad 1 \quad 4 \\ 2 \quad 1 \quad 3 \quad - \\ \hline \end{array}$$

$$\begin{array}{r} \text{C} \quad \text{D} \quad \text{U} \\ 6 \quad 0 \quad 4 \\ 5 \quad 0 \quad 1 \quad - \\ \hline \end{array}$$

$$\begin{array}{r} \text{C} \quad \text{D} \quad \text{U} \\ 2 \quad 7 \quad 7 \\ 5 \quad 3 \quad - \\ \hline \end{array}$$

$$\begin{array}{r} \text{C} \quad \text{D} \quad \text{U} \\ 5 \quad 8 \quad 2 \\ 6 \quad 2 \quad - \\ \hline \end{array}$$

$$\begin{array}{r} \text{C} \quad \text{D} \quad \text{U} \\ 1 \quad 8 \quad 5 \\ 3 \quad 3 \quad - \\ \hline \end{array}$$






NOME: \_\_\_\_\_

ESCOLA: \_\_\_\_\_ TURMA: \_\_\_\_\_

DATA: IBIÚNA, 23 DE NOVEMBRO DE 2021 \_\_\_\_\_

DISCIPLINA: HISTÓRIA \_\_\_\_\_

## CRUZADINHA VISUAL DOS MEIOS DE TRANSPORTES







NOME: \_\_\_\_\_

ESCOLA: \_\_\_\_\_ TURMA: \_\_\_\_\_

DATA: IBIÚNA, 24 DE NOVEMBRO DE 2021 \_\_\_\_\_

DISCIPLINA: MATEMÁTICA \_\_\_\_\_



Felipe perguntou para sua avó como fazia para medir comprimentos maiores, que com a régua não teria como. Então a avó explicou:

- Felipe, quando queremos medir comprimentos maiores, usamos a fita métrica, o metro articulado ou a trena.



FITA MÉTRICA



TRENA



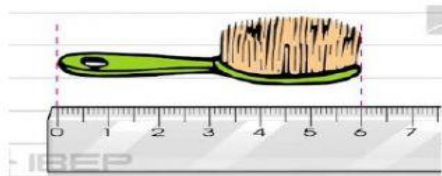
METRO ARTICULADO

**Metro – m**


**Centímetro - cm**

### ATIVIDADES

1) Observe as figuras e responda:



• A escova tem \_\_\_\_\_ cm.



• O bombom tem \_\_\_\_\_ cm



• O lápis tem \_\_\_\_\_ cm.

NOME: \_\_\_\_\_

ESCOLA: \_\_\_\_\_ TURMA: \_\_\_\_\_

DATA: IBIÚNA, 25 DE NOVEMBRO DE 2021 \_\_\_\_\_

DISCIPLINA: CIÊNCIAS \_\_\_\_\_

6. ENUMERE AS ETAPAS DAS TRANSFORMAÇÕES DOS ALIMENTOS.



A) OS TOMATES E OS PÃES FICARAM:

MOFOS

ESTRAGADOS

MOLHADOS

B) OS ALIMENTOS ESTRAGADOS FICAM COME:

MAU CHEIRO

SABOR HORRÍVEL

NORMAL

C) FAÇA O DESENHO DE UMA FRUTA ESTRAGADA.



Figuras extraídas de site:  
<http://br.aspectphotos.com>

Atividade adaptada para o 5º ano do E.F. Elaborada pela professora Maria Madalena Dornelas Borges.



NOME: \_\_\_\_\_

ESCOLA: \_\_\_\_\_ TURMA: \_\_\_\_\_

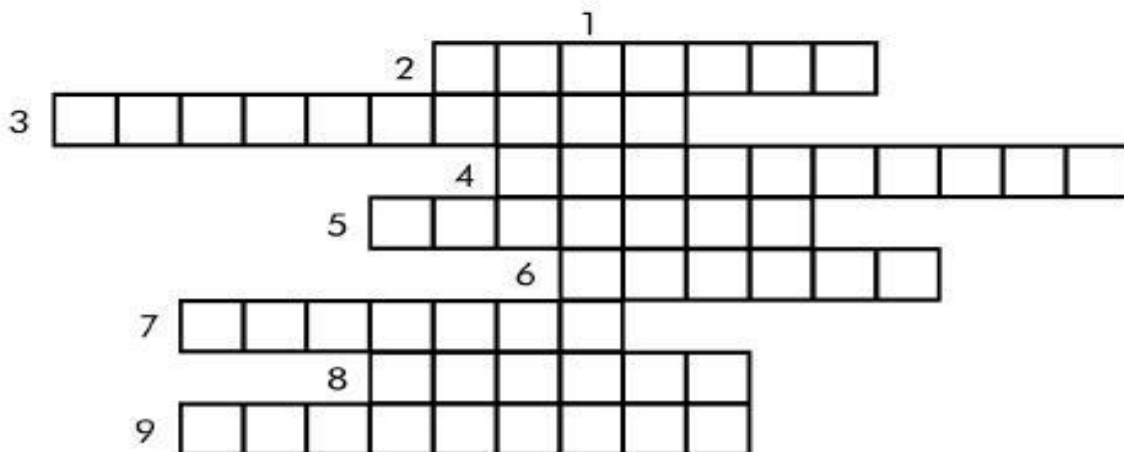
DATA: IBIÚNA, 25 DE NOVEMBRO DE 2021 \_\_\_\_\_

DISCIPLINA: LÍNGUA PORTUGUESA \_\_\_\_\_

16. COMPLETE COM ADJETIVOS A CRUZADINHA:



1. MENINO QUE TEM CORAGEM, MENINO.....
2. BOLETIM DA ESCOLA, BOLETIM.....
3. FILME QUE ASSUSTA, FILME.....
4. AQUELE QUE TEM PREGUIÇA, É.....
5. REVISTA DA SEMANA, REVISTA.....
6. FESTA DO MÊS DE JUNHO, FESTA.....
7. QUEIJO DE MINAS, QUEIJO.....
8. PAGAMENTO DE CONTA FEITO POR MÊS, PAGAMENTO.....
9. QUEM TEM CARINHO POR OUTRA PESSOA É.....



NOME: \_\_\_\_\_

ESCOLA: \_\_\_\_\_ TURMA: \_\_\_\_\_

DATA: IBIÚNA, 26 DE NOVEMBRO DE 2021 \_\_\_\_\_

DISCIPLINA: MATEMÁTICA \_\_\_\_\_



aprenderebrincar.com

NUMA CAIXA HÁ 7 CHOCOLATES AMARGOS E 8 CHOCOLATES BRANCOS. QUANTOS CHOCOLATES HÁ NESSA CAIXA?

RESPOSTA: HÁ \_\_\_\_ CHOCOLATES NESSA CAIXA.



aprenderebrincar.com

PEDRO COMPROU 15 GIBIS PARA LER. ATÉ O MOMENTO LEU 4. QUANTOS GIBIS AINDA FALTAM ELE LER?


RESPOSTA: FALTAM \_\_\_\_ GIBIS PARA ELE LER.



aprenderebrincar.com

NO JARDIM HAVIA 5 BORBOLETAS GRANDES E CHEGARAM MAIS 4 BORBOLETAS PEQUENAS. QUANTAS BORBOLETAS TINHAM AO TODO?

RESPOSTA: TINHAM \_\_\_\_ BORBOLETAS NO TOTAL.



aprenderebrincar.com

O CARTEIRO TINHA 9 CARTAS PARA ENTREGAR. ENTREGOU APENAS 7. QUANTAS CARTAS FALTAM ELE ENTREGAR?

RESPOSTA: FALTAM \_\_\_\_ CARTAS PARA ENTREGAR.

NOME: \_\_\_\_\_

ESCOLA: \_\_\_\_\_ TURMA: \_\_\_\_\_

DATA: IBIÚNA, 26 DE NOVEMBRO DE 2021 \_\_\_\_\_

DISCIPLINA: MATEMÁTICA \_\_\_\_\_


## RECORTANDO E COLANDO

✂ Recorte as fichas abaixo e cole-as no lugar certo.

O que vem antes?

O que vem depois?

<input type="text"/>	68	<input type="text"/>
<input type="text"/>	71	<input type="text"/>
<input type="text"/>	39	<input type="text"/>
<input type="text"/>	56	<input type="text"/>
<input type="text"/>	83	<input type="text"/>
<input type="text"/>	90	<input type="text"/>



67	69	38	55	40	82
89	70	84	72	57	91

NOME: \_\_\_\_\_


ESCOLA: \_\_\_\_\_ TURMA: \_\_\_\_\_

DATA: IBIÚNA, 26 DE NOVEMBRO DE 2021 \_\_\_\_\_

DISCIPLINA: LÍNGUA PORTUGUESA \_\_\_\_\_

**1- LEIA OS TEXTOS COM ATENÇÃO E RESPONDA:**

Venha comemorar  
comigo meu 6º  
aniversário!  
Dia 5/08, às  
18 hs, no Clube  
Municipal.



Adriano

**1**

Amiga, estou com muita  
saudades de você!  
Como está? Quando vem  
nos visitar?  
Todo mundo aqui está  
mandando um beij.  
e torcendo para vc

**2**

o tempo eh lento d+  
para os q esperam.  
Rápido d+ para os q  
temem. Mas p os q  
amam, o tempo eh  
eterno.  
bjs!!!

**3**

TÁ FICANDO CARECA  
QUE NEM EU Ó!



**4**

A- EM QUAL DOS QUADROS ESTÁ O TRECHO DE  
UMA CARTA? \_\_\_\_\_

B- QUAL O OBJETIVO DO TEXTO DO PRIMEIRO  
QUADRO? \_\_\_\_\_

C- QUAL O GÊNERO TEXTUAL UTILIZADO NO  
QUADRO 4? \_\_\_\_\_

D- O QUE SIGNIFICA "BJS" EM UMA MENSAGEM  
VIA CELULAR? \_\_\_\_\_



NOME: \_\_\_\_\_

ESCOLA: \_\_\_\_\_ TURMA: \_\_\_\_\_


DATA: IBIÚNA, 26 DE NOVEMBRO DE 2021

DISCIPLINA: ARTES

**PINTE A OBRA DE ROMERO BRITTO :**



**" O GATO "**  
**ROMERO BRITTO**





## REFERÊNCIAS

[atividadesparaeducadores.blogspot.com](http://atividadesparaeducadores.blogspot.com)

[atividadespedagogicas.net](http://atividadespedagogicas.net)

[conhecimentosetransformacao.blogspot.com](http://conhecimentosetransformacao.blogspot.com)

[lereaprender.com.br](http://lereaprender.com.br)