

E.M “ALICE VIEIRA DE CAMARGO”

NOME:

4º ANO A

16ª APOSTILA

MINHAS ATIVIDADES



REFERENTES AOS DIAS: 22.23.24.25 E 26 DE NOVEMBRO.

PROFESSORA: BIANCA MIRANDA

NOME: _____

ESCOLA: _____ TURMA: _____

DATA: IBIÚNA, 22 DE NOVEMBRO DE 2021 _____

DISCIPLINA: GEOGRAFIA _____

1. Observe o mapa e responda as questões



2. Pinte de vermelho o estado onde você mora.

3. Qual a capital do seu estado?

4. Em qual região do Brasil você mora?

5. Identifique, no mapa, outros estados que compõem essa região.

NOME: _____

ESCOLA: _____ TURMA: _____

DATA: IBIÚNA, 22 DE NOVEMBRO DE 2021 _____

DISCIPLINA: GEOGRAFIA _____

Mapa do Brasil

1. Escreva as siglas dos Estados no mapa. Depois, pinte de amarelo o Estado onde você mora.



NOME: _____

ESCOLA: _____ TURMA: _____

DATA: IBIÚNA, 22 DE NOVEMBRO DE 2021 _____

DISCIPLINA: LÍNGUA PORTUGUESA _____

SINÔNIMO E ANTÔNIMO

*** Antônimo é o contrário de alguma coisa.**

Exemplo: Antônimo de bonito é feio.

*** Sinônimo é o mesmo que alguma coisa. Exemplo:**
Sinônimo de bonito é lindo.

1) Dê o sinônimo usando as palavras do retângulo :

alegre - bicho - alimento - lindo - morada - enorme - inteligente
enxergar - automóvel - pessoa

bonito = _____

esperto = _____

grande = _____

animal = _____

casa = _____

carro = _____

gente = _____

olhar = _____

feliz = _____

comida = _____

2) Reescreva a frase substituindo a palavra sublinhada por seu antônimo.

a) O caçador é muito corajoso.

O caçador é muito medroso.

b) Gosto de café bem forte.

c) A seleção do Brasil poderá perder o jogo.

d) Faço os deveres bem depressa.

e) Devemos deixar as luzes sempre acesas durante o dia.

NOME: _____



















ESCOLA: _____ TURMA: _____

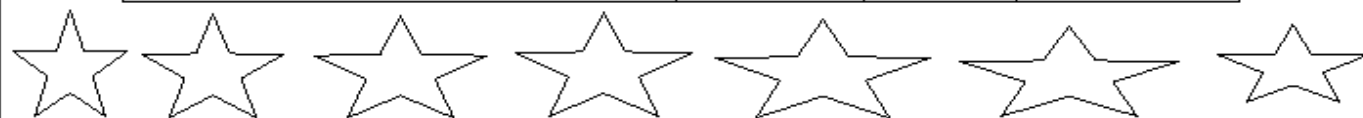
DATA: IBIÚNA, 22 DE NOVEMBRO DE 2021 _____

DISCIPLINA: MATEMÁTICA _____

QUAL É O RESULTADO?

Resolva no caderno e pinte os resultados corretos:

	a) $357 + 383 =$	640	740	521	
	b) $973 + 894 =$	1894	573	1867	
	c) $957 + 844 =$	6531	6431	1801	
	d) $560 + 39 + 2 =$	610	601	600	
	e) $907 + 984 =$	1981	1891	1291	
	f) $972 + 234 =$	1206	1307	1306	
	g) $500 - 46 =$	545	444	454	
	h) $80 - 37 =$	43	40	47	
	i) $900 - 754 =$	146	174	243	
	j) $921 - 234 =$	574	687	786	
	k) $50 - 44 =$	6	50	14	
	l) $858 - 6 =$	852	271	853	



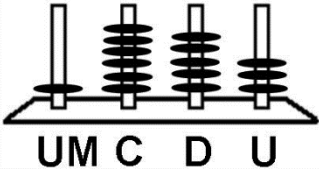
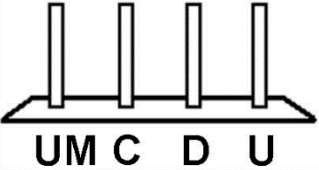
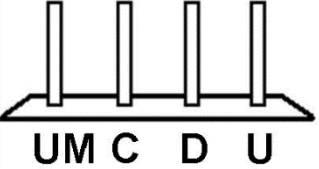
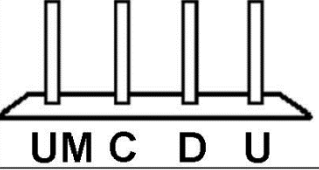
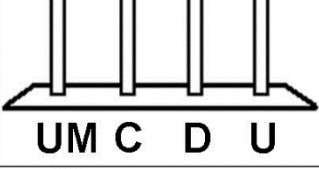
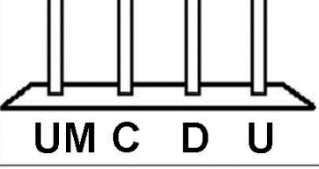
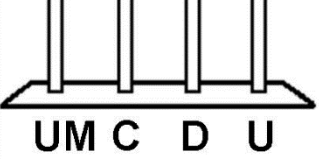
NOME: _____

ESCOLA: _____ TURMA: _____

DATA: IBIÚNA, 23 DE NOVEMBRO DE 2021 _____

DISCIPLINA: MATEMÁTICA _____

- Represente no ábaco o número indicado, e, em seguida, escreva a decomposição:

Número	Número no Ábaco	Decomposição	Escrita por extenso
1 6 5 3	 UM C D U	$100 + 600 + 50 + 3$	<i>Um mil, seiscientos e cinquenta e seis</i>
1 7 5 3	 UM C D U		
1 8 5 3	 UM C D U		
1 9 5 3	 UM C D U		
2 1 5 3	 UM C D U		
2 2 5 3	 UM C D U		
2 4 5 3	 UM C D U		



NOME: _____

ESCOLA: _____ TURMA: _____

DATA: IBIÚNA, 23 DE NOVEMBRO DE 2021 _____

DISCIPLINA: HISTÓRIA _____

CRUZADINHA VISUAL DOS MEIOS DE TRANSPORTES



NOME: _____

ESCOLA: _____ TURMA: _____

DATA: IBIÚNA, 24 DE NOVEMBRO DE 2021 _____

DISCIPLINA: MATEMÁTICA _____

Situações problema de divisão e multiplicação
Matemática

SUPERMERCADO

Maçã ou pera – o quilograma	R\$ 4,00
Uva – o quilograma	R\$ 6,00
Caqui – a dúzia	R\$ 2,00
Alface crespa – o pé	R\$ 1,00
Batata – o quilograma	R\$ 4,00
Cebola – o quilograma.....	R\$ 2,00
Ovos – 6 unidade.....	R\$ 2,00

Veja o preço destes alimentos e resolva as situações problema:

1. Calcule quanto o Sr. João gastou comprando estas quantidades:

2 kg de maçã	1 kg e meio de pera	2 kg de uva	2 dúzias e meia de caqui
5 pés de alface crespa	6 kg de batata	3 kg de cebola	3 dúzias de ovos

NOME: _____

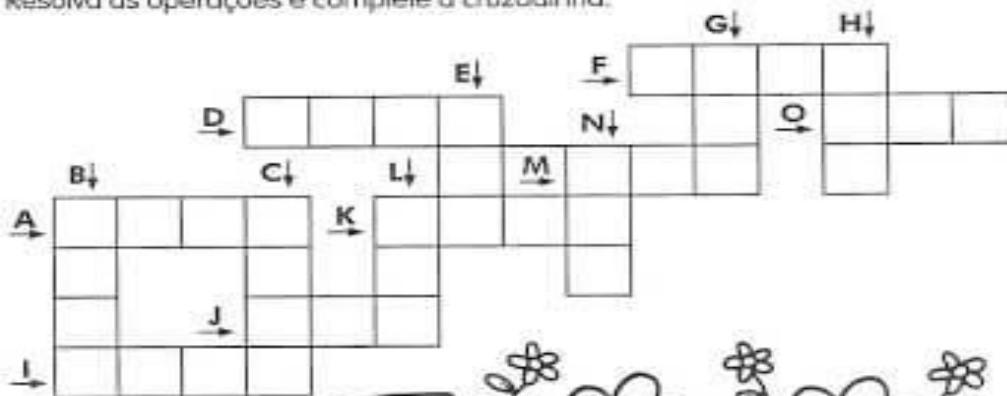
ESCOLA: _____ TURMA: _____

DATA: IBIÚNA, 24 DE NOVEMBRO DE 2021 _____


DISCIPLINA: MATEMÁTICA _____

MULTIPLICANDO E CRUZANDO

Resolva as operações e complete a cruzadinha.



- | | |
|----|---------------------|
| A) | $568 \times 4 =$ |
| B) | $656 \times 4 =$ |
| C) | $248 \times 9 =$ |
| D) | $536 \times 4 =$ |
| E) | $82 \times 5 =$ |
| F) | $442 \times 4 =$ |
| G) | $130 \times 6 =$ |
| H) | $420 \times 2 =$ |
| I) | $2\ 431 \times 2 =$ |
| J) | $124 \times 3 =$ |
| K) | $1\ 023 \times 3 =$ |
| L) | $44 \times 8 =$ |
| M) | $35 \times 4 =$ |
| N) | $33 \times 6 =$ |
| O) | $105 \times 4 =$ |



NOME: _____

ESCOLA: _____ TURMA: _____

DATA: IBIÚNA, 25 DE NOVEMBRO DE 2021 _____

DISCIPLINA: CIÊNCIAS _____

6. ENUMERE AS ETAPAS DAS TRANSFORMAÇÕES DOS ALIMENTOS.



A) OS TOMATES E OS PÃES FICARAM:

MOFOS

ESTRAGADOS

MOLHADOS

B) OS ALIMENTOS ESTRAGADOS FICAM COM:

MAU CHEIRO

SABOR HORRÍVEL

NORMAL

C) FAÇA O DESENHO DE UMA FRUTA ESTRAGADA.



Figuras extraídas de site:
<http://br.aspectphotos.com>

Atividade adaptada para o 5º ano do E.F. Elaborada pela professora Maria Madalena Dornelas Borges.

NOME: _____

ESCOLA: _____ TURMA: _____

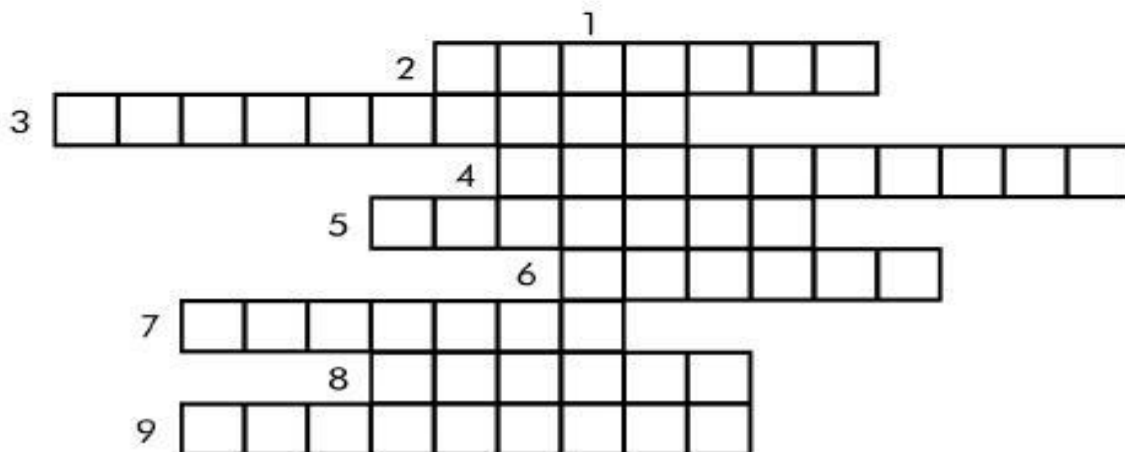
DATA: IBIÚNA, 25 DE NOVEMBRO DE 2021 _____

DISCIPLINA: LÍNGUA PORTUGUESA _____

16. COMPLETE COM ADJETIVOS A CRUZADINHA:



1. MENINO QUE TEM CORAGEM, MENINO.....
2. BOLETIM DA ESCOLA, BOLETIM.....
3. FILME QUE ASSUSTA, FILME.....
4. AQUELE QUE TEM PREGUIÇA, É.....
5. REVISTA DA SEMANA, REVISTA.....
6. FESTA DO MÊS DE JUNHO, FESTA.....
7. QUEIJO DE MINAS, QUEIJO.....
8. PAGAMENTO DE CONTA FEITO POR MÊS, PAGAMENTO.....
9. QUEM TEM CARINHO POR OUTRA PESSOA É.....



NOME: _____

ESCOLA: _____ TURMA: _____

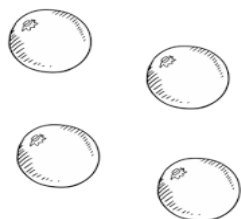
DATA: IBIÚNA, 26 DE NOVEMBRO DE 2021 _____

DISCIPLINA: MATEMÁTICA _____


1. Divida igualmente todos os itens. Faça as contas.



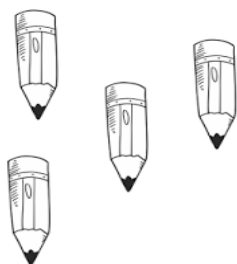
Divida 20 bonecas entre 4 crianças.



Divida 35 laranjas entre 5 pessoas.



Divida 64 peixes entre 8 aquários.



Divida 50 lápis entre 2 estojos.

NOME: _____


ESCOLA: _____ TURMA: _____

DATA: IBIÚNA, 26 DE NOVEMBRO DE 2021 _____

DISCIPLINA: LÍNGUA PORTUGUESA _____

1- LEIA OS TEXTOS COM ATENÇÃO E RESPONDA:

Venha comemorar
comigo meu 6º
aniversário!
Dia 5/08, às
18 hs, no Clube
Municipal.



Adriano

1

Amiga, estou com muita
saudades de você!
Como está? Quando vem
nos visitar?
Todo mundo aqui está
mandando um beij.
e torcendo para vc

2

o tempo eh lento d+
para os q esperam.
Rápido d+ para os q
temem. Mas p os q
amam, o tempo eh
eterno.
bjs!!!

3

TÁ FICANDO CARECA
QUE NEM EU Ó!



4

A- EM QUAL DOS QUADROS ESTÁ O TRECHO DE
UMA CARTA? _____

B- QUAL O OBJETIVO DO TEXTO DO PRIMEIRO
QUADRO? _____

C- QUAL O GÊNERO TEXTUAL UTILIZADO NO
QUADRO 4? _____

D- O QUE SIGNIFICA "BJS" EM UMA MENSAGEM
VIA CELULAR? _____


NOME: _____

ESCOLA: _____ TURMA: _____


DATA: IBIÚNA, 26 DE NOVEMBRO DE 2021 _____

DISCIPLINA: ARTES _____

PINTE A OBRA DE ROMERO BRITTO :



" O GATO "
ROMERO BRITO



REFERÊNCIAS

atividadesparaeducadores.blogspot.com

atividadespedagogicas.net

conhecimentosetransformacao.blogspot.com

lereaprender.com.br