

E.M. "UBIRAJARA PEDROSO DOMINGUES"

16ª APOSTILA

22/11/2021 A 26/11/2021

Entregar na escola dia 29/11/2021



NOME: _____

4º Ano

Professora: Vania Campos

Atividades a serem realizadas nesta semana:

Ciências – livro Ápis

Dia 22/11- páginas 131 e 132

Dia 23/11- páginas 134 e 135


Dia 24/11- páginas 136 e 137

Dia 25/11- páginas 148 e 149

Fazer também as atividades da apostila de Matemática e Língua Portuguesa.

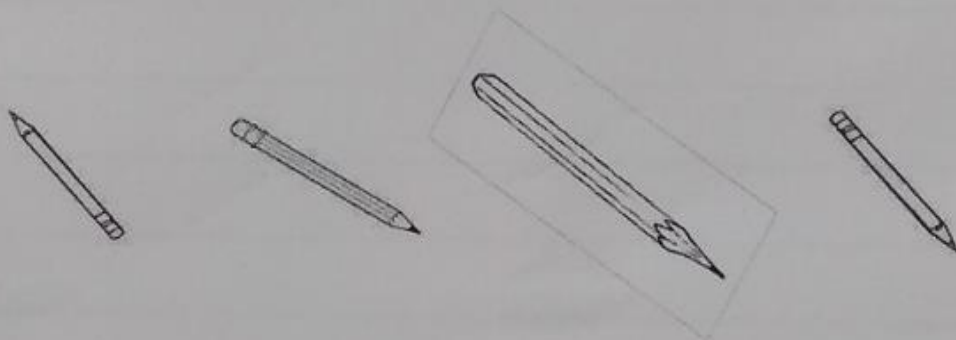
Nome: _____ Data: ____/____/____

01. Observe as embalagens abaixo:



Quantos copos de 250 ml podem ser servidos com um litro de leite?

02. Veja o lápis abaixo:



Circule os lápis que possuem o mesmo tamanho.

03. Dona Ana varre o quintal de sua casa sempre no mesmo dia da semana. Em janeiro de 2014, ela varreu o quintal nos dias 7, 14, 21 e 27, conforme o calendário abaixo:


D	S	T	Q	Q	S	S
			1	2	3	4
5	6	7	8	9	10	11
12	13	14	15	16	17	18
19	20	21	22	23	24	25
25	26	27	28	29	30	31

O dia da semana em que ela varreu o quintal foi _____.

Nome: _____

Data: ____/____/____

04. No bairro onde moro, o ônibus passa de 30 em 30 minutos. Se um ônibus passou às 10 horas, a que horas passará o próximo ônibus?



05. Paula recebeu de seu pai a quantia abaixo para comprar uma mochila.




A) Quanto custa a mochila?

B) Quanto em moeda seu pai lhe deu?

C) Quanto em cédula seu pai lhe deu?

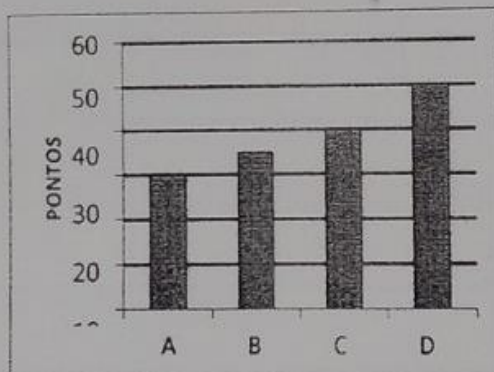
Nome: _____

01. Observe o relógio abaixo e marque a alternativa que corresponde a hora que ele indica:



- A) O ponteiro menor representa _____.
- B) O ponteiro maior representa _____.

02. O gráfico abaixo mostra a quantidade de pontos feitos pelos times A, B, C e D no campeonato de futebol da escola. De acordo com o gráfico, quantos pontos o time B conquistou?



03. Em um cinema há 56 fileiras, em cada fileira tem 7 cadeiras. Quantas cadeiras há ao todo nesse cinema?

Nome: _____ Data: ____/____/____

04. Dona Helena tem 148 balas para repartir entre seus 4 filhos. Quantas balas cada filho receberá?

Filho 01	Filho 02	Filho 03	Filho 04

Sobraram balas? Quantas?

12) Resolva com atenção:

$$\begin{array}{r} 1327 \\ + 2541 \\ \hline \end{array}$$

$$\begin{array}{r} 2546 \\ + 1523 \\ \hline \end{array}$$

$$\begin{array}{r} 4487 \\ + 1426 \\ \hline \end{array}$$

$$\begin{array}{r} 3021 \\ + 3623 \\ \hline \end{array}$$

$$\begin{array}{r} 6213 \\ + 2562 \\ \hline \end{array}$$

$$\begin{array}{r} 6387 \\ - 2470 \\ \hline \end{array}$$

$$\begin{array}{r} 8888 \\ - 5632 \\ \hline \end{array}$$

$$\begin{array}{r} 4563 \\ - 2141 \\ \hline \end{array}$$

$$\begin{array}{r} 1327 \\ - 1213 \\ \hline \end{array}$$

$$\begin{array}{r} 7806 \\ - 2702 \\ \hline \end{array}$$

15) Pinte, da mesma cor, cartelas que indicam o mesmo valor:

2×2

8×8

25

100

10×10

4×4

9

1

7×7

1×1

16

81

5×5

3×3

4

36

6×6

9×9

64

49

Nome: _____ Data: ____/____/____

COMPOSIÇÃO E DECOMPOSIÇÃO (EF04MA01)

DECOMPONHA OS NÚMEROS:

NUMEROS	CENTENA	DEZENA	UNIDADE
25			
41			
387			
596			

FAÇA COMO NO EXEMPLO:

5 DEZENAS e 4 UNIDADES	$50 + 4 = 54$
3 DEZENAS e 8 UNIDADES	
6 DEZENAS e 1 UNIDADE	
9 CENTENAS, 8 DEZENAS e 7 UNIDADES	
6 CENTENAS, 5 DEZENAS e 4 UNIDADES	

LINK

<http://www.escolagames.com.br/jogos/blocosEspaciais/>

ATIVIDADE 3

DOBRO e TRIPLO (EF03MA07)

MULTIPLICAÇÃO (EF04MA06)

ANTECESSOR e SUCESSOR (EF04MA01)

O QUE É, O QUE É?

SOU O DOBRO DE 16 - 12: _____

SOU O TRIPLO DE 50 + 50: _____

SOU O DOBRO DE 100 - 10: _____

SOU O TRIPLO 5 + 5: _____

VENHO ANTES DO NÚMERO 1.000: _____

SOU O SUCESSOR DE 999: _____

ESTOU ENTRE O 499 e o 501: _____

SOU O SUCESSOR DE 799: _____



Nome: _____

Data: ____/____/____

GATOS



Observe a ilustração ao lado e responda:

a) Quantos gatos há na ilustração?

2- Siga as orientações e pinte os gatos de:

- a) azul o 7º gato.
- b) amarelo o gato que está abaixo do 10º gato.
- c) laranja o que está à esquerda do 2º gato.
- d) marrom o 15º gato.
- e) vermelho o gato que está à esquerda do 6º gato.
- f) cinza o que está acima do 13º gato.

Dando nome aos gatos...

3- Escreva o número correspondente a cada gato de acordo com o nome. Para isso, leia com atenção as dicas:

- a) Paixonildo é o gato apaixonado, cheio de corações. _____
- b) Mimoso é o gato que está do lado esquerdo do Teco. _____
- c) Teco ama listras. _____
- d) Já as listras do Mel não são nada retas, ele está debaixo do seu amigo o gato Florido. _____
- e) Plínio e Blínio são gêmeos. _____ e _____

Nome: _____ Data: ____/____/____

SOCORRO!

Tropecei no ferro
e dei um berro!

Corri do cachorro
e subi um morro
Socorro!

Tranquei o cachorrão
no barracão.

Escrevi Bezerra e
não fiz nenhum erro!

01. Preencha as lacunas com r ou rr

- A) cacho__o B) ba__ata C) fe__adura D) pe__e__eca
E) se__ote F) me__enda G) fu__adeira H) mo__o
I) beze__o J) ba__aca

02. Divida as sílabas das palavras abaixo.

- A) Tranquei: _____ C) Ferro: _____
B) Cachorrão: _____ D) Colce: _____

3. Escreva com letra cursiva as frases abaixo:

A) A aranha arranha a porta.

B) Eu moro onde o morro está.

C) O careta dirigia a carreta pela estrada

Nome: _____

Data: ____/____/____

Observe as cenas e crie uma história:

COMEÇO DA HISTÓRIA



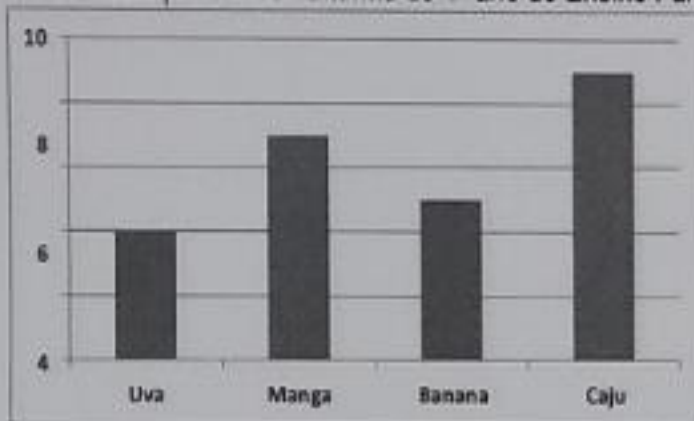
MÉIO DA HISTÓRIA



FINAL DA HISTÓRIA



01. Pesquisa sobre as frutas preferidas na turma do 4º ano do Ensino Fundamental.



A) Qual a fruta preferida por essa turma?

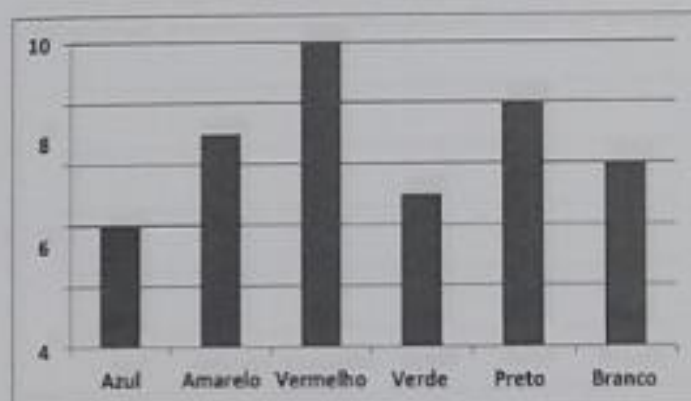
B) Qual a fruta que as crianças menos gostam?

C) De acordo com o gráfico, preencha o quadro.

FRUTAS	QUANTIDADES
UVA	
MANGA	
BANANA	
CAJU	

D) Agora você é capaz de dizer o total de pessoas que fizeram parte da pesquisa. Quantas pessoas participaram?

02. Pesquisa sobre as cores preferidas na turma do 2º ano do Ensino Fundamental.



A) Qual a cor preferida na turma do 2º ano?

B) Qual a cor que os alunos do 2º ano gostam menos?

C) De acordo com o gráfico preencha o quadro.

FRUTAS	QUANTIDADES
AZUL	
AMARELO	
VERMELHO	
VERDE	
PRETO	
BRANCO	

D) Agora você é capaz de dizer o total de pessoas que fizeram parte da pesquisa. Quantas pessoas participaram?

