



Prefeitura da Estância Turística de  
**IBIÚNA**  
TRANSFORMAÇÃO RESPONSÁVEL. CUIDANDO DE PESSOAS.



E.M. “Prof.<sup>a</sup> Márcia Belmiro do Lago”

Educação Infantil e Ensino Fundamental

Estrada Municipal do Verava, Km05 - S/N. Ibiúna/SP

Professora: Márcia De Oliveira Martins

Ano/Turma: 2021/ 1º Ano A

Nome do Aluno: \_\_\_\_\_

Atividade 15º Apostila



## Roteiro de Atividades 15° Apostila

22/11/21	LÍNGUA PORTUGUESA: QUESTÃO: 01 ;02	MATEMÁTICA: QUESTÃO:01
23/11/21	LÍNGUA PORTUGUESA: QUESTÃO: 03;04	MATEMÁTICA: QUESTÃO:02
24/11/21	LÍNGUA PORTUGUESA: QUESTÃO: 05;06	MATEMÁTICA: QUESTÃO:03
25/11/21	LÍNGUA PORTUGUESA: QUESTÃO: 07;08	MATEMÁTICA: QUESTÃO:04
26/11/21	LÍNGUA PORTUGUESA: QUESTÃO: 09;10; 11	MATEMÁTICA: QUESTÃO:05;06
29/11/21	LÍNGUA PORTUGUESA: QUESTÃO:12; 13	MATEMÁTICA: QUESTÃO:07
30/11/21	LÍNGUA PORTUGUESA: QUESTÃO: 14	MATEMÁTICA: QUESTÃO:08
01/12/21	LÍNGUA PORTUGUESA: QUESTÃO:15	MATEMÁTICA: QUESTÃO:09
02/12/21	LÍNGUA PORTUGUESA: QUESTÃO: 16	MATEMÁTICA: QUESTÃO:10
03/12/21	LÍNGUA PORTUGUESA: QUESTÃO: 17	MATEMÁTICA: QUESTÃO:11;12
06/12/21	LÍNGUA PORTUGUESA: QUESTÃO: 18	MATEMÁTICA: QUESTÃO:13;14
07/12/21	LÍNGUA PORTUGUESA: QUESTÃO: 19	MATEMÁTICA: QUESTÃO:15;16
08/12/21	LÍNGUA PORTUGUESA: QUESTÃO: 20	MATEMÁTICA: QUESTÃO:17;18
09/12/21	LÍNGUA PORTUGUESA: QUESTÃO:21	MATEMÁTICA: QUESTÃO:19;20
10/12/21	LÍNGUA PORTUGUESA: QUESTÃO: 22	MATEMÁTICA: QUESTÃO:21;22

## LÍNGUA PORTUGUESA

01) (P03039117) Faça um X no quadradinho onde aparecem somente letras.



Ouçá o texto.

02) (P01431617) Faça um X no quadradinho onde aparece a letra que você ouviu.

A E

B L

C M

D N

03) (P02033917) Veja a figura abaixo.



Qual é o nome dessa figura?

A BOLO

B MOTO

C POÇO

D TOCO

04) (P01432317) A professora da turma do 1º ano escreveu no mural dos aniversariantes do mês os nomes dos alunos Mateus, Gustavo, Fernanda e Júlia. Ela escreveu esses nomes em uma lista organizada em ordem alfabética.

Qual é a ordem em que esses nomes aparecem nessa lista no mural de aniversariantes do mês?


A FERNANDA, JÚLIA, GUSTAVO, MATEUS.

B FERNANDA, GUSTAVO, JÚLIA, MATEUS.

C GUSTAVO, JÚLIA, MATEUS, FERNANDA.

D MATEUS, GUSTAVO, FERNANDA, JÚLIA.

Ouçá o texto.

05) (P01432117) Qual é a palavra que dá nome à imagem  ?

- A UVA
- B MULA
- C LUVA
- D LUA


Ouçá o texto.

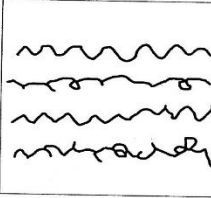
06) (P01431817) Nesse texto, as palavras que rimam são


- A CANSA – MEXE.
- B CHATEIA – MEIA.
- C POESIA – PULGA.
- D ZUMBIDO – ABELHA.


P0101

07) (P01431317) Faça um X no quadradinho onde aparecem letras.

A 

B 

C 

D 

08) (P01432417) Uma loja de produtos para cães decidiu dar brindes para os seus clientes que adotaram um cão no mês de dezembro. A dona da loja anotou os nomes dos animais Mel, Tuca, Zeus e Amora em uma lista em ordem alfabética para que os clientes pudessem retirar o brinde.

Qual é a ordem em que esses nomes aparecem na lista da loja?

- A ZEUS, MEL, TUCA, AMORA.
- B AMORA, MEL, TUCA, ZEUS.
- C MEL, TUCA, ZEUS, AMORA.
- D AMORA, TUCA, ZEUS, MEL.

Ouçã o texto.

09) (P01404117) Qual é a palavra que você ouviu?


A CAFÉ

B CASINHA

C CERCADINHA

D CIPÓ

10) (P02029817) **Veja a figura abaixo.**



Qual é o nome dessa figura?

A CABO

B CAMA

C GALA

D GATO

Ouçã o texto.

11) (P01403917) Faça um X no quadradinho da letra que você ouviu.

A E

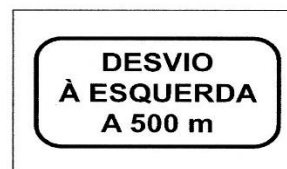
B M

C N

D Z

12) (P010219H6) **Faça um X no quadradinho onde aparecem somente letras.**

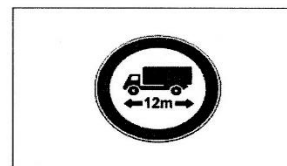
A



B



C



D



13) (P01432217) O dono de um mercado fez uma lista para os clientes identificarem os preços da couve, repolho, salsa, alface. Ele organizou essa lista em ordem alfabética.

Qual é a ordem em que os nomes dos alimentos apareceram nessa lista?

- A COUVE, REPOLHO, SALSA, ALFACE.     B ALFACE, SALSA, REPOLHO, COUVE.  
 C REPOLHO, ALFACE, COUVE, SALSA.     D ALFACE, COUVE, REPOLHO, SALSA.

14) (P03135465) **Faça um X no quadradinho onde aparecem as letras que você ouviu.**

- A M D F                                     B M T L  
 C N D E                                     D N T F

**Ouçã o texto.**

15) (P02033917) Nesse texto, as palavras que rimam são

- A NASCENTE – GENTE.                     B LUGAR – AONDE.  
 C COCO – COQUEIRO.                     D ÁGUA – TANQUE.


**Ouçã o texto.**

16) (P01431917) Qual é a palavra que dá nome à imagem ?



- A GORJETA                                     B GORDURA  
 C CORUJA                                     D COROA

17) (P01401217) **Veja a figura abaixo.**



Qual é o nome dessa figura?


- A CAIXA                       B CASA  
 C GAITA                       D GALA

18) (P030853H6) **Faça um X no quadradinho onde aparecem as letras que você ouviu.**

- A E H Z                       B E K V  
 C L K Z                       D M H V

P0101

19) (P031038H6) **Faça um X no quadradinho onde aparecem letras.**



20) (P030079G5) **Veja o texto abaixo.**

Nome	Telefone
MÁRCIA	3555-6932
MELISSA	3444-9654
	3666-4477
MONIQUE	3222-5632

De acordo com a ordem alfabética, qual é o nome que deve ficar no espaço vazio dessa lista?


- A MARÍLIA                       B MARISA  
 C MICHELE                       D MURILO

**Ouçã o texto.**

21) (P02029517) Nesse texto, as palavras que rimam sãõ

- |                            |                       |                            |                 |
|----------------------------|-----------------------|----------------------------|-----------------|
| <input type="checkbox"/> A | BONITOS – ESQUISITOS. | <input type="checkbox"/> B | DOCE – SALGADO. |
| <input type="checkbox"/> C | MARISCO – LAGOSTA.    | <input type="checkbox"/> D | SIRI – OSTRÀ.   |

22) (P01390617) **Veja a figura abaixo.**




Qual é o nome dessa figura?

- |                            |        |                            |        |
|----------------------------|--------|----------------------------|--------|
| <input type="checkbox"/> A | BANANA | <input type="checkbox"/> B | BATATA |
| <input type="checkbox"/> C | CABANA | <input type="checkbox"/> D | PATADA |





05) (M010605H6) Observe abaixo os livros que a professora Flora tem na prateleira.




Quantos livros a professora Flora tem, ao todo, nessa prateleira?

- A 6
- B 7
- C 8
- D 9

06) (M020320I7) Qual desses celulares é o maior?



07) (M011109H6) Observe abaixo o desenho de um par de brincos.



A forma desse par de brincos lembra qual figura geométrica?



08) (M020486I7) Observe, na imagem abaixo, os horários das atividades que Marcela, Ana e Paul fizeram ao longo do dia.

8 HORAS	10 HORAS	11 HORAS	13 HORAS	14 HORAS

De acordo com essa imagem, o que Marcela, Ana e Paula fizeram depois das 13 horas?



09) (M02028717) Observe abaixo o desenho de uma lata de chá.



A forma dessa lata de chá lembra qual figura geométrica?




10) (M01014817) Observe, no cesto abaixo, os ovos que Janete comprou.



Quantos ovos, ao todo, Janete comprou?

- A 3                      B 4  
C 5                      D 6





11) (M01038817) Observe abaixo os animais em uma floresta.



Qual é o animal que está mais perto do coelho?



12) (M01017117) Observe abaixo a quantidade de flores que quatro amigas levaram para a professora:


 CAMILA	 MARIANA
 GISELE	 LARISSA

Qual dessas amigas levou a menor quantidade de flores?

- A CAMILA.                      B GISELE.  
C LARISSA.                      D MARIANA.

M0101


13) (M010075GS) Observe abaixo o desenho de alguns pintinhos.



Quantos pintinhos há, no total, nesse desenho?

- A 5                                       B 6  
 C 7                                       D 9

14) (M020370E4) João levou uma bola para a escola. Na aula de Matemática, ele observou que a bola tinha o mesmo formato de um dos sólidos que estavam na mesa do professor. Observe abaixo.




A bola lembra a forma de qual sólido que está nessa mesa?

- A                                        B   
 C                                        D 

M0101

15) (M011101H6) Observe abaixo a quantidade de laranjas que quatro irmãos colheram em um pomar.



Qual desses irmãos colheu a maior quantidade de laranjas?

- A SILVIO.                                       B SAMUEL.  
 C RICARDO.                                       D RAMON.

16) (M01002617) Observe abaixo os objetos no desenho da cozinha de Lucas.



Qual é o objeto que está mais próximo da torneira?

- A                                        B   
 C                                        D 

17) (M010295E4) Observe as aves abaixo.

MU1U1



GALO



CORUJA



PAPAGAIO



PARDAL

Qual ave está entre o galo e o papagaio?

A



B



C



D



18) (M01042017) Amanda tem 5 máscaras, Patrícia tem 4 máscaras e Luan tem 6 máscaras. Quantas máscaras Amanda, Patrícia e Luan têm juntos?

A 5

B 9

C 14

D 15

M0101

19) (M01042417) Observe, na imagem abaixo, os horários das atividades que Lúcia fez pela manhã.

				
7 HORAS	8 HORAS	9 HORAS	10 HORAS	11 HORAS

De acordo com essa imagem, o que Lúcia fez antes das 8 horas?

A



B



C



D



20) (M01042217) Observe as estantes abaixo.



I



II



III



IV

Qual dessas estantes é a mais alta?

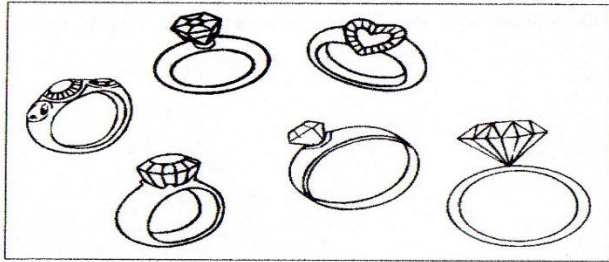
A I

B II

C III

D IV

21) (M010612H6) Observe abaixo os anéis que Gabriela tem.



Quantos anéis Gabriela tem, ao todo?

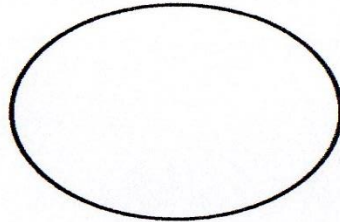
A 3

B 5

C 6

D 7

22) (M010225H6) Observe abaixo o desenho que Gláucia fez.



Qual figura geométrica Gláucia desenhou?

A CÍRCULO.

B QUADRADO.

C RETÂNGULO.

D TRIÂNGULO.