

E. M. PROF^a MÁRCIA BELMIRO DO LAGO

**ATIVIDADES REFERENTES AOS DIAS: 22,23,24,25,26,29,30/11
E 1,2,3,6,7,8,9,10/12.**

ATIVIDADES DE LÍNGUA PORTUGUESA

ALUNO:



PROFESSORA : SILVANA MORAES

1º ANO B

ROTEIRO PARA REALIZAÇÃO DAS ATIVIDADES DE
LÍNGUA PORTUGUESA E MATEMÁTICA

| DATA | MATÉRIA | ATIVIDADES | MATÉRIA | ATIVIDADES |
|-------|---------|------------|---------|------------|
| 22/11 | LP | 1/2 | M | 1/2 |
| 23/11 | LP | 3/4 | M | 3/4 |
| 24/11 | LP | 5/6 | M | 5/6 |
| 25/11 | LP | 7/8 | M | 7/8 |
| 26/11 | LP | 9/10 | M | 9/10 |

| DATA | MATÉRIA | ATIVIDADES | MATÉRIA | ATIVIDADES |
|-------|---------|------------|---------|------------|
| 29/11 | LP | 11 | M | 11 |
| 30/11 | LP | 12 | M | 12 |
| 01/12 | LP | 13 | M | 13 |
| 02/12 | LP | 14 | M | 14 |
| 03/12 | LP | 15 | M | 15 |

| DATA | MATÉRIA | ATIVIDADES | MATÉRIA | ATIVIDADES |
|-------|---------|------------|---------|------------|
| 06/12 | LP | 16/17 | M | 16/17 |
| 07/12 | LP | 18 | M | 18 |
| 08/12 | LP | 19 | M | 19 |
| 09/12 | LP | 20/21 | M | 20/21 |
| 10/12 | LP | 22/23 | M | 22/23 |

OBS: PARA A REALIZAÇÃO DAS ATIVIDADES DE PORTUGUÊS DAS
PÁG:02,09,11,14,18 E 23. .E MATEMÁTICA PÁG.23 VOU ENVIAR ÁUDIOS PELO
GRUPO DO WHATZAPP.

01) (P03039117) **Faça um X no quadradinho onde aparecem somente letras.**



Ouçá o texto.

02) (P01431617) **Faça um X no quadradinho onde aparece a letra que você ouviu.**

A E

B L

C M

D N

03) (P02033017) **Veja a figura abaixo.**



Qual é o nome dessa figura?

A BOLO

B MOTO

C POÇO

D TOCO

04) (P01432317) A professora da turma do 1º ano escreveu no mural dos aniversariantes do mês os nomes dos alunos Mateus, Gustavo, Fernanda e Júlia. Ela escreveu esses nomes em uma lista organizada em ordem alfabética.

Qual é a ordem em que esses nomes aparecem nessa lista no mural de aniversariantes do mês?

A FERNANDA, JÚLIA, GUSTAVO, MATEUS. B FERNANDA, GUSTAVO, JÚLIA, MATEUS.

C GUSTAVO, JÚLIA, MATEUS, FERNANDA. D MATEUS, GUSTAVO, FERNANDA, JÚLIA.

Ouçã o texto.

05) (P01432117) Qual é a palavra que dá nome à imagem ?



A UVA

B MULA

C LUVA

D LUA

Ouçã o texto.

06) (P01431817) Nesse texto, as palavras que rimam são



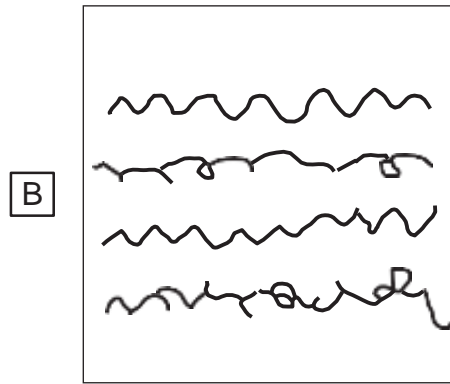

A CANSA – MEXE.

B CHATEIA – MEIA.

C POESIA – PULGA.

D ZUMBIDO – ABELHA.

07) (P01431317) **Faça um X no quadradinho onde aparecem letras.**



08) (P01432417) Uma loja de produtos para cães decidiu dar brindes para os seus clientes que adotaram um cão no mês de dezembro. A dona da loja anotou os nomes dos animais Mel, Tuca, Zeus e Amora em uma lista em ordem alfabética para que os clientes pudessem retirar o brinde.

Qual é a ordem em que esses nomes aparecem na lista da loja?

A ZEUS, MEL, TUCA, AMORA.


B AMORA, MEL, TUCA, ZEUS.

C MEL, TUCA, ZEUS, AMORA.

D AMORA, TUCA, ZEUS, MEL.

Ouçá o texto.

09) (P01404117) Qual é a palavra que você ouviu?

 A CAFÉ B CASINHA C CERCADINHA D CIPÓ10) (P02029817) **Veja a figura abaixo.**

Qual é o nome dessa figura?

 A CABO B CAMA C GALA D GATO

Ouçã o texto.

11) (P01403917) Faça um X no quadradinho da letra que você ouviu.

A E

B M

C N

D Z

12) (P010219H6) Faça um X no quadradinho onde aparecem somente letras.

A



B



C



D



13) (P01432217) O dono de um mercado fez uma lista para os clientes identificarem os preços da couve, repolho, salsa, alface. Ele organizou essa lista em ordem alfabética.

Qual é a ordem em que os nomes dos alimentos apareceram nessa lista?

- A COUVE, REPOLHO, SALSA, ALFACE. B ALFACE, SALSA, REPOLHO, COUVE.
 C REPOLHO, ALFACE, COUVE, SALSA. D ALFACE, COUVE, REPOLHO, SALSA.

14) (P031354G5) **Faça um X no quadradinho onde aparecem as letras que você ouviu.**

- A M D F B M T L
 C N D E D N T F

Ouçã o texto.

15) (P02033917) Nesse texto, as palavras que rimam são

- A NASCENTE – GENTE. B LUGAR – AONDE.
 C COCO – COQUEIRO. D ÁGUA – TANQUE.

Ouçã o texto.

16) (P014319I7) Qual é a palavra que dá nome à imagem ?




A GORJETA

B GORDURA

C CORUJA

D COROA

17) (P014012I7) **Veja a figura abaixo.**



Qual é o nome dessa figura?

A CAIXA

B CASA

C GAITA

D GALA

18) (P030853H6) **Faça um X no quadradinho onde aparecem as letras que você ouviu.**

A E H Z

B E K V

C L K Z

D M H V

19) (P031038H6) **Faça um X no quadradinho onde aparecem letras.**

A




B



C



D



20) (P030079G5) **Veja o texto abaixo.**

| Nome | Telefone |
|---------|-----------|
| MÁRCIA | 3555-6932 |
| MELISSA | 3444-9654 |
| | 3666-4477 |
| MONIQUE | 3222-5632 |

De acordo com a ordem alfabética, qual é o nome que deve ficar no espaço vazio dessa lista?

A MARÍLIA

B MARISA

C MICHELE

D MURILO

Ouçã o texto.

21) (P02029517) Nesse texto, as palavras que rimam sãõ

A BONITOS – ESQUISITOS.

B DOCE – SALGADO.

C MARISCO – LAGOSTA.

D SIRI – OSTRAS.

22) (P01390617) **Veja a figura abaixo.**



Qual é o nome dessa figura?

A BANANA

B BATATA

C CABANA

D PATADA

E .M. PROF^a MÁRCIA BELMIRO DO LAGO

ATIVIDADES REFERENTES AOS DIAS:

22,23,24,25,26,29,30/11 E 1,2,3,6,7,8,9,10/12

ATIVIDADES DE MATEMÁTICA



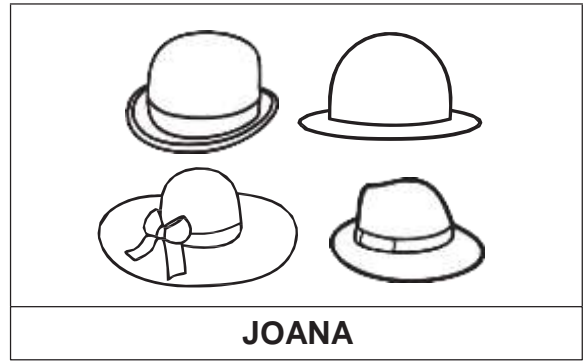

ALUNO:



PROFESSORA: SILVANA MORAES

1º ANO B

01) (M010662H6) Observe abaixo a quantidade de chapéus que quatro amigos têm.



Qual desses amigos tem a maior quantidade de chapéus?

- A CARLOS. B JOANA.
- C LUCAS. D MARA.

02) (M030140I7) Gustavo e Lucas jogam no mesmo time de futebol. Em uma partida, Gustavo fez 5 gols e Lucas fez 7 gols.

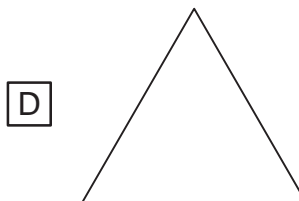

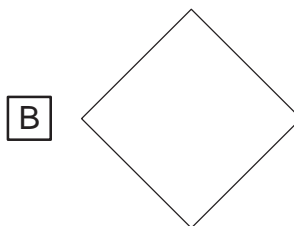
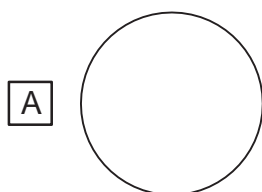
Quantos gols Gustavo e Lucas fizeram ao todo nessa partida?

- A 2 B 5
- C 11 D 12

03) (M010716H6) Observe abaixo o desenho de uma capa de celular que Tiago comprou.



A forma dessa capa de celular lembra qual figura geométrica?



04) (M020484I7) Observe os bancos abaixo.



Qual desses bancos é o mais baixo?


A I

B II

C III

D IV

05) (M010605H6) Observe abaixo os livros que a professora Flora tem na prateleira.



Quantos livros a professora Flora tem, ao todo, nessa prateleira?

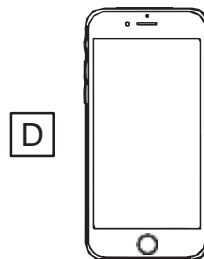
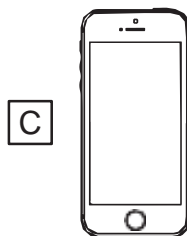
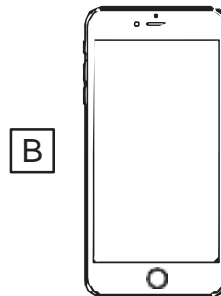
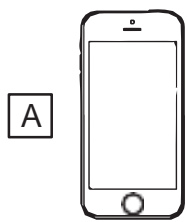
A 6

B 7


C 8

D 9

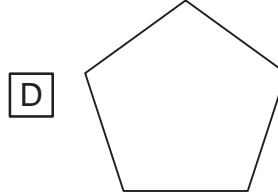
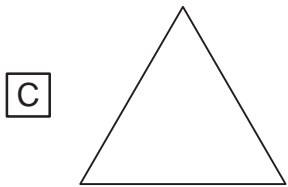
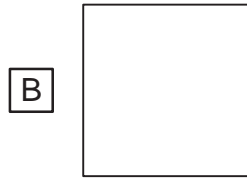
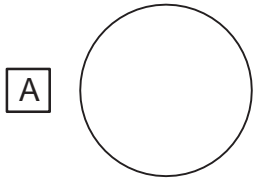
06) (M02032017) Qual desses celulares é o maior?



07) (M011109H6) Observe abaixo o desenho de um par de brincos.




A forma desse par de brincos lembra qual figura geométrica?



08) (M02048617) Observe, na imagem abaixo, os horários das atividades que Marcela, Ana e Paula fizeram ao longo do dia.

| | | | | |
|---------|----------|----------|----------|----------|
| | | | | |
| 8 HORAS | 10 HORAS | 11 HORAS | 13 HORAS | 14 HORAS |

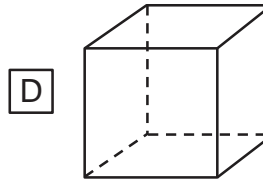
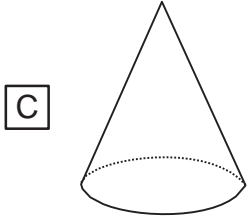
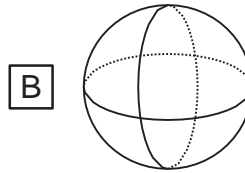
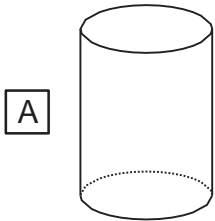
De acordo com essa imagem, o que Marcela, Ana e Paula fizeram depois das 13 horas?



09) (M02028717) Observe abaixo o desenho de uma lata de chá.



A forma dessa lata de chá lembra qual figura geométrica?



10) (M01014817) Observe, no cesto abaixo, os ovos que Janete comprou.



Quantos ovos, ao todo, Janete comprou?

A 3

B 4

C 5

D 6




11) (M01038817) Observe abaixo os animais em uma floresta.



Qual é o animal que está mais perto do coelho?



12) (M01017117) Observe abaixo a quantidade de flores que quatro amigas levaram para a professora.



Qual dessas amigas levou a menor quantidade de flores?


A CAMILA.

B GISELE.

C LARISSA.

D MARIANA.

13) (M010075G5) Observe abaixo o desenho de alguns pintinhos.



Quantos pintinhos há, no total, nesse desenho?


A 5

B 6

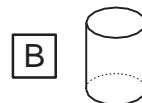
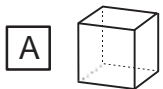
C 7

D 9

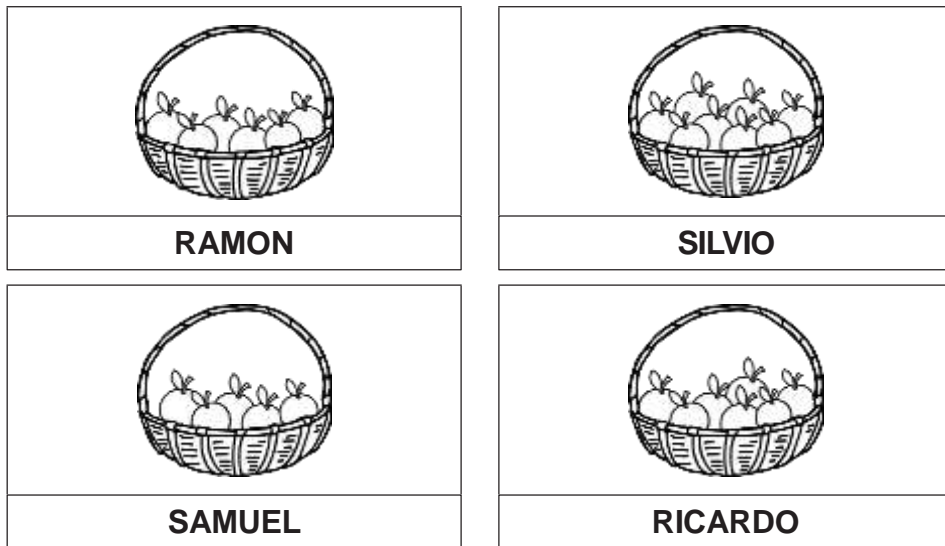
14) (M020370E4) João levou uma bola para a escola. Na aula de Matemática, ele observou que a bola tinha o mesmo formato de um dos sólidos que estavam na mesa do professor. Observe abaixo.



A bola lembra a forma de qual sólido que está nessa mesa?



15) (M011101H6) Observe abaixo a quantidade de laranjas que quatro irmãos colheram em um pomar.




Qual desses irmãos colheu a maior quantidade de laranjas?

- A SILVIO. B SAMUEL.
- C RICARDO. D RAMON.

16) (M010026I7) Observe abaixo os objetos no desenho da cozinha de Lucas.



Qual é o objeto que está mais próximo da torneira?

- A 
- B 
- C 
- D 

17) (M010295E4) Observe as aves abaixo.



GALO



CORUJA






PAPAGAIO



PARDAL

Qual ave está entre o galo e o papagaio?



18) (M01042017) Amanda tem 5 máscaras, Patrícia tem 4 máscaras e Luan tem 6 máscaras. Quantas máscaras Amanda, Patrícia e Luan têm juntos?

A 5

B 9

C 14

D 15


19) (M01042417) Observe, na imagem abaixo, os horários das atividades que Lúcia fez pela manhã.

| | | | | |
|---|---|---|--|---|
|  |  |  |  |  |
| 7 HORAS | 8 HORAS | 9 HORAS | 10 HORAS | 11 HORAS |

De acordo com essa imagem, o que Lúcia fez antes das 8 horas?



20) (M01042217) Observe as estantes abaixo.



I



II



III



IV

Qual dessas estantes é a mais alta?


A I

B II

C III

D IV

21) (M010612H6) Observe abaixo os anéis que Gabriela tem.



Quantos anéis Gabriela tem, ao todo?


A 3

B 5

C 6

D 7

22) (M010225H6) Observe abaixo o desenho que Gláucia fez.



Qual figura geométrica Gláucia desenhou?

A CÍRCULO.

B QUADRADO.

C RETÂNGULO.

D TRIÂNGULO.

23) DITADO DE NÚMEROS

ESCREVA NOS QUADRINHOS ABAIXO OS NÚMEROS QUE O(A) PROFESSOR(A) VAI DITAR.