

E. M. SALVADOR FERREIRA DE CAMPOS

APOSTILA Nº 16

PERÍODO: 29/11 A 10/12/2021

4º ANO - A

ENSINO FUNDAMENTAL

PROFª SANDRA

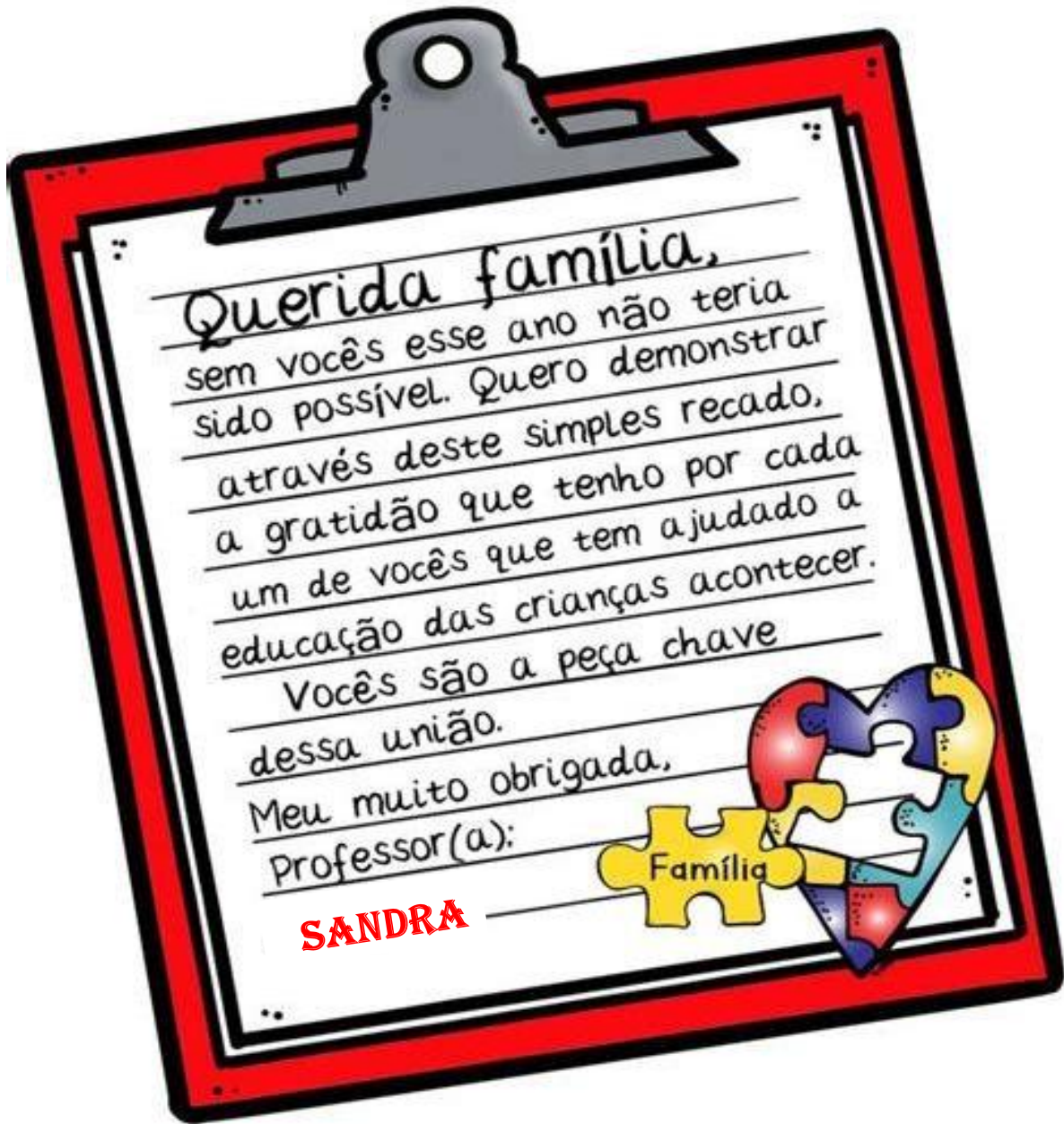


NOME: _____

E. M. SALVADOR FERREIRA DE CAMPOS

4º ANO - A


PROFª SANDRA



NOME: _____ DATA: 29/11/2021.

ATIVIDADE INTERDISCIPLINAR

1) LEIA:

	<p>OI CRIANÇAS</p> <p>VENHA PARTICIPAR DO NATAL DA ESCOLA!</p> <p>DIA: _____</p> <p>HORA: _____</p> <p>LOCAL: _____</p> <p>TIA</p>
---	---

A - MARQUE UM X NA OPÇÃO QUE MOSTRA PARA QUE SERVE ESSE TEXTO:

- () DAR UM RECADO.
- () CONTAR UMA PIADA.
- () CONVIDAR PARA UMA FESTA DE NATAL.
- () CONVIDAR PARA UM ANIVERSÁRIO.

B - COMPLETE.

QUAIS FORAM AS CONVIDADAS? _____

QUEM CONVIDOU? _____

2) OBSERVE O DESENHO E ESCREVA UMA FRASE:

A) INTERROGATIVA

B) EXCLAMATIVA

C) AFIRMATIVA



3) A ILUSTRAÇÃO ABAIXO É NATALINA.
QUANDO É COMEMORADO O NATAL?



- () NO DIA 24 DE JUNHO.
- () É HOJE.
- () NO DIA 1º DE MAIO.
- () NO DIA 25 DE DEZEMBRO.

NOME: _____ DATA: 30/11/2021.

ATIVIDADE INTERDISCIPLINAR

4) OBSERVE A ÁRVORE DE NATAL E MARQUE A OPÇÃO QUE MOSTRA QUAL FORMA GEOMÉTRICA ELA LEMBRA:



- () CÍRCULO
- () PARALELEPÍPEDO
- () TRIÂNGULO
- () QUADRADO

5) VEJA ESTA DO CASCÃO.



Copyright © 2000 Mauricio de Sousa Produções Ltda. Todos os direitos reservados.

7749

A - CASCÃO MARCOU UM ENCONTRO COM UMA GAROTA, ELA VAI ESTAR VESTIDA COM

- () UM VESTIDO ROSA.
- () UM BIQUÍNI AMARELO.
- () UMA BERMUDA ROXA.
- () UM MAIÔ VERDE.

B - COMO O ENCONTRO ERA NA PISCINA DO CLUBE, CASCÃO FOI VESTIDO DE Mergulhador:

- () PORQUE ESTAVA COM FRIO.
- () PORQUE ELE IA Mergulhar.
- () PARA SE PROTEGER DA ÁGUA.
- () PORQUE ELE ADORA ÁGUA.

NOME: _____ DATA: 01/12/2021

ATIVIDADE INTERDISCIPLINAR

6) LEIA O TEXTO COM ATENÇÃO.

POR QUE DORMIMOS?

GENTE DORME, CACHORRO DORME, PASSARINHO DORME, ATÉ MOSCA DORME!...
MAS VOCÊ JÁ PAROU PARA SE PERGUNTAR POR QUÊ?!

TUDO MUNDO SABE POR EXPERIÊNCIA PRÓPRIA QUE AQUELAS OITO HORINHAS NOTURNAS DE SONO SÃO IMPORTANTES. DÁ PARA NÃO DORMIR UMA NOITE OU OUTRA, MAS FICAR SEM DORMIR NÃO DÁ, A GENTE NÃO AGUENTA!

A - FAÇA UM X NA RESPOSTA QUE MOSTRA SOBRE O QUE O TEXTO FALA:

- () A NOITE.
- () OS PASSARINHOS.
- () O SONO.
- () OS CACHORROS.

7) FAÇA UM X ONDE ESTÁ ESCRITO O NOME DO DESENHO:

- A () LARANJADO
- B () LARANJAL
- C () LARANJA
- D () LARANJADA



8) FAÇA UM X NA PALAVRA QUE RIMA COM O NOME DO DESENHO:

- A () JOELHO
- B () CORAÇÃO
- C () COLAR
- D () ÓLEO



9) VEJA AS FIGURAS E FAÇA UM X NO QUADRINHO ABAIXO DA REVISTA.



A



B



C



D

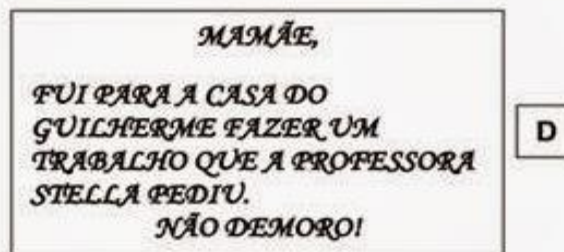
NOME: _____ DATA: 02/12/2021.

ATIVIDADE INTERDISCIPLINAR

10) VEJA AS FIGURAS E FAÇA UM X NO QUADRINHO QUE CORRESPONDE AO JORNAL.



11) VEJA AS FIGURAS E FAÇA UM X NO QUADRINHO DA PROPAGANDA.



12) COLORIR O ANIMAL QUE TEM O NOME COM QUATRO LETRAS.



A - PINTE O QUADRINHO QUE MOSTRA O QUE A PALAVRA É.

MONOSSÍLABA DISSÍLABA TRISSÍLABA POLISSÍLABA

NOME: _____ DATA: 03/12/2021.

ATIVIDADE INTERDISCIPLINAR

13) RISQUE A ALTERNATIVA QUE MOSTRA PARA QUE SERVE O CARTAZ:

- CONVIDAR PARA A FESTA DO GATO
- VENDER RAÇÃO DE ANIMAIS
- ANUNCIAR DOAÇÃO DE ANIMAIS
- INFORMAR SOBRE A VACINAÇÃO



14) DESCUBRA QUAL É A LETRA:

- A) É A 10ª LETRA DO ALFABETO. _____
- B) ESTÁ ENTRE AS LETRAS Q E S. _____
- C) ESTÁ DEPOIS DA LETRA K. _____
- D) É A 3ª CONSOANTE DA PALAVRA ESCOLA. _____
- E) É A PRIMEIRA LETRA DO ALFABETO. _____
- F) É A ÚLTIMA LETRA DO ALFABETO. _____
- G) É A 2ª VOGAL. _____

15) LEIA O TEXTO ABAIXO E RESPONDA.

BALEIA AZUL

MAIOR ANIMAL QUE JÁ EXISTIU NA TERRA, MAIOR ATÉ QUE OS DINOSSAUROS, ELA PODE TER UM FILHOTE A CADA DOIS ANOS.

ELA NASCE COM MAIS DE DUAS TONELADAS, DO TAMANHO DE UM ELEFANTE ADULTO.

DURANTE SEUS PRIMEIROS SETE MESES DE VIDA, OS BEBÊS TOMAM CERCA DE 380 LITROS DE LEITE POR DIA. NESTE RITMO, ENGORDAM RÁPIDO: 90 QUILOS POR DIA.
(TEXTO ADAPTADO FOLHINHA ON-LINE)

A) DE QUANTO EM QUANTO TEMPO A BALEIA PODE TER FILHOTES?

B) QUANDO OS BEBÊS BALEIAS NASCEM, QUANTOS LITROS DE LEITE ELES TOMAM?

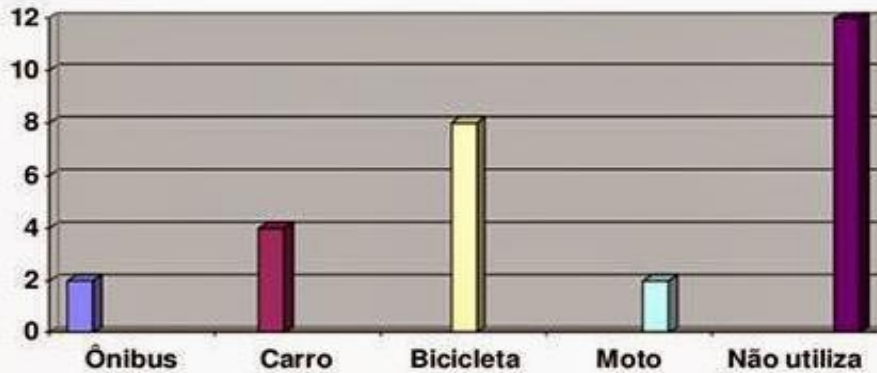
- () 180 LITROS
- () 280 LITROS
- () 380 LITROS
- () 90 LITROS



NOME: _____ DATA: 06/12/2021

ATIVIDADE INTERDISCIPLINAR

16) VOCÊ SABE QUAIS SÃO OS MEIOS DE TRANSPORTE MAIS UTILIZADOS PARA QUE SEUS COLEGAS DE SALA CHEGUEM A ESCOLA? DESCUBRA FAZENDO UMA LEITURA DO GRÁFICO E RESPONDA ÀS QUESTÕES A SEGUIR.



A - O meio de transporte mais usado pelos alunos da sala 14 é:

- () Moto
- () Bicicleta
- () Carro
- () Ônibus

B - A maioria dos alunos vai para a escola:

- () Sem meio de transporte
- () De transporte escolar
- () De carro
- () De transporte coletivo

17) NO TRAJETO DE CASA PARA A ESCOLA E DA ESCOLA PARA CASA, OBSERVAMOS DIVERSAS PLACAS DE SINALIZAÇÃO.

ENCAIXE AS PALAVRAS REFERENTES A CADA PLACA.

PROIBIDO ESTACIONAR	PARADA OBRIGATÓRIA	CRIANÇAS
VAGA PARA DEFICIENTE	ÁREA ESCOLAR	



NOME: _____ DATA: 07/12/2021

ATIVIDADE INTERDISCIPLINAR

ENTREVISTA

ENTREVISTE 3 PESSOAS E DESCUBRA O QUE CADA
UMA PENSA SOBRE O NATAL.

O QUE É O NATAL PARA VOCÊ?

ENTREVISTADO 1 _____

O QUE É O NATAL PARA VOCÊ?

ENTREVISTADO 2 _____

O QUE É O NATAL PARA VOCÊ?

ENTREVISTADO 3 _____



NOME: _____

DATA: 07/12/2021.

ATIVIDADE INTERDISCIPLINAR

A árvore de Beto

O Beto tinha muita vontade de ter uma árvore de Natal. Era o sonho dele. Uma árvore grande, como o da casa do Caloca. Mas o pai de Beto não podia comprar.

Todo ano ele prometia, mas todo ano acontecia alguma coisa e ele nunca podia dar a árvore para Beto.

Um dia, o Beto teve uma ideia.

Lá na nossa rua tem um terreno vazio, um terreno baldio. O Beto resolveu plantar uma árvore lá e esperar até que ela crescesse.

Limpou um pedaço do terreno... Arranjou um pouco de adubo com Seu Alexandre, o jardineiro...

Comrou uma muda pequenininha de pinheiro... E plantou no terreno.

Todos os dias, o Beto regava a mudinha dele. Revolveia a terra em volta, tirava os galhinhos secos. Vigiava para não subir formiga. Cuidava da plantinha como se fosse uma gatinha. E a plantinha foi crescendo, forte e bonita.

Eu não sei quanto tempo o Beto cuidou daquela planta. Foi muito tempo... Até que a árvore do Beto ficou grande, cheia de galhos, uma beleza! Prontinha para virar árvore de Natal.



Ruth Rocha

Interpretação de texto

Responda marcando X, de acordo com o texto que você acabou de ler:

1) Qual era o sonho de Beto?

- Plantar uma árvore.
- Ter uma árvore maior que a do Carlinhos.
- Ter uma árvore de Natal.

2) Por que o menino não realizava seu sonho?

- Porque ele se esquecia de pedir.
- Porque seu pai não tinha dinheiro para comprar.
- Porque ele não cuidava da árvore direito.

NOME: _____ DATA: 07/12/2021.

ATIVIDADE INTERDISCIPLINAR

3) O que Beto fez para realizar seu sonho?

- () Comprou uma mudinha de pinheiro e plantou num terreno baldio.
- () Pediu ao seu pai uma árvore de Natal.
- () Pediu ao Carlinhos a árvore de Natal da casa dele.

4) Quais os cuidados que Beto tinha com a mudinha todos os dias?

4) Encontre no texto e pinte a parte que mostra que Beto conseguiu realizar seu sonho. Copie aqui.

5) Retire do texto:

- a) O apelido do amigo de Beto. _____
- b) O nome do jardineiro. _____
- d) Duas palavras no diminutivo: _____

GRAMÁTICA

1) Reescreva as frases abaixo substituindo corretamente os nomes sublinhados por pronomes:

ELE, ELA

- a) Beto sonhava em ter uma árvore de Natal.
- b) A formiga era vigiada para não cortar as folhas da árvore.
- c) O galho seco era cortado por Beto.
- d) A árvore ficou grande e cheia de galhos, uma beleza!

2) Reescreva as frases substituindo as palavras repetidas por pronomes:

- a) O pai de Beto não podia comprar uma árvore. Todo ano o pai prometia, mas acontecia alguma coisa e nunca podia dar a árvore para Beto.

- b) Um dia, Beto teve uma ideia. O Beto resolveu plantar uma árvore no terreno baldio da rua e esperar até que ela crescesse.


3) Pinte os substantivos de vermelho e os adjetivos de amarelo.

- a) Uma árvore grande de Natal.
- b) Comprou um pinheiro pequenininho.
- c) Todo o dia tirava os galhos secos.
- d) E a plantinha foi crescendo forte e bonita.

NOME: _____ DATA: 08/12/2021

ATIVIDADE INTERDISCIPLINAR

♦ Escreva na Cruzadinha o nome dos enfeites que Beto colocou na árvore



1-

		N	
--	--	---	--

2-

	A			
--	---	--	--	--

3-

		T				
--	--	---	--	--	--	--

4-

		A	
--	--	---	--

5-

		L		
--	--	---	--	--

VAMOS MONTAR UMA LINDA ÁRVORE DE NATAL?
UTILIZE MATERIAIS DISPONÍVEIS PARA CRIAR UMA ÁRVORE DE NATAL.

NOME: _____ DATA: 09/12/2021

ATIVIDADE INTERDISCIPLINAR

RESOLVA AS OPERAÇÕES

$$\begin{array}{r} 95 \\ + \square 1 \\ \hline 11\square \end{array}$$



$$\begin{array}{r} 5 \\ \times \square \\ \hline 30 \end{array}$$

$$\begin{array}{r} 9\square \\ - 59 \\ \hline \square 6 \end{array}$$

$$\begin{array}{r} \square \\ \times 9 \\ \hline 36 \end{array}$$



$$\begin{array}{r} 6\square \\ - 51 \\ \hline \square 2 \end{array}$$



$$\begin{array}{r} \square 6 \\ + 32 \\ \hline 10\square \end{array}$$



$$\begin{array}{r} 1\square 0 \\ - 65 \\ \hline 3\square \end{array}$$

$$\begin{array}{r} \square 6 \\ \times \square \\ \hline 36 \end{array}$$

$$\begin{array}{r} 42 \\ + \square 2 \\ \hline 13\square \end{array}$$



$$\begin{array}{r} 95 \\ + \square 4 \\ \hline 14\square \end{array}$$



$$\begin{array}{r} \square 9 \\ - 2\square \\ \hline 22 \end{array}$$



$$\begin{array}{r} \square \\ \times 5 \\ \hline 30 \end{array}$$



$$\begin{array}{r} 20 \\ + 7\square \\ \hline \square 0 \end{array}$$

$$\begin{array}{r} \square \\ \times 2 \\ \hline 12 \end{array}$$

$$\begin{array}{r} \square \\ \times 5 \\ \hline 30 \end{array}$$

$$\begin{array}{r} \square 8 \\ + 65 \\ \hline 11\square \end{array}$$

$$\begin{array}{r} \square \\ \times 2 \\ \hline 6 \end{array}$$

$$\begin{array}{r} 78 \\ + \square 4 \\ \hline 16\square \end{array}$$



$$\begin{array}{r} \square 5 \\ \times \square \\ \hline 10 \end{array}$$

$$\begin{array}{r} 8\square \\ - 29 \\ \hline \square 6 \end{array}$$



AGORA CANTE UMA LINDA MÚSICA NATALINA.

NOME: _____ DATA: 10/12/2021

ATIVIDADE INTERDISCIPLINAR

PRODUÇÃO TEXTUAL



QUERIDO PAPAI NOEL

QUERO TE CONTAR ALGUMAS DAS COISAS REALMENTE BOAS
QUE FIZ ESTE ANO: _____

E, TAMBÉM, TE PEDIR ALGUNS PRESENTES NESTE NATAL:

_____. ESPERO POR VOCÊ!

UM BEIJO,





ATIVIDADES NO LIVRO APRENDER SEMPRE

SEQUÊNCIA 2

AULA 1 - ESCRITA DE CONTOS DE FADA – PÁG. 21/30.

(REALIZAR UMA PÁGINA POR DIA)

ATIVIDADES NO LIVRO EMAI

SEQUÊNCIA 9

ATIVIDADE 9.4 - MEDIDAS DE COMPRIMENTOS- PÁG. 61

SEQUÊNCIA 11

ATIVIDADE 11.1- CÁLCULO MENTAL – ESTIMATIVA – PÁG. 73

SEQUÊNCIA 14

ATIVIDADES: 14.1 – 14.2. 14.3 – MULTIPLICAÇÃO – PÁGINAS: 92 a 95

(REALIZAR UMA PÁGINA POR DIA)

REFERÊNCIAS

https://br.pinterest.com/pin/322500023322179369/feedback/?invite_code=d1d9289bd1da4d528661fbd342bf68da&sender_id=821414556944382438

https://br.pinterest.com/pin/140806229923757/feedback/?invite_code=e7788c1d2ba44b1ba43729a202cef5f&sender_id=821414556944382438

[https://mungfali.com/page/4DFD149B06B737CCE9344A7FAFFB6962D4D91786/recado_para_fam%C3%ADlia_%7C_frases_para_alunos,_mensagem_para http://wcbconde.blogspot.com/2011/11/capa-de_atividades-4-bimestre.html](https://mungfali.com/page/4DFD149B06B737CCE9344A7FAFFB6962D4D91786/recado_para_fam%C3%ADlia_%7C_frases_para_alunos,_mensagem_para_http://wcbconde.blogspot.com/2011/11/capa-de_atividades-4-bimestre.html)

https://www.portalescolar.net/2014/11/atividades-avaliativas_80.html?m=1

<http://atividades-escolares1.blogspot.com/2020/03/httpseducacaoetransformacaooficial.html?m=1>

https://br.pinterest.com/pin/147211481550226063/feedback/?invite_code=178559e3b16f4e288ee91183e57b7a77&sender_id=821414556944382438



Ufa, conseguimos!

Eu sei que já disse muitas vezes
que irei sentir saudades, mas meu
coração chega a ficar pequeno
lembrando de quantas coisas
passamos juntos, você cresceu
tanto, superou dificuldades,
amadureceu e eu sou grata por
participar de toda essa mudança.

**EU SEMPRE IREI ACREDITAR EM VOCÊ E
SEI QUE VOCÊ VAI BRILHAR!**

VOE, ALTO!

COM CARINHO, PROF.^a SANDRA