



Prefeitura da Estância Turística de  
**IBIÚNA**  
TRANSFORMAÇÃO RESPONSÁVEL. CUIDANDO DE PESSOAS.



E.M. "PROFESSORA MARCIA BELMIRO DO LAGO"

EDUCAÇÃO INFANTIL E ENSINO FUNDAMENTAL

ESTRADA MUNICIPAL DO VERAVA KM 05, S/Nº

**PROFESSORA: INAIARA RUBIA LUCIO MENDONÇA**

# **APOSTILA DE ATIVIDADES NÃO PRESENCIAIS 3º ANO A 15ª APOSTILA**


**22,23,24,25,26,29,30/11 E 01,02,03,06,07,08,09,10/12**

**NOME:** \_\_\_\_\_

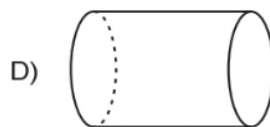
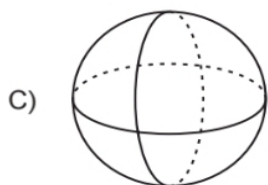
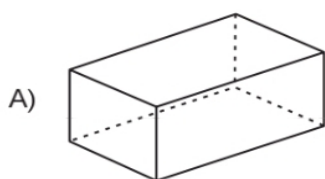
ATIVIDADES NÃO PRESENCIAIS DE MATEMÁTICA DIA 22/11/2021

M0301

01) (M01036417) Observe abaixo a imagem de uma peça de brinquedo de montar.



A forma dessa peça lembra qual figura geométrica?



02) (M01009017) Observe os números no quadro abaixo.

5 – 9 – 3 – 7

Qual desses números é o menor?

A) 5

B) 9

C) 3

D) 7

M0301

03) (M010426I7) Observe os instrumentos musicais abaixo.



Qual desses instrumentos musicais é o menor?

A I

B II

C III

D IV

04) (M020929H6) Observe abaixo a coleção de bonecas de pano de Fabiana.



Quantas bonecas de pano Fabiana tem, ao todo, nessa coleção?

A) 3

B) 5

C) 6

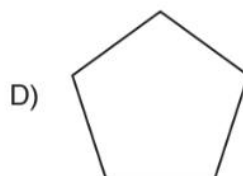
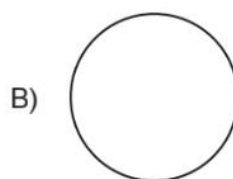
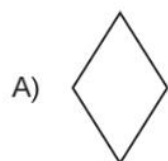
D) 7

M0301

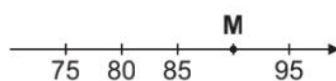
05) (M03001517) Observe abaixo a imagem do espelho da sala de Mirela.



A forma desse espelho lembra qual figura geométrica?



06) (M03006317) Observe a reta numérica abaixo. Ela está dividida em partes iguais.



O ponto M representa qual número nessa reta?

A) 94

B) 90

C) 86

D) 84

M0301

07) (M02048517) Observe, na imagem abaixo, os horários das atividades que Naiara fez em um dia.

				
6 HORAS	7 HORAS	9 HORAS	14 HORAS	16 HORAS

De acordo com essa imagem, o que Naiara fez antes das 7 horas?



08) (M010674H6) Resolva a operação abaixo.

$$7 + 8 + 1$$

Qual é o resultado dessa operação?

A) 7


B) 9

C) 15

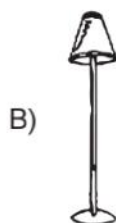
D) 16

M0301

09) (M02023417) Observe abaixo a sala da casa de Marina.



Qual é o objeto que está mais próximo da janela?



10) (M03044917S) Mariana comprou 3 metros de fita para enfeitar uma caixa de presente. Quantos centímetros de fita Mariana comprou para enfeitar essa caixa de presente?

A) 3

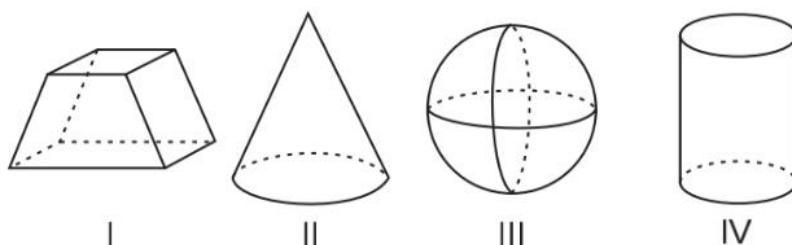
B) 30

C) 300

D) 3000

M0301

11) (M03003017) Observe abaixo as figuras geométricas.



Qual dessas figuras é um poliedro?

- A) I
- B) II
- C) III
- D) IV

12) (M02012617) Resolva a operação abaixo.

$$\begin{array}{r} 345 \\ + 223 \\ \hline \end{array}$$

Qual é o resultado dessa operação?

- A) 122
- B) 345
- C) 457
- D) 568

M0301

13) (M010133E4) Janete usou as moedas abaixo para comprar uma lapiseira.



Quantos reais ela usou para comprar essa lapiseira?



14) (M020582H6) Roberta comprou 2 caixas de caramelo, com 5 balas em cada uma. Quantas balas de caramelo Roberta comprou ao todo?

A) 5

B) 7

C) 10

D) 25



M0301

15) (M03038117) A viagem de Carmem será daqui a 5 meses. Quantos dias faltam para essa viagem de Carmem?

- A) 30
- B) 50
- C) 100
- D) 150

16) (M030985H6) Resolva a operação abaixo.

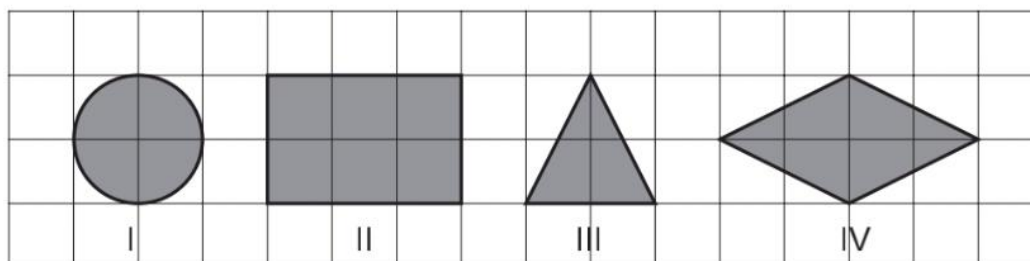
$$35 - 17$$

Qual é o resultado dessa operação?

- A) 18
- B) 22
- C) 35
- D) 52

M0301

17) (M010086H6) Observe as figuras geométricas desenhadas na malha quadriculada abaixo.



Qual dessas figuras é um retângulo?

- A) IV
- B) III
- C) II
- D) I

18) (M020526H6) Resolva a operação abaixo.

56
- 23
-----

Qual é o resultado dessa operação?

- A) 33
- B) 44
- C) 56
- D) 79

19) (M011247H6) Sofia comprou um apartamento no dia 20 de junho de 2010 e decidiu vender o apartamento depois de morar por exatos 7 anos.

Em qual data Sofia decidiu vender seu apartamento?

- A) 13 DE JUNHO DE 2010.
- B) 13 DE JUNHO DE 2017.
- C) 27 DE JUNHO DE 2010.
- D) 20 DE JUNHO DE 2017.

M0301

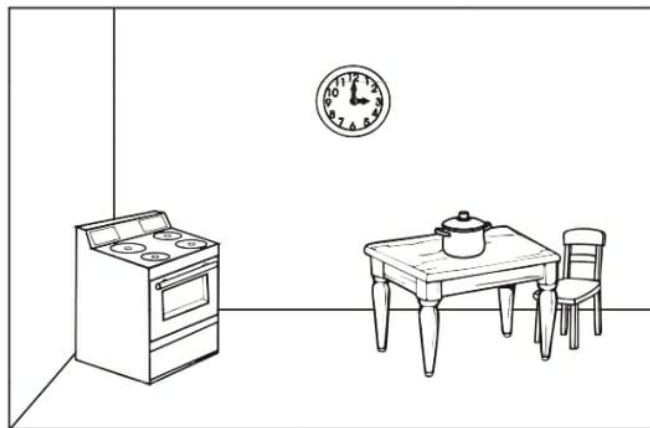
20) (M030321H6) Observe a sequência de números abaixo. Ela começa no número 54 e termina no número 62.

54	56	58		62
----	----	----	--	----

Qual é o número que está faltando nessa sequência?

- A) 59
- B) 60
- C) 61
- D) 63

21) (M020027G5) Observe abaixo alguns objetos da cozinha de Ana.



Qual é o objeto que está mais distante da cadeira?

- A)
- C)


- B)
- D)

22) (M040095H6) Um padeiro pesou a farinha que seria usada para fazer pães. Qual é a unidade de medida mais adequada para o padeiro registrar essa quantidade de farinha?

- A) L
- B) m
- C) kg
- D) km

P0301

01) (P01370117) **Veja a figura abaixo.**



Qual é o nome dessa figura?

- |         |         |
|---------|---------|
| A) BALA | B) DATA |
| C) MACA | D) PATA |

**Leia o texto abaixo.**

#### RINOCERONTE

O TAMANHO DOS RINOCERONTES PODE FAZER PARECER QUE ELES SÃO ANIMAIS CARNÍVOROS, MAS NA VERDADE SUA ALIMENTAÇÃO É COMPOSTA DE FOLHAS, FRUTAS, GRAMÍNEAS, CAULES E GALHOS. ESSES ANIMAIS DA SAVANA SÃO UMA DAS ESPÉCIES DE ANIMAIS MAIS AMEAÇADAS DO PLANETA. ESTIMA-SE QUE RESTEM APENAS 29 MIL RINOCERONTES NA NATUREZA, EM COMPARAÇÃO COM 500 MIL QUE EXISTIAM NO INÍCIO DO SÉCULO 20. UM DOS MOTIVOS PARA ISSO É A CAÇA PARA A VENDA DOS SEUS CHIFRES. O CHIFRE DE RINOCERONTE MAIS LONGO JÁ MEDIDO FOI DE 150 CENTÍMETROS [...].

Disponível em: <<https://www.dentrodahistoria.com.br/blog/educacao/curiosidades-animais-savana/>>. Acesso em: 22 set. 2020.  
Fragmento. (SUP02014717)

02) (P020701H6) No trecho "O CHIFRE DE RINOCERONTE MAIS **LONGO**...", o antônimo da palavra "LONGO" é

- |               |             |
|---------------|-------------|
| A) CARO.      | B) CURTO.   |
| C) PROCURADO. | D) VENDIDO. |

03) (P02054517) Qual é o assunto desse texto?

- |   |  |
|---|--|
| A) A AMEAÇA DE EXTINÇÃO DOS RINOCERONTES. | B) A VIDA DOS ANIMAIS DA SAVANA.                 |
| C) O TAMANHO DO CHIFRE DOS RINOCERONTES.  | D) O TIPO DE ALIMENTAÇÃO DOS ANIMAIS CARNÍVOROS. |

P0301

Leia o texto abaixo.

**O GATO DE LUNA**

O GATO MIMI VIVIA NA CASA DE LUNA. MIMI ERA UM GATO MUITO MIMADO. [...] LUNA QUERIA BRINCAR COM MIMI, MAS... O GATO SÓ QUERIA DORMIR. [...] CERTO DIA, UMA NOVIDADE ACONTECEU. O TITIO DE LUNA VEIO DO SÍTIO VISITAR SUA FAMÍLIA E UM PRESENTE LHE DEU.

O PRESENTE ERA UM CACHORRINHO, QUE TINHA O NOME DE TOTÓ. ERA UM CACHORRO ESPERTO QUE GOSTAVA MUITO DE BRINCAR. LOGO QUE CHEGOU A CASA, TUDO FOI CHEIRAR. [...]

O GATO QUE DORMIA SOSSEGADO, COM OS LATIDOS ACORDOU ASSUSTADO. DEU UMA OLHADA A SUA VOLTA E VIU LUNA BRINCANDO COM TOTÓ.

MAS VOCÊ PENSA QUE MIMI FICOU PREOCUPADO? QUE NADA! NA SUA CAMINHA CONTINUOU DORMINDO. [...]

TERRA, Elisângela. Disponível em: <<https://bit.ly/31fEjkb>>. Acesso em: 6 jun. 2019. Fragmento. (SUP020092H6)

04) (P02005717) Qual é a personagem principal dessa história?

- A) LUNA.
- B) MIMI.
- C) TITIO.
- D) TOTÓ.

P0301

05) (P02029717) **Veja a figura abaixo.**



Qual é o nome dessa figura?

- |         |         |
|---------|---------|
| A) BECA | B) PENA |
| C) RETA | D) TELA |

**Leia o texto abaixo.**

#### PETER PAN

PETER PAN É UM GAROTO QUE NÃO CRESCE. ELE VIVE EM UM LUGAR MÁGICO CHAMADO TERRA DO NUNCA COM SUA AMIGA, A FADA SININHO.

CERTO DIA, PETER FOI VISITAR WENDY E SEUS IRMÃOS [...]

QUANDO CHEGARAM LÁ, FORAM ATACADOS PELO CAPITÃO GANCHO, MAS CONSEGUIRAM ESCAPAR [...] PETER PAN CONSEGUIU SALVÁ-LOS JOGANDO GANCHO NO MAR QUE ATÉ HOJE, FOGE DO CROCODILO TIC-TAC [...]

365 Histórias Encantadas para divertir e sonhar. 1ª Edição: Culturama Editora e Distribuidora Ltda. Fragmento. (SUP02014217)

06) (P02053017) De acordo com esse texto, quem Peter Pan jogou no mar?

- |                 |              |
|-----------------|--------------|
| A) A SININHO.   | B) A WENDY.  |
| C) O CROCODILO. | D) O GANCHO. |

07) (P02053117) Qual é a personagem principal dessa história?

- |                    |               |
|--------------------|---------------|
| A) CAPITÃO GANCHO. | B) PETER PAN. |
| C) SININHO.        | D) WENDY.     |

P0301

Leia o texto abaixo.

**BOLO COMUM**

**INGREDIENTES**

- 1 XÍCARA DE LEITE
- 1 COLHER DE SOPA DE FERMENTO EM PÓ
- 3 XÍCARAS DE FARINHA DE TRIGO
- 3 XÍCARAS DE AÇÚCAR
- 3 OVOS
- 4 COLHERES DE MARGARINA

**MODO DE PREPARO**

BATER O AÇÚCAR, A MARGARINA E OS OVOS.  
DEPOIS ACRESCENTE A FARINHA DE TRIGO, O LEITE E POR  
ÚLTIMO O FERMENTO.  
UNTE A FORMA COM FARINHA.  
ASSE POR MAIS OU MENOS 40 MINUTOS.

Disponível em: <<https://www.tudogostoso.com.br/receita/91534-bolo-comum.html>>. Acesso em: 26 nov. 2020. (SUP02014617)

08) (P02053517) Esse texto é

- A) UM ANÚNCIO.
- B) UM CARDÁPIO.
- C) UMA LISTA.
- D) UMA RECEITA.





P0301

Leia o texto abaixo.

### O pirilampo telegrafista

Certa noite, um pirilampo chamado Homero resolveu se comunicar de um jeito diferente:  
– Estou cansando de pisca piscar sempre da mesma forma.  
Pensou muito, [...] até que, finalmente, teve uma ideia luminosa:  
– Vou fazer um curso de telegrafia por correspondência! [...]  
Ele acabou ficando craque em pisca piscar pontos e traços. [...]  
Na primeira noite, ele encontrou uma linda pirilampa. [...]  
Homero achou que essa era uma boa ocasião para mostrar seus talentos de telegrafista.  
Então, disparou a pisca piscar a mais antiga e bonita de todas as declarações: EU TE AMO.  
Homero esperou, esperou, mas não recebeu nenhuma resposta. [...]  
Ele queria tanto que a pirilampinha respondesse à sua mensagem de amor!  
Mas como, se ela não entendia nada de telegrafar?!  
No mínimo a pirilampa achou que ele era maluco! [...]


TELLES, Carlos Queiroz. *O pirilampo telegrafista*. São Paulo, 1992. Fragmento. (SUP03014117)

12) (P03053517) Quando acontece essa história?

- A) De madrugada.
- B) De manhã.
- C) De noite.
- D) De tarde.

P0301

13) (P020204H6) **Veja a figura abaixo.**



Qual é a figura que tem o nome com a primeira sílaba (pedaço) igual à do nome da figura que você viu?

A)




B)



C)



D)



**Leia o texto abaixo.**

#### O urso e as abelhas

Um urso topou com uma árvore caída que servia de depósito de mel para um enxame de abelhas. Ele começou a farejar o tronco quando uma das abelhas voltou do campo de trevos. Adivinhando o que o urso queria, deu uma picada daquelas nele e depois desapareceu no buraco do tronco. O urso [...] se pôs a arranhar o tronco, com as garras, na esperança de destruir o ninho. A única coisa que conseguiu foi fazer um enxame inteiro sair atrás dele. O urso fugiu a toda velocidade e só se salvou porque mergulhou de cabeça num lago.

**Moral:** mais vale suportar um só ferimento em silêncio que perder o controle e acabar todo machucado.

Russell Ash e Bernard Higon. *Fábulas de Esopo*. São Paulo: Companhia das Letrinhas, 1994. Adaptado para fins didáticos. Fragmento. (SUP03014817)

14) (P03053817) **Esse texto serve para**

A) dar um ensinamento.

B) dar uma notícia.

C) divertir o leitor.

D) ensinar sobre os animais.

P0301

Leia o texto abaixo.

### Hoje é 1º de maio!

Hoje é dia da festa do lírio-do-vale e de todos os trabalhadores. Nessa data, até os animais descansam e fazem o que lhes agrada.

– Eu quero tomar um banho de espuma – declarou Fabi, a girafa.

– Eu quero andar de patins com rodinhas – prosseguiu Guga, a tartaruga.

Zizi, a lesma, gostaria de tocar violino, e Tico, o ouriço, preferia pilotar um avião. Alecrim, o coelho, queria ser farmacêutico.

– Eu acho que vou colher um grande buquê de lírios-do-vale para a mamãe – disse Hortência, a cachorra. – Quem vai comigo até o bosque?

– Eu – gritou Fabi, que saía de seu banho de espuma.

Guga chegou bem depressa em seus patins. Tico transportou Zizi em seu avião. Alecrim não tinha mais vontade de ser farmacêutico.

Todos seguiram Hortência, que levou para sua mamãe magníficos lírios-do-vale, cujas pequenas flores eram celebradas alegremente.

AMELIN, M. et al. 365 Histórias para Sonhar. Ciranda Cultural, 2016, p. 69. (SUP03014317)

15) (P03053917) Nesse texto, Hortência demonstrou ser

A) gentil.

B) talentosa.

C) vaidosa.

D) veloz.

Leia o texto abaixo.

### A gratidão

Era uma vez uma árvore que vivia solitária numa planície.

Um dia, chegou um pássaro [...] e ela deixou que fizesse o ninho no seu tronco.

Mais tarde chegou um bando de avezinhas que precisava descansar. Embora a deixassem toda despenteada [...], a árvore acolheu-as.

Pouco tempo depois, passou por ali um grupo de abelhas. Custou-lhes deixar que elas levassem gratuitamente o seu néctar precioso, mas não as impediu.

Mais tarde, vieram dois lenhadores. Montaram uma tenda e com o machado preparavam-se para cortar a árvore. Mas, de repente, apareceram as abelhas com a ameaça que, se cortassem a árvore, os picariam.

Também o pássaro carpinteiro, com o seu bico, estragou o cabo do machado. E o bando de passarinhos entrou na tenda e levou-a pelos ares.

Os lenhadores desistiram da ideia de fazer mal à árvore.

Disponível em: <<http://www.historias-infantis.com/a-gratidao/>>. Acesso em: 13 ago. 2015. (P030466G5\_SUP)

16) (P030469G5) A personagem principal dessa história é

A) a abelha.

B) a árvore.

C) o lenhador.

D) o pássaro.

P0301

Leia o texto abaixo.

**Um código que veio para quebrar barras**

Se você for até sua geladeira, ou ao armário do banheiro, ou de limpeza, e der uma olhada em um produto, (qualquer um!) vai perceber que em algum lugar da embalagem existe uma etiqueta, normalmente branca, com uma série de barrinhas pretas paralelas, de diferentes espessuras (umas são mais grossas, outras menos).

Esse é o código de barras do produto. Quase tudo que se pode comprar em farmácias, supermercados, lojas de departamentos, e até livrarias, tem um código de barras em algum lugar. Com certeza você já deve ter visto esses códigos e se perguntado o que eles significam e como funcionam... É ou não é?

Disponível em: <<http://www.canalkids.com.br/tecnologia/invencoes/codigo.htm>>. Acesso em: 22 nov. 2014. (P030385ES\_SUP)

17) (P030385ES) Qual é o assunto do texto?

- A) As embalagens.
- B) As geladeiras.
- C) Os códigos de barras.
- D) Os tipos de etiquetas.

18) (P030351ES) **Faça um X na frase que está escrita corretamente.**

- A) O URSOGOSTA DECOMER MEL.
- B) OURSOGOSTADECOMERMEL.
- C) OURSO GOSTADE COMERMEL.
- D) O URSO GOSTA DE COMER MEL.

Leia o texto abaixo.




Disponível em: <<https://bit.ly/2XedL2y>>. Acesso em: 31 jul. 2020. (SUP01004117)

19) (P010573H6) No trecho "Tá muito **curto!**", o antônimo para a palavra "curto" é

- A) bonito.
- B) comprido.
- C) moderno.
- D) velho.

P0301

Leia o texto abaixo.

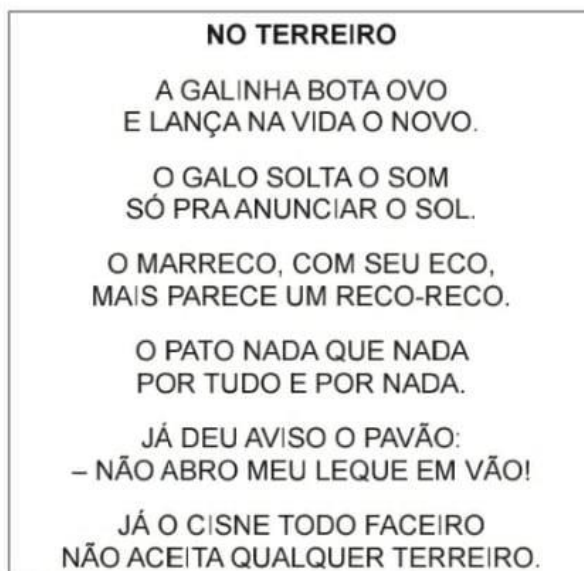


Disponível em: <<http://www.ensinandocomcarinho.com.br/2019/03/cartazes-ludicos-dos-generos-textuais.html>>. Acesso em: 6 maio 2020 (SUP02009717)

20) (P02043017) Esse texto é

- A) um anúncio.
- B) um bilhete.
- C) uma lista.
- D) uma receita.

Leia o texto abaixo.



ELIAS, José. *De olho nos bichos*. São Paulo: FTD, 2003, p. 8. Fragmento. (P030887H6\_SUP)

21) (P030887H6) Nesse texto, as palavras que rimam são

- A) cisne – faceiro.
- B) pato – nada.
- C) pavão – eco.
- D) pavão – vão.

P0301

**Leia o texto abaixo.**

Mamãe, fui brincar na casa da Lorena com a Bianca e a Melissa. Na hora do almoço vou para a casa de vovó para passear com os cachorrinhos dela, Totó e Caju.

Avisar a Amália, nossa vizinha, que só volto à noite. Ela quer minhas bonecas emprestadas, mas estarei com elas o dia inteiro.

Beijos, Júlia.

(SUP01003617)

22) (P02046717) De acordo com esse texto, quem quer as bonecas emprestadas?

A) Amália.

B) Bianca.

C) Lorena.

D) Melissa.

## REFERÊNCIAS BIBLIOGRÁFICAS

[https:// pareceirosdaeducacao.org.br](https://pareceirosdaeducacao.org.br) -PROGRAMA CONSTRUINDO SABERES