



Prefeitura da Estância Turística de  
**IBIÚNA**  
TRANSFORMAÇÃO RESPONSÁVEL. CUIDANDO DE PESSOAS.



E.M. “Prof.ª MARCIA BELMIRO DO LAGO”



NOME: \_\_\_\_\_

PROFESSORA: Marcia Moraes Nunes / SÉRIE: 5º ANO A

**Atividades Referentes aos Dias:**

**22,23,24,25,26,29,30/11 e 1,2,3,6,7,8,9,10/12 ( Totalizando 15 dias letivos )**

**15ª APOSTILA**

Leia o texto abaixo.

**Canção da noite**

Dorme  
Que estou a teu lado  
Dorme sem cuidado  
Nã nã nã nã nã

Dorme  
Oh, meu anjo lindo  
Vai calma dormindo  
Nã nã nã nã nã [...]

Dorme  
Com riso na boca  
Que a noite é bem pouca  
Nã nã nã nã nã

Dorme  
E sonha comigo  
Com teu doce amigo  
Nã nã nã nã nã

MORAES, Vinicius. Disponível em: <<https://www.criandocomapego.com/poesia-infantil-de-vinicius-de-moraes/>>. Acesso em: 26 nov. 2020. Fragmento. (SUP04012117)

01) (P04020317) Nesse texto, a expressão “Nã nã nã nã nã” foi repetida para indicar

- A) o barulho do ronco.
- B) o som feito por um bebê.
- C) uma cantiga de ninar.
- D) uma gargalhada.

Leia o texto abaixo.

### O rei e os dois falcões

Um rei foi presenteado com dois jovens falcões. Este, imediatamente, contratou um mestre em falcões para treiná-los. Depois de vários meses, o instrutor disse ao rei que um dos falcões foi bem educado, mas não sabia o que estava acontecendo com o outro. Desde que ele tinha chegado ao palácio, ele não havia se mudado de galho, ainda tinha que levar comida diariamente a ele.

O rei chamou diversos [...] especialistas em aves, mas nenhum pôde fazer o pássaro voar. Desesperado, ele emitiu um decreto proclamando uma recompensa para aqueles que fizessem o falcão voar.

Na manhã seguinte, o rei viu o pássaro voando em seus jardins.

– Traga o autor deste milagre! – ordenou o rei.

Apareceu diante dele um simples camponês. O rei perguntou:

– Como você conseguiu fazer o falcão voar? Você é um mago?

– Não foi muito difícil meu rei – disse sorrindo o homem. – Eu só cortei o galho em que ele estava. Naquela ocasião, o pássaro foi deixado sem nenhuma alternativa senão levantar voo.

365 Histórias Encantadas para divertir e sonhar. Caxias do Sul: Culturama, 2016. Fragmento. (SUP04011717)


02) (P04019717) De acordo com esse texto, quem emitiu um decreto para fazer o falcão voar?

- A) O camponês.
- B) O instrutor.
- C) O mago.
- D) O rei.

03) (P04019917) Nesse texto, o rei demonstrou ser

- A) criativo.
- B) obediente.
- C) preguiçoso.
- D) preocupado.


04) (P03030917) **Veja a figura abaixo.**



Qual é o nome dessa figura?

- A) BANHEIRA
- B) CARTILHA
- C) GALINHA
- D) PARTIDA

P0501

05) (P02021217) **Veja a figura abaixo.**

Qual é o nome dessa figura?

- A) PESCOÇO
- B) PILOTO
- C) TESOURO
- D) TIJOLO

**Leia o texto abaixo.**

#### **Predador absoluto**

Há dezenas de milhões de anos, os megalodontes eram os reis dos oceanos. Depois que um deles chegava à idade adulta, é provável que nenhum animal fosse capaz de enfrentá-lo. Os megalodontes eram, como dizem os cientistas, predadores do topo da cadeia alimentar.

A forma dos seus dentões sugere que eles comem animais grandes, como tartarugas-marinhas, focas e, principalmente, baleias. Aliás, já foram encontrados fósseis de baleias pré-históricas com marcas de dentes de megalodontes. Para morder uma baleia, o rei dos tubarões tinha uma bocarra, que aberta media três metros – a altura de uma parede! [...]

Disponível em: <<http://chc.org.br/artigo/megatubarao/>>. Acesso em: 7 maio 2020. Fragmento. (SUP04006717)

06) (P04014217) De acordo com esse texto, quais eram os predadores do topo da cadeia alimentar?

- A) Baleias pré-históricas.
- B) Focas.
- C) Megalodontes.
- D) Tartarugas-marinhas.

P0501

Leia o texto abaixo.



Disponível em: <<https://www.elo7.com.br/convite-festa-junina-envelope/dp/96DBE9>>. Acesso em: 1 jul. 2019. (SUP010121H6)

07) (P01369117) Esse texto serve para

- A) contar uma história.
- B) divulgar um produto.
- C) ensinar uma receita.
- D) fazer um convite.

Leia o texto abaixo.

#### Triz

Um cardume de peixes muito pequeninhos vivia em um canto bem distante no fundo do mar. Todos eram vermelhos, menos um [...]. Seu nome era Triz.

Em um dia ruim, um atum enorme, feroz e faminto [...], engoliu todos os peixinhos vermelhos. Só Triz escapou. [...]

Estava assustado, sozinho e muito triste.

Mas o mar era cheio de surpresas, e pouco a pouco, nadando de uma maravilha à outra, Triz sentiu-se feliz novamente.

Viu uma água-viva colorida como um arco-íris, [...] uma floresta de algas crescendo nas rochas de algodão-doce, uma enguia tão longa que, às vezes, se esquecia da própria cauda [...].

Então [...], Triz descobriu um cardume de peixes muito pequeninhos [...].

– Vamos nadar e brincar e ver o mundo! – Disse ele cheio de alegria.

– Não podemos – [...] – Seremos devorados pelos grandes peixes. [...]

Triz pensou e pensou e pensou.

De repente, disse:

– Já sei! Vamos nadar todos juntos como se fôssemos o maior peixe dos mares. [...]

E, juntos, nadaram nas águas frescas da manhã e ao sol do meio-dia [...].

LIONNI, Leo. *Triz*. São Paulo: Livros da Matriz, 2020. Fragmento. (SUP04011817)

08) (P04019817) Onde acontece essa história?

- A) No fundo do mar.
- B) Em uma piscina.
- C) Em uma floresta.
- D) Dentro do aquário.

Leia o texto abaixo.

### Macaco-narigudo

Os macacos-narigudos (*Nasalis larvatus*) são uma espécie nativa das florestas tropicais do Bornéu, no Oceano Índico. Estes mamíferos apresentam uma pelagem acastanhada, podendo chegar a ter 60-70 cm de altura e pesar cerca de 23 kg (as fêmeas apenas chegam a pesar metade deste valor). São uma espécie muito arbórea e só se encontram no solo quando estão à procura de comida. O seu habitat é rodeado de pântanos, rios e mangais.


São os primatas mais capacitados e adaptados para a natação graças às membranas que se encontram entre os dedos das suas mãos e pés. Normalmente, eles fazem queda livre entrando de barriga dentro da água. [...]

LUISTAVARES. Macaco-narigudo. In: *FCiências*. 2015. Disponível em: <<https://www.fciencias.com/2015/01/23/macaco-narigudo-vida-em-destaque/>>. Acesso em: 8 dez. 2020. Fragmento. (P05081517\_SUP)

09) (P05081517) Nesse texto, o termo “*Nasalis larvatus*” foi escrito de maneira diferente para

- A) apontar a fala de uma pessoa.
- B) destacar o título de um filme.
- C) indicar um trecho de um livro.
- D) marcar um nome científico.

Leia o texto abaixo.



Disponível em: <<https://br.pinterest.com/pin/531565562258757846/>>. Acesso em: 16 nov. 2020. (P06027017\_SUP)

10) (P06027017) Entende-se desse texto que a menina

- A) divide os frutos com o menino.
- B) ficou cansada após plantar a árvore.
- C) gosta de comer frutos.
- D) pediu a ajuda do menino.

Leia o texto abaixo.

<b>Santuário deve receber elefanta Lady em viagem de 3,2 mil km da PB a MT</b>	
5	<p>O Santuário de Elefantes do Brasil (SEB), localizado em Chapada Guimarães, a 65 km de Cuiabá, deve receber nos próximos dias a quinta moradora do local. A transferência da elefanta Lady, que mora no Parque Zoológico Arruda Câmara, em João Pessoa (PB), começou nesta segunda-feira (25).</p> <p>Segundo o SEB, Lady é uma elefanta que trabalhou toda sua vida em circos, foi confiscada em 2013 e enviada para viver no zoológico, em João Pessoa, onde residia. [...]</p> <p>Serão 3,2 mil km de viagem entre a Paraíba e Mato Grosso. O transporte da elefanta é feito com as carretas e com guindastes. Policiais ajudam na escolta.</p>
10	<p>Lady foi colocada em uma caixa de transporte própria para a situação. Ela é acompanhada por profissionais e veterinários. A transferência dela foi determinada pela Justiça Federal.</p> <p>No Santuário, Lady terá a companhia de outras três elefantas: Rana, Ramba e Maia. Lady será a quinta moradora do santuário, que já abrigou a elefanta Guida, que morreu em junho. [...]</p>

G1. Santuário deve receber elefanta Lady em viagem de 3,2 mil km da PB a MT. 2019. Disponível em: <<https://glo.bo/34aUWy4>>. Acesso em: 25 nov. 2019. Fragmento. (P07010917\_SUP)

11) (P07010917) De acordo com esse texto, quem será a quinta moradora do santuário?

- A) Guida.
- B) Lady.
- C) Ramba.
- D) Rana.

Leia o texto abaixo.

<b>Um amigo verdadeiro</b>	
<p>Sempre que Carlos sai de casa, esquece-se de alguma coisa. Quando se lembra, já é tarde demais. E o que é que Carlos faz? Absolutamente nada. Só pensa: "Ainda bem que tenho o Pedro".</p> <p>O Pedro é o seu melhor amigo, um amigo a sério, um amigo com quem se pode contar.</p> <p>O Carlos sabe muito bem o que é um amigo com quem se pode contar. Sempre que ele se esquece de alguma coisa, é o Pedro que o livra de apuros. O Carlos vai para a escola sem tênis.</p> <p>– Logo vi que ias esquecer-te! – diz o Pedro, tirando um par de meias grossas do saco de ginástica, que entrega ao Carlos. [...]</p> <p>E é assim dia após dia: o Carlos esquece-se sempre de alguma coisa, o Pedro, nunca... ou será que não?</p> <p>Não. O Pedro esquece-se sempre dos lápis de cera. Não adianta esforçar-se [...]. Quando chega a aula de desenho, o Pedro não tem os lápis de cera na pasta.</p> <p>O Carlos sabe que o Pedro se esquece sempre deles, e por isso ele, Carlos, pode esquecer-se de tudo o que há no mundo, só não se esquece dos lápis de cera.</p> <p>Estão na aula de desenho. O Carlos tira os seus lápis da pasta e põe-nos em cima da carteira. O Pedro volta a ficar corado de vergonha porque deixou os lápis em casa, no quarto.</p> <p>Então, o Carlos sorri e tira da pasta outra caixinha de lápis de cera, que pousa em cima da carteira do Pedro.</p> <p>– Logo vi que ias esquecer-te! – diz ele a sorrir.</p>	

ABC DO BEBÉ. Um amigo verdadeiro. 2016. Disponível em: <<https://www.abcdobebé.com/comunidade/contos-infantis/um-amigo-verdadeiro/>>. Acesso em: 1 dez. 2020. Fragmento. (P05081717\_SUP)

12) (P05081717) Essa narrativa acontece

- A) em uma academia.
- B) em uma escola.
- C) na casa de Carlos.
- D) na casa de Pedro.

P0501

**Leia o texto abaixo.****O sítio do Pica-pau-amarelo**

O sítio do Pica-pau-amarelo fica longe das cidades grandes e da poluição. Lá, as pessoas vivem aventuras fantásticas. Dona Benta, uma velhinha simpática, gosta de contar fabulosas histórias e brincar com seus netos Pedrinho e Narizinho. O menino adora aventuras e caçadas. A menina gosta de ouvir histórias.

No sítio, existe uma boneca de pano, muito curiosa, travessa e tagarela que se chama Emília. Ela vive gritando para lá e para cá. A boneca foi criada pela tia Nastácia, a cozinheira do sítio. Ela é uma senhora muito religiosa e adora contar histórias folclóricas.

Disponível em: <<http://image.slidesharecdn.com/monteirolobato3ano-130408192808-phpapp01/95/monteiro-lobato-3-ano-9-638.jpg?cb=1365449383>>. Acesso em: 22 mar. 2016. Fragmento. (P031196G5\_SUP)

13) (P031196G5) De acordo com esse texto, a boneca de pano chama-se

- A) Benta.
- B) Emília.
- C) Narizinho.
- D) Nastácia.

**Leia o texto abaixo.****Picolé de frutas amarelas****Ingredientes**

3 mangas (maduras)  
1 maracujá  
Suco de 1/2 limão

**Comece aqui!**

1. Peneire o maracujá, tirando as sementes.
2. Bata todos os ingredientes no liquidificador.
3. Coloque em forminhas de picolé e deixe no congelador por no mínimo quatro horas.
4. Depois é só desenformar e saborear. [...]

Disponível em: <<http://nossoamiguinho.cpb.com.br/picole-de-frutas-amarelas/>>. Acesso em: 10 jan. 2020. (SUP02003617)

14) (P020195I7) Esse texto serve para

- A) anunciar um produto.
- B) convidar para um evento.
- C) deixar um recado.
- D) ensinar a fazer um alimento.



Leia o texto abaixo.

#### Luz poluidora

Quem mora em cidade grande já sabe. É difícil encontrar o céu repleto de estrelas brilhantes ao olharmos para o alto à noite.

Isso não significa que elas sumiram! É culpa da poluição luminosa. Veja sua rua: há postes que iluminam tudo – até o céu!

Os holofotes e as luzes de lojas e casas pioram a situação. A luz atinge a poeira, o vapor e os gases da atmosfera, e tornam o céu urbano mais claro à noite. Assim fica impossível enxergar o espaço.

BALDUINO, Ludmilla. *Luz poluidora*. *Recreio*, ano 12, n. 608, nov. 2011. p. 20. Fragmento. (P031332G5\_SUP)

15) (P031332G5) Qual é o assunto desse texto?

- A) A cidade grande.
- B) A poluição luminosa.
- C) Os gases da atmosfera.
- D) Os postes da cidade.

Leia o texto abaixo.

#### O melhor milho

Conta-se a história de um agricultor que, há vários anos, tinha a melhor plantação de milho da região.

Na altura da entrega de um prêmio, um jornalista ali presente perguntou-lhe qual era o seu segredo.

– Eu partilho sempre a semente do meu milho com os meus vizinhos.

Perante o ar de admiração do repórter, ele continuou:

– O vento leva o pólen do milho maduro de campo para campo. Se os meus vizinhos cultivarem milho inferior, a polinização degradará a qualidade do meu milho. Por isso, para eu poder ter milho bom, tenho de ajudar os meus vizinhos a cultivarem milho bom também.

O mesmo se passa com outras dimensões da vida.

Se queres ser feliz, tens de ajudar os outros a encontrarem a felicidade.

O bem-estar de cada um está ligado ao bem-estar de todos.

Disponível em: <<https://contadoresdestorias.wordpress.com/2008/02/07/o-melhor-milho/>>. Acesso em: 25 jan. 2019. (SUP040061H6)

16) (P040509H6) Nesse texto, o agricultor demonstrou ser

- A) vaidoso.
- B) paciente.
- C) generoso.
- D) corajoso.

P0501

Leia o texto abaixo.

**Cric, Crec, Pi, Ploft**

Como todas as noites, a escuridão se deita sobre a lagoa. E como todas as noites Jerônimo sente medo.

Mamãe sabe que seu sapinho tem medo.

“Acho que ouvi um barulho... Quem está fazendo ‘cric, crec, pi, ploft’ debaixo da minha cama?”

Jerônimo tem dor de barriga de tanto medo.

Ele vai atrás dos pais.

“Venha! Vamos olhar lá fora o que faz ‘cric, crec, pi, ploft’”, sussurra o pai.

Na noite escura, papai nada com Jerônimo em direção a uma grande folha de ninfeia.

Cric crec! A toupeira cava uma galeria subterrânea.

Pi! O pássaro noturno dá um grito.

Ploft! O peixe prateado salta e mergulha de volta n’água.

Jerônimo olha a noite e sorri...

“Sabe de uma coisa, papai? Acho que não tenho mais medo da noite.”

CROWTHER, K. *Cric, crec, pi, ploft*. São Paulo: Cosac Naify, 2012. p. 11-26. Fragmento. (P032080E4\_SUP)

17) (P032485E4) Nesse texto, o que faz Jerônimo parar de sentir medo da noite?

- A) Ele descobrir de onde vêm os barulhos.
- B) Ele sair para procurar seus pais.
- C) Seu pai o chamar para nadar.
- D) Sua mãe saber que ele sente medo.

Leia o texto abaixo.

**Xô, micróbios!**

O sabonete não quer saber. A gente pode até estar bem distraído, lavando as mãos, tomando banho. Mas com o sabonete não tem distração. Ele entra na área e mostra quem manda no pedaço, deixando a pele limpa.

5 E como a gente precisa dessa limpeza! Enquanto a gente brinca e anda por aí, vai pegando em tanta coisa, que as mãos acabam “hospedando” sem querer um monte de bichinhos muito pequenos, tão pequenos que são invisíveis: os micróbios.

Nem todos os micróbios são prejudiciais, mas alguns tipos, como as bactérias e os vírus, podem causar uma série de doenças. Esses são “hóspedes” muito indesejáveis!

10 Para livrar a pele dos micróbios, a água sozinha não dá conta do recado. Por isso é preciso usar sempre sabão ou sabonete para limpar as mãos, principalmente antes das refeições [...].

Além de ajudar a retirar as sujeiras mais teimosas, como gordura e terra, o sabonete funciona como um verdadeiro desinfetante contra as bactérias. Se você for comer com as mãos sujas, pode estar engolindo, junto com a comida, certas bactérias que não foram convidadas. Argh! [...]

Disponível em: <<http://www.canalkids.com.br/portal/barras/clubv.php?u=..alimentacao/index.php3>>. Acesso em: 7 mar. 2012. Fragmento. (P050460BH\_SUP)

18) (P050500BH) A expressão “... dá conta do recado.” (l. 9) significa

- A) conseguir realizar uma tarefa.
- B) enviar uma mensagem.
- C) pagar uma conta.
- D) saber contar uma história.

Leia o texto abaixo.

**Bombeiros resgatam vacas que caíram na piscina de um clube em Alfenas (MG)**

Agentes do Corpo de Bombeiros de Alfenas, no Sul de Minas Gerais, fizeram um resgate inusitado na manhã deste sábado. Três vacas foram parar dentro de uma piscina do Clube Náutico, que fica no bairro Distrito Industrial.

De acordo com a corporação, o socorro foi acionado por um funcionário que chegou para o trabalho e se deparou com os animais na água. Ele contou que uma cerca de arame de uma propriedade rural nos fundos do clube estava rompida.

Os socorristas tiveram muito trabalho. Para remover os animais, três militares usaram cordas presas a um veículo, que puxou as vacas para fora da piscina, que tem aproximadamente dois metros de profundidade. Os bichos não tinham qualquer fratura ou ferimento.

Segundo os bombeiros, o plantão desta sexta-feira já tinha começado com várias ocorrências envolvendo animais. Entre elas, um cavalo atolado, dois gambás no interior de uma residência no centro da cidade e um gato agarrado na cerca de uma residência durante a madrugada.

Disponível em: <<http://extra.globo.com/noticias/animais/bombeiros-resgatam-vacas-que-cairam-na-piscina-de-um-clube-em-alfenas-mg-21305365.html>>. Acesso em: 11 maio 2017. (P030633H6\_SUP)

19) (P030633H6) Qual é o assunto desse texto?

- A) A profissão dos bombeiros.
- B) A vida na fazenda.
- C) O clube de Alfenas.
- D) O resgate de vacas.

Leia o texto abaixo.

**Cuidando dos dentes**

Era a noite da festa do pijama na casa de Wendy. As amigas Gabi, Cachinho, Angelina e Babi comiam doces e contavam histórias.

– Ei, gente! – disse Wendy. – Precisamos guardar tudo isso e dormir logo.

– Certo – disse Cachinho. – Eu estou com muito sono. Vou deitar já!

Wendy, então, perguntou: – Cachinho, você não vai escovar os dentes, não?

– Ah! Agora não. Estou com uma bruta preguiça. Amanhã acordo cedo e escovo logo.

– Não faça isso! A senhorita acabou de comer doces. Os bichinhos da cárie vão fazer a festa durante a noite, se não escovar os dentes!

– Wendy tem razão – completou Angelina. [...]

– Puxa! Eu nunca tive cáries – disse Babi. – Não deve ser bom!

– Então, para continuarmos sem cáries, vamos logo escovar os dentes e pular na cama – concluiu Wendy.

Elas pegaram suas escovinhas e correram para o banheiro. Cachinho procurou sua escova na mochila e disse:

– Ei! Esperem por mim. Também vou escovar meus dentes. Não quero nenhum bichinho da cárie fazendo a festa na minha boca!

KLEIN, Cristina. *365 histórias: uma história por dia*. São Paulo: Rideel, 2014, p. 122. Fragmento. (P030639H6\_SUP)

20) (P030639H6) De acordo com esse texto, onde Cachinho procurou sua escova?

- A) Na cama.
- B) Na mochila.
- C) No banheiro.
- D) No quarto.

P0501

Leia o texto abaixo.

**Ser criança**

Ser criança é dureza  
 Todo mundo manda em mim  
 Se pergunto o motivo,  
 Me respondem "porque sim".

Isso é falta de respeito,  
 "Porque sim" não é resposta,  
 Atitude autoritária  
 Coisa que ninguém gosta! [...]

BELINKY, Tatiana. Disponível em: <<https://lunetas.com.br/poemas-sobre-infancia/>>. Acesso em: 2 out. 2020. Fragmento. (SUP01008317)

21) (P01406617) Quantas sílabas (pedaços) tem a palavra DUREZA?

- A) 1
- B) 2
- C) 3
- D) 6

Leia o texto abaixo.

**Duas belas borboletas**

*Grasseia menelaus tenuilimbata* e *Evenus regalis*

**[...] Descrição:**

As borboletas de coloração azul metálica eram usadas como adorno por muitos povos nativos brasileiros, para os quais representavam a força da natureza. Muitas dessas lepidópteras estão em risco de extinção, por causa da destruição de seus habitats e das coletas indiscriminadas. *Grasseia menelaus tenuilimbata*, antes reconhecida no gênero *Morpho*, é uma borboleta da Família *Nymphalidae* que ocorre em todo o Brasil. [...]

*Evenus regalis*, da Família *Lycaenidae*, é conhecida como borboleta-joia-viva, mais pela beleza da coloração da face inferior das asas do que pelo belo azul de seu dorso.

MUSEU NACIONAL. *Duas belas borboletas*. Disponível em: <<https://bit.ly/39UhJ5G>>. Acesso em: 31 jul. 2020. Adaptado: Reforma Ortográfica. (P05064017\_SUP)

22) (P05064017) Esse texto é

- A) um artigo científico.
- B) um roteiro de viagem.
- C) um rótulo de embalagem.
- D) um verbete de enciclopédia.

M0501

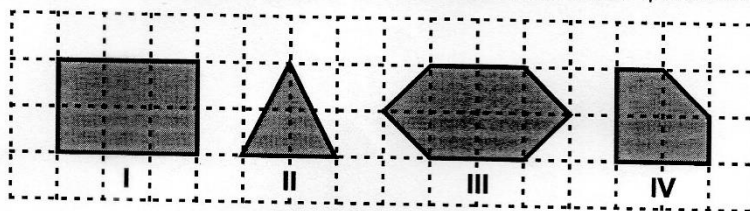
01) (M020895H6) Carolina comprou 25 carrinhos e dividiu igualmente entre seus 5 sobrinhos. Quantos carrinhos cada sobrinho recebeu?

- A) 4
- B) 5
- C) 20
- D) 25

02) (M040044I7) O número 453 pode ser decomposto em

- A) 400 centenas, 50 dezenas e 3 unidades.
- B) 4 centenas, 50 dezenas e 3 unidades.
- C) 4 centenas, 5 dezenas e 3 unidades.
- D) 3 centenas, 5 dezenas 4 unidades.

03) (M040004I7) Observe abaixo as figuras geométricas desenhadas na malha quadriculada.



Qual dessas figuras geométricas é um quadrilátero?

- A) I
- B) II
- C) III
- D) IV

04) (M030459I7) Saulo comprou uma corda para fazer um varal e mediu o comprimento de seu jardim para colocar esse varal.

Qual é a unidade de medida mais adequada para registrar a medida do comprimento desse quintal?

- A) Grau.
- B) Litro.
- C) Metro.
- D) Quilograma.

M0501

05) (M04000617) Observe abaixo o relógio.



Qual é o horário que esse relógio está marcando?

- A) 4 horas.
- B) 4 horas e 8 minutos.
- C) 8 horas.
- D) 8 horas e 40 minutos.

06) (M021002H6) Diego trabalha em uma biblioteca e fez uma contagem dos livros por categoria. Após essa contagem, Diego identificou que a biblioteca possui 73 livros de romance, 47 livros de suspense, 61 livros de biografia, 33 livros de poesia e 55 livros de piada. Qual é a tabela que representa a quantidade de livros por categoria nessa biblioteca?

A)

Quantidade de livros por categoria	
Categoria	Quantidade
Romance	73
Suspense	47
Biografia	61
Poesia	55
Piada	33

B)

Quantidade de livros por categoria	
Categoria	Quantidade
Romance	55
Suspense	33
Biografia	61
Poesia	47
Piada	73

C)

Quantidade de livros por categoria	
Categoria	Quantidade
Romance	73
Suspense	47
Biografia	61
Poesia	33
Piada	55

D)

Quantidade de livros por categoria	
Categoria	Quantidade
Romance	47
Suspense	73
Biografia	61
Poesia	33
Piada	55

07) (M031021H6) Para a festa de sua filha, Manuela fez docinhos para os convidados. Ela fez 90 beijinhos, 153 brigadeiros e 87 cajuzinhos.

Quantos docinhos Manuela fez, ao todo, juntando esses três tipos de docinhos?

- A) 330
- B) 329
- C) 177
- D) 153

08) (M03046317) Lúcia comprou farinha de trigo para fazer pães.

Qual é a unidade de medida mais adequada para representar a quantidade de farinha de trigo que Lúcia comprou?

- A) Grau.
- B) Litro.
- C) Metro.
- D) Quilograma.

M0501

09) (M050710H6) Em um dia de chuva,  $\frac{1}{3}$  dos alunos da classe de Isabela faltou à aula.

A escrita por extenso da fração de alunos que faltaram à aula nesse dia é

- A) três décimos.
- B) três inteiros.
- C) um terço.
- D) um três avos.

10) (M050645I7) Jorge foi a uma padaria e comprou um bolo que custou R\$ 7,75. Ele irá pagar esse bolo com uma nota de R\$ 20,00.

Quantos reais Jorge deverá receber de troco nessa compra?

- A) R\$ 12,25.
- B) R\$ 13,00.
- C) R\$ 13,75.
- D) R\$ 27,75.

11) (M051424I7) Júlio ganhou uma coleção com 558 figurinhas. Para organizar sua coleção, ele distribuiu, igualmente, essas figurinhas em 9 envelopes.

Qual foi a quantidade de figurinhas que Júlio colocou em cada envelope?

- A) 26.
- B) 62.
- C) 549.
- D) 567.

12) (M050728H6) Observe, no quadro abaixo, o preço do saco de ração que Juliana compra para o seu cachorro.

















R\$ 25,76
-----------

Qual é a ordem que o algarismo 6 ocupa no número que representa esse preço?

- A) Centésimos.
- B) Décimos.
- C) Dezenas.
- D) Unidades.

M0501

13) (M030018I7) Observe, no desenho abaixo, as prateleiras de um balcão de padaria onde ficam os alimentos.

	1	2	3	4
P				
Q				
R				
S				

Qual é o alimento que está na prateleira Q2 desse balcão?

- A)  B) 
- C)  D) 

14) (M041355E4) Larissa tem 34 canetinhas e Amanda tem 16 canetinhas. Quantas canetinhas Larissa tem a mais que Amanda?

- A) 18  
B) 28  
C) 34  
D) 50

15) (M040071I7) Observe abaixo a sequência dos números. Ela segue um padrão.

680 – 682 – 684 – 686 – \_\_\_\_

Qual é o número que completa essa sequência?

- A) 685  
B) 687  
C) 688  
D) 696

16) (M030655H6) Observe na tabela abaixo a quantidade de pacientes atendidos em uma clínica durante uma semana.

DIA DA SEMANA	NÚMERO DE PACIENTES ATENDIDOS
SEGUNDA-FEIRA	52
TERÇA-FEIRA	47
QUARTA-FEIRA	38
QUINTA-FEIRA	45
SEXTA-FEIRA	53
TOTAL	235

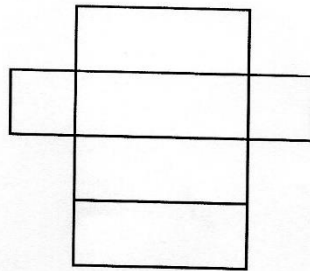
De acordo com essa tabela, quantos pacientes foram atendidos na quinta-feira?

- A) 38  
B) 45  
C) 52  
D) 53

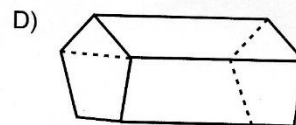
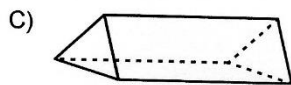
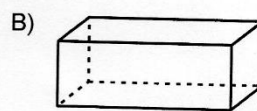
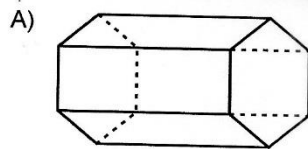


M0501

17) (M050429H6) Uma embalagem de creme dental desmontada tem o formato do desenho abaixo.



Qual a forma dessa embalagem depois de montada?



18) (M040062I7) Observe os números no quadro abaixo.

400 - 410 - 405 - 415
-----------------------

Qual desses números é o menor?

- A) 400
- B) 410
- C) 405
- D) 415


19) (M051658E4) Antônio gasta, em seu percurso de casa até a escola onde estuda, 35 minutos. Ele sai de casa para ir à escola às 11 horas e 20 minutos.

A que horas Antônio chega na escola onde estuda?

- A) 11 horas e 20 minutos.
- B) 11 horas e 55 minutos.
- C) 12 horas e 20 minutos.
- D) 12 horas e 55 minutos.

M0501

20) (M030553E4) Observe abaixo os carros que estão em uma oficina para trocar os pneus.



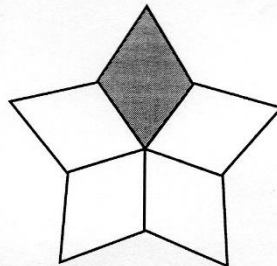
Cada um desses carros recebeu 4 pneus novos.  
Quantos pneus novos, no total, foram usados nesses carros?

- A) 4
- B) 8
- C) 16
- D) 32

21) (M040095H6) Um padeiro pesou a farinha que seria usada para fazer pães.  
Qual é a unidade de medida mais adequada para o padeiro registrar essa quantidade de farinha?

- A) L
- B) m
- C) kg
- D) km

22) (M050706H6) Lívia desenhou uma estrela e depois a dividiu em 5 partes iguais colorindo uma dessas partes de cinza. Observe, abaixo, o desenho de Lívia.



Qual é o número que expressa a parte colorida de cinza dessa estrela em relação à estrela toda?

- A) 0,2.
- B) 1,4.
- C) 1,5.
- D) 5,1.