



Prefeitura da Estância Turística de
IBIÚNA
TRANSFORMAÇÃO RESPONSÁVEL. CUIDANDO DE PESSOAS.



E.M.VEREADOR LOURIVAL CORREIA ARAUJO

15ª APOSTILA



ALUNO (A):

TURMA: 4º Ano B

PROFESSORA: Cleonice Flor de Lima Arjona

E.M. VEREADOR LOURIVAL CORREIA DE ARAÚJO

ATIVIDADES NÃO PRESENCIAIS

4º ANO B

PERÍODO DE: 30 DE NOVEMBRO A 14 DE DEZEMBRO

PROFESSORA: CLEONICE FLOR DE LIMA ARJONA

4º BIMESTRE

15ª APOSTILA

30/11	LÍNGUA PORTUGUESA MATEMÁTICA	➤ Simulado de Língua Portuguesa ➤ Simulado de Matemática
01/12	LÍNGUA PORTUGUESA MATEMÁTICA	➤ Simulado de Língua Portuguesa ➤ Simulado de Matemática
02/12	LÍNGUA PORTUGUESA MATEMÁTICA	➤ Simulado de Língua Portuguesa ➤ Simulado de Matemática
03/12	LÍNGUA PORTUGUESA MATEMÁTICA	➤ Simulado de Língua Portuguesa ➤ Simulado de Matemática



Ho Ho Ho!

LÍNGUA PORTUGUESA 30/11

QUESTÃO 1

Leia o texto:

A CUTIA

A cutia é um bicho pequeno. Ela recolhe mais alimento do que consegue comer. O restante das castanhas ela enterra para comer mais tarde e acaba se esquecendo de onde as enterrou. Por causa disso as sementes acabam brotando e se tomam outras árvores.

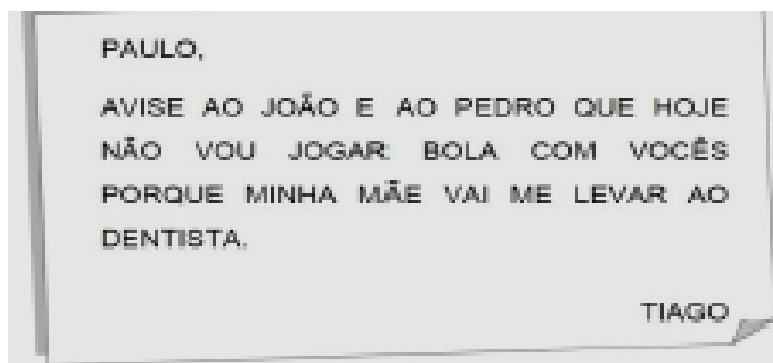
QUEIROZ, Luis Roberto. *Animais brasileiros*. São Paulo.

A cutia enterra as castanhas para

- (A) comê-las mais tarde.
- (B) esquecer sua comida.
- (C) plantar novas árvores.
- (D) recolher mais alimento

QUESTÃO 2

Leia o texto:

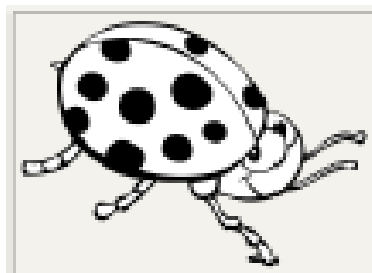


De acordo com o texto, quem vai ao dentista?

- (A) Tiago.
- (B) Paulo.
- (C) João.
- (D) Pedro.

QUESTÃO 3

Veja a figura:



Qual é o nome dessa figura?

- (A) Gelatina.
- (B) Janaina.
- (C) Joaninha.
- (D) Geladeira.

QUESTÃO 4

Leia o texto:

SEGUNDA-FEIRA É DIA DE:

- ARROZ
- FEIJÃO
- CARNE ENSOPADA
- SALADAS

Esse texto serve para

- (A) fazer um convite.
- (B) dar um aviso.
- (C) fazer uma propaganda.
- (D) ensinar uma receita

QUESTÃO 5

Leia o texto:



Quem bate no touro?

- (A) O buraco.
- (B) O cachimbo
- (C) O mundo.
- (D) A gente.

QUESTÃO 6



Marque a opção em que aparece a letra que inicia o nome do desenho.

- (A) M, T, G
- (B) G, R, D
- (C) U, S, Q
- (D) P, F, X

QUESTÃO 1

A professora de Hilêla escreveu no quadro, a seguir, uma conta.

$$\begin{array}{r} + 13 \\ 34 \\ \hline \end{array}$$

O resultado correto desta conta é





- (A) 11
- (B) 47
- (C) 65
- (D) 74

QUESTÃO 2

Lucilene tem um caderno igual ao modelo a seguir:



A capa do caderno representa uma figura geométrica igual a um

- (A)  triângulo.
- (B)  círculo.
- (C)  Prisma
- (D)  retângulo.

QUESTÃO 3

A tabela a seguir, mostra os preços de alguns brinquedos vendidos em uma loja.

R\$ 34,00	
R\$ 23,00	
R\$ 53,00	
R\$ 45,00	

Nesta loja o brinquedo mais barato é

- (A) a peteca.
- (B) a bola.
- (C) a boneca.
- (D) a bicicletinha.

QUESTÃO 4

DOM	SEG	TER	QUA	QUI	SEX	SAB
		1	2	3	4	5
6	7	8	9	10	11	12
13	14	15	16	17	18	19
20	21	22	23	24	25	26
27	28	29	30			

Na folhinha de calendário destacada acima, está marcada a data da Festa Junina da Escola Lugar de Aprender. Em que dia da semana a festa aconteceu?

- (A) Domingo.
- (B) Terça-feira.
- (C) Quarta-feira.
- (D) Quinta-feira

QUESTÃO 7

Leia o texto:



Disponível em: <<http://senna.globo.com/senninha>>.

Nessa história, a palavra, "VRUMM" está escrita em letras grandes para indicar

- (A) a risada do menino.
- (B) a batida na areia.
- (C) o ronco do dominhoco.
- (D) o som alto do caminhão.

QUESTÃO 8

Veja a figura:



Qual o nome dessa figura?

- (A) Baralho.
- (B) Borracha.
- (C) Barraca.
- (D) Bolacha.

QUESTÃO 9

Leia o texto:



Disponível em [HTTP://www.grupoa.com.br/blog/Post/2012/04/23/O-que-a-leitura-significa-para-voc%l.aspx](http://www.grupoa.com.br/blog/Post/2012/04/23/O-que-a-leitura-significa-para-voc%C3%AA)

A imagem do coração, no centro do cartaz, está no lugar da palavra:

- (A) Amo
- (B) Pulo
- (C) Corro
- (D) Brinco

QUESTÃO 10

SUPERMERCADO E PADARIA PALACIO DO CATETE LTDA.
 RUA DO CATETE, 110 E 112 LOJAS
 CATETE - RIO DE JANEIRO - RJ.
 CEP.: 22220-000 - I.R.F.: 64-12
 CNPJ: 01.001.950/0001-01 IE: 85.643.290

23/06/2010 16:56:54 CCF:192433 CDD:245041

CUPON FISCAL

ITEM	CODIGO	DESCRICAO	QTD.	UN.	VL.UNIT(R\$)	ST	IAT	VL. ITEM(R\$)
001	2101700001361	LARANJA LINA	0,877	Cx x	1,55	11	A	1,36
002	2108400002261	QUIABO	0,307	Cx x	7,35	11	A	2,26
003	2107200000858	CHUCHU	0,459	Cx x	1,85	11	A	0,85
004	2107100000966	CEBOLA	0,392	Cx x	2,45	11	A	0,96
005	2107200000415	CENOURA	0,318	Cx x	1,29	11	A	0,41
TOTAL								R\$ 5,84
DINHEIRO								20,00
TROCO								R\$ 14,16


O texto acima se refere a uma

- (A) receita de salada.
- (B) nota de compras.
- (C) lista de compras.
- (D) convite de festa.

MATEMÁTICA 01/12

QUESTÃO 5

Tatiana estuda à tarde. O relógio abaixo mostra o horário da merenda de sua turma.



Fonte: <http://www.fotosearch.com.br/fotos-imagens>

O horário da merenda da turma de Tatiana é

- (A) 13 horas.
- (B) 15 horas.
- (C) 16 horas.
- (D) 17 horas.

QUESTÃO 6

Ana digitou seiscentos e nove em uma calculadora. Qual número apareceu no visor dessa calculadora?

- (A) 69
- (B) 96
- (C) 609
- (D) 690

QUESTÃO 7

Eriberto está juntando dinheiro para comprar uma bicicleta. Ele já tinha 156 reais e ganhou 32 reais de sua madrinha. Agora, Eriberto tem

- (A) 32 reais.
- (B) 124 reais.
- (C) 156 reais.
- (D) 188 reais.

QUESTÃO 8

Uma semana têm sete dias. Quantos dias têm duas semanas completas?

- (A) 2
- (B) 7
- (C) 10
- (D) 14

QUESTÃO 9

Ciáudia comprou balas em um mercado. Observe abaixo as moedas que ela usou nessa compra.

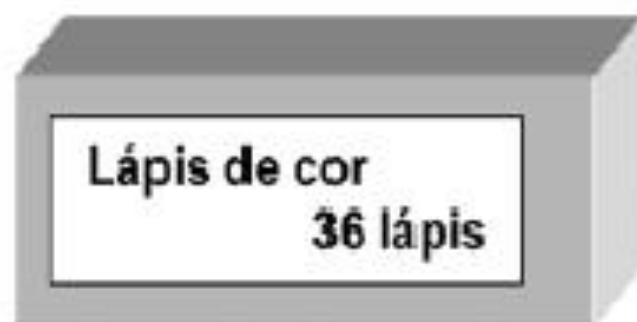


Qual foi a quantia que Ciáudia usou para comprar essas balas?



QUESTÃO 10

Veja abaixo a quantidade de lápis de cor que há em uma caixa.



Nessa caixa, 14 lápis são vermelhos e os outros são azuis.
Quantos são os lápis azuis?

- (A) 22
- (B) 23
- (C) 49
- (D) 50

QUESTÃO 11

Veja a cena:



Qual a frase que conta o que acontece nessa cena?

- (A) O cachorro corre perto do menino.
- (B) O cachorro pula no lago.
- (C) O menino faz carinho no cachorro.
- (D) O menino pesca no lago.

QUESTÃO 12

Leia a tirinha:



A língua para fora e o suor respingando no rosto das personagens demonstram que eles

- (A) estão cansados.
- (B) estão famintos.
- (C) estão com sono.
- (D) estão com sede.

QUESTÃO 13

Leia o texto:

Saiba como fazer a correta higiene das mãos.

Lavar as mãos é uma medida simples para evitar doenças infecciosas, pois são elas as principais vias de contaminação cruzada no ambiente doméstico.

Lavar as mãos com sabão comum ajuda, mas não é totalmente eficaz.

A lavagem regular com sabão antibacteriano e água morna é a forma mais correta de prevenção.

Higiene redobrada no ambiente hospitalar. Caderno Viva. Diário do Nordeste, 2010, p. 2. Fragmento.

Qual é o assunto desse texto?

- (A) As doenças transmitidas pela água.
- (B) Como limpar o ambiente doméstico.
- (C) Os cuidados com a limpeza das mãos.
- (D) Como utilizar o sabão antibacteriano.

QUESTÃO 14

Qual o nome da figura?



- (A) Xicara.
- (B) Xarada.
- (C) Xarope.
- (D) Xerife.

QUESTÃO 15

Veja a palavra:

SACOLA

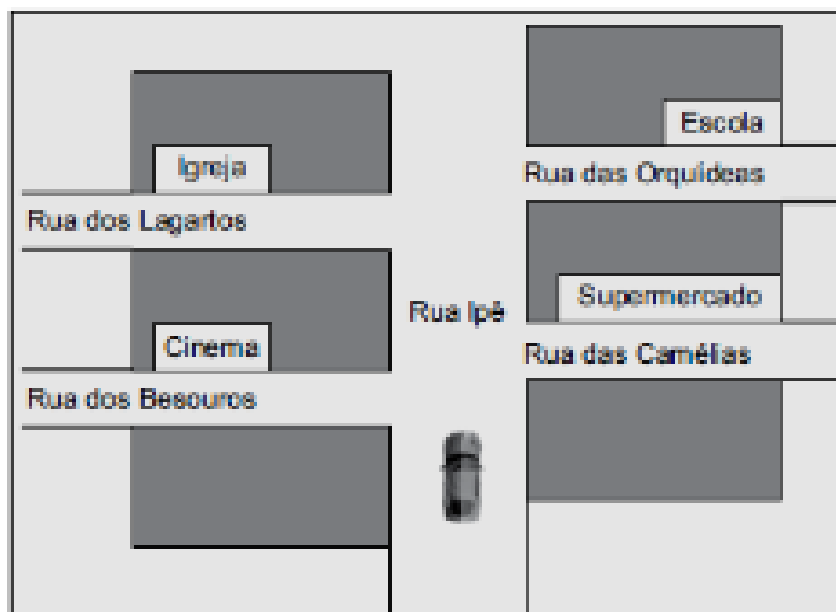
Marque a opção onde aparece a palavra que você viu escrita de outra forma.

- (A) Sacada
- (B) *Salada*
- (C) Sacola
- (D) Saliva

MATEMÁTICA 02/12

QUESTÃO 11

Veja no mapa abaixo o carro que está indo pela Rua Ipê. Esse carro vai virar a segunda rua à direita.



Esse carro chegará à rua

- (A) das Orquídeas.
- (B) dos Lagartos.
- (C) das Camélias.
- (D) dos Besouros.

QUESTÃO 12

Fior estava brincando de pular corda. Ela contava de 5 em 5. Na sua contagem Fior esqueceu alguns números.




5, 10, 15,, 25, 30.

O número esquecido foi

- (A) 12
- (B) 15
- (C) 18
- (D) 20

QUESTÃO 13

Observe os quatro lápis e responda:



O lápis menor é o de número

- (A) 1
- (B) 2
- (C) 3
- (D) 4

QUESTÃO 14

A figura a seguir representa a tabela de preços de uma lanchonete.

PRODUTO	VALOR EM RS
Salgado	3,00
Vitamina	5,00
Refrigerante	4,00
Bolo	6,00
Suco	2,00

Pela tabela, o produto mais barato e o mais caro, nesta ordem são

- (A) Refrigerante e bolo.
- (B) Suco e salgado.
- (C) Suco e bolo.
- (D) Vitamina e refrigerante.

QUESTÃO 16

Leia o texto:

O macaco foi à feira
Não teve o que comprar
Comprou uma cadeira
Pra comadre se sentar
A comadre se sentou
A cadeira esborrachou
Coitada da comadre
Foi parar no corredor

Disponível em: <<http://www.brinquedoteca.org.br/si/site/00050301?idioma=portugues>>.

A comadre foi parar no corredor, porque ela

- (A) caiu da cadeira.
- (B) estava com pressa.
- (C) levantou correndo.
- (D) preferiu ficar em pé.

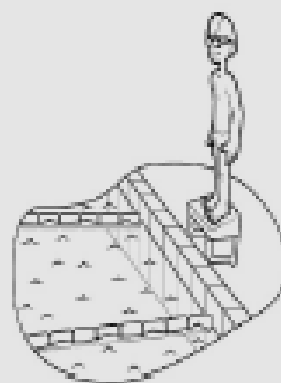
QUESTÃO 17

Leia o texto:

AULAS DE NATAÇÃO INFANTIL!

AULAS TODOS OS DIAS
(MANHÃ E TARDE)

LOCAL: ACADEMIA M.O.M
VALOR: R\$ 50,00



Este texto fala principalmente sobre

- (A) dias da semana.
- (B) academias.
- (C) aulas de natação.
- (D) piscinas.

QUESTÃO 18

Leia o texto:

GABRIEL,

VENHA CURTIR COMIGO MEU ANIVERSÁRIO DE 10 ANOS.
VAMOS NOS DIVERTIR PRA VALERIIII

LOCAL: MINHA CASA
DATA: 20 DE DEZEMBRO
HORÁRIO: 16 h

MARINA.

Esse texto é

- (A) um bilhete.
- (B) um convite.
- (C) uma notícia.
- (D) uma piada.

QUESTÃO 19

Marque a opção onde está a palavra que possui a mesma sílaba inicial do nome da figura abaixo:



- (A) galinha.
- (B) janela.
- (C) jiboia.
- (D) chácara.

QUESTÃO 20

Leia o texto:

TUCANO

Os tucanos fazem ninhos nos ocos das árvores e as fêmeas botam de dois a quatro ovos por vez. Durante 18 dias, elas chocam os ovinhos no ninho.

Os filhotinhos de tucano nascem sem penas e ficam por um bom tempo no ninho: por 40 dias, eles são alimentados pela mãe tucano. Existem muitas espécies de tucanos no Brasil.

Disponível em: <<http://www.canalkids.com.br/mecambiente/mundodosanimais/tucano.htm>>.

De acordo com esse texto, as fêmeas de tucanos chocam os ovos durante

- (A) 2 dias.
- (B) 4 dias.
- (C) 18 dias.
- (D) 40 dias.

MATEMÁTICA 03/12

QUESTÃO 15

José escreveu certo número da seguinte forma

$$\boxed{700} + \boxed{40} + \boxed{5}$$

O número escrito por José é

- (A) 700
- (B) 705
- (C) 740
- (D) 745

QUESTÃO 16

Carlos comprou um pacote de balas de três sabores. Ele contou todas as balas desse pacote agrupadas por sabores e registrou:

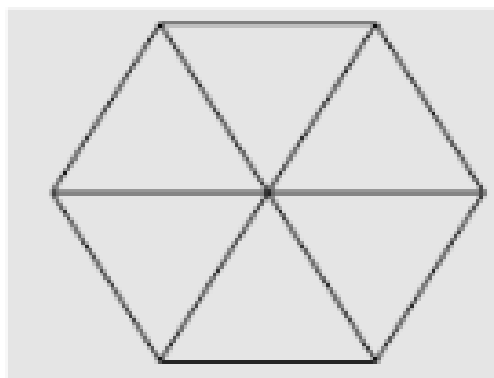
SABOR	CONTAGEM
MORANGO	10
CHOCOLATE	8
LARANJA	13

No pacote, o maior número de balas é de:

- (A) morango
- (B) chocolate
- (C) laranja
- (D) maçã

QUESTÃO 17

Veja o polígono abaixo.



Esse polígono é formado por seis

- (A) triângulos.
- (B) retângulos.
- (C) quadrados.
- (D) losangos.

QUESTÃO 18

Observe no quadro abaixo as frutas que Ana Maria come durante a semana.

Segunda-feira	Terça-feira	Quarta-feira	Quinta-feira	Sexta-feira
ameixa	morango	uva	banana	mamão

Qual fruta Ana Maria come na quarta-feira?

- (A) Ameixa.
- (B) Banana.
- (C) Morango.
- (D) Uva.


QUESTÃO 19

Edson irá distribuir igualmente suas 18 balas entre ele, Lucas e Francisco. Quantas balas cada um desses meninos irá receber?

- (A) 5
- (B) 9
- (C) 15
- (D) 18

QUESTÃO 20

Lutz, Frederico, João e Paulo estudam juntos na sala do 3º Ano. A figura a seguir mostra o quanto cada um deles levou para a escola.



Dois amigos levaram a mesma quantidade de dinheiro para a escola. Quais são eles?

- (A) Frederico e Paulo.
- (B) Lutz e João.
- (C) Lutz e Frederico.
- (D) João e Paulo.

FONTE

<https://judienebertoldo.files.wordpress.com/2013/09/modelo-de-avali-diaq-mat-3c2ba-ano-ef.pdf>
<http://profmaries.blogspot.com/2013/10/ana-avaliacao-nacional-de-alfabetizacao.html>

E.M. VEREADOR LOURIVAL CORREIA DE ARAÚJO

ATIVIDADES NÃO PRESENCIAIS

4º ANO B

PERÍODO DE: 30 DE NOVEMBRO A 10 DE DEZEMBRO

PROFESSORA: CLEONICE FLOR DE LIMA ARJONA

4º BIMESTRE

15ª APOSTILA

06/12	ATIVIDADES LÚDICAS DE NATAL	<ul style="list-style-type: none">➤ Texto: Um dia especial➤ Palavras cruzadas
07/12	ATIVIDADES LÚDICAS DE NATAL	<ul style="list-style-type: none">➤ Receita Biscoitos natalinos➤ Caça-palavras
08/12	ATIVIDADES LÚDICAS DE NATAL	<ul style="list-style-type: none">➤ Tirinha Natalina➤ Adivinhas Natalinas
09/12	ATIVIDADES LÚDICAS DE NATAL	<ul style="list-style-type: none">➤ Caça – palavras Presente Especial➤ Palavras - cruzadas
10/12	ATIVIDADES LÚDICAS DE NATAL	<ul style="list-style-type: none">➤ Árvore dos sentimentos➤ Desenho Natalino para colorir



Escola _____

Nome: _____

Data: ____/____/____

Alfabetizar com AMOR
www.amorensina.com



Jesus nasceu! É Natal!...



Um dia especial

Isabel Cristina Silveira Soares

Era dia de enfeitar a árvore de Natal.

Vítor levantou cedo e começou a enfeitá-la.

Na árvore, ele colocou bolas coloridas, laços dourados, estrelas e outros enfeites.

Vítor trabalhou o dia inteiro e sua árvore ficou linda!

Ao final do dia, toda a família se juntou ao redor da árvore para fazer uma prece de agradecimento a Deus por mais um Natal que estava chegando.

Parece que até a árvore agradeceu, pois suas estrelas brilhavam e piscavam como as estrelas do céu.



Estudando o texto

- 1) Numere os parágrafos do texto.
- 2) Escreva no retângulo abaixo o título do texto.


Escola: _____

Data: _____ Turma: _____

SOESCOLA.COM

Aluno: _____

PALAVRAS CRUZADAS



Biscoitos Natalinos



Ingredientes

Para a massa

- 330 gramas de manteiga mole
- 180 gramas de açúcar refinado
- Raspas de 1 limão
- 1 colherinha de baunilha
- 450 gramas de farinha de trigo

Para a cobertura

- 1 1/3 xícara de açúcar de confeiteiro
- 2 colheres de água
- Flocos para decorar

<http://www.bolsademulher.com/receita/580/como-fazer-biscoitos-para-o-natal>

1- Júlia e Pedro estão fazendo deliciosos biscoitos natalinos para o Papai Noel. Observe os ingredientes utilizados na receita e responda.

a- Qual número de ingredientes necessários?

b- Escreva os nomes dos ingredientes líquidos?

c- Agora, escreva os nomes dos ingredientes sólidos.

2- Resolva as situações problema.

a- A receita de Júlia e Pedro renderá 50 biscoitos. Do total, 28 biscoitos serão deixados na lareira para o Papai Noel. Quantos biscoitos sobrarão?

b- Júlia resolveu fazer mais uma fornada de biscoitos. Pedro ajudou cortando em forma de corações, círculos e estrelas. Foram cortados 22 corações, 19 círculos e 3 estrelas. Quantos biscoitos foram cortados no total?

CAÇA-PALAVRAS

PINHEIRINHO
NATAL
ESTRELA
PAPAI NOEL
PRESEPIO
SINO
SAPATINHO
PRESENTE
ANJO
FAMÍLIA
NICOLAU
BOLINHAS



A	D	F	C	V	B	E	T	A	N	I	C	O	L	A	U	U	J	I	O
E	R	B	A	S	R	T	G	O	P	L	T	G	R	O	L	P	T	E	C
Q	A	O	P	I	N	H	E	I	R	I	N	H	O	A	E	D	C	V	G
S	C	L	T	G	H	U	J	I	O	P	L	F	R	V	B	N	M	A	C
E	N	I	E	P	R	F	G	H	N	M	O	L	P	E	D	C	A	Q	U
D	A	N	D	A	U	A	S	D	E	R	F	E	S	T	R	E	L	A	O
A	T	H	C	P	J	A	S	D	F	C	V	R	T	E	D	C	N	H	U
S	A	A	V	A	O	A	S	D	F	R	T	V	B	U	O	P	E	R	U
D	L	S	F	I	L	E	P	R	E	S	E	P	I	O	A	R	D	F	J
E	D	T	R	N	P	D	A	F	G	T	H	U	J	O	O	E	C	S	N
R	F	G	T	O	L	C	S	E	D	F	F	E	D	F	L	S	V	I	M
F	R	H	U	E	M	F	D	T	G	B	A	T	G	I	P	E	F	N	L
H	E	U	B	L	N	T	C	A	S	C	M	O	T	P	I	N	R	O	O
U	Z	J	N	A	A	G	T	I	J	O	I	E	D	F	J	T	Q	O	P
S	A	P	A	T	I	N	H	O	R	F	L	Q	U	E	M	E	A	L	S
U	E	D	F	T	G	H	U	I	M	O	I	T	G	U	N	I	S	P	E
J	E	D	R	F	T	U	J	I	O	S	A	U	J	I	H	J	Z	I	D
O	A	S	A	N	J	O	R	F	T	H	N	M	O	P	T	O	V	H	F

O Presente de Natal



a) Qual é o título da história em quadrinhos?

R: _____

b) Quais são os personagens que aparecem na história em quadrinhos?

R: _____

c) Qual é o nome do autor da história?

R: _____

d) Qual é o bichinho de pelúcia que a Mônica não queria ganhar neste ano?

R: _____

e) Qual é o presente que a Mônica pediu para o Papai Noel?

R: _____

2) Pinte a **SÍLABA TÔNICA** das palavras abaixo: (1,0 – 0,13)

GOS TA VA RÁ PI DO

CA PI TÃO ES TÔ MA GO

ÁR VO RE A MEN DO IM

MA RA CU JÁ TÊR MI CA

ATIVIDADE

P	E	R	U	R	G	O	U
H	R	B	O	N	E	C	O
N	O	E	F	J	A	E	G
A	B	O	S	N	X	L	O
T	L	N	O	E	L	F	R
A	R	E	N	S	N	O	R
L	O	V	D	F	J	T	O
E	T	E	N	P	E	R	E



GORRO

PERU

PRESENTE

BONECO

ELFO

NATAL

NOEL

NEVE



lipitipi.org

ESTUDANTE _____

Escola: _____


Data: _____ Turma: _____ EducacaoeTransformacao.com.br

Aluno: _____

NATAL - PRESENTES ESPECIAIS

Quem faz aniversário no Natal é Jesus! Vamos dar presentes a ELE?
Pense em coisas que não encontramos nas lojas e encontre no diagrama abaixo:

CAÇA-PALAVRAS



UNIÃO
AMIGO
PAZ
SALVAÇÃO
AMOR

A	T	R	F	A	N	T	L	E	T	U	B
T	S	A	E	S	V	I	S	L	W	Q	Ã
R	Á	A	M	I	G	O	Y	I	S	P	P
Ã	D	S	L	R	I	O	P	H	O	M	Z
P	I	O	V	V	N	P	A	M	O	R	Ã
R	O	H	J	Q	A	E	T	U	I	N	S
O	G	N	F	H	A	Ç	Z	A	G	O	I
D	Á	E	N	B	R	O	Ã	L	C	Ç	X
U	P	L	O	J	Ã	M	F	O	U	L	E
T	I	E	G	I	V	I	R	V	E	H	L
A	Ç	B	N	S	T	P	H	P	I	F	U
S	Q	U	R	Ç	I	A	T	A	S	B	T
A	M	E	S	P	O	Z	X	A	L	Q	V

ESCOLA: _____

ALUNO(A): _____



ANJO! COMPLETE A CRUZADINHA COM OS NOMES DOS ELEMENTOS QUE COMPÕEM O VERDADEIRO NATI:

4



3



1



1-

N

2-

A

3-

T


4-

A

5-

L

5



2

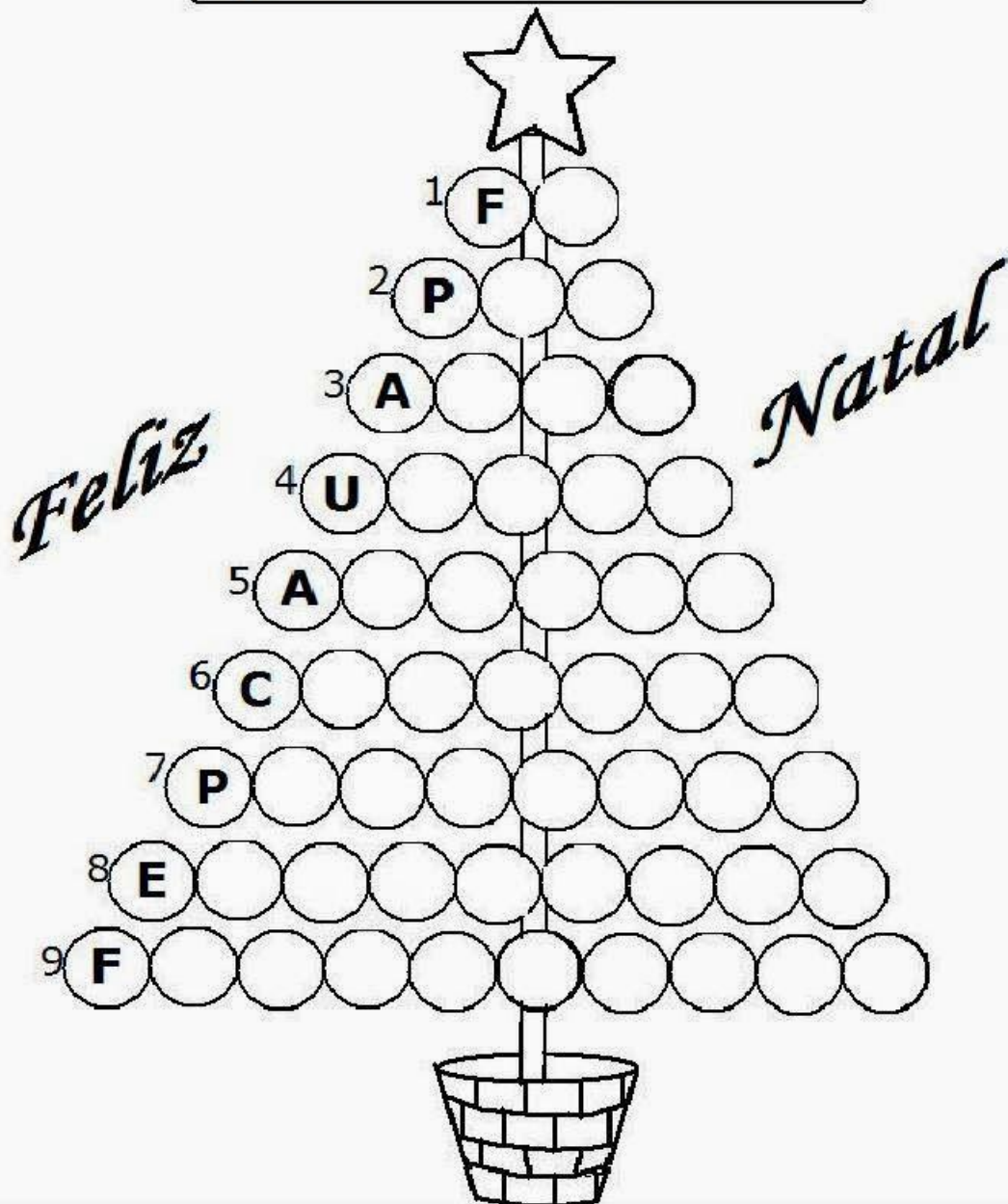


1- ANJO 2- PASTORES 3-ESTREBARIA 4-SALVADOR 5-ESTRELA



Mistura de Alegria

ÁRVORE DOS SENTIMENTOS



1-crença

2- tranquilidade

3- paixão

4-junção

5-contentamento

6- mimo

7-divisão


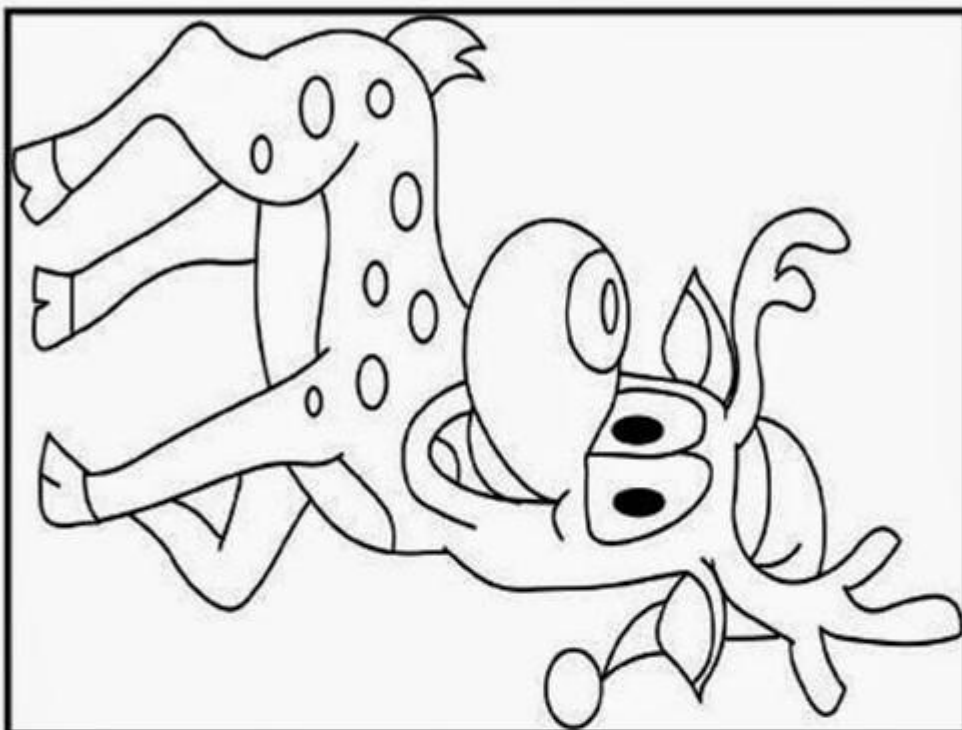
8-expectativa

9- boa sorte

ESCOLA

PROFESSORA (O)

ALUNO (A)



ENCONTRE OS CINCO ERROS

REFERÊNCIAS

www.ensinareaprender.com.br

www.misturadealegria.com.br

www.educacaoetransformacao.com.br

www.lipitipi.com.br

www.soescola.com.br

www.amorensina.com

www.profwarles.com.br