

A praia do coqueiro deitado

ler!

A Praia de Aventureiro, segundo muitos visitantes, é o local mais paradisíaco da Ilha Grande com deslumbrantes paisagens. Apresenta cerca de 500m de areia fina e prateada, fundo raso e consistente, água límpida e mar agitado, exceto na extremidade esquerda de quem chega pelo mar, onde existe um pequeno cais para atracação. No lado esquerdo de quem olha do mar, está o coqueiro mais famoso da Ilha Grande, o "coqueiro deitado" é cartão postal da praia de Aventureiro e da Ilha Grande, no local também existe uma pequena piscina natural.

Seu nome faz sentido porque nem sempre é fácil chegar à Praia do Aventureiro. Quando o mar está de ressaca não é aconselhável navegar, fazendo a travessia das "temíveis" pontas do Drago e Meros. Nessas circunstâncias, o único jeito para se chegar em Aventureiro é caminhando a partir da Vila de Provetá.



Que praia linda, não é mesmo?!
Sei que você leu com bastante atenção,
então, vai ser fácil responder!



- Sobre que praia fala o texto?
- Onde ela fica?
- Qual é o cartão postal mais famoso da Praia do Aventureiro?
- Marque um "X" nas qualidades dadas à Praia do Aventureiro:
 água límpida areia grossa mar agitado
 suja rasa areia fina
- A praia tem este nome porque:
 é muito fácil chegar nela.
 só se chega lá nadando.
 nem sempre é fácil chegar nela e, quando há ressaca, o melhor jeito é caminhando a partir da Vila de Provetá.



Você sabe como começou a agricultura e sua importância em nossas vidas?

ponta do
lápis!

O que é agricultura?

O termo agricultura quer dizer "arte de cultivar". É o conjunto de técnicas concebidas para cultivar a terra a fim de obter produtos dela. Os produtos da agricultura são primariamente os alimentos, contudo, com os avanços nas técnicas e na tecnologia, a agricultura tem servido cada vez mais para a produção de fibras, energia, matéria-prima para roupas, combustível, construção, medicamentos, ferramentas, ornamentação e inúmeras outras finalidades. Esses produtos, bem como os métodos agrícolas utilizados, podem variar de uma parte do mundo para outra.



A irrigação é uma das técnicas agrícolas que permite o controle da produção e da produtividade, independentemente de fatores naturais.


Origem

A agricultura marcou o início do sedentarismo humano e está essencialmente ligada ao surgimento dos primeiros agrupamentos humanos e às primeiras civilizações. Antes da agricultura, as pessoas eram nômades e passavam a maior parte de suas vidas se mudando atrás de caça e de coleta de frutos e plantas para a alimentação.

Cerca de 11.500 anos atrás, os seres humanos, gradualmente, aprenderam a cultivar cereais e tubérculos e, assim, puderam fixar-se em um único lugar e estabelecer uma vida baseada na agricultura. No mesmo período, também se iniciou a pecuária, com a gradual domesticação e criação de animais, que até então eram selvagens.

● De acordo com o texto, marque um "X" nas frases corretas:

- O termo agricultura quer dizer "a arte de cultivar".
- A agricultura é o conjunto de técnicas concebidas para cultivar a terra e a fim de obter produtos dela.
- A irrigação é uma técnica agrícola que permite o controle da produção e da produtividade, independentemente de fatores naturais.
- Antes da agricultura, o homem era nômade, isto é, como não sabia plantar, vivia se mudando atrás de caça e pesca.
- A agricultura e a pecuária são a mesma coisa.



ler!

Observe atentamente a obra "A Família" de Tarsila do Amaral e responda:

A pintura mostra uma família que mora no campo ou na cidade?

Quantas pessoas compõem esta família?

Há apenas pessoas nesta foto? Quem mais aparece?

Você tem animal de estimação? Se tem, você o considera como membro da sua família ou não?

Qual é o nome deste quadro?

Quem o pintou?



Você sabe quem foi Tarsila do Amaral?

Tarsila de Aguiar do Amaral foi uma pintora, desenhista e tradutora brasileira. Nasceu em São Paulo, no ano de 1886 e faleceu também em São Paulo, em 1973.

Coloque nos espaços os sinais de pontuação adequados:

Depois faça a leitura com pausas e entonações corretas:

Pergunta Joana

_ Já viu bandos de andorinhas

E Marcos responde

Já vi Elas fazem belas curvas ao voar pelo céu

Gosto tanto de ver as andorinhas na primavera



Ligue corretamente:

Li o livro.



Ponto de exclamação

_ João, anda cá.



Ponto final

Que belo dia!



Ponto de interrogação

Vamos sair?



Vírgula

Escreva uma frase interrogativa e outra exclamativa:

FIQUE LIGADO!

por que → No início e no meio das frases interrogativas diretas ou indiretas.

porque → Para responder a uma pergunta.

por quê → No final de uma frase interrogativa.

porquê → Quando significa razão, motivo.

✎ Complete as frases com **por que**, **porque**, **por quê** ou **porquê**.

- 1- Marina está chorando. Posso saber _____?
- 2- _____ você chegou atrasado hoje?
- 3- Estou alegre _____ hoje vou ao circo.
- 4- Qual será o _____ daquela confusão?
- 5- Sua mãe não deixou você ir ao cinema _____?
- 6- _____ Júlia está tão contente?
- 7- Bruna não foi a escola _____ está doente.
- 8- _____ as folhas das árvores estão caindo?



Nome:

A CAUSA DA CHUVA

NÃO CHOVIA HÁ MUITOS E MUITOS MESES, DE MODO QUE OS ANIMAIS FICARAM INQUIETOS. UNS DIZIAM QUE IA CHOVER LOGO, E OUTROS DIZIAM QUE AINDA IA DEMORAR. MAS NÃO CHEGAVAM A UMA CONCLUSÃO.

- CHOVE SÓ QUANDO A ÁGUA CAI DO TETO DO MEU GALINHEIRO – ESCLARECEU A GALINHA.

- ORA, QUE BOBAGEM! – DISSE O SAPO DENTRO DA LAGOA.

- CHOVE QUANDO A ÁGUA DA LAGOA COMEÇA A BORBULHAR SUAS GOTINHAS.

- COMO ASSIM? – DISSE A LEBRE – ESTÁ VISTO QUE SÓ CHOVE QUANDO AS FOLHAS DAS ÁRVORES COMEÇAM A DEIXAR CAIR AS GOTAS D'ÁGUA QUE TEM LÁ DENTRO.

NESSE MOMENTO COMEÇAVA A CHOVER.

- VIRAM? – GRITOU A GALINHA. – O TETO DO MEU GALINHEIRO ESTÁ PINGANDO. ISSO É CHUVA?

- ORA, NÃO VÊ QUE A CHUVA É A ÁGUA DA LAGOA BORBULHANDO? - DISSE O SAPO.

- MAS, COMO ASSIM? – TORNAVA A LEBRE. – PARECEM CEGOS? NÃO VEEM QUE A ÁGUA CAI DAS FOLHAS DAS ÁRVORES?

MILLÔR FERNANDES.
FÁBULAS FABULOSAS”

1- Qual o título do texto? Quantos parágrafos há na história? Quem é o autor?

2- Qual era a inquietação dos animais?

3- Quais são os personagens do texto?

4- O que levou os animais a discutirem?

5- Em sua opinião, Porque cada animal tem uma explicação diferente, para o que é a chuva?

Nome:

Matemática

Uma farmácia possuía em seu estoque 250 frascos de álcool gel. Comprou o triplo da quantidade que já tinha para atender seus clientes. Com quantos frascos de álcool gel a farmácia ficou?

Na farmácia, um cliente comprou 1 frasco de álcool gel por R\$12,50. Ele pagou com uma nota de R\$ 50,00. Quanto o cliente recebeu de troco?

No estoque da farmácia havia 150 máscaras, foram vendidas 30 máscaras pela manhã, 40 durante a tarde e 15 no turno da noite. Quantas máscaras sobraram no estoque para serem vendidas no dia seguinte?

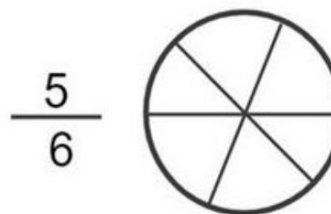
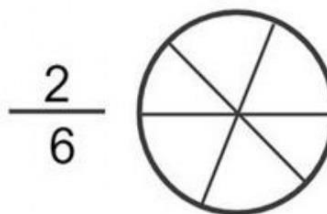
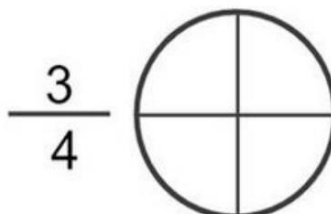
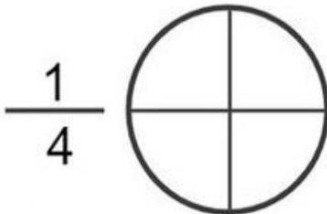
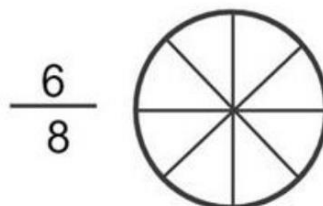
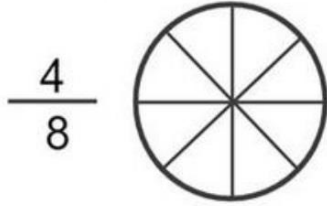
Um pacote com 5 máscaras está sendo vendido em uma farmácia por R\$ 5,00. Um cliente está comprando dois pacotes de máscaras. Então, quantas máscaras estão sendo compradas? E quanto ele receberá de troco se está pagando com uma nota de R\$ 20,00?

Nome:

Matemática

FRAÇÕES

Pinte as imagens abaixo conforme indicado pela fração:



Nome:

Matemática

1 – Mamãe tinha uma centena e meia de ovos, gastou 63. Com quantos ovos ficou?

R:

2 – Jacira tem 680 pirulitos e José tem 120. Quantos pirulitos Jacira têm a mais?

R:

3 – Em 1994, Rosa completou 33 anos. Em que ano ela nasceu?

R:

4 – Uma pessoa para fazer uma viagem, saiu de às 8:00 horas, e chegou ao seu destino às 17:00 horas. Quanto tempo gastou na viagem?

R:

5 – Pepeu tem 08 anos, e seu pai tem 32. A idade da mãe é a diferença entre a idade do pai e do filho. Qual a idade dela?

R:

Nome:

Matemática

1 - Marcela nasceu no de 1985. Quantos anos ela tem agora?

R:

2 – Zezé foi ao mercado e gastou R\$ 235,00. Deu R\$ 300,00 para pagar suas compras. Calcule o troco do Zezé?

R:

3 – A soma de dois números é 458. Se um deles é 85, descubra o outro número.

R:

4 – Vera foi a feira e comprou 01 cento e meio de laranjas ,dois centos de lima e 05 dezenas de bananas. Quantas frutas vera comprou?

R:

5 – Renato tinha 04 dezenas e 08 unidades de bolinhas. Ganhou 08 dezenas e 03 unidades, e comprou mais 05 dúzias e meia de bolinhas. Quantas bolinhas tem ao todo?

R: