

E.M "ALICE VIEIRA DE CAMARGO"

NOME:

3º ANO A

17ª APOSTILA

## MINHAS ATIVIDADES



**REFERENTES AOS DIAS: 29, 30/11, 01,02, 03 DE DEZEMBRO.**

**PROFESSORA: BIANCA MIRANDA**

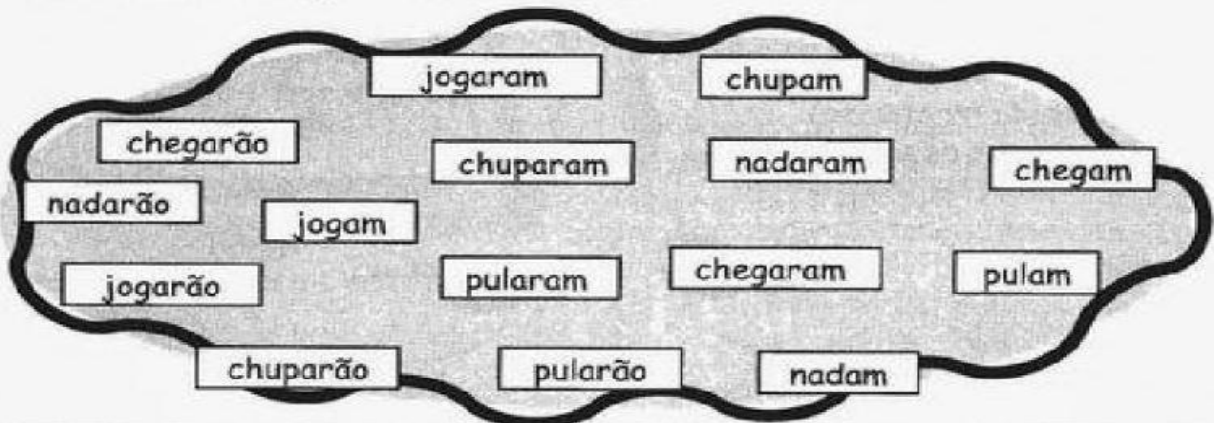
NOME: \_\_\_\_\_

ESCOLA: \_\_\_\_\_ TURMA: \_\_\_\_\_

DATA: IBIÚNA, 29 DE NOVEMBRO DE 2021 \_\_\_\_\_

DISCIPLINA: LÍNGUA PORTUGUESA \_\_\_\_\_

Descubra o segredo e continue:



## VERBOS

### PRESENTE

nadam

### PASSADO

nadaram

### FUTURO

nadarão

Procure no caça-palavras abaixo verbos que você selecionou:

C	H	E	G	A	M	V	C	H	U	P	A	M
T	J	O	G	A	R	Ã	O	F	D	G	P	B
N	D	F	P	U	L	A	R	Ã	O	E	U	P
A	N	A	D	A	R	Ã	O	K	Y	Z	L	U
D	K	U	C	H	E	G	A	R	A	M	A	L
A	C	H	E	G	A	R	Ã	O	M	B	R	A
M	J	C	H	U	P	A	R	Ã	O	L	A	M
Z	X	C	V	C	H	U	P	A	R	A	M	D
C	J	O	G	A	R	A	M	B	E	I	O	G
N	A	D	A	R	A	M	B	J	O	G	A	M



NOME: \_\_\_\_\_

ESCOLA: \_\_\_\_\_ TURMA: \_\_\_\_\_

DATA: IBIÚNA, 29 DE NOVEMBRO DE 2021

DISCIPLINA: LÍNGUA PORTUGUESA

## "S" - "C" - "Ç"

COMPLETE OS QUADRINHOS USANDO "S", "C", OU "Ç" PARA ESCREVER AS PALAVRAS CORRETAMENTE. PESQUISE NO DICIONÁRIO EM CASO DE DÚVIDA.



	É	R	E	B	R	O			
P	E	N		Ã	O				
A	L	M	O		O				
	A	L		I	C	H	A		
E	N	D	E	R	E		O		
	E	R	E	A	L				
C	O	N	V	U	L		Ã	O	
	E	R	Ã	M	I	C	A		
M	A		I	O					
	E	M	E	N	T	E			
	E	N	T	A	V	O			
C	A	N		A		O			
D	E		E	P		Ã	O		
M	A	N		Ã	O				
	I	N	Z	A					
	E	V	E	R	O				
P	U	L		O					
P	A	L	H	A		O			
I	N	Í		I	O				
C	O	N		E	R	V	A		Ã
	I	R	U	R	G	I	A		
	A	U	D	A		Õ	E	S	

NOME: \_\_\_\_\_

ESCOLA: \_\_\_\_\_ TURMA: \_\_\_\_\_

DATA: IBIÚNA, 30 DE NOVEMBRO DE 2021 \_\_\_\_\_

DISCIPLINA: MATEMÁTICA \_\_\_\_\_

### ANTECESSOR E SUCESSOR

\_\_\_ 10 \_\_\_

\_\_\_ 110 \_\_\_

\_\_\_ 20 \_\_\_

\_\_\_ 120 \_\_\_

\_\_\_ 30 \_\_\_

\_\_\_ 130 \_\_\_

\_\_\_ 40 \_\_\_

\_\_\_ 140 \_\_\_

\_\_\_ 50 \_\_\_

\_\_\_ 150 \_\_\_

\_\_\_ 60 \_\_\_

\_\_\_ 160 \_\_\_

\_\_\_ 70 \_\_\_

\_\_\_ 170 \_\_\_

\_\_\_ 80 \_\_\_

\_\_\_ 180 \_\_\_

\_\_\_ 90 \_\_\_

\_\_\_ 190 \_\_\_

\_\_\_ 100 \_\_\_

\_\_\_ 200 \_\_\_

NOME: \_\_\_\_\_

ESCOLA: \_\_\_\_\_ TURMA: \_\_\_\_\_

DATA: IBIÚNA, 30 DE NOVEMBRO DE 2021 \_\_\_\_\_

DISCIPLINA: HISTÓRIA \_\_\_\_\_

① Observe os tipos de ruas abaixo?

1



2



a) Qual é a diferença entre as ruas das fotos?

\_\_\_\_\_

b) Em qual das ruas os veículos circulam facilmente? Por quê?

\_\_\_\_\_

c) Marque com o x o número que indica qual rua de paralelepípedo (rua de pedra).

①

②

② Meios de Transportes

Os meios de transportes são de grande importância para o nosso país.

Eles servem para transportar pessoas e carregar mercadorias.

São divididos em terrestres, aquáticos e aéreos.

•Cite 3 meios de transporte:

**TERRESTRE**

**AQUÁTICO**

**AÉREO**

\_\_\_\_\_

\_\_\_\_\_

\_\_\_\_\_

\_\_\_\_\_

\_\_\_\_\_

\_\_\_\_\_

\_\_\_\_\_

\_\_\_\_\_

\_\_\_\_\_

NOME: \_\_\_\_\_

ESCOLA: \_\_\_\_\_ TURMA: \_\_\_\_\_

DATA: IBIÚNA, 30 DE NOVEMBRO DE 2021

DISCIPLINA: MATEMÁTICA

$$\begin{array}{r} 63 \\ + 24 \\ \hline \end{array}$$

$$\begin{array}{r} 42 \\ + 50 \\ \hline \end{array}$$

$$\begin{array}{r} 15 \\ + 63 \\ \hline \end{array}$$

$$\begin{array}{r} 71 \\ + 6 \\ \hline \end{array}$$

$$\begin{array}{r} 45 \\ + 32 \\ \hline \end{array}$$

$$\begin{array}{r} 86 \\ + 12 \\ \hline \end{array}$$

$$\begin{array}{r} 16 \\ + 52 \\ \hline \end{array}$$

$$\begin{array}{r} 45 \\ + 34 \\ \hline \end{array}$$

$$\begin{array}{r} 50 \\ + 19 \\ \hline \end{array}$$

$$\begin{array}{r} 61 \\ + 17 \\ \hline \end{array}$$

$$\begin{array}{r} 42 \\ + 36 \\ \hline \end{array}$$

$$\begin{array}{r} 54 \\ + 22 \\ \hline \end{array}$$

$$\begin{array}{r} 35 \\ + 41 \\ \hline \end{array}$$

$$\begin{array}{r} 27 \\ + 31 \\ \hline \end{array}$$

$$\begin{array}{r} 30 \\ + 49 \\ \hline \end{array}$$

$$\begin{array}{r} 15 \\ + 72 \\ \hline \end{array}$$

$$\begin{array}{r} 23 \\ + 54 \\ \hline \end{array}$$

$$\begin{array}{r} 41 \\ + 18 \\ \hline \end{array}$$

$$\begin{array}{r} 20 \\ + 59 \\ \hline \end{array}$$

$$\begin{array}{r} 62 \\ + 16 \\ \hline \end{array}$$

$$\begin{array}{r} 44 \\ + 33 \\ \hline \end{array}$$

$$\begin{array}{r} 51 \\ + 26 \\ \hline \end{array}$$

$$\begin{array}{r} 36 \\ + 61 \\ \hline \end{array}$$

$$\begin{array}{r} 25 \\ + 42 \\ \hline \end{array}$$

$$\begin{array}{r} 72 \\ + 12 \\ \hline \end{array}$$

NOME: \_\_\_\_\_

ESCOLA: \_\_\_\_\_ TURMA: \_\_\_\_\_

DATA: IBIÚNA, 01 DE DEZEMBRO DE 2021 \_\_\_\_\_

DISCIPLINA: GEOGRAFIA \_\_\_\_\_

RESPOSTA:

A) O QUE É MATÉRIA-PRIMA?

---

---

B) O QUE SÃO PRODUTOS INDUSTRIALIZADOS?

---

---

C) O QUE É INDÚSTRIA?

---

---

RELACIONE OS PRODUTOS À SUA MATÉRIA-PRIMA:


- |     |          |     |                    |
|-----|----------|-----|--------------------|
| (1) | COURO    | ( ) | QUEIJO, MANTEIGA   |
| (2) | MADEIRA  | ( ) | CHOCOLATE, BOMBONS |
| (3) | BORRACHA | ( ) | PÃO                |
| (4) | UVA      | ( ) | ÓLEO               |
| (5) | CACAU    | ( ) | SAPATOS, BOLSAS    |
| (6) | AMENDOIM | ( ) | MÓVEIS             |
| (7) | TRIGO    | ( ) | VINHO              |
| (8) | LEITE    | ( ) | PNEUS              |

NOME: \_\_\_\_\_

ESCOLA: \_\_\_\_\_ TURMA: \_\_\_\_\_

DATA: IBIÚNA, 01 DE DEZEMBRO DE 2021 \_\_\_\_\_

DISCIPLINA: LÍNGUA PORTUGUESA \_\_\_\_\_



## Classificação de sílabas

NOME	DIVISÃO SILÁBICA	Nº DE SÍLABAS	CLASSIFICAÇÃO
JOELHO			
CARROSSEL			
PÁ			
SOFÁ			
BOLHA			
FAROLETE			
ASSINATURA			
TELEFONE			
CABRITA			
COPO			
FÍGADO			
PEIXE			
FOICE			
MAR			
GIRASSOL			
PEDREGULHO			
FLORESTA			
CAMPO			
FIM			
RINOCERANTE			
PULGA			



NOME: \_\_\_\_\_

ESCOLA: \_\_\_\_\_ TURMA: \_\_\_\_\_

DATA: IBIÚNA, 01 DE DEZEMBRO DE 2021 \_\_\_\_\_

DISCIPLINA: CIÊNCIAS \_\_\_\_\_

## CAÇA-PALAVRAS



*A dengue é um dos principais problemas de saúde do mundo.  
Procure no caça-palavras alguns dos sintomas da dengue,  
e lembre-se: em caso de suspeita, procure um médico.*

1. **FEBRE**
2. **VÔMITOS**
3. **ENJOOS**
4. **DOR DE CABEÇA**
5. **MANCHAS VERMELHAS**
6. **CANSAÇO**
7. **FRAQUEZA**
8. **DIARREIA**

V	U	N	Ô	E	E	J	Ê	S	H	L	A	E
U	I	O	E	I	Y	P	V	L	E	O	Z	E
L	T	D	O	R	D	E	C	A	B	E	Ç	A
B	O	X	V	X	Z	A	A	E	U	I	F	V
S	F	E	B	R	E	S	E	O	P	T	T	Ô
I	K	W	O	A	O	S	F	M	Z	D	A	M
R	X	Ç	É	C	A	N	S	A	Ç	O	D	I
E	E	Ç	J	R	L	B	N	N	Ô	Ç	I	T
I	Ç	F	O	J	U	F	G	C	R	Ô	A	O
U	Ô	U	I	Á	R	B	Ç	H	W	Ç	R	S
T	S	S	A	T	L	V	L	A	N	Q	R	Ô
J	I	Ç	E	N	J	O	O	S	O	D	E	A
S	J	O	E	O	S	A	P	V	A	O	I	F
E	I	L	Ç	F	R	A	Q	U	E	Z	A	A
J	A	S	T	A	M	I	A	O	X	J	C	U

NOME: \_\_\_\_\_

ESCOLA: \_\_\_\_\_ TURMA: \_\_\_\_\_

DATA: IBIÚNA 02 DE DEZEMBRO DE 2021 \_\_\_\_\_

DISCIPLINA: LÍNGUA PORTUGUESA \_\_\_\_\_

## A CASA

ESSA CASA É DE CACO,

QUEM MORA NELA É O \_\_\_\_\_




ESSA CASA TÃO BONITA,

QUEM MORA NELA É A \_\_\_\_\_



ESSA CASA DE CIMENTO,

QUEM MORA NELA É O \_\_\_\_\_



ESSA CASA DE TELHA,

QUEM MORA NELA É \_\_\_\_\_



ESSA CASA DE LATA,

QUEM MORA NELA É A \_\_\_\_\_



ESSA CASA É ELEGANTE,

QUEM MORA NELA É O \_\_\_\_\_



EU DESCOBRI, DE REPENTE,

QUE NÃO FALEI DE CASA DE \_\_\_\_\_




NOME: \_\_\_\_\_

ESCOLA: \_\_\_\_\_ TURMA: \_\_\_\_\_


DATA: IBIÚNA, 02 DE DEZEMBRO DE 2021 \_\_\_\_\_

DISCIPLINA: LÍNGUA PORTUGUESA \_\_\_\_\_

# Descubra o **SEGREDO**



**TUBARÃO**



**FERRO**




**SACOLA**

**BALÃO**

**CARRO**


**ESCOLA**



**GALINHA**



**SAPATO**



**FOCA**

**FARINHA**

**GATO**

**BOCA**

NOME: \_\_\_\_\_

ESCOLA: \_\_\_\_\_ TURMA: \_\_\_\_\_

DATA: IBIÚNA, 03 DE DEZEMBRO DE 2021 \_\_\_\_\_

DISCIPLINA: MATEMÁTICA \_\_\_\_\_

# LÁPIS NA MÃO



**1** Você já estudou os sólidos geométricos. Recorte da aba o nome de cada sólido e cole-o abaixo da imagem correspondente.



cubo	pirâmide	cilindro
bloco retangular	cone	esfera

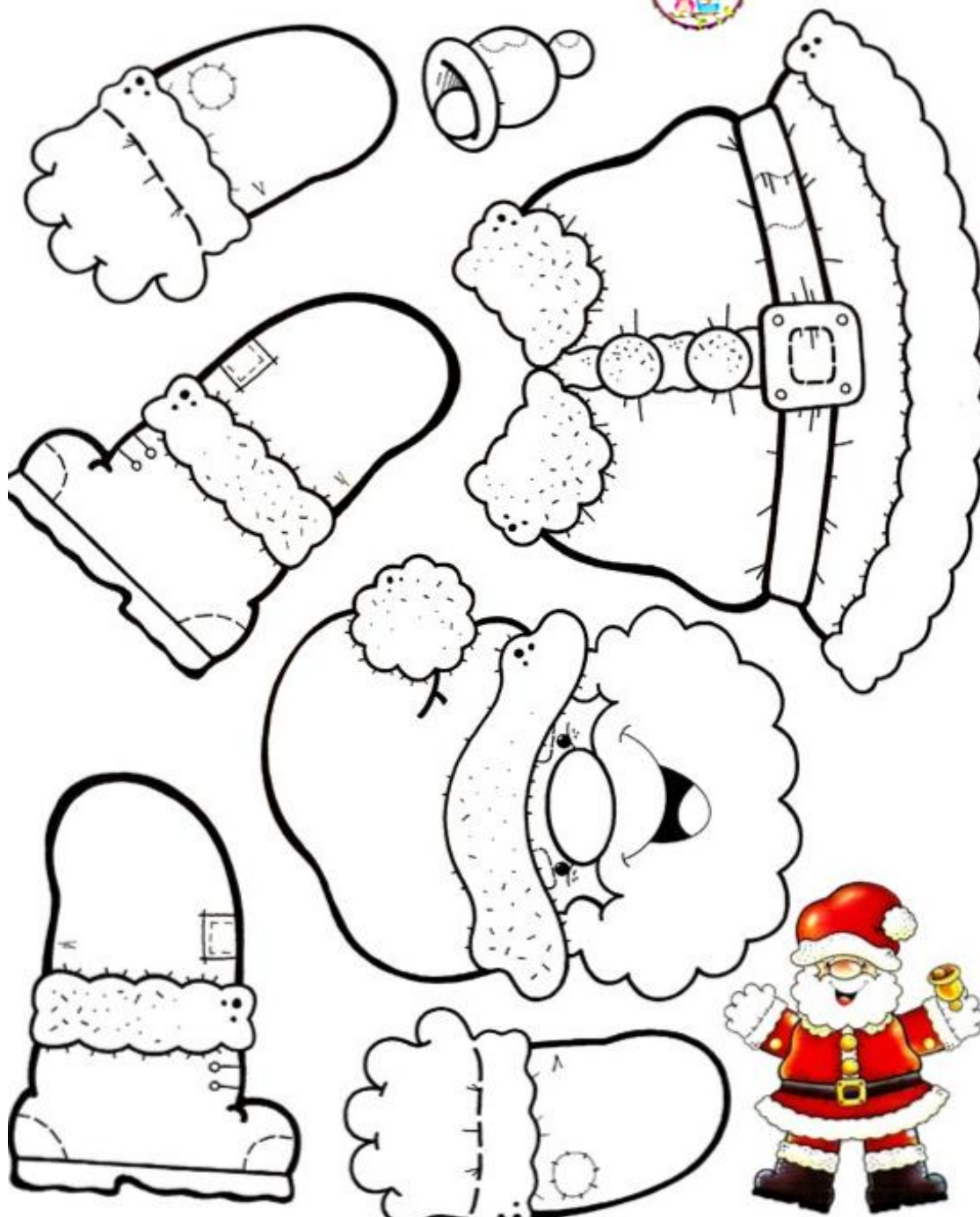
NOME: \_\_\_\_\_

ESCOLA: \_\_\_\_\_ TURMA: \_\_\_\_\_

DATA: IBIÚNA, 03 DE DEZEMBRO DE 2021 \_\_\_\_\_

DISCIPLINA: ARTES \_\_\_\_\_

# Papai Noel



## REFERÊNCIAS

[atividadesparaeducadores.blogspot.com](http://atividadesparaeducadores.blogspot.com)

[atividadespedagogicas.net](http://atividadespedagogicas.net)

[conhecimentosetransformacao.blogspot.com](http://conhecimentosetransformacao.blogspot.com)

[lereaprender.com.br](http://lereaprender.com.br)