

E.M "ALICE VIEIRA DE CAMARGO"

NOME:

4º ANO A

17ª APOSTILA

MINHAS ATIVIDADES



REFERENTES AOS DIAS: 29, 30/11, 01,02, 03 DE DEZEMBRO.

PROFESSORA: BIANCA MIRANDA

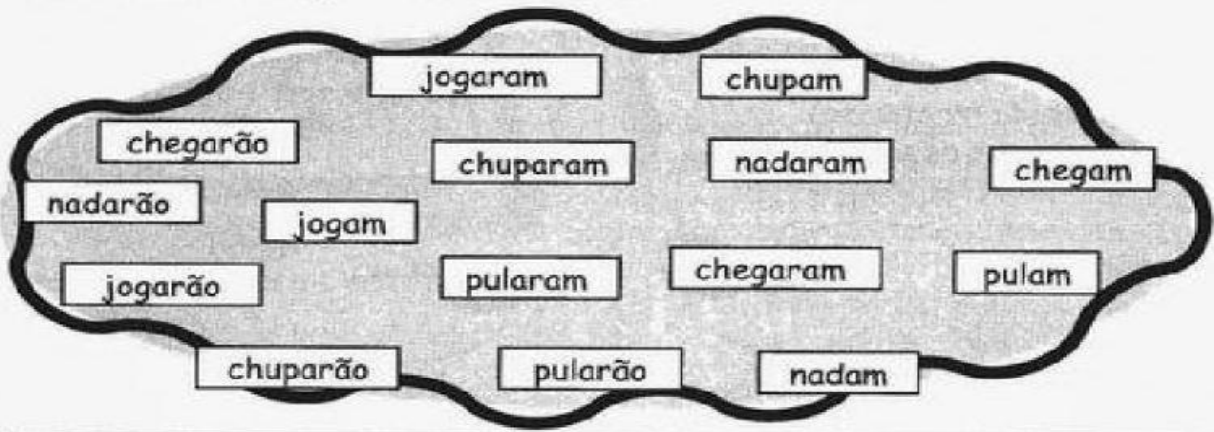
NOME: _____

ESCOLA: _____ TURMA: _____

DATA: IBIÚNA, 29 DE NOVEMBRO DE 2021 _____

DISCIPLINA: LÍNGUA PORTUGUESA _____

Descubra o segredo e continue:



VERBOS

PRESENTE

nadam

PASSADO

nadaram

FUTURO

nadarão

Procure no caça-palavras abaixo verbos que você selecionou:

C	H	E	G	A	M	V	C	H	U	P	A	M
T	J	O	G	A	R	Ã	O	F	D	G	P	B
N	D	F	P	U	L	A	R	Ã	O	E	U	P
A	N	A	D	A	R	Ã	O	K	Y	Z	L	U
D	K	U	C	H	E	G	A	R	A	M	A	L
A	C	H	E	G	A	R	Ã	O	M	B	R	A
M	J	C	H	U	P	A	R	Ã	O	L	A	M
Z	X	C	V	C	H	U	P	A	R	A	M	D
C	J	O	G	A	R	A	M	B	E	I	O	G
N	A	D	A	R	A	M	B	J	O	G	A	M



NOME: _____

ESCOLA: _____ TURMA: _____

DATA: IBIÚNA, 29 DE NOVEMBRO DE 2021 _____

DISCIPLINA: LÍNGUA PORTUGUESA _____

É MOLEZA!

Complete as palavras com **ÃO** ou **Ã** e escreva-as ao lado.

Piment_____	
Guardi_____	
Pelot_____	
Alem_____	
Rom_____	
Enoç_____	
Rolim_____	
Manh_____	

Avel_____	
Fricç_____	
Maç_____	
Sensaç_____	
Naç_____	
Bot_____	
Papel_____	
Órf_____	

Leia as palavras e passe-as para o plural.

Limão	
Escrivão	
Irmão	
Cidadão	
Pão	
Órgão	
Canção	
Saguão	
Benção	
Capitão	
Cão	
Cristão	
Mãe	
Reação	
Rã	
Botão	



NOME: _____

ESCOLA: _____ TURMA: _____

DATA: IBIÚNA, 29 DE NOVEMBRO DE 2021 _____

DISCIPLINA: LÍNGUA PORTUGUESA _____

"S" - "C" - "Ç"

COMPLETE OS QUADRINHOS USANDO "S", "C", OU "Ç" PARA ESCREVER AS PALAVRAS CORRETAMENTE. PESQUISE NO DICIONÁRIO EM CASO DE DÚVIDA.



	É	R	E	B	R	O	
P	E	N					
A	L	M	O				
	A	L					
E	N	D	E	R	E		
	E	R	E	A	L		
C	O	N	V	U	L		
	E	R	Â	M	I	C	A
M	A						
	E	M	E	N	T	E	
	E	N	T	A	V	O	
C	A	N					
D	E		E	P			
M	A	N					
	I	N	Z	A			
	E	V	E	R	O		
P	U	L					
P	A	L	H	A			
I	N	Í					
C	O	N					
	I	R	U	R	G	I	A
	A	U	D	A			



NOME: _____

ESCOLA: _____ TURMA: _____

DATA: IBIÚNA, 30 DE NOVEMBRO DE 2021 _____

DISCIPLINA: MATEMÁTICA _____

Escreva o antecessor e o sucessor dos numerais:



a) _____ 1.385 _____

b) _____ 2.597 _____

c) _____ 3.409 _____

d) _____ 4.236 _____


e) _____ 5.899 _____

f) _____ 6.218 _____

g) _____ 7.143 _____

h) _____ 8.755 _____

i) _____ 9.998 _____



NOME: _____

ESCOLA: _____ TURMA: _____

DATA: IBIÚNA, 30 DE NOVEMBRO DE 2021 _____

DISCIPLINA: MATEMÁTICA _____

ANTECESSOR E SUCESSOR

___ 10 ___

___ 110 ___

___ 20 ___

___ 120 ___

___ 30 ___

___ 130 ___

___ 40 ___

___ 140 ___

___ 50 ___

___ 150 ___

___ 60 ___

___ 160 ___

___ 70 ___

___ 170 ___

___ 80 ___

___ 180 ___

___ 90 ___

___ 190 ___

___ 100 ___

___ 200 ___

NOME: _____

ESCOLA: _____ TURMA: _____

DATA: IBIÚNA, 30 DE NOVEMBRO DE 2021 _____

DISCIPLINA: HISTÓRIA _____

① Observe os tipos de ruas abaixo?

1



2



a) Qual é a diferença entre as ruas das fotos?

b) Em qual das ruas os veículos circulam facilmente? Por quê?

c) Marque com o x o número que indica qual rua de paralelepípedo (rua de pedra).

①

②

② Meios de Transportes

Os meios de transportes são de grande importância para o nosso país.
Eles servem para transportar pessoas e carregar mercadorias.
São divididos em terrestres, aquáticos e aéreos.

•Cite 3 meios de transporte:

TERRESTRE

AQUÁTICO

AÉREO

NOME: _____

ESCOLA: _____ TURMA: _____

DATA: IBIÚNA, 01 DE DEZEMBRO DE 2021 _____

DISCIPLINA: MATEMÁTICA _____

1234	2122	1642	1742
2343	1343	2352	1093
3451	1245	1245	5673
<u>+ 1432</u>	<u>+ 356</u>	<u>+ 2412</u>	<u>+ 524</u>

2091	1342	1952	3291
1532	1301	1556	1602
3452	3421	2415	2098
<u>+ 1425</u>	<u>+ 3201</u>	<u>+ 5623</u>	<u>+ 5409</u>

NOME: _____

ESCOLA: _____ TURMA: _____

DATA: IBIÚNA, 01 DE DEZEMBRO DE 2021 _____

DISCIPLINA: GEOGRAFIA _____

RESPOSTA:

A) O QUE É MATÉRIA-PRIMA?

B) O QUE SÃO PRODUTOS INDUSTRIALIZADOS?

C) O QUE É INDÚSTRIA?

RELACIONE OS PRODUTOS À SUA MATÉRIA-PRIMA:


- | | | | |
|-----|----------|-----|--------------------|
| (1) | COURO | () | QUEIJO, MANTEIGA |
| (2) | MADEIRA | () | CHOCOLATE, BOMBONS |
| (3) | BORRACHA | () | PÃO |
| (4) | UVA | () | ÓLEO |
| (5) | CACAU | () | SAPATOS, BOLSAS |
| (6) | AMENDOIM | () | MÓVEIS |
| (7) | TRIGO | () | VINHO |
| (8) | LEITE | () | PNEUS |

NOME: _____

ESCOLA: _____ TURMA: _____

DATA: IBIÚNA, 01 DE DEZEMBRO DE 2021 _____

DISCIPLINA: LÍNGUA PORTUGUESA _____



Classificação de sílabas

NOME	DIVISÃO SILÁBICA	Nº DE SÍLABAS	CLASSIFICAÇÃO
JOELHO			
CARROSSEL			
PÁ			
SOFÁ			
BOLHA			
FAROLETE			
ASSINATURA			
TELEFONE			
CABRITA			
COPO			
FÍGADO			
PEIXE			
FOICE			
MAR			
GIRASSOL			
PEDREGULHO			
FLORESTA			
CAMPO			
FIM			
RINOCERANTE			
PULGA			


NOME: _____

ESCOLA: _____ TURMA: _____

DATA: IBIÚNA, 02 DE DEZEMBRO DE 2021 _____

DISCIPLINA: CIÊNCIAS _____

CAÇA-PALAVRAS



A dengue é um dos principais problemas de saúde do mundo. Procure no caça-palavras alguns dos sintomas da dengue, e lembre-se: em caso de suspeita, procure um médico.

1. **FEBRE**
2. **VÔMITOS**
3. **ENJOOS**
4. **DOR DE CABEÇA**
5. **MANCHAS VERMELHAS**
6. **CANSAÇO**
7. **FRAQUEZA**
8. **DIARREIA**

V	U	N	Ô	E	E	J	Ê	S	H	L	A	E
U	I	O	E	I	Y	P	V	L	E	O	Z	E
L	T	D	O	R	D	E	C	A	B	E	Ç	A
B	O	X	V	X	Z	A	A	E	U	I	F	V
S	F	E	B	R	E	S	E	O	P	T	T	Ô
I	K	W	O	A	O	S	F	M	Z	D	A	M
R	X	Ç	É	C	A	N	S	A	Ç	O	D	I
E	E	Ç	J	R	L	B	N	N	Ô	Ç	I	T
I	Ç	F	O	J	U	F	G	C	R	Ô	A	O
U	Ô	U	I	Á	R	B	Ç	H	W	Ç	R	S
T	S	S	A	T	L	V	L	A	N	Q	R	Ô
J	I	Ç	E	N	J	O	O	S	O	D	E	A
S	J	O	E	O	S	A	P	V	A	O	I	F
E	I	L	Ç	F	R	A	Q	U	E	Z	A	A
J	A	S	T	A	M	I	A	O	X	J	C	U

NOME: _____

ESCOLA: _____ TURMA: _____

DATA: IBIÚNA, 02 DE DEZEMBRO DE 2021 _____

DISCIPLINA: LÍNGUA PORTUGUESA _____

8)



(1,6)

Separe as sílabas e dê a classificação.

1 sílaba = **monossílaba**

3 sílabas = **trissílaba**

2 sílabas = **dissílaba**

4 sílabas ou mais = **polissílaba**

carrossel = _____

chocolate = _____

caminhão = _____

cambalhotas = _____

sombra = _____

sol = _____

ferro = _____

marreco = _____

9) Agora, coloque as palavras da atividade anterior em ordem alfabética: (0,8)

10)



Passes para o plural.

(0,6)

capital - _____ painel - _____

museu - _____ papel - _____

real - _____ mingau - _____

NOME: _____

ESCOLA: _____ TURMA: _____

DATA: IBIÚNA, 02 DE DEZEMBRO DE 2021 _____

DISCIPLINA: LÍNGUA PORTUGUESA _____

A CASA

ESSA CASA É DE CACO,

QUEM MORA NELA É O _____




ESSA CASA TÃO BONITA,

QUEM MORA NELA É A _____



ESSA CASA DE CIMENTO,

QUEM MORA NELA É O _____



ESSA CASA DE TELHA,

QUEM MORA NELA É _____



ESSA CASA DE LATA,

QUEM MORA NELA É A _____



ESSA CASA É ELEGANTE,

QUEM MORA NELA É O _____



EU DESCOBRI, DE REPENTE,

QUE NÃO FALEI DE CASA DE _____




NOME: _____

ESCOLA: _____ TURMA: _____


DATA: IBIÚNA, 03 DE NOVEMBRO DE 2021 _____

DISCIPLINA: LÍNGUA PORTUGUESA _____

Descubra o **SEGREDO**



TUBARÃO



FERRO




SACOLA

BALÃO

CARRO


ESCOLA



GALINHA



SAPATO



FOCA

FARINHA

GATO

BOCA

NOME: _____

ESCOLA: _____ TURMA: _____

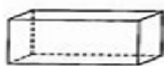
DATA: IBIÚNA, 03 DEZEMBRO DE 2021 _____

DISCIPLINA: MATEMÁTICA _____

01. Escreva o nome dos sólidos geométricos apresentados.









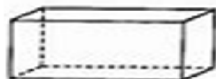
02. Escreva **V** para as afirmativas verdadeiras e **F** para as falsas.

- a) () O cubo é um tipo de paralelepípedo.
- b) () O paralelepípedo e a esfera são exemplos de sólidos que rolam.
- c) () O cone apresenta apenas 1 vértice.
- d) () A esfera não tem base e nem vértice.

03. Complete as informações do quadro abaixo.

SÓLIDO	NÚMERO DE FACES	NÚMERO DE VÉRTICES	NÚMERO DE ARESTAS
PIRÂMIDE			
PARALELEPÍPEDO			

04. Pinte as formas geométricas que rolam.



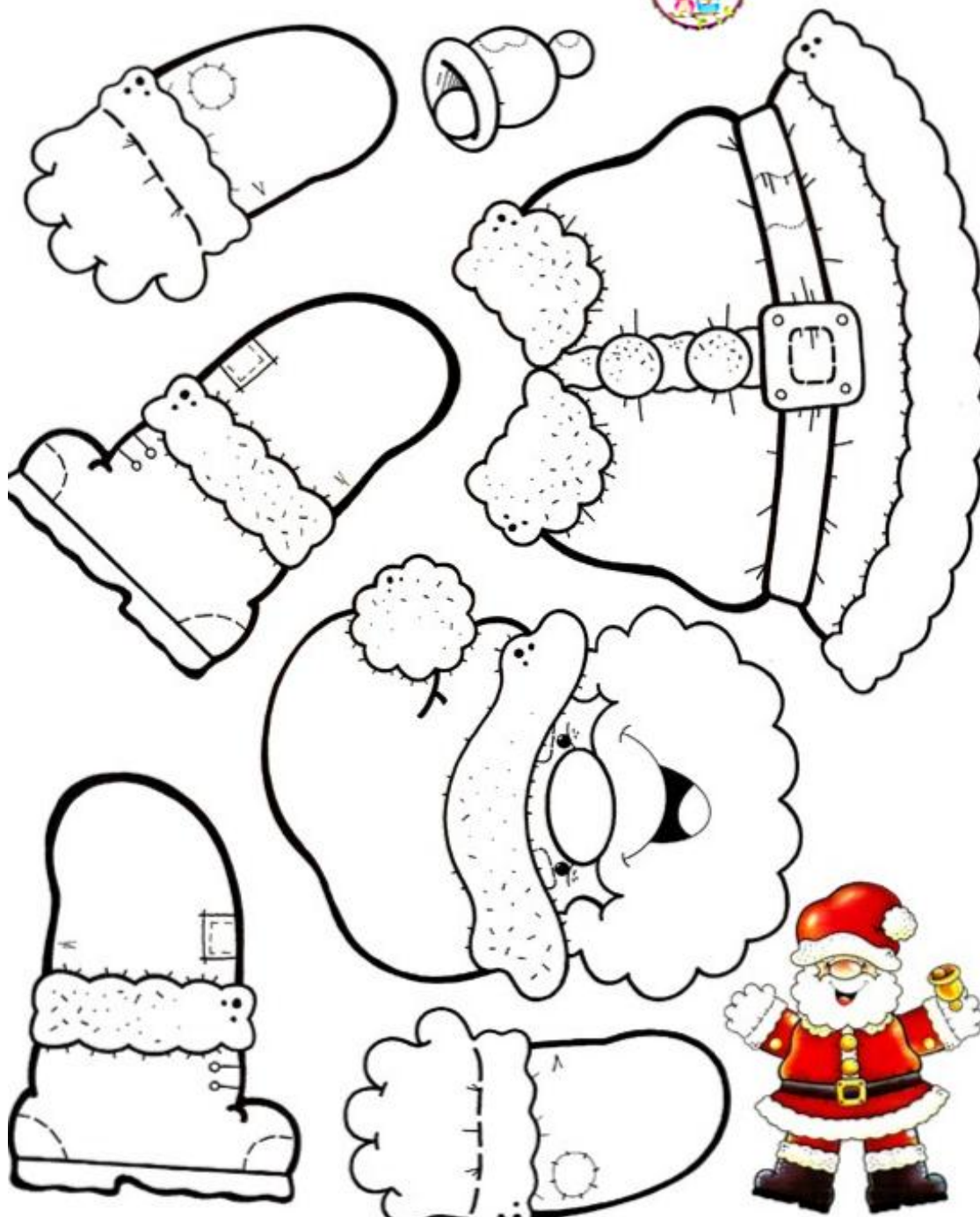
NOME: _____

ESCOLA: _____ TURMA: _____

DATA: IBIÚNA, 03 DE DEZEMBRO DE 2021 _____

DISCIPLINA: ARTES _____

Papai Noel



REFERÊNCIAS

atividadesparaeducadores.blogspot.com

atividadespedagogicas.net

conhecimentosetransformacao.blogspot.com

lereaprender.com.br