

E.M. “Benedita Cordeiro Medelos”

Nome: \_\_\_\_\_

4º ano –B

Professora: Milena

Caderno de Atividades Nº 17

Apostila referente aos dias 29 a 03/12

Data de entrega: 30/11

Data de devolução: 07/12



Roteiro :

29/11- Língua Portuguesa, Livro ÁPIS, páginas 186 a 190; Pontuação e entonação.

30/11- Matemática EMAI, exercícios das páginas 26,29,30,31 e 39.

Fatos (folha anexo 1)

01/12- Língua Portuguesa Livro Àpis, verbo e uso de tempos, páginas 195 a 198

02/12- Língua Portuguesa, Livro ÁPIOS, páginas 191 a 194.

Cruzadinha (folha anexo 2)

03/13 – Ensino da Arte Desenho Natal (folha anexo3)

Língua Portuguesa , frases Natalinas (folha anexo 4 )

ESCOLA \_\_\_\_\_

DATA \_\_\_\_\_ SÉRIE \_\_\_\_\_

PRÓ \_\_\_\_\_

ALUNO(A) \_\_\_\_\_

## MATEMÁTICA

1-UTILIZE OS SÍMBOLOS > (MAIOR QUE) OU < (MENOR QUE):



425 ○ 421	889 ○ 988	346 ○ 464
868 ○ 887	453 ○ 543	624 ○ 624
501 ○ 512	765 ○ 675	969 ○ 996
987 ○ 979	882 ○ 882	848 ○ 668

2-QUAL É O NÚMERO?


_____ < 387	296 < _____
925 < _____	_____ < 703
_____ > 632	549 < _____
482 < _____	_____ < 602



3-RESOLVA AS OPERAÇÕES:

84	57	46	22	79	73	74
+48	+28	+26	+84	+65	+89	+46
_____	_____	_____	_____	_____	_____	_____

$75$	$82$	$44$	$96$	$41$	$76$	$56$
$-58$	$-67$	$-39$	$-48$	$-26$	$-35$	$-12$



$53$	$52$	$93$	$65$
$+59$	$+40$	$-53$	$-58$



4-SOME OS NÚMEROS E COMPARE OS RESULTADOS UTILIZANDO OS SÍMBOLOS  $>$  (MAIOR QUE) E  $<$  (MENOR QUE):




$400 + 50 + 9$	<input type="radio"/>	$600 + 40 + 5$
$700 + 40 + 4$	<input type="radio"/>	$700 + 20 + 4$
$900 + 30 + 7$	<input type="radio"/>	$900 + 30 + 7$
$800 + 90 + 8$	<input type="radio"/>	$800 + 80 + 9$


5-UMA CAIXA TEM 18 BOLAS VERMELHAS E 14 VERDES. FORAM USADAS 24 BOLAS PARA DECORAR A ÁRVORE. QUANTAS BOLAS AINDA TEM NA CAIXA?



ESCOLA \_\_\_\_\_  
 DATA \_\_\_\_\_ SÉRIE \_\_\_\_\_  
 PRO \_\_\_\_\_  
 ALUNO(A) \_\_\_\_\_


# Feliz Natal


CRUZADINHA NATALINA:


1 


2 


3  


4 

5 

6 

7 

8 

9 

10



OBSERVE A IMAGEM, ESCREVA O NOME E UMA FRASE:



PALAVRA: \_\_\_\_\_

FRASE: \_\_\_\_\_

\_\_\_\_\_



PALAVRA: \_\_\_\_\_

FRASE: \_\_\_\_\_

\_\_\_\_\_



PALAVRA: \_\_\_\_\_

FRASE: \_\_\_\_\_

\_\_\_\_\_

Educação e Transformação

OBSERVE A IMAGEM, ESCREVA O NOME E UMA FRASE:



PALAVRA: \_\_\_\_\_

FRASE: \_\_\_\_\_

\_\_\_\_\_



PALAVRA: \_\_\_\_\_

FRASE: \_\_\_\_\_

\_\_\_\_\_



PALAVRA: \_\_\_\_\_

FRASE: \_\_\_\_\_

\_\_\_\_\_

Educação e Transformação