



Prefeitura da Estância Turística de
IBIÚNA
TRANSFORMAÇÃO RESPONSÁVEL. CUIDANDO DE PESSOAS.



Av. São Sebastião, 192, 4º Piso, Centro, Fones: (15) 3248 1292, 3248 1574. Email: apolopedagogicosmeibiuna@hotmail.com

Nome do Aluno (a): _____

Nome da Escola: E.M "Tereza Falci"

Professora: Valquiria Ramos

Data: 29 ao 30/11 e 1,2 e 3/12/2021

4º Ano B

17ª Apostila (4º Bimestre) **Atividades Remotas**



Aluno (a): _____

_____ série/ano _____

Prof: _____



Roteiro

Realizar todas as atividades da 17ª Apostila em um ambiente tranquilo e de boa claridade e sempre que necessário, tirar dúvidas através do WhatsApp da Professora



A árvore de Beto

O Beto tinha muita vontade de ter uma árvore de Natal. Era o sonho dele. Uma árvore grande, como a da casa do Caloca. Mas o pai de Beto não podia comprar.

Todo ano ele prometia, mas todo ano acontecia alguma coisa e ele nunca podia dar a árvore para Beto.

Um dia, o Beto teve uma ideia.

Lá na nossa rua tem um terreno vazio, um terreno baldio. O Beto resolveu plantar uma árvore lá e esperar até que ela crescesse.

Limpou um pedaço do terreno... Arranjou um pouco de adubo com Seu Alexandre, o jardineiro...

Comprou uma muda pequenininha de pinheiro... E plantou no terreno.

Todos os dias, o Beto regava a mudinha dele. Revolvia a terra em volta, tirava os galhinhos secos. Vigiava para não subir formiga. Cuidava da plantinha como se fosse uma gatinha. E a plantinha foi crescendo, forte e bonita.

Eu não sei quanto tempo o Beto cuidou daquela planta. Foi muito tempo... Até que a árvore do Beto ficou grande, cheia de galhos, uma beleza! Prontinha para virar árvore de Natal.



Ruth Rocha

Interpretação de texto

Responda marcando X, de acordo com o texto que você acabou de ler:

- 1) Qual era o sonho de Beto?
 Plantar uma árvore.
 Ter uma árvore maior que a do Carlinhos.
 Ter uma árvore de Natal.

- 2) Por que o menino não realizava seu sonho?
 Porque ele se esquecia de pedir.
 Porque seu pai não tinha dinheiro para comprar.
 Porque ele não cuidava da árvore direito.

3) O que Beto fez para realizar seu sonho?

- () Comprou uma mudinha de pinheiro e plantou num terreno baldio.
- () Pediu ao seu pai uma árvore de Natal.
- () Pediu ao Carlinhos a árvore de Natal da casa dele.

4) Quais os cuidados que Beto tinha com a mudinha todos os dias?

4) Encontre no texto e pinte a parte que mostra que Beto conseguiu realizar seu sonho. Copie aqui.

5) Retire do texto:

- a) O apelido do amigo de Beto. _____
- b) O nome do jardineiro. _____
- d) Duas palavras no diminutivo: _____

GRAMÁTICA

1) Reescreva as frases abaixo substituindo corretamente os nomes sublinhados por pronomes:

ELE, ELA

- a) Beto sonhava em ter uma árvore de Natal.
- b) A formiga era vigiada para não cortar as folhas da árvore.
- c) O galho seco era cortado por Beto.
- d) A árvore ficou grande e cheia de galhos, uma beleza!

2) Reescreva as frases substituindo as palavras repetidas por pronomes:

- a) O pai de Beto não podia comprar uma árvore. Todo ano o pai prometia, mas acontecia alguma coisa e nunca podia dar a árvore para Beto.

- b) Um dia, Beto teve uma ideia. O Beto resolveu plantar uma árvore no terreno baldio da rua e esperar até que ela crescesse.

3) Pinte os substantivos de vermelho e os adjetivos de amarelo.

- a) Uma árvore grande de Natal.
- b) Comprou um pinheiro pequenininho.
- c) Todo o dia tirava os galhos secos.
- d) E a plantinha foi crescendo forte e bonita.



MATEMÁTICA

RECORTE E COLE A FRAÇÃO NO ESPAÇO CORRESPONDENTE:

$$\frac{1}{2}$$

$$\frac{1}{3}$$

$$\frac{1}{4}$$

$$\frac{1}{5}$$

$$\frac{1}{6}$$

$$\frac{2}{3}$$

Nome: _____
17ª Apostila

Data: ____/____/____

EM TEREZA FALCI UNIDADE 38
ROD. JÚLIO DAL FABRO, KM 08 - Bº CUPIM
Email: escolaterzafalci@gmail.com
Tel: (15)3294-2006

$$\frac{2}{4}$$

$$\frac{2}{5}$$

$$\frac{2}{6}$$

$$\frac{3}{4}$$

$$\frac{3}{5}$$

$$\frac{3}{6}$$



Educação e Transformação

Nome: _____
17ª Apostila

Data: ____/____/____

EM TEREZA FALCI UNIDADE 38
ROD. JÚLIO DAL FABRO, KM 08 - Bº CUPIM
Email: escolaterezafalci@gmail.com
Tel: (15)3294-2006

$$\frac{4}{5}$$

$$\frac{4}{6}$$

$$\frac{5}{6}$$

$$\frac{6}{6}$$

$$\frac{5}{5}$$

$$\frac{4}{4}$$



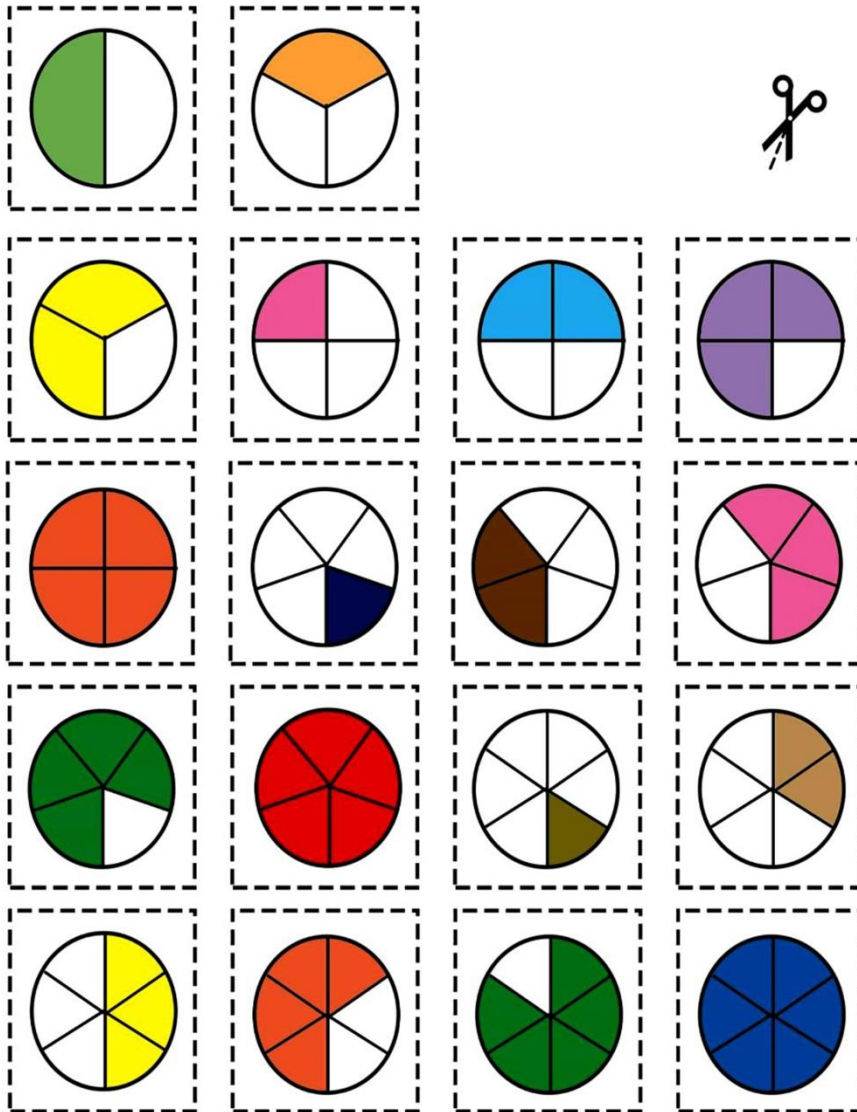
Educação e Transformação

Nome: _____
17ª Apostila

Data: ____/____/____

EM TEREZA FALCI UNIDADE 38
ROD. JÚLIO DAL FABRO, KM 08 - Bº CUPIM
Email: escolaterezafalci@gmail.com
Tel: (15)3294-2006

ANEXO



Educação e Transformação



Atividade

**NATAL É TEMPO DE AMOR E PAZ.
NO NATAL VIVEMOS A ALEGRIA
DE VIVER EM CRISTO.**



Encontrar no caça-palavras abaixo todas as palavras referentes ao Natal.

A	M	O	R	A	B	C	S	I	N	O	D	E
F	A	L	E	G	R	I	A	G	H	W	J	K
L	M	N	O	P	Q	P	C	R	I	S	T	O
E	S	T	R	E	L	A	R	S	V	E	L	A
T	U	V	X	Z	A	Z	B	C	D	L	E	F
G	H	P	R	E	S	E	N	T	E	S	I	J

- 1 - amor
- 2 - paz
- 3 - sino
- 4 - alegria

- 5 - Cristo
- 6 - estrela
- 7 - vela
- 8 - presentes

Nome: _____
17ª Apostila

Data: ____/____/____

EM TEREZA FALCI UNIDADE 38
ROD. JÚLIO DAL FABRO, KM 08 - Bº CUPIM
Email: escolaterzafalci@gmail.com
Tel: (15)3294-2006



Atividade

I-RESOLVA:

$$\begin{array}{r} 3581 \\ +3879 \\ \hline \end{array} \quad \begin{array}{r} 3663 \\ +2984 \\ \hline \end{array} \quad \begin{array}{r} 4965 \\ +5895 \\ \hline \end{array} \quad \begin{array}{r} 2950 \\ +6589 \\ \hline \end{array} \quad \begin{array}{r} 3340 \\ +3973 \\ \hline \end{array}$$

$$\begin{array}{r} 3370 \\ +4984 \\ \hline \end{array} \quad \begin{array}{r} 2451 \\ +3975 \\ \hline \end{array} \quad \begin{array}{r} 2533 \\ +2885 \\ \hline \end{array} \quad \begin{array}{r} 4465 \\ +2645 \\ \hline \end{array} \quad \begin{array}{r} 2977 \\ +5527 \\ \hline \end{array}$$

$$\begin{array}{r} 3626 \\ +4496 \\ \hline \end{array} \quad \begin{array}{r} 2232 \\ +4993 \\ \hline \end{array} \quad \begin{array}{r} 2520 \\ +6595 \\ \hline \end{array} \quad \begin{array}{r} 2927 \\ +4395 \\ \hline \end{array} \quad \begin{array}{r} 3678 \\ +3665 \\ \hline \end{array}$$

$$\begin{array}{r} 3279 \\ +3965 \\ \hline \end{array} \quad \begin{array}{r} 2637 \\ +3873 \\ \hline \end{array} \quad \begin{array}{r} 6977 \\ +2674 \\ \hline \end{array} \quad \begin{array}{r} 3227 \\ +5985 \\ \hline \end{array} \quad \begin{array}{r} 2697 \\ +2976 \\ \hline \end{array}$$



Educação e Transformação



Um feliz Natal

Maria Carolina Castro

Neste Natal
Quero ganhar:
brilho, amor e alegria.
O brilho das estrelas,
O amor de Jesus.
A alegria de partilhar
e poder amar.

Quero formar:
Uma família unida,
amizades queridas.

Quero ser:
uma boa amiga,
uma criança feliz.

Quero colocar :
Um Feliz Natal !



1) Responda as perguntas abaixo, com atenção:

a) Qual o título do poema? _____

b) Qual a autora do poema? _____

c) O que Carolina quer ganhar neste Natal? _____

d) Como ela quer que sua família seja?

e) Como ela quer ser?

f) E o que ela quer colocar no fim do poema?
Escreva dentro do círculo ao lado.





Atividade

I-RESOLVA:

1 $\begin{array}{r} 926 \\ -579 \\ \hline \end{array}$	2 $\begin{array}{r} 726 \\ -479 \\ \hline \end{array}$	3 $\begin{array}{r} 903 \\ -275 \\ \hline \end{array}$	4 $\begin{array}{r} 632 \\ -334 \\ \hline \end{array}$
5 $\begin{array}{r} 924 \\ -206 \\ \hline \end{array}$	6 $\begin{array}{r} 472 \\ -285 \\ \hline \end{array}$	7 $\begin{array}{r} 848 \\ -239 \\ \hline \end{array}$	8 $\begin{array}{r} 625 \\ -247 \\ \hline \end{array}$
9 $\begin{array}{r} 926 \\ -479 \\ \hline \end{array}$	10 $\begin{array}{r} 726 \\ -179 \\ \hline \end{array}$	11 $\begin{array}{r} 632 \\ -354 \\ \hline \end{array}$	12 $\begin{array}{r} 932 \\ -224 \\ \hline \end{array}$
13 $\begin{array}{r} 4434 \\ -299 \\ \hline \end{array}$	14 $\begin{array}{r} 8854 \\ -296 \\ \hline \end{array}$	15 $\begin{array}{r} 9504 \\ -286 \\ \hline \end{array}$	16 $\begin{array}{r} 852 \\ -448 \\ \hline \end{array}$
17 $\begin{array}{r} 7529 \\ -333 \\ \hline \end{array}$	18 $\begin{array}{r} 2944 \\ -458 \\ \hline \end{array}$	19 $\begin{array}{r} 4756 \\ -368 \\ \hline \end{array}$	20 $\begin{array}{r} 9907 \\ -599 \\ \hline \end{array}$

Educação e Transformação



É Tempo de Amor

Natal é tempo de amor
É tempo de embrulhar presentes e fazer doces...
Um tempo de presentes escondidos
em lugares secretos...
É tempo de brinquedos, tambores e bonecas.
Um tempo de luzes
e ramos de pinheiro.
O Natal é a época da família
e de bons amigos
que mais uma vez revemos.
É tempo de música
e de canções de alegria...



Joan Walsh Angund,
Natal é tempo de amor, Cedibra


- ♦ Qual o título do poema? _____
- ♦ Que brinquedos aparecem no poema? _____
- ♦ Complete o cartão abaixo:

Natal é...



Atividade

COMPLETE A CRUZADINHA COM OS NOMES DE ALGUNS SÍMBOLOS DO NATAL:



- 1- ANJO
- 2- ESTRELA
- 3- PRESENTE
- 4- MANJEDOURA
- 5- REIS




Atividade

I-RESOLVA:

$$\begin{array}{r} 26 \\ \times 5 \\ \hline \end{array} \quad \begin{array}{r} 37 \\ \times 4 \\ \hline \end{array} \quad \begin{array}{r} 53 \\ \times 7 \\ \hline \end{array} \quad \begin{array}{r} 76 \\ \times 4 \\ \hline \end{array} \quad \begin{array}{r} 38 \\ \times 5 \\ \hline \end{array} \quad \begin{array}{r} 57 \\ \times 2 \\ \hline \end{array}$$

$$\begin{array}{r} 54 \\ \times 8 \\ \hline \end{array} \quad \begin{array}{r} 64 \\ \times 3 \\ \hline \end{array} \quad \begin{array}{r} 46 \\ \times 4 \\ \hline \end{array} \quad \begin{array}{r} 28 \\ \times 2 \\ \hline \end{array} \quad \begin{array}{r} 36 \\ \times 6 \\ \hline \end{array} \quad \begin{array}{r} 63 \\ \times 6 \\ \hline \end{array}$$

$$\begin{array}{r} 27 \\ \times 5 \\ \hline \end{array} \quad \begin{array}{r} 62 \\ \times 6 \\ \hline \end{array} \quad \begin{array}{r} 23 \\ \times 7 \\ \hline \end{array} \quad \begin{array}{r} 24 \\ \times 5 \\ \hline \end{array} \quad \begin{array}{r} 25 \\ \times 4 \\ \hline \end{array} \quad \begin{array}{r} 56 \\ \times 5 \\ \hline \end{array}$$



$$\begin{array}{r} 40.049 \\ \times 3 \\ \hline \end{array} \quad \begin{array}{r} 20.065 \\ \times 3 \\ \hline \end{array} \quad \begin{array}{r} 30.166 \\ \times 5 \\ \hline \end{array}$$

$$\begin{array}{r} 14.155 \\ \times 5 \\ \hline \end{array} \quad \begin{array}{r} 3048 \\ \times 2 \\ \hline \end{array} \quad \begin{array}{r} 4152 \\ \times 8 \\ \hline \end{array}$$

$$\begin{array}{r} 2255 \\ \times 3 \\ \hline \end{array} \quad \begin{array}{r} 5059 \\ \times 4 \\ \hline \end{array} \quad \begin{array}{r} 5169 \\ \times 3 \\ \hline \end{array}$$

Educação e Transformação