



Prefeitura da Estância Turística de  
**IBIÚNA**  
TRANSFORMAÇÃO RESPONSÁVEL. CUIDANDO DE PESSOAS.

Av. São Sebastião, 192 - 4º Andar - Centro - Ibiúna - Telefone: (15) 3248-1574 - educaco@ibiuna@gmail.com



## 15ª APOSTILA

Atividades não presenciais  
Período de distanciamento social (quarentena) COVID-19



**Escola Municipal “Bairro Morro Grande”**

**Nome:**

**Ano: 4º ano B**

**Sala: 02**

**Professora: Vanda Alves Moreira**

**Dias: 01, 02, 03, 06, 07, 08, 09, 10, 13, 14 de dezembro**


**Total de 10 dias**

**Conforme orientações pedagógicas  
da Secretaria Municipal da Educação de Ibiúna.**



NATAL

25 DE DEZEMBRO



Fonte: <https://www.fazendoleitura.com/2014/11/natal-historia-em-quadrinhos-turma-da.html>

1) Após a leitura, responda.

a) Qual é o assunto abordado pelo texto?

---

b) Quais personagens aparecem na história?

---

2) O texto lido pertence à qual gênero textual?

- (A) Charge
- (B) Tira
- (C) Conto
- (D) História em quadrinhos

3) Na primeira cena, a expressão no rosto da personagem da Mônica demonstra que ela está:

- (A) Cansada
- (B) Feliz
- (C) Triste
- (D) Emocionada

4) Na cena abaixo, por que o Cebolinha parece tão surpreso?

5) De acordo com a Mônica, o que representa o Natal?

- (A) Ficar sozinho e triste.
- (B) Ganhar muitos presentes.
- (C) Família reunida, casa enfeitada, muita música, risadas, alegria...
- (D) Brigas e desentendimentos.

6) Use a criatividade e escreva novas falas para o diálogo abaixo.




7) Como você costuma celebrar o Natal com sua família?

@sugestoes.pedagogicas

## A árvore de Natal

Era uma vez, há muito tempo, um pequeno povoado situado em uma ilha. Nesse povoado vivia uma família muito pobre. Quando o Natal estava se aproximando, eles não sabiam como o celebraria porque não tinham dinheiro.

Então o pai da família começou a se perguntar como poderia



Tudodesenhos

ganhar dinheiro para passar a noite de Natal dividindo um delicioso peru ao forno com sua família, desfrutando da festa junto ao fogo.

Decidiu que ganharia dinheiro vendendo árvores de Natal. Assim, no dia seguinte se levantou bem cedo e subiu à montanha para cortar alguns pinhos.

Subiu a montanha, cortou cinco pinhos e os carregou em sua carroça para vendê-los no mercado. Quando só faltavam dois dias para o Natal, não tinha vendido nenhum dos pinhos. Finalmente, decidiu que já que não vendia nada, que presentearia as árvores de Natal para as pessoas mais pobres que a sua família. As pessoas se mostraram muito agradecidas pelo presente.

Na noite de Natal, quando voltou à sua casa, o homem teve uma grande surpresa. Em cima da mesa havia um peru e ao lado uma pequena árvore de natal.

Sua esposa lhe disse que alguém muito bondoso tinha deixado isso em sua porta.

Naquela noite, soube que esse presente tinha sido concedido pela boa obra que ele havia feito, presenteando aqueles pinhos que havia cortado na montanha.

Fonte: <https://br.guiainfantil.com/materias/natala-arvore-de-natal-conto-de-natal/>

1) Após a leitura do texto, responda.

a) Qual é o título do texto?

---

b) Quem é o personagem principal da narrativa?

---

c) Em qual lugar acontece a história?

---

2) O tema abordado pelo texto “A árvore de Natal” é:

- (A) O lucro que se pode ter com a venda de árvores de Natal.
- (B) A importância de saber dividir, de saber doar aos menos favorecidos.
- (C) Os ingredientes que fazem parte de uma ceia de Natal.
- (D) Como podemos ganhar dinheiro para comprar alimentos para o Natal.

3) O texto lido pertence ao gênero textual conto. Assinale a alternativa que apresenta características desse tipo de texto.

- (A) Narrativa curta, que possui animais como personagens e tem o objetivo de transmitir um ensinamento.
- (B) Texto organizado em versos e estrofes, que possui rimas e tem a finalidade de despertar sentimentos.
- (C) Texto que apresenta fatos do cotidiano, tal como acontecem, escrito com a finalidade de informar.
- (D) Narrativa curta, que cria um universo de seres, de fantasia ou acontecimentos, apresenta poucos personagens, um narrador, ponto de vista e enredo.

4) O conto é uma narrativa que apresenta narrador. Sobre o narrador, o que é correto afirmar?

- (A) É um narrador observador, pois não participa da história.
- (B) O narrador da história é o pai da família.
- (C) O narrador da história é a esposa.
- (D) O narrador é um dos personagens da história.

5) O trecho “Quando só faltavam dois dias para o Natal, não tinha vendido nenhum dos pinhos.

Finalmente, decidiu que já que não vendia nada, que presentearia as árvores de Natal para as pessoas mais pobres que a sua família.” é considerado qual elemento da estrutura do conto?

- (A) Conflito (situação-problema)
- (B) Clímax (momento de maior tensão)
- (C) Desfecho (final)

6) Assinale a alternativa que apresenta o desfecho, ou seja, como terminou essa história.

- (A) O homem receber um peru de Natal como agradecimento pela boa ação que fez.
- (B) O homem não conseguir vender os pinhos e resolver presentear as famílias mais pobres com as árvores de Natal.
- (C) O homem resolver vender pinhos para ganhar dinheiro.
- (D) O homem subir na montanha para cortar os pinhos.


7) Qual solução o pai encontrou para ganhar dinheiro para passar a noite de Natal dividindo um delicioso peru ao forno com sua família?

8) Numere os fatos, de acordo com a ordem em que aparecem na história.

- ( ) O homem carregou os pinhos em sua carroça para vendê-los no mercado.
- ( ) Na noite de Natal, quando o homem voltou à sua casa, encontrou em cima da mesa um peru e ao lado uma pequena árvore de Natal.
- ( ) O pai da família subiu à montanha para cortar alguns pinhos para vender.
- ( ) Por não ter conseguido vender as árvores, o homem resolveu presentear as pessoas mais pobres que a sua família.

9) Por que alguém deixou de presente na porta do homem um peru e uma árvore de Natal para ele celebrar esta data com a família?

10) Localize no pinheiro abaixo 6 valores que fazem parte deste conto (AFETO, SOLIDARIEDADE, SIMPLICIDADE, COMPAIXÃO, AMIZADE e AMOR).





## Natal no Mundo

**1-CADA CRIANÇA ABAIXO MORA EM UM PAÍS DIFERENTE, NO QUAL O NATAL É COMEMORADO DE ACORDO COM OS COSTUMES LOCAIS. LEIA O QUE CADA UM CONTA SOBRE SEU PAÍS;**

Olá! Eu sou Didi e sou romeno. Em meu país, começamos a decorar nossas casas no final de novembro e já fazemos compras natalinas nesta mesma época.

Na véspera do natal, as famílias se reúnem e têm uma ceia juntos. Muitas pessoas vão à igreja e corais natalinos visitam as casas, cantando 'Canção da Estrela', uma música típica desta época.

No dia do natal, as crianças procuram por seus presentes de natal sob as árvores. Familiares se reúnem para uma almoço tradicional, que inclui rocambole de carne, pudim e bolo natalino.

Sou Gustaf e moro na Suécia. Para nós, a época do natal começa no primeiro domingo de dezembro. Penduramos calendários antalinos nas paredes e arrumamos nossas árvores de natal.

Na véspera de natal, famílias se encontram à tarde para o Julbord, que é um jantar tradicional, com arenque defumado, pasta de fígado bovino, repolho vermelho, feijões, almôndegas e pão molhadinho.

Depois do jantar, o momento mais esperado começa: Jultomten – um gnomo – bate à porta perguntando se as crianças se comportaram. Então, todos ganham presentes.

No dia do natal e um dia após o natal, familiares e amigos se reúnem durante refeições.  
visit relatives and friends.

Sou Laura e vivo em Portugal. Em meu país, geralmente armamos a árvore natalina e o presépio na primeira semana de dezembro.

Na véspera do natal, famílias se encontram para a ceia, geralmente composta por bacalhau cozido, batatas, ovos, repolho e ervilhas temperadas em azeite. A sobremesa costuma ser o tradicional 'Bolo Rei'.

Papai Noel traz presentes à meia noite ou pela manhã de natal. As famílias se reúnem novamente para o almoço, que oferece ainda cordeiro ou peru assados com legumes no vapor. Este é meu prato favorito.





# ATIVIDADE

1- Observe as obras de Romero Britto.

TELA 1



TELA 2



a) Qual tela chama mais sua atenção? Por quê?

---

---

b) Qual a temática das duas telas?

---

c) Qual “figura” natalina é mais utilizada no comércio? Por quê?

---

---

2- Na TELA 1 Romero Britto retratou o nascimento de Jesus. Qual a importância desse dia para os cristãos?

---

---

3- Defina:

Natal Cristão \_\_\_\_\_

---

Natal Comercial \_\_\_\_\_

---

# DESAFIOS MATEMÁTICOS

1) Uma família resolveu investir na plantação de pinhos para vender no Natal. Eles decidiram organizar as mudas em 13 fileiras. Plantaram 24 mudas de pinho em cada fileira. Ao todo, quantos pinhos foram plantados?

Cálculo

Resposta:

---

---

2) Na sexta-feira a família vendeu 92 pinhos e no sábado venderam 187. Ao todo, quantos pinhos foram vendidos?

Cálculo

Resposta:

---

---

3) A família conseguiu 312 mudas de pinho. Como são 6 pessoas compondo a família, eles dividiram igualmente a quantidade de mudas entre seus membros para realizarem o plantio. Quantas mudas cada pessoa plantou?

Cálculo

Resposta:

---

---

4) Das 312 mudas que conseguiram, a família plantou 150 no primeiro dia. Quantas mudas ainda faltam ser plantadas?

Cálculo

Resposta:

---

---

# OPERAÇÕES MATEMÁTICAS

1) Vamos ajudar o pessoal da Turma da Mônica na resolução das operações abaixo.

a)  $8\ 248 + 3\ 531 =$  \_\_\_\_\_

b)  $24\ 694 - 6\ 272 =$  \_\_\_\_\_

c)  $7\ 413 \times 9 =$  \_\_\_\_\_

d)  $963 : 3 =$  \_\_\_\_\_

e)  $4\ 132 \times 8 =$  \_\_\_\_\_

f)  $276 : 3 =$  \_\_\_\_\_



ASSINALE A ALTERNATIVA CORRETA DE CADA QUESTÃO

1-O número 9 806 pode ser escrito da seguinte forma:

- (A) nove mil e oitenta e seis
- (B) nove mil oitocentos e sessenta
- (C) nove mil oitocentos e seis
- (D) nove mil oitenta sessenta

2- Calcule o resultado de  $425 + 1342$ .

- (A) 5 592
- (B) 4 592
- (C) 2 767
- (D) 1 767

3-O produto de 268 por 9 é:

- (A) 1812
- (B) 1842
- (C) 2342
- (D) 2412

4-Multiplique 63 por 12. O resultado é:

- (A) 656
- (B) 756
- (C) 186
- (D) 75

5-O resultado da divisão de 381 por 3 é:

- (A) 130
- (B) 128
- (C) 127
- (D) 125

6-A altura de Karen é 1,45 metros e a de seu irmão é 1,27 metros. Quantos centímetros Karen tem a mais que seu irmão?

- (A) 28 cm
- (B) 18 cm
- (C) 15 cm
- (D) 12 cm

7-Caio gastou cinco reais e quatro centavos em uma loja. Esse valor é representado por:

- (A) R\$ 5,40
- (B) R\$ 5,04
- (C) R\$ 5,004
- (D) R\$ 504,00



A TURMA RESOLVEU MONTAR UMA ÁRVORE DE NATAL NA PRAÇA DA RUA PARA TODOS PODEREM ADMIRAR.

FIZERAM UM RATEIO E CADA CRIANÇA COLABOROU COM O QUE PODE:

MONICA: R\$ 10,00

CEBOLINHA R\$ 3,00

CASCÃO R\$ 6,00

MAGALI R\$ 12,00

CHICO BENTO R\$ 2,00

ROSINHA R\$ 8,00

- 1) QUAL CRIANÇA DEU UM VALOR MAIOR? \_\_\_\_\_
- 2) QUAL CRIANÇA DEU UM VALOR MENOR? \_\_\_\_\_
- 3) QUAL É O VALOR DA SOMA DO VALOR DA MONICA E DO CEBOLINHA? \_\_\_\_\_
- 4) QUAL É O VALOR QUE FOI ARRECADADO? \_\_\_\_\_
- 5) A ÁRVORE CUSTOU R\$ 35,00. O VALOR ARRECADADO FOI SUFICIENTE? \_\_\_\_\_



# ATIVIDADE

MARCELO COMPROU 5 KITS DE GORROS NATALINOS PARA COMEMORAR COM SUA FAMÍLIA.

QUANTO MARCELO PAGOU PELOS 5 KITS?

- R\$ 363,00
- R\$ 350,00
- R\$ 205,00
- R\$ 100,00



O DONO DE UM SUPER MERCADO TINHA NO ESTOQUE 285 PANETONES. COMPROU MAIS 76 E DEPOIS VENDEU 85 DELES. QUANTOS PANETONES ELE TEM AGORA?



- 276
- 376
- 476
- 486

NO TRABALHO DE ARTES CARINA COLOU DIFERENTES FIGURAS NA BARBA DE PAPAI NOEL.



ESSAS FIGURAS TÊM EM COMUM

- O MESMO TAMANHO.
- O MESMO NÚMERO DE LADOS.
- A FORMA DE QUADRADO.
- A FORMA DE RETÂNGULO.

1- -LEIA O TRECHO ABAIXO:



“Até o final de século XIX, o Papai Noel era representado com uma roupa de inverno na cor marrom. Porém, em 1881, uma campanha publicitária da Coca-Cola mostrou o bom velhinho com uma roupa, também de inverno, nas cores vermelha e branca (as cores do refrigerante) e com um gorro vermelho com pompom branco. A campanha publicitária fez um grande sucesso e a nova imagem do Papai Noel espalhou-se rapidamente pelo mundo. ”

Agora responda:

a) Quantos anos fazem que Papai Noel é representado pela nova imagem? -----  
-----  
-----

b) Quantas ordens possui este número? \_\_\_\_\_ E  
quantas classes? \_\_\_\_\_

c) Escreva-o por extenso: \_\_\_\_\_

d) Ele é número par ou ímpar? \_\_\_\_\_

e) Dê o seu sucessor e o seu antecessor: \_\_\_\_\_

e) Represente este numeral no Quadro Posicional:

U.M	C	D	U

f) Decomponha esse numeral:

\_\_\_\_\_

g) Represente a operação que indica como você descobriu o total de anos que fazem que Papai Noel é representado pela nova imagem .

2- Represente com as operações numéricas os trechos abaixo:



a) Mamãe guardou fatias de pão para fazer rabanadas para o Natal. Para a receita que iria fazer precisava de 45 fatias de pão e ela conseguiu guardar 19. Quantas fatias de pão faltam para completar a receita?

Operação:

R: \_\_\_\_\_

3-LEIA O TEXTO ABAIXO :

### PRESEPIO



É a representação do local do nascimento de Cristo com as figuras do Menino Deus, de José, Maria, animais, pastores e magos. É montado em igrejas, residências, casas comerciais e lugares públicos.

O primeiro presépio foi feito em 1223 por São Francisco de Assis, nas redondezas de Greccio, Itália.

Veja na tabela abaixo os presépios fabricados por uma indústria nos últimos meses do ano:

MÊS	QUANTIDADE DE CAIXAS
JULHO	1568

MÊS	QUANTIDADE DE CAIXAS
AGOSTO	2857
SETEMBRO	3984
OUTUBRO	5875
NOVEMBRO	8879
DEZEMBRO	9985

- a) Qual a quantidade de caixas fabricadas no mês de agosto? \_\_\_\_\_
- b) Qual a quantidade de caixas fabricadas nos meses de dezembro? \_\_\_\_\_
- d) Qual o mês que teve a menor quantidade de caixas fabricadas? Quanto? \_\_\_\_\_
- e) Qual o total de caixas fabricadas pela indústria? \_\_\_\_\_

4-LEIA O TEXTO ABAIXO :

### ÁRVORE DE NATAL



Em quase todos os países do mundo, as pessoas montam árvores de Natal para decorar casas e outros ambientes. Em conjunto com as decorações natalinas, as árvores proporcionam um clima especial neste período.

Esta tradição foi trazida para o continente americano por alguns alemães, que vieram morar na América durante o período colonial. No Brasil, país de maioria cristã, as árvores de Natal estão presentes em diversos lugares, pois, além de decorar, simbolizam alegria, paz e esperança.



Veja na tabela abaixo a quantidade de árvores de Natal vendidas numa loja nos últimos meses do ano:

MÊS	QUANTIDADE DE ÁRVORES
agosto	40
setembro	59
outubro	278
novembro	1875
dezembro	2479

Observe a tabela e responda:

- a) Qual é o mês em que a loja vendeu mais árvores? \_\_\_\_\_
- b) Qual é o mês em que a livraria vendeu menos árvores? \_\_\_\_\_
- c) Qual é a diferença de venda entre os meses de maior e menor venda? \_\_\_\_\_
- d) Qual é o total de árvores vendidas no semestre? \_\_\_\_\_
- e) Gisela comprou uma árvore de Natal com 1,35 m de altura, e Isabel comprou uma com 1,50 de altura. Qual a árvore mais alta? Qual a diferença de altura entre elas? \_\_\_\_\_

## 5-A CEIA DE NATAL

A ceia de Natal envolve muitas tradições familiares. Algumas famílias têm suas próprias receitas “secretas” para a ceia de natal, outras comem apenas os pratos natalinos tradicionais, como peru ou chester.

A ceia de natal brasileira incorporou várias receitas locais como a rabanada e o bolinho de bacalhau, que chegou ao país com a colonização portuguesa.

### RECEITA DE RABANADA DE NATAL

#### Ingredientes:

- 2 gemas
- 3 colheres de sopa de açúcar branco
- 1 colher de leite
- 1 colher de nata
- baunilha em pó (opcional)
- 12 fatias de pão de véspera
- óleo
- açúcar em pó
- canela moída
- frutas frescas



Coloque as gemas dentro de uma tigela e junte o açúcar. Bata a gemada até obter um creme macio e espesso. Adicione aos poucos o leite e a nata. Bata um pouco mais e aromatize com 1 colher de café de baunilha em pó (opcional). Bata novamente.

Molhe o pão com esta mistura e deixe embeber durante alguns minutos.

Aqueça bastante óleo numa frigideira ou num recipiente fundo.

Frite as fatias, poucas de cada vez, virando-as até dourarem uniformemente.

Retire da fritura com uma escumadeira e escorra o excedente da gordura sobre folhas de papel absorvente.

Polvilhe as rabanadas ainda quentes com açúcar e canela.

Acompanhe com tiras finas de fruta fresca.

## 6-COMPLETE A TABELA ABAIXO:

Para a ceia de Natal mamãe resolveu fazer várias receitas de rabanada. Vamos ajudá-la completando a tabela abaixo, para saber a quantidade de ingredientes que irá utilizar no preparo das receitas.

INGREDIENTES	1 RECEITA	2 RECEITAS	4 RECEITAS	6 RECEITAS
GEMA	2			
AÇÚCAR	3 COLHERES			
LEITE	1 COLHER			
NATA	1 COLHER			
PÃO	12 FATIAS			

## 7-MISSA DO GALO

Missa do Galo - Para os católicos, tão tradicional quando o presépio e a árvore de Natal é a Missa de Galo, celebrada à meia noite. Há, porém, um sentido para que esta celebração seja realizada tão tarde. Deve-se frisar que muitos acontecimentos importantes na vida de Jesus e que deram embasamento à fé cristã aconteceram na calada da noite. O próprio nascimento e a sua ressurreição se deram em plena madrugada, antes que o sol nascesse, e é justamente nesse período que o galo anuncia o fim das trevas e surgimento de um novo dia. É dentro desta simbologia que foi instituída a Missa do Galo. É um preceito antigo do catolicismo dividir a noite em quatro vigílias.

a) Dona Júlia quer assistir a Missa do Galo. Para ir de sua casa até a igreja, dona Júlia leva 1 hora. Observe e complete o quadro abaixo:


SE SAIR ÀS	CHEGARÁ ÀS
21h	
21h 20min	
21h 30min	
21h 45min	

## 8- Símbolos Modernos

### CANTATA DE NATAL

Em meio às festividades do Natal, algumas religiões destacam uma atenção especial para o dia 25 de dezembro. As comemorações que existem, em geral, são musicais, com Cantata de Natal ou, às vezes, teatrais. Muitas delas, inclusive, não retratam apenas os acontecimentos de Jesus, mas também seus ensinamentos, e como estes se aplicam como modelo de uma vida saudável.

# DOMINÓ





Referências:

<http://wata-eh-legal.blogspot.com/2010/07/atividades-de-matematica-natal.html?m=1>

<http://4.bp.blogspot.com/-ufxTmgzQ9U8/Trbh-PtfQcl/AAAAAAAAAG14/TJrOXwi-zrA/s1600/NATAL%2BSITUA%25C3%2587%25C3%2583O%2BPRO.png>

<https://images.app.goo.gl/iAHcoXF6FHAYT94z5>

<https://www.soescola.com/2017/11/simulado-de-matematica-4-ano-para-4-bimestre.html/simulados-de-matematica-4-ano-para-4-bimestre-1>

<https://www.instagram.com/sugestoes.pedagogicas/>