

E. M "JOÃO CARDOSO DE MORAES"

15ª APOSTILA

Professora Maria Aparecida - AEE



3º ANO - A


NOME _____

DATA ____ / ____ / ____



GRÁFICOS

VEJA OS BRINQUEDOS QUE FORAM VENDIDOS DURANTE O NATAL.



1- QUAL BRINQUEDO MAIS VENDIDO?

2- QUAL BRINQUEDO MENOS VENDIDO?

3- QUANTOS BONECAS FORAM VENDIDAS?

4- QUANTOS CARRINHOS E BOLAS FORAM VENDIDOS?

5- QUANTAS BICICLETAS A MAIS QUE PIÕES FORAM VENDIDOS ?



ESCOLA: _____

TURMA: _____ DATA: ____ / ____ / ____

ALUNO: _____

❄️ **LEITURA** ❄️

1- LEIA AS PALAVRAS E LIGUE CADA DESENHO AO SEU RESPECTIVO NOME:



• SINO •

• LAÇO •

• MEIA •

• RENA •

• VELA •

• CASA •

• ANJO •

• ÁRVORE •

• BOLA •

• BONECO •








ESCOLA: _____

NOME: _____

DATA: _____

Complete a cruzadinha abaixo:

2.   4. 

1.  5. 

- 1. Cobre o corpo das aves.
- 2. Usamos para telefonar.
- 3. Usamos para cortar papéis e outras coisas.
- 4. É o rei da selva.
- 5. Brinquedo que gira no chão.

NOME _____

DATA ____/____/____



REALIZE AS SOMAS E ESCREVA OS RESULTADOS

SISTEMA MONETÁRIO



+



=



+



=



+



=



+



=



+



=

REFERÊNCIAS:

israelakotona.blogspot.com

www.todamateria.co.br

www.liveworksheets.com