

E. M. "Padre Elídio Mantovani"

Feliz Natal!



APOSTILA 15

Atividades

Escolares

Ensino Remoto

Embasada nos Art. 24 Inciso I,
Art. 32 § 4º e Art. 80 § 3º da Lei
de Diretrizes e Bases nº
9394/96

Nome completo: _____

- Professora Melina - 3º ano B

ATIVIDADES REFERENTES AO PERÍODO DE 01/12 à 10/12/2021 - DATA DE ENTREGA: 30/11/2021 - DATA DE DEVOLUÇÃO: 13/12/2021

Aos Pais ou Responsáveis

Orientações para as atividades que serão realizadas em casa

POR FAVOR, LEIA TUDO COM ATENÇÃO!

A paralisação das aulas presenciais diante da atual situação global requer esforços contínuos para que possamos garantir da melhor forma possível a qualidade educacional. Certamente o estudo a distância somente alcançará seus objetivos se for bem articulado com a família. Precisamos nos unir nesse momento pelo bem dos alunos.

O objetivo dessas atividades é garantir o direito do aluno de aprender e ter acesso aos conteúdos programados para a sua série, até que a situação se normalize.

Para que os alunos possam fazer bom proveito dessas atividades, aqui vão algumas dicas:


- Ajude a criança a criar laços de responsabilidade.
- Organize uma rotina de estudos. Os horários de execução das atividades devem ser sempre os mesmos (dentro do possível). O local deve ser arejado e claro.
- Evite que a criança faça as atividades diante da televisão ou com o som ligado, pois isso pode lhe tirar a concentração.
- O incentivo à criança na execução das atividades é muito importante.
- Promova a independência da criança gradativamente até que ela seja capaz de executar as atividades sozinha.
- O adulto deve interferir como agente esclarecedor da atividade em caso de dificuldade, mas NUNCA fazer as atividades para a criança.
- Caso haja dúvidas, podem me enviar mensagem no privado do WhatsApp a qualquer momento. Estarei à disposição para esclarecimentos das dúvidas das atividades de segunda à sexta das 13h às 17h.
- Serão levados em consideração na correção das atividades a responsabilidade, o capricho, o recorte e a colagem, sem deixar, contudo, de serem observadas as diferenças individuais, respeitando e valorizando o crescimento pessoal de cada aluno(a).

Atenciosamente,
Professora Melina

Orientações para os alunos:

Querido(a) Aluno(a)


- ❖ Junto com os pais, escolha o melhor horário de estudo e siga-o todos os dias.
- ❖ Escolha um lugar ventilado, bem iluminado, sossegado, longe da televisão ou do som e concentre-se na atividade que estiver fazendo.
- ❖ Organize-se, colocando sobre a mesa todo o material de que vai precisar: lápis de escrever, lápis de cor, borracha, cola, tesoura, apontador.
- ❖ Não esqueça de colocar o seu nome completo na apostila.
- ❖ Faça as atividades com atenção e capricho.
- ❖ Antes de executar as atividades, sempre leia o enunciado com atenção.
- ❖ Faça sempre uma letra caprichada e legível.
- ❖ Pinte com capricho as ilustrações.
- ❖ Faça tudo com boa vontade. Se houver alguma dificuldade, peça ajuda de um adulto, e se mesmo assim a dificuldade e dúvida persistir, envie uma mensagem para a professora.
- ❖ Ao terminar as atividades do dia, organize seu material e o local de estudo, deixando tudo arrumado.
- ❖ Cuide bem da sua apostila. Não suje, nem amasse. Lembre-se que esse material foi preparado com muito esforço e carinho para você e deverá ser devolvido para correção e intervenção da professora.
- ❖ Quero ver você brilhar sempre!



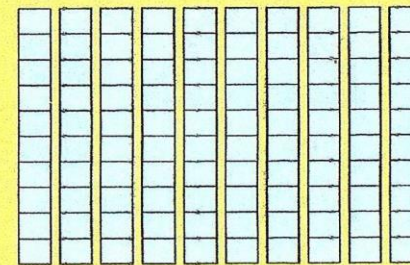
Um abraço,
Professora Melina

DATA: 02/12/2021


SISTEMA DE NUMERAÇÃO DECIMAL: CENTENA



Sistema de numeração decimal Centenas



10 dezenas



1 centena

10 dezenas formam 1 centena ou 100 unidades
100 (cem)

1. Complete o quadro de 1 a 100.

1									
				16					
	22								30
41				45					
		63							
						77			
			84						
	92								100

2. Complete os espaços com os algarismos abaixo.

100 1 100 10 1 10

100 unidades = dezenas

100 unidades = centena

10 dezenas = unidades

Leia e ligue as palavras iguais.

placa
flecha
aflita
bíblia
classe
nublado
plano
globo
flauta
clima
Cláudio
Plínio
flor
Glória
glacê
completo
atleta

classe
bíblia
placa
aflita
flecha
clima
flauta
plano
nublado
globo
atleta
glacê
completo
Cláudio
Plínio
flor
Glória

Cole, nesta folha, palavras com:

bl - cl - fl - gl - pl - tl

Forme palavras juntando as sílabas dadas:



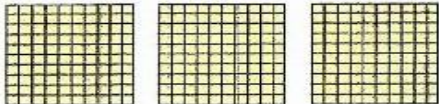


ci	blu	sa	fli
clu	be	do	
cle	a	ca	ta
fle	pli	cê	
glo	cha	gla	bo
			pla

10 dezenas = centena




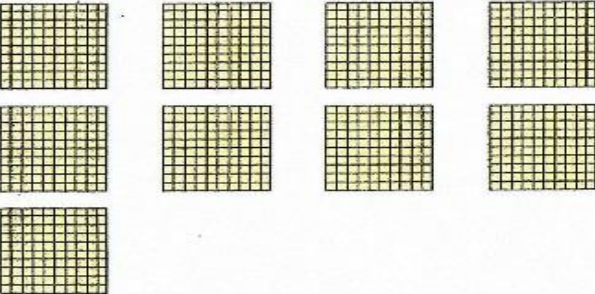
1 centena = unidades

1 centena = dezenas

3. Observe e complete o quadro abaixo.

	100
	
	
	
	

4. Observe o exemplo e complete.

	6 centenas 600 seiscentos
	
	
	

Brinquedo



brinquedo

bra	bre	bri	bro	bru
bra	bre	bri	bro	bru
cra	cre	cri	cro	cru
cra	cre	cri	cro	cru
dra	dre	dri	dro	dru
dra	dre	dri	dro	dru
fra	fre	fri	fro	fru
fra	fre	fri	fro	fru
gra	gre	gri	gro	gru
gra	gre	gri	gro	gru
pra	pre	pri	pro	pru
pra	pre	pri	pro	pru
tra	tre	tri	tro	tru
tra	tre	tri	tro	tru
vra	vre	vri	vro	vru
vra	vre	vri	vro	vru

Junte e leia.

br a _____
 e _____
 i _____
 o _____
 u _____

cr a _____
 e _____
 i _____
 o _____
 u _____

dr a _____
 e _____
 i _____
 o _____
 u _____

fr a _____
 e _____
 i _____
 o _____
 u _____

gr a _____
 e _____
 i _____
 o _____
 u _____

pr a _____
 e _____
 i _____
 o _____
 u _____

tr a _____
 e _____
 i _____
 o _____
 u _____

vr a _____
 e _____
 i _____
 o _____
 u _____



1. Adicione e multiplique.



$$\begin{array}{r} 2 \\ 2 \\ 2 \\ 2 \\ 2 \\ + 2 \\ \hline \square \end{array}$$

$$\begin{array}{r} 2 \\ \times 5 \\ \hline \square \end{array}$$



$$\begin{array}{r} 4 \\ 4 \\ 4 \\ 4 \\ + 4 \\ \hline \square \end{array}$$

$$\begin{array}{r} 4 \\ \times 4 \\ \hline \square \end{array}$$



$$\begin{array}{r} 6 \\ 6 \\ 6 \\ + 6 \\ \hline \square \end{array}$$

$$\begin{array}{r} 6 \\ \times 3 \\ \hline \square \end{array}$$



$$\begin{array}{r} 5 \\ 5 \\ 5 \\ 5 \\ 5 \\ + 5 \\ \hline \square \end{array}$$

$$\begin{array}{r} 5 \\ \times 4 \\ \hline \square \end{array}$$



$$\begin{array}{r} 2 \\ 2 \\ 2 \\ 2 \\ + 2 \\ \hline \square \end{array}$$

$$\begin{array}{r} 2 \\ \times 4 \\ \hline \square \end{array}$$



$$\begin{array}{r} 3 \\ 3 \\ 3 \\ 3 \\ 3 \\ + 3 \\ \hline \square \end{array}$$

$$\begin{array}{r} 3 \\ \times 5 \\ \hline \square \end{array}$$

Problemas

1. Numa caixa há 5 chocolates. Quantos chocolates haverá em 3 caixas iguais a essa?

Cálculo

Resposta

2. Carlinhos ganhou um aquário com 5 peixinhos. Quantos peixinhos teria Carlinhos se ganhasse 4 aquários iguais a esse?

Cálculo

Resposta

3. Paulinho tem 8 carrinhos. Renato tem 2 vezes a quantidade de carrinhos de Paulinho. Quantos carrinhos tem Renato?

Cálculo

Resposta

DATA: 09/12/2021

Ligue e copie o nome da figura.



- trigo
- tranca
- trem



- pedra
- quatro
- quadro



- fruta
- fronha
- fresca



- brinco
- bruxa
- broche



- gravador
- gravata
- igreja



- criança
- crocodilo
- cravo

Cole, nesta folha, palavras com:

br - cr - dr - fr - gr - pr - tr - vr

Junte as sílabas e leia.

prín	ci	pe	_____
	pri	mo	_____
es	tre	la	_____
	gri	to	_____
ca	bri	to	_____

● Nosso Maior Presente

Quando vai se aproximando o Natal, tudo fica tão diferente!

As ruas ficam mais cheias de pessoas, andando atarefadas de um lado para o outro, preocupadas com os presentes.

As casas começam a se enfeitar com árvores, luzes coloridas e guirlandas nas portas.

As cores, as luzes e os enfeites luminosos, deixam a cidade num clima acolhedor de festa.

Músicas natalinas, ao som de harpas antecipam ainda mais a esperança do grande dia.

É Natal! Tempo de festejar o nascimento de Jesus, o nosso maior presente.

Graça Batituci

INTERPRETAÇÃO DO TEXTO

1. (0,25) Qual o título do texto?

2. (0,25) Qual o nome da autora?

3. (0,25) Quantos parágrafos tem o texto?

4. De acordo com o texto, responda:

a) (0,5) Como ficam as ruas quando vai se aproximando o Natal?

b) (0,5) Como ficam as casas nessa época do ano?

c) (0,5) Na época do Natal, o que deixa a cidade num clima acolhedor de festa?

d) (0,5) Qual é o nosso maior presente?

5. (0,25) E na sua casa, como vocês se preparam para o Natal?
