

E.M. " ALEXANDRE VANNUCHI LEME "

15 ° APOSTILA

REFERENTE AOS DIAS : 01 / 12 Á 10 / 12



PROFESSORA : PATRÍCIA ELAINE

2 ° ANO B

DEVOLVER DIA : 10 / 12 / 2021

NOME DO ALUNO (A) :

OLÁ MEUS AMORERS !

ESPERO QUE TODOS ESTEJAM BEM .

AGORA FALTA MUITO POUCO ,PARA ACABAR O NOSSO CICLO DO 2 º ANO B .

ESTA APOSTILA É REFERENTE AOS DIAS : 01 /12 , 02 , 03 , 04 , 05 , 06 ,07 ,08 , 09 , 10 /12

ENTERGAR A APOSTILA DIA 10 /12 /2021

QUALQUER DÚVIDA ESTOU A DISPOSIÇÃO SÓ ME CHAMAR COMO DE COSTUME .

AGRADEÇO DE CORAÇÃO TODO EMPENHO QUE CADA ALUNO E ALUNA TEVE NESTE ANO QUE NÃO FOI FÁCIL NOVAMENTE , MAS SE DEUS PERMITIR O ANO DE 2022 SERÁ MELHOR .

OBRIGADA TAMBÉM PARA TODAS AS FAMÍLIAS PELO ESFORÇO , DEUS ABENÇOE A TODOS .




BEIJOS .

PROFESSORA : PATRÍCIA ELAINE

ESCOLA: _____

ALUNO(A): _____

AMOR! COMPLETE A CRUZADINHA COM OS NOMES DE ALGUNS SÍMBOLOS DO NATAL.



- 1- ANJO
- 2- ESTRELA
- 3- PRESENTE
- 4- MANJEDOURA
- 5- REIS

NOME: _____ Nº _____

SALA: _____ PROFª _____ TURMA: _____



Pedagogadapaz.blogspot.com

ARME E RESOLVA

$13 + 7 =$

D	U

$60 + 7 =$

D	U

$90 + 3 =$

D	U

$63 + 8 =$

D	U

$16 + 22 =$

D	U

$45 + 12 =$

D	U

$30 + 22 =$

D	U

$37 + 13 =$

D	U

$37 + 35 =$

D	U

$19 + 17 =$

D	U

$15 + 38 =$

D	U

$50 + 24 =$

D	U





COMPREENSÃO DO TEXTO

Uma época especial

1. Observe a palavra NATAL.

NATAL

Primeira sílaba:

Última sílaba:



2. Pinte as sílabas da palavra NATAL.



3. Complete as palavras abaixo com: al - el - il - ol - ul



cara__



s__

Janz__



fun__



barr__



jorn__



Escola: _____

Data: _____ Turma: _____ **ENSINOJA**

Aluno: _____

RESOLVA OS PROBLEMINHAS

✍ Manuel tem _____ carrinhos,
_____ bolas e _____ petecas.
Quantos brinquedos
Manoel tem?

_____ + _____ + _____ = _____

Agora responda:

Qual brinquedo Manoel tem mais?

Qual brinquedo Manoel tem menos?

✍ Se Manoel tivesse apenas carrinhos e bolas, quantos brinquedos ele teria?

✍ Se Manoel tivesse apenas carrinhos e petecas, quantos brinquedos ele teria?



**NATAL É TEMPO DE AMOR E PAZ.
NO NATAL VIVEMOS A ALEGRIA
DE VIVER EM CRISTO.**



- Encontrar no caça-palavras abaixo todas as palavras referentes ao Natal.

A	M	O	R	A	B	C	S	I	N	O	D	E
F	A	L	E	G	R	I	A	G	H	W	J	K
L	M	N	O	P	Q	P	C	R	I	S	T	O
E	S	T	R	E	L	A	R	S	V	E	L	A
T	U	V	X	Z	A	Z	B	C	D	L	E	F
G	H	P	R	E	S	E	N	T	E	S	I	J

- 1 - amor
- 2 - paz
- 3 - sino
- 4 - alegria

- 5 - Cristo
- 6 - estrela
- 7 - vela
- 8 - presentes

Nome: _____ data: _____

Ligue os pontos e ajude o Papai Noel descansar, logo
após escreva o nome dos números que você ligou no
espaço abaixo:



www.atividadespedagogicasuzano.com.br



Escola: _____

Data: _____

Turma: _____

SOESCOLA.COM

Aluno: _____

RELEITURA DE ROMERO BRITTO
VAMOS COLORIR?

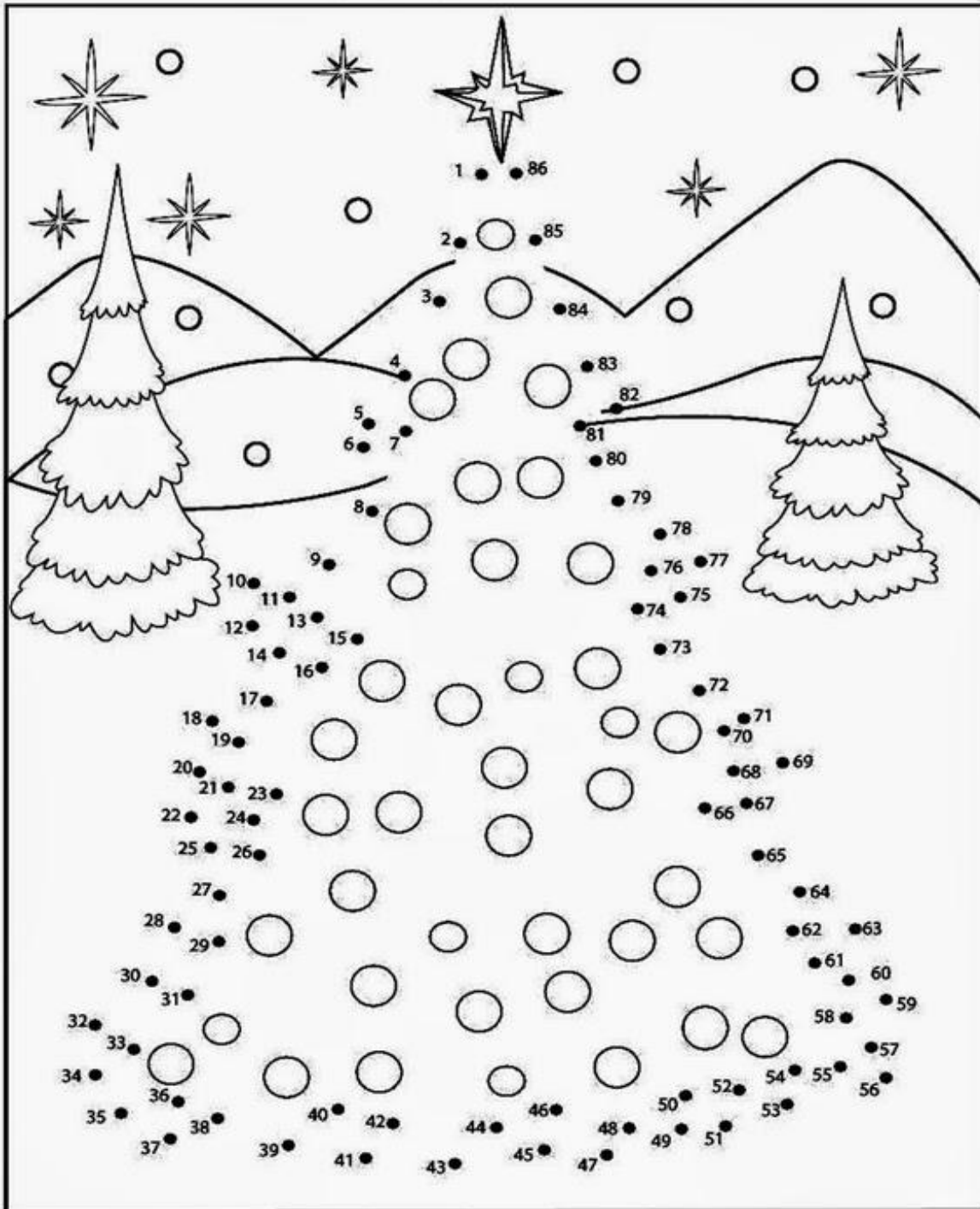


ESCOLA

PROFESSORA (O)

ALUNO (A)

LIGUE OS PONTOS E VEJA O QUE SE FORMA.



ESCOLA: _____

TURMA: _____ DATA: ____ / ____ / ____

ALUNO: _____

1- Pinte as palavras que representam o sentido do natal para você:

Natal é...

Presente

Vida

Paz

Papai Noel

Amor

Jesus

Festa

União

Ceia

Solidão

Alegria

2-Faça uma pesquisa e responda:



Qual é a história do natal?

NOME: _____ DATA: ____/____/____

AJUDE O PAPAÍ NOEL ENCONTRAR
O RESULTADO DAS SUBTRAÇÕES.



$$\begin{array}{r} 17 \\ -11 \\ \hline \end{array}$$

$$\begin{array}{r} 26 \\ -15 \\ \hline \end{array}$$

$$\begin{array}{r} 43 \\ -21 \\ \hline \end{array}$$

$$\begin{array}{r} 18 \\ -16 \\ \hline \end{array}$$

$$\begin{array}{r} 34 \\ -13 \\ \hline \end{array}$$

$$\begin{array}{r} 28 \\ -12 \\ \hline \end{array}$$

$$\begin{array}{r} 14 \\ -11 \\ \hline \end{array}$$

$$\begin{array}{r} 57 \\ -33 \\ \hline \end{array}$$



[HTTPS://CLUBEDASLETRINHAS.COM/](https://clubedasletrinhas.com/)



@PROKATIA TEIXEIRA



Clube das Letrinhas

Escola _____

Aluno (a) _____

Educador _____



ATIVIDADE NATALINA

1. O QUE VOCÊ ACHA QUE TEM DENTRO DO SACO DE NOEL?
DESENHE:



2. E VOCÊ? O QUE GOSTARIA DE GANHAR?

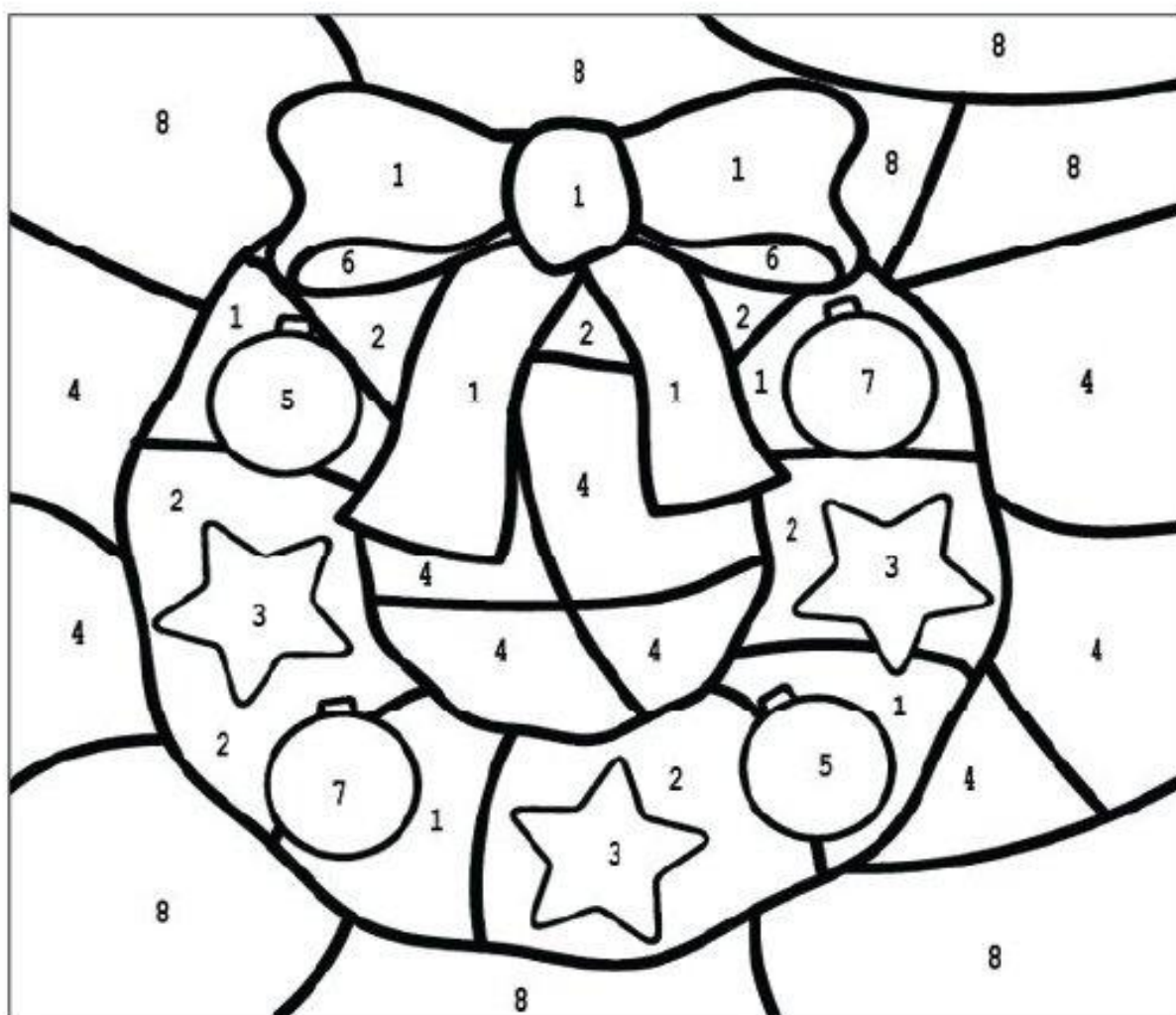
ESCOLA:

NOME:

DATA: / /

Colorindo o Natal

Pinte a figura abaixo, conforme os números das cores.



1 = VERMELHO

2 = VERDE

3 = AMARELO

4 = AZUL CLARO

5 = ROXO

6 = ROSA

7 = LARANJA

8 = AZUL ESCURO


Escola: _____

Data: _____ Turma: _____

SOESCOLA.COM

Aluno: _____

PALAVRAS CRUZADAS



• Fatos e Operações •

• Resolva os fatos e as operações:



$$\begin{array}{r} 8 \\ + 2 \\ \hline \end{array}$$

$$\begin{array}{r} 7 \\ + 3 \\ \hline \end{array}$$

$$\begin{array}{r} 4 \\ + 4 \\ \hline \end{array}$$

$$\begin{array}{r} 5 \\ + 1 \\ \hline \end{array}$$

$$\begin{array}{r} 6 \\ + 2 \\ \hline \end{array}$$

$$\begin{array}{r} 3 \\ + 0 \\ \hline \end{array}$$

$$\begin{array}{r} 4 \\ + 7 \\ \hline \end{array}$$

$$\begin{array}{r} 1 \\ + 2 \\ \hline \end{array}$$

$$\begin{array}{r} 10 \\ + 5 \\ \hline \end{array}$$

$$\begin{array}{r} 12 \\ + 3 \\ \hline \end{array}$$

$$\begin{array}{r} 11 \\ + 4 \\ \hline \end{array}$$

$$\begin{array}{r} 17 \\ + 2 \\ \hline \end{array}$$

$$\begin{array}{r} 11 \\ - 1 \\ \hline \end{array}$$

$$\begin{array}{r} 8 \\ - 6 \\ \hline \end{array}$$

$$\begin{array}{r} 4 \\ - 2 \\ \hline \end{array}$$

$$\begin{array}{r} 5 \\ - 3 \\ \hline \end{array}$$

$$\begin{array}{r} 7 \\ - 6 \\ \hline \end{array}$$

$$\begin{array}{r} 9 \\ - 5 \\ \hline \end{array}$$

$$\begin{array}{r} 13 \\ - 2 \\ \hline \end{array}$$

$$\begin{array}{r} 16 \\ - 4 \\ \hline \end{array}$$

$$\begin{array}{r} 17 \\ - 1 \\ \hline \end{array}$$

$$\begin{array}{r} 18 \\ - 8 \\ \hline \end{array}$$

$$\begin{array}{r} 19 \\ - 7 \\ \hline \end{array}$$

$$\begin{array}{r} 15 \\ - 2 \\ \hline \end{array}$$



NOME: _____

TURMA: _____

ATIVIDADES SOBRE O NATAL

1) LEIA, ESCREVA E DESCUBRA O NÚMERO DE SÍLABAS E LETRAS DAS PALAVRAS.



--	--	--

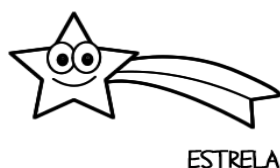
SÍLABAS

--

--	--	--	--	--	--	--	--

LETRAS

--



--	--	--

SÍLABAS

--

--	--	--	--	--	--	--

LETRAS

--



--	--	--

SÍLABAS

--

--	--	--	--	--	--	--	--

LETRAS

--



--	--

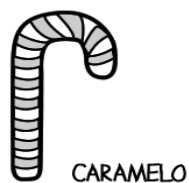
SÍLABAS

--

--	--	--	--

LETRAS

--



--	--	--	--

SÍLABAS

--

--	--	--	--	--	--	--

LETRAS



--

ALUNO: _____


TURMA: _____ DATA: ____ / ____ / ____

PROBLEMAS DE MULTIPLICAÇÃO


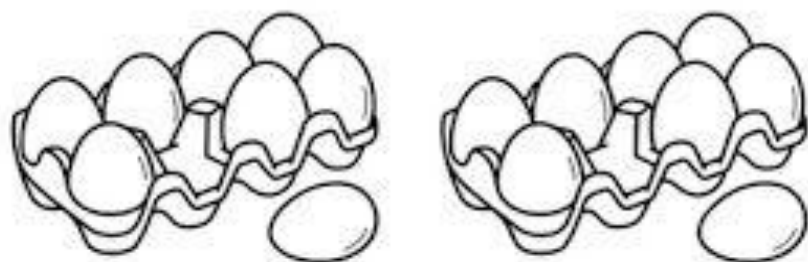
1- SE EU DER 3 BALAS PARA 3 CRIANÇAS, QUANTOS BALAS PRECISAREI?



2- SE EM UM PRATO TEM 7 BISCOITOS, QUANTOS BISCOITOS CABEM EM 2 PRATOS?



3- SE UMA CAIXA TEM 8 OVOS. QUANTOS OVOS HÁ EM 2 CAIXAS?



NOME: _____

PROFESSORA: _____

DATA: ____/____/____



ATIVIDADES DE LÍNGUA PORTUGUESA



TEMPO DE NATAL

CHEGOU NATAL!

AS RENAS DE PAPAÍ NOEL ESTAVAM EM FESTA.

MAMÃE NOEL COLOCOU MUITAS LUZES PARA ENFEITAR O TRENÓ.

OS PRESENTES ESTAVAM PRONTOS A SEREM DISTRIBUÍDOS.

PAPAÍ NOEL PEGOU A LISTA DE PRESENTES, SUBIU NO TRENÓ E SAIU PELO MUNDO AFORA FALANDO:

_ HO... HO... HO... FELIZ NATAL!



ISABEL CRISTINA S. SOARES

1 - NUMERE OS PARÁGRAFOS DO TEXTO.

2 - O TEXTO TEM PARÁGRAFOS.

Escola: _____

Data: _____ Turma: _____ **EDUCALUNOS.COM**

Aluno: _____

ATIVIDADES DE MATEMÁTICA


1) COMPLETE PARA CALCULAR O TOTAL

A. QUANTOS LÁPIS TEM NO TOTAL?

ADIÇÃO: + + =

MULTIPLICAÇÃO: x =

TOTAL DE LÁPIS:

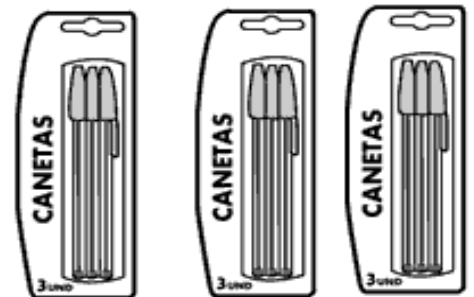


B. QUANTAS CANETAS TEM NO TOTAL?

ADIÇÃO: + + =

MULTIPLICAÇÃO: x =

TOTAL DE LÁPIS:

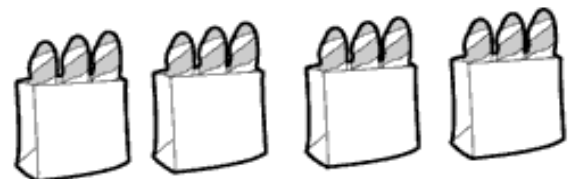


2) LIGUE CADA MULTIPLICAÇÃO COM A FIGURA CORRESPONDENTE

4 X 3 •

2 X 2 •

6 X 2 •



UM FELIZ NATAL

Poesia de criança:

Neste Natal
quero ganhar:
brilho, amor e alegria.
O brilho das estrelas,
o amor de Jesus.
a alegria de partilhar
e poder amar.

Quero formar:
uma família unida,
amizades queridas.

Quero ser:
uma boa amiga,
uma criança feliz.

Quero colocar:
Um feliz Natal!

Maria Carolina M. de Castro

Atividades:

1) O que Carolina quer ganhar neste Natal?

2) Como ela quer que sua família seja?

3) Como ela quer ser?

5) Como gostaria que sua família fosse?



MATEMÁTICA

NOME: _____

ESCOLA: _____

PROFESSORA: _____

TURMA: _____ DATA: ____/____/____

1- Quézia pisou nestes numerais 0-2-4-6-8 e Luís pulou nestes numerais 1-3-5-7-9. É correto dizer que:

- Luís pulou sem saltar numerais.
 - Quézia pulou nos números pares.
 - Luís pulou nos números maiores que 10.
 - Quézia pulou nos numerais ímpares.
-

2- Observe a sequência dos numerais.

30 - 32 - 34 - 36 - 38

A trilha é:

39 - 40 - 41 - 42

40 - 42 - 44 - 46

35 - 38 - 39 - 40

41 - 42 - 43 - 44

3- Veja a operação:

$$\begin{array}{r} 25 \\ + 32 \\ \hline \end{array}$$

- A soma desta operação é 58.
 - A soma desta operação é 56.
 - A soma desta operação é 57.
 - Nenhuma das respostas acima.
-

4- Resolva a operação e marque a resposta certa:

$$\begin{array}{r} 98 \\ - 57 \\ \hline \end{array}$$

- O minuendo é 57.
 - O minuendo é menor.
 - O resto é 57.
 - O resto é 41.
-

REFERÊNCIAS

HTTPS:// pedagogia da paz.blogs.pot.com.br

w.w.w.Espacoprofessor.com.

w.w.w.Kátia texeira.com

w.w.w.Ensinaja

w.w.w.atividadepedagogiasuzano.com.br

w.w.w.soescola.com

w.w.w.ensinar aprender

w.w.w.aarteensinareaprender.com.br

[HTTPS://clubedasletrinhas.com](https://clubedasletrinhas.com)

w.w.w.Ideiacriativagibarbosa

w.w.w.Escolaeducaçao

w.w.w.Nossoclubinho.com.br

w.w.w.Israelkotona

w.w.w.Alfabetizaçaoonline.com

w.w.w.Educalunos.com