



Prefeitura da Estância Turística de
IBIÚNA
TRANSFORMAÇÃO RESPONSÁVEL. CUIDANDO DE PESSOAS.

Av. São Sebastião, 192 - 4º Andar - Centro - Ibiúna - Telefone: (15) 3248-3574 - educacaolbiuna@gmail.com



EM "Bairro Morro Grande" Telefone: (15) 3249 1634
Estrada Municipal Benedito Domingues Vieira, s/nº Bairro Morro Grande

E.M "Bairro Morro Grande"

Aluno(a) _____

Professora Luciana Camargo

3º Ano B - 2021

**Atividades do período de
01 a 14 de dezembro**

DATA DE DEVOLUÇÃO: 14/12


Atividades avaliativas 4º bimestre

Língua portuguesa

1) Coloque os nomes abaixo em ordem alfabética.

Paloma – Ana – Rafaela – João – Shofya – Gabriel – Kauã – Maria


2) Veja a figura abaixo.



Agora faça um X no quadradinho onde mostra o nome dessa figura.

- A) acervo
- B) caderno
- C) inverno
- D) moderno

3) Veja a figura abaixo



Agora faça um X no quadradinho onde mostra o nome dessa figura.

- A) avião
- B) apagão
- C) dragão
- D) pavão

4) Leia o texto abaixo:

Oi Juliana,
Saí com a Cecília de manhã e chegaremos a noite!
Resolvemos comprar os presentes de natal!
Beijos!

Mariana

Este texto foi escrito com o objetivo de

- A) contar uma história.
- B) dar um recado.
- C) divertir as pessoas.
- D) informar o leitor.

5) Leia o texto abaixo:



Disponível em: <<http://www.opoderdasemocoas.com.br/tira/tirinhas.asp?pe=medoca>> Acesso em: 31 maio 2018

No segundo quadrinho a menina está gritando porque

- A) ela gosta de insetos.
- B) quer assustar o seu amigo.
- C) sente medo de mosca.
- D) seu amigo brigou com ela.

O Leão e o Javali

Num dia muito quente, um leão e um javali chegaram juntos a um poço. Estavam com muita sede e começaram a discutir para ver quem beberia primeiro. Nenhum cedia a vez ao outro. Já iam atracar-se para brigar, quando o leão olhou para cima e viu vários urubus voando.

— Olhe lá! – disse o leão. — Aqueles urubus estão com fome e espera para ver qual de nós dois será derrotado!...

— Então é melhor fazermos as pazes – respondeu o javali. — Prefiro ser seu amigo a ser comida de urubus.

Moral: Diante de um perigo maior, é melhor esquecermos as pequenas rivalidades.

Disponível em: <https://jucienebertoldo.files.wordpress.com/2014/08/apostila>. Acesso em 15 março 2018.

6) Leia o texto abaixo para responder as questões:

- A) para descobrir quem era o mais forte.
- B) para ver quem beberia primeiro.
- C) para ver quem chegaria primeiro ao poço.
- D) porque o dia estava muito quente.

Esse texto é

- A) uma biografia.
- B) uma fábula.
- C) uma lenda.
- D) um conto.

Leão e o Javali discutiam

No final desse texto, o Leão e o Javali

- A) continuaram brigando.
- B) foram derrotados pelos urubus.
- C) resolveram ficar amigos.
- D) viraram comida de urubu.

7) Veja a figura abaixo:



Escreva uma palavra que rima com a palavra **BONECA**.

8) Leia a tirinha abaixo.



Nesse texto, a intenção da garota ao regar a planta era

- A) ser dona de uma plantação.
- B) colher flores para a sua mãe.
- C) presentear a sua mãe.
- D) que fosse uma planta frutífera.

9) Veja a figura abaixo:



Escreva o nome da figura.

10) Veja o cartaz e responda:



Qual a mensagem que o cartaz quer transmitir para a população?

11) Leia o texto abaixo:




Disponível em: <<http://www.monica.com.br/comics/tirinhas/tira194.htm>>. Acesso em: 5 ago. 2019.

Nesse texto, o menino está

- A) assustado.
- B) contente
- C) bravo
- D) surpreso

12) Veja a cena abaixo.



Escreva uma frase contando o que acontece nessa cena.

<https://adonisdutra.com.br/descriptores-de-matematica-3ano/>

13) Leia o texto abaixo.




<https://adonisdutra.com.br/descriptores-de-matematica-3ano/>

Esse texto é

- A) uma carta
- B) um cartaz
- C) um convite
- D) um rótulo

14) Quantas sílabas tem o nome da figura abaixo?

- A) 3
- B) 5
- C) 4




15) Leia a parlenda e organize as palavras no quadro de acordo com a sua classificação.



MONOSSÍLABA	DISSÍLABA	TRISSÍLABA	POLISSÍLABA

<https://danieducar.com.br/avaliacao-diagnostics-3-ano-para-imprimir/>

16) Complete o quadro abaixo:



É com M ou com N?	
M	N



17) Veja a cena abaixo.



Imagine que você e seu cachorro se perderam quando voltavam de um passeio no parque. Escreva uma história contando como foi essa aventura. Não se esqueça de contar as coisas que viu e fez.

Matemática

1) Coloque os vizinhos dos números abaixo:

___ 10 ___

___ 197 ___

___ 278 ___

___ 78 ___

___ 426 ___

___ 500 ___

___ 100 ___

___ 320 ___

___ 999 ___

2) Para serem atendidos em um banco as pessoas precisam pegar uma senha.

Observe a senha e os nomes de 6 pessoas:



<https://www.istockphoto.com/br/vetor/desenho-de-pessoas-de-diversas-gm521384078-91329699>

Paula
201

João
102

Ana
102

Pedro
102

Maria
102

Vitor
102

o atendimento é feito em **ordem de chegada** e respeita a **ordem crescente dos números**.

Escreva os **nomes dessas pessoas** por ordem de chegada, de acordo com a ordem crescente dos números.

1º _____

2º _____

3º _____

4º _____

5º _____

3) Observe esta sequência numérica. Identifique o padrão da sequência e escreva os números que estão faltando.

103	106	109			118				130
-----	-----	-----	--	--	-----	--	--	--	-----

4) Veja o número abaixo:

95

A decomposição desse número é:

- A) $8 + 5$
- B) $90 + 5$
- C) $9 + 50$
- D) $90 + 50$

5) Observe o número do quadro.

809

Qual é o número do quadro?

- A) Oito e quatro
- B) Oitenta e quatro
- C) Oitocentos e nove
- D) Oitocentos e noventa

6) Observe os números abaixo:

128	106	198	59	99	68
-----	-----	-----	----	----	----

A ordem **decrescente** (do maior para o menor) dos números acima é:

- A) 106 – 128 – 198 – 68 – 59 – 99
B) 99 – 68 – 128 – 106 – 198 – 59
C) 59 – 68 – 99 – 106 – 128 – 198
D) 198 – 128 – 106 – 99 – 68 – 59

7) No quadro abaixo estão alguns números:

89 – 123 – 56 – 98 – 39

Qual deles é o menor?

- A) 89
B) 56
C) 39
D) 98
E) 123

8) Veja os números abaixo:

89 – 123 – 56 – 98 – 39

Qual deles é o maior?

- A) 123
B) 89
C) 56
D) 39
E) 98

9) Nas férias, Julia viajou para a casa da sua avó. Ela ficou lá durante 1 mês. Esse tempo equivale a quantos dias?

- A) 7 dias
- B) 14 dias
- C) 28 dias
- D) 30 dias

10) Que horas são?



<https://acessaber.com.br/atividades/atividade-de-matematica-que-horas-sao-4o-ou-5o-ano/>

11) Observe o relógio abaixo:



<https://www.canstockphoto.com.br/alarme-%C3%ADcone-rel%C3%B3gio-digital-39402738.html>

© CanStockPhoto.com - csp39402738

Que horas são?

- A) 1 hora e 30 minutos
- B) 1 hora e 3 minutos
- C) 10 horas e 30 minutos
- D) 10 horas e 3 minutos


12) Veja a quantidade de brinquedos que Paulo tem. Ele quer guardá-los em 2 caixa.



Quantos brinquedos Paulo colocará em cada caixa?

- A) 4
- B) 6
- C) 7
- D) 8

13) Veja as flores:




<https://www.artesanatopassoapassoja.com.br/desenho-de-flores/>

Se você organizar as flores em grupos de 10, quantos grupos você conseguirá formar?

- A) 5 grupos
- B) 4 grupos
- C) 3 grupos
- D) 2 grupos

14) Aline distribuiu igualmente suas bonequinhas com 6 colegas. Observe no quadro as bonequinhas que ela distribuiu.



Quantas bonequinhas cada colega ganhou?

- A) 3
- B) 4
- C) 2
- D) 5

15) A professora Luciana realizou uma pesquisa para saber quais são os lanches preferidos pelos seus alunos. Observe a quantidade de votos abaixo:

Lanches	Quantidade de alunos
Bolo	46
Fruta	32
Bolacha	36
Pão com recheio	23

De acordo com esses dados, qual é o tipo de lanche preferido dessa turma?

- A) Bolacha.
- B) Bolo.
- C) Fruta.
- D) Pão com recheio.

16) Fabiano foi a uma lanchonete. Ao chegar, observou a tabela de preços apresentada abaixo.

Salgados	Preço
Coxinha	R\$ 2,20
Pastel	R\$ 1,50
Empada	R\$ 2,30
Risoles	R\$ 1,50

Fabiano comprou 2 coxinhas, 1 empada e 2 risoles. Fabiano pagou por essa compra:

- A) R\$ 6,00
- B) R\$ 7,50
- C) R\$ 7,90
- D) R\$ 9,70

17) Faça um **X** no valor que representa 100 reais e 25 centavos?

- A) 
- B) 
- C) 
- D) 

18) Se você trocar a nota abaixo por notas de 5 reais, quantas notas você irá receber na troca?



- A) 4
- B) 5
- C) 7
- D) 9

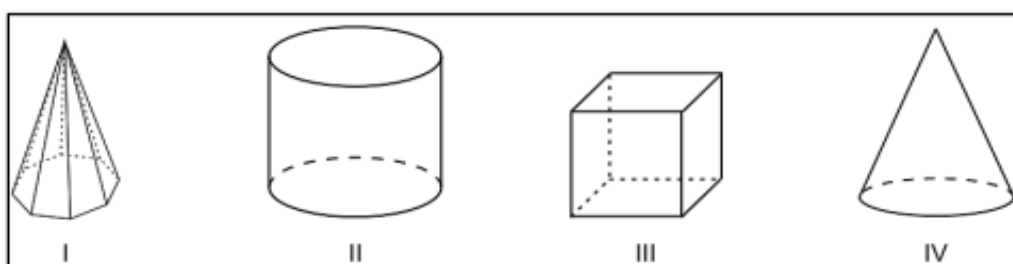
19) Marcos ganhou uma nota de R\$50,00 de seu pai. Ele usou essa nota para comprar uma bola que custava R\$ 35,30. Quanto Marcos recebeu de troco?

- A) R\$ 15,70
- B) R\$ 15,00
- C) R\$ 14,70
- D) R\$ 14,00

22) Maria leu 28 páginas de um livro que tem 67 páginas. Quantas páginas faltam para a Maria terminar de ler o livro?

- A) 38
- B) 39
- C) 40
- D) 41

21) Veja as figuras geométricas abaixo:



As figuras II e IV, são, respectivamente

- A) cilindro e pirâmide
- B) cilindro e cone
- C) cone e pirâmide
- D) quadrado e cone

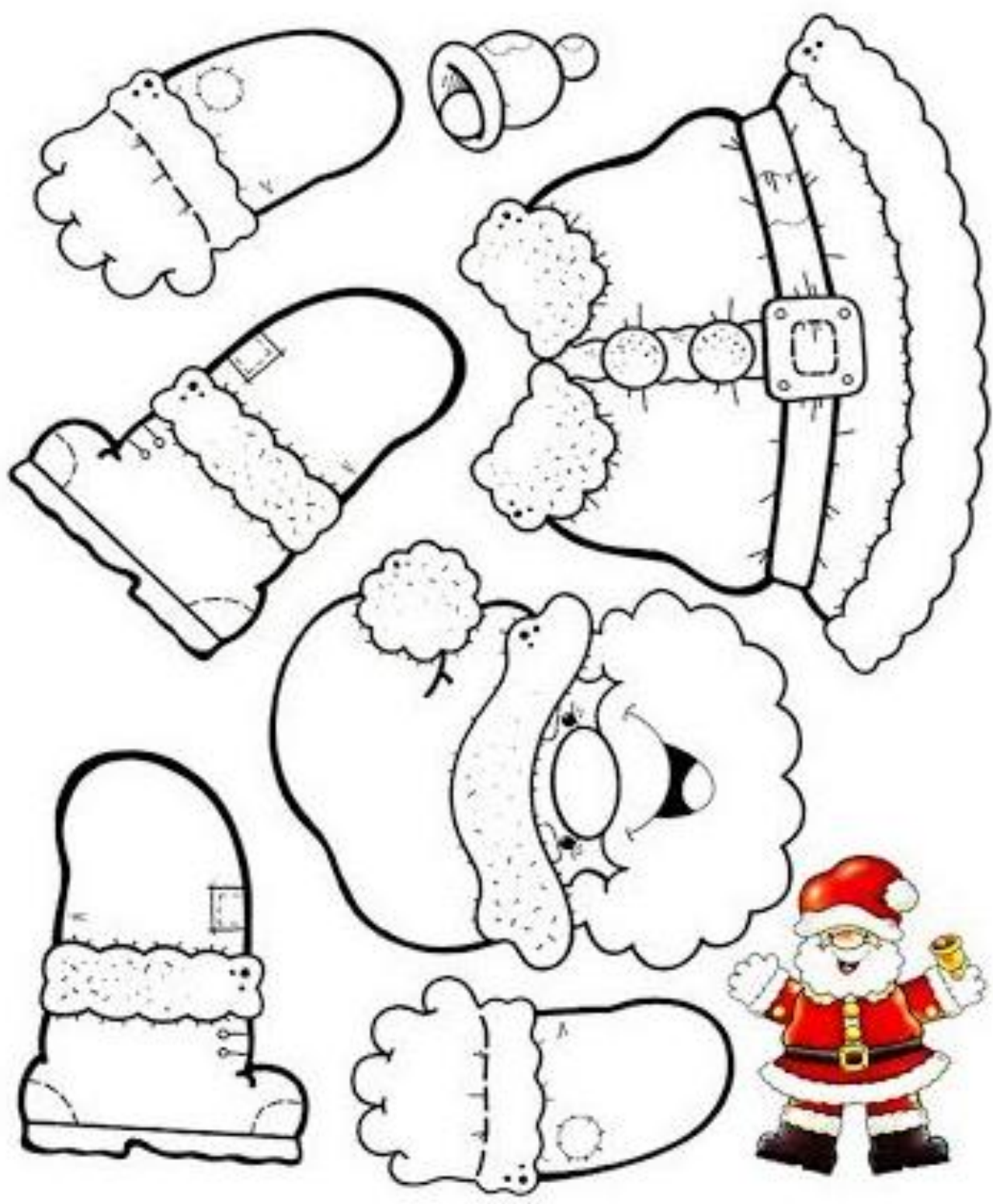
20) Veja a figura abaixo:



Essa figura lembra qual forma geométrica?

- A) Cubo.
- B) Cilindro.
- C) Cone
- D) Esfera.

VAMOS RECORTAR E MONTAR O PAPAÍ NOEL?



Cole aqui o seu Papai Noel

Recorte as formas geométricas e monte uma árvore de Natal na folha que você recebeu. Depois enfeite com círculos de papéis coloridos e quando estiver pronto me envie uma foto e, se quiser, de para alguém de presente. Não se esqueça de escrever uma mensagem no seu cartão.

- No final da folha tem uma sugestão de como montar a sua árvore.

