

E.M. "BAIRRO MORRO GRANDE"

APOSTILA DE ESTUDOS REMOTOS

Nº 15

CONTEÚDOS DO 4º BIMESTRE

PERÍODO DE 29 DE NOVEMBRO A 14 DE DEZEMBRO

1º ANO A

2021

PROFESSOR: MARCELO DE ALMEIDA ALVES

ELABORADA DE ACORDO COM AS ORIENTAÇÕES PEDAGÓGICAS DA SME DE 22/11/2021



PREFEITURA DA ESTÂNCIA TURÍSTICA DE
IBIÚNA
Por uma Ibiúna próspera. Investindo no presente, gerando o futuro.
SECRETARIA DE EDUCAÇÃO



OLÁ. QUERIDO(A) ALUNO(A)

VOCÊ ESTÁ RECEBENDO A DÉCIMA QUINTA APOSTILA DE ESTUDOS, ESSA SERÁ NOSSA ÚLTIMA APOSTILA DO ANO, TEMOS ATIVIDADES DO DIA 29 DE NOVEMBRO ATÉ O DIA 10 DE DEZEMBRO. NOSSAS ATIVIDADES SERÃO SOBRE O NATAL APROVEITE E DIVIRTA-SE COM AS LIÇÕES. QUALQUER DÚVIDA SÓ ME PROCURAR.

PROFESSOR MARCELO ALVES



NOME: _____



25 DE DEZEMBRO - NATAL



É NATALI!

(JÉSSICA VALENTIM)

BATE O SINO PEQUENINO,
SINO DE NATAL.
JÁ CHEGOU A MELHOR ÉPOCA.
TUDO É ESPECIAL!



O NATAL É BELO!
TODOS SE ALEGAM.
JUNTOS DOS QUE AMAM,
CANTAM E CELEBRAM.



BATE O SINO PEQUENINO.
É HORA DE FESTEJARI!
MUITO AMOR E ALEGRIA
PARA COMPARTILHAR.



O NATAL ENCANTA
TODAS AS CRIANÇAS.
JOVENS E ADULTOS
RENOVAM A ESPERANÇA.



NOME: _____



CONVERSANDO SOBRE O TEXTO...



1- PINTE O ASSUNTO DO TEXTO.

FESTA JUNINA

FOLCLORE

NATAL

2- DE ACORDO COM O TEXTO, COMO AS PESSOAS SE SENTEM NO NATAL?

FELIZES.

TRISTES.

DESANIMADAS.



3- RETIRE DO TEXTO AS RIMAS E ESCREVA-AS ABAIXO.

_____	_____	_____	_____
_____	_____	_____	_____

4- LEIA A IMAGEM E ESCREVA UMA FRASE SOBRE ELA.





ATIVIDADE 02 MATEMÁTICA

NOME: _____



25 DE DEZEMBRO - NATAL



1- COMPLETE A SEQUÊNCIA NUMÉRICA COM OS NÚMEROS FALTOSOS.



○ 2 ○ ○ ○ ○


○ ○ ○ ○ 7 ○

12 ○ ○ ○ ○ ○

○ ○ ○ ○ ○ ○ 17

○ ○ ○ ○ ○ ○ ○

○ 23 ○ ○ ○



NOME: _____





25 DE DEZEMBRO - NATAL



LIGUE CADA UM A SEU GRUPO.

1-





ATIVIDADE 03 LÍNGUA PORTUGUESA

NOME: _____

 25 DE DEZEMBRO - NATAL 

1- LEVE O PAPAÍ NOEL ATÉ OS PRESENTES PASSANDO PELO CAMINHO DA ORDEM ALFABÉTICA.

	A	B	C	D	X	
	7	M	V	E	6	
S	J	I	H	G	F	T
2	K	G	A	9	W	L
B	L	M	N	O	P	5
C	U	T	S	R	Q	D
J	V	8	F	E		
4	W	X	Y	Z		



ABCDEFGHIJKLMNOPQRSTUVWXYZ

NOME: _____

 25 DE DEZEMBRO - NATAL 

1- TROQUE A SÍLABA EM DESTAQUE E DESCUBRA OUTRAS PALAVRAS.

 BOLA

BOLA

↓

 ____ LA

 ____ LA

 ____ LA

BOLA

↓

 BO ____

 BO ____

 BO ____



ATIVIDADE 04 MATEMÁTICA

NOME: _____



25 DE DEZEMBRO - NATAL



LEIA O CALENDÁRIO ABAIXO. O NATAL É COMEMORADO NO DIA 25 DE DEZEMBRO.



DEZEMBRO DE 2020						
DOMINGO	SEGUNDA-FEIRA	TERÇA-FEIRA	QUARTA-FEIRA	QUINTA-FEIRA	SEXTA-FEIRA	SÁBADO
		1	2	3	4	5
6	7	8	9	10	11	12
13	14	15	16	17	18	19
20	21	22	23	24	25	26
27	28	29	30	31		

1- FAÇA UM X NO DIA DO NATAL.

2- QUANTOS DIAS HÁ NESTE MÊS? _____

3- QUANTOS SÁBADOS HÁ NESTE MÊS? _____

4- EM QUE DIA DA SEMANA "CAI" O DIA DO NATAL? _____

NOME: _____



25 DE DEZEMBRO - NATAL



1- DESCUBRA OS NÚMEROS QUE FALTAM NA SEQUÊNCIA E ESCREVA-OS ABAIXO.

1	2	3		5
	7	8	9	10
11	12		14	15
16	17	18	19	



ATIVIDADE 05 LÍNGUA PORTUGUESA

NOME: _____



25 DE DEZEMBRO - NATAL



1- COMPLETE O QUADRO DE ACORDO COM O QUE SE PEDE.

	NOME	LETRA INICIAL	LETRA FINAL	NÚMERO DE LETRAS
				
				
				
				
				

NOME: _____



25 DE DEZEMBRO - NATAL



1- ENCONTRE NO CAÇA-PALAVRAS OS VALORES DO NATAL.



FÉ
ZAMOR
WSAÚDEFG
FPAZV
ALEGRIACVH
SFRMDUNIÃOSD
GRESPEITO
PROSPERIDADE
XCERTEMPATIALH
QRYDCUIDADOKLMR

ATIVIDADE 06 MATEMÁTICA

NOME: _____

 25 DE DEZEMBRO - NATAL 

1- CADA FIGURA ESTÁ ESCONDENDO UM NÚMERO NA RETA NUMÉRICA. VOCÊ CONSEGUE DESCOBRIR?

1 2 3 4 5  7 8 9

3 6 9 12 15  21 24 27

5 10  20 25 30 35 40 45

NOME: _____

 25 DE DEZEMBRO - NATAL 

1- CONTE A QUANTIDADE DE BRINQUEDOS QUE PAPAI NOEL COLOCOU NO SACO DE PRESENTES.

NOME DO BRINQUEDO	QUANTIDADE
BONECA	
BOLA	
BICICLETA	
AVIÃO	

QUAL É O BRINQUEDO EM **MAIOR** QUANTIDADE?

QUAL É O BRINQUEDO EM **MEHOR** QUANTIDADE?

AGORA, PINTE A QUANTIDADE DE CADA BRINQUEDO NO GRÁFICO.

5				
4				
3				
2				
1				



NOME: _____



25 DE DEZEMBRO - NATAL



1- ESCREVA O NOME DAS FIGURAS.



NOME: _____



25 DE DEZEMBRO - NATAL



1- LEIA AS FIGURAS E ESCREVA UMA FRASE SOBRE O QUE VOCÊ LEU.



ATIVIDADE 08 MATEMÁTICA


NOME: _____



25 DE DEZEMBRO - NATAL



1- CONTE AS ÁRVORES DE NATAL E FORME GRUPOS DE 10.



2- COM ESSA QUANTIDADE, QUANTOS GRUPOS DE 10 ÁRVORES VOCÊ FORMOU?

3- SOBRRARAM ÁRVORES? SIM. NÃO. SE SIM, QUANTAS?

4- QUANTAS ÁRVORES FALTAM PARA FORMAR 3 DEZENAS?

5- QUANTAS ÁRVORES VOCÊ PRECISA RETIRAR PARA TER 2 DEZENAS?

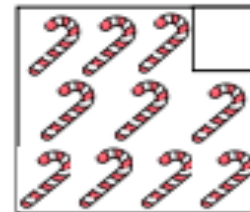
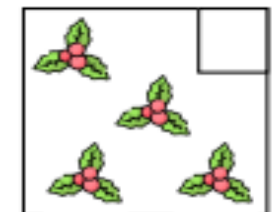
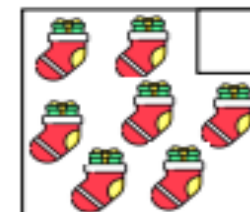
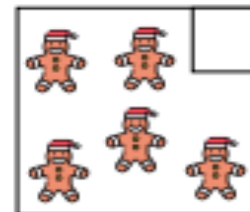
NOME: _____



25 DE DEZEMBRO - NATAL



1- CONTE OS ADEREÇOS DE NATAL E ESCREVA A QUANTIDADE.



2- AGORA, RESPONDA DE ACORDO COM O QUE SE PEDE.

A- FAÇA UM X NO GRUPO DE ADEREÇO EM **MAIOR** QUANTIDADE.

B- CIRCULE O GRUPO DE ADEREÇO EM **MENOR** QUANTIDADE.

C- ESCREVA O NOME DOS ADEREÇOS ENCONTRADOS NA MESMA QUANTIDADE.



ATIVIDADE 09 LÍNGUA PORTUGUESA

NOME: _____



25 DE DEZEMBRO - NATAL



VOCÊ CONHECE OS SÍMBOLOS DO NATAL? LIGUE CADA UM AO SEU NOME:



ÁRVORE



VELA



BOLA



BOTA



PAPAI NOEL

NOME: _____



25 DE DEZEMBRO - NATAL



1- LEIA A SEQUÊNCIA DE IMAGENS E ESCREVA, COM SUAS PALAVRAS, UMA HISTÓRIA SOBRE O QUE VOCÊ LEU. NÃO SE ESQUEÇA DO TÍTULO!













ATIVIDADE 10 MATEMÁTICA

NOME: _____


 25 DE DEZEMBRO - NATAL 

 CONTE OS PRESENTES QUE EU ENTREGUEI NA NOITE DE NATAL.




1- ESCREVA A QUANTIDADE DE PRESENTES QUE PAPAI NOEL ENTREGOU.

2- NO DIA SEGUINTE, PAPAI NOEL ENTREGOU MAIS 12 PRESENTES. DESENHE OS PRESENTES NO ESPAÇO ABAIXO.



3- PAPAI NOEL RESOLVEU CONTAR TODOS OS PRESENTES QUE ENTREGOU. DESENHE, NO ESPAÇO ABAIXO, A QUANTIDADE TOTAL DE PRESENTES ENTREGUES PELO PAPAI NOEL.



NOME: _____

 25 DE DEZEMBRO - NATAL 

CONTE E REGISTRE A QUANTIDADE.

REFERÊNCIAS

Atividades-de-Natal.pdf

CADERNO DE ATIVIDADES NATAL.pdf