



PREFEITURA DA ESTÂNCIA TURÍSTICA DE
IBIÚNA
Por uma Ibiúna próspera. Investindo no presente, gerando o futuro.
SECRETARIA DE EDUCAÇÃO



Rua Raimundo Santiago, nº 27 - Centro
Telefone: (15) 3248-1292/e-mail: apoiopedagogicosmeibiuna@hotmail.com

E.M" Prof.ª INÊS NUNES MAKIYAMA

15ª APOSTILA

PROFESSORA: REGEANE 2º ANO B

ENTREGA: DEVOLUTIVA:



Aluna (a) _____

EM "PROFESSORA INÊS NUNES MAKIYAMA"

Ibiúna, _____

Nome: _____

SÍMBOLOS NATALINOS



EM "PROFESSORA INÊS NUNES MAKIYAMA"

Ibiúna, _____

Nome: _____

PAPAI NOEL



A FIGURA DO PAPAÍ NOEL SURTIU A PARTIR DOS GESTOS DE BONDADDE DE UM BISPO CHAMADO NICOLAU. SEGUNDO A LENDA, ELE LANÇAVA MOEDAS DE OURO PARA AS CHAMINÉS DAS CASAS DOS MAIS NECESSITADOS NA TURQUIA, TENDO SIDO RECONHECIDO PELA IGREJA COMO SANTO. JÁ A IMAGEM MODERNA DO PAPAÍ NOEL, COM ROUPA VERMELHA E BRANCA, FOI CRIADA EM 1886, PELO CARTUNISTA ALEMÃO THOMAS NAST - E POPULARIZADA QUANDO UMA CAMPANHA DA COCA-COLA INCORPOROU AS ARTES DE NAST, EM 1931. REPRESENTA O BOM VELHINHO QUE DÁ PRESENTES PARA AS CRIANÇAS NO DIA DE NATAL.

Educação e Transformação

CEIA



A CEIA REPRESENTA A CONFRATERNIZAÇÃO E UNIÃO DAS FAMÍLIAS. É O BANQUETE QUE FESTEJA A CHEGADA DE JESUS NA VIDA DE CADA UM. O COSTUME DE REUNIR OS AMIGOS E FAMILIARES À VOLTA DA MESA PARA COMEMORAR O NASCIMENTO DE JESUS VEM DA EUROPA, ONDE AS PESSOAS ABRIAM AS PORTAS DAS SUAS CASAS PARA RECEBER VIAJANTES E OFERECER-LHES UMA REFEIÇÃO NA VÉSPERA DE NATAL.

Educação e Transformação

Ibiúna, _____

Nome: _____

ÁRVORE



SIMBOLIZA VIDA, PAZ, ESPERANÇA E ALEGRIA. A ÁRVORE É, POR TRADIÇÃO, UM PINHEIRO. ISSO PORQUE O PINHEIRO É A ÚNICA ÁRVORE QUE CONSEGUE MANTER SUAS FOLHAS MESMO NO FRIO INTENSO. DE ACORDO COM OS REGISTROS HISTÓRICOS, A PRIMEIRA ÁRVORE DE NATAL SURTIU NO NORTE DA EUROPA NO SÉCULO XVI. MAS, ELA SÓ SE TORNOU TRADIÇÃO A PARTIR DO SÉCULO XVII COM MARTINHO LUTERO, NA ALEMANHA. DEPOIS DISSO, FOI NO SÉCULO XIX QUE ESSE SÍMBOLO NATALINO SE ESPALHOU PELO MUNDO.

Educação e Transformação

BOLAS



AS BOLAS QUE DECORAM PRINCIPALMENTE A ÁRVORE DE NATAL REPRESENTAM OS FRUTOS DAS ÁRVORES. INICIALMENTE AS FRUTAS SERVIAM DE DECORAÇÃO E ERAM COMIDAS PELAS CRIANÇAS. DE ACORDO COM A LENDA, QUANDO EM UM ANO NÃO HAVIA FRUTAS, UM ARTESÃO FEZ BOLAS DE VIDRO PARA AS IMITAR. EM DECORRÊNCIA DA BELEZA DA SUA ARTE, AS BOLAS ACABARAM SE TORNANDO UMA TRADIÇÃO E UM ELEMENTO DECORATIVO QUE NÃO PODE FALTAR NO NATAL.

Educação e Transformação

Ibiúna, _____

Nome: _____

GUIRLANDA



É O AMOR SEM FIM DE DEUS REPRESENTADO PELO CÍRCULO. AS GUIRLANDAS INDICAM QUE AS PESSOAS DAQUELA CASA SÃO CRISTÃS E ESTÃO PROTEGIDAS PELO AMOR DE DEUS. SÃO USADAS COMO ENFEITE NAS PORTAS DE ENTRADA DAS RESIDÊNCIAS NA ÉPOCA DO NATAL E PODEM SER DE FOLHAS OU FLORES. ELAS SÃO UM SINAL DE BOAS-VINDAS PARA QUEM NOS VISITA NESSA ÉPOCA FESTIVA. É POR ISSO QUE É TRADIÇÃO PENDURÁ-LAS NA PORTA PRINCIPAL DAS CASAS. QUANDO PRESENTE, A FITA VERMELHA DECORANDO AS FOLHAS VERDES DE PINHEIRO REPRESENTA A PROTEÇÃO DIVINA.

Educação e Transformação

ANJO



ALÉM DE SER UM SÍMBOLO CELESTIAL, O ANJO FAZ REFERÊNCIA AO ANJO GABRIEL, QUE AVISOU MARIA QUE ESTAVA GRÁVIDA DE JESUS, SENDO CONSIDERADO O MENSAGEIRO DAS BOAS NOVAS DE DEUS. OS ANJOS EXERCEM O PAPEL DE MENSAGEIROS DE DEUS E ANUNCIAM AO POVO O NASCIMENTO DE JESUS.

Educação e Transformação

Ibiúna, _____

Nome: _____

PRESEPIO



O PRESEPIO SIMBOLIZA O MOMENTO E O AMBIENTE EM QUE JESUS CRISTO NASCEU. COM FIGURAS MOSTRANDO O MENINO JESUS, SEUS PAIS MARIA E JOSÉ, OS ANIMAIS DO ESTÁBULO, OS TRÊS REIS (BALTAZAR, GASPAR E MELCHIOR) QUE FORAM HOMENAGEAR JESUS EM SEU NASCIMENTO, A ESTRELA DE BELÉM (QUE INDICOU O CAMINHO QUE OS REIS DEVERIAM SEGUIR) E O ANJO (QUE ANUNCIA O NASCIMENTO AO MUNDO).

O PRIMEIRO PRESEPIO DATA DE 1223 E FOI MONTADO NA ITÁLIA POR SÃO FRANCISCO DE ASSIS, QUE QUERIA MOSTRAR AOS FIÉIS COMO TERIA NASCIDO JESUS. HABITUALMENTE É DESMONTADO NO DIA 6 DE JANEIRO, DATA EM QUE OS REIS LOCALIZARAM O MENINO.

Educação e Transformação

ESTRELA



RESPONSÁVEL POR GUIAR OS TRÊS REIS MAGOS ATÉ O LOCAL DE NASCIMENTO DO MENINO JESUS.

SEGUINDO A ESTRELA OS MAGOS PUDEAM ENCONTRAR O MENINO, QUE TINHA NASCIDO EM BELÉM, DAÍ ELA SER CONHECIDA TAMBÉM COMO ESTRELA DE BELÉM. ALÉM DE TER SINALIZADO O CAMINHO QUE LEVAVA AO MENINO, A ESTRELA REPRESENTA O PRÓPRIO JESUS, QUE NASCEU PARA GUIAR A HUMANIDADE.

Educação e Transformação

EM "PROFESSORA INÊS NUNES MAKIYAMA"

Ibiúna, _____

Nome: _____

SINO



REPRESENTA O ANÚNCIO PARA A HUMANIDADE DO NASCIMENTO DE JESUS CRISTO, O SALVADOR. ISSO PORQUE, ALÉM DE SINALIZAR AS HORAS, O TOQUE DOS SINOS AVISA AS PESSOAS PARA SE REUNIR PARA UM ACONTECIMENTO.

Educação e Transformação

PRESENTE



PARA MUITOS, ESPECIALMENTE PARA AS CRIANÇAS, NATAL É SINÔNIMO DE PRESENTES. ESSE É UM COSTUME QUE SE RELACIONA COM OS REIS MAGOS, OS QUAIS LEVARAM A JESUS OURO, INCENSO E MIRRA, CADA QUAL COM UM SIGNIFICADO PRÓPRIO: O OURO SIMBOLIZA A REALEZA; O INCENSO, A DIVINDADE; E A MIRRA, OS ASPECTOS HUMANOS DE JESUS.

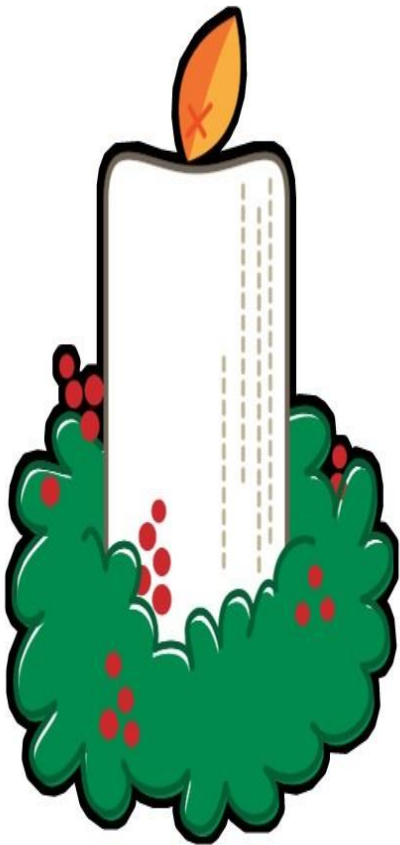
Educação e Transformação

EM "PROFESSORA INÊS NUNES MAKIYAMA"

Ibiúna, _____

Nome: _____

VELA



AS VELAS NATALINAS REPRESENTAM A LUZ QUE O NASCIMENTO DE JESUS TRAZ PARA A VIDA DAS PESSOAS, PORQUE ELE VEIO PARA DISSIPAR AS TREVAS, A ESCURIDÃO. ASSIM, VELAS ACESAS NA NOITE DE NATAL REVELAM A PRESENÇA DE CRISTO NAQUELE AMBIENTE E A FÉ.

Educação e Transformação

EM "PROFESSORA INÊS NUNES MAKIYAMA"

Ibiúna, _____

Nome: _____

LEIA O TEXTO:

O NATAL DO MACACO
EM ÉPOCA DE NATAL
A FLORESTA FICA ANIMADA.
O MACACO VAI LOGO DIZENDO
QUE NA CEIA QUER COMER
BANANA E GOIABADA.

ELIANA DE OLIVEIRA



COMPREENSÃO DA LEITURA

1. QUAL É O ASSUNTO DO TEXTO?

2. PERSONAGEM PRINCIPAL: _____

3. COMO ESTÁ A FLORESTA COM A CHEGADA DO NATAL?

4. LEIA E ESCREVA OS NOMES DOS DESENHOS.



MACACO



BANANA



NATAL



FLORESTA

Rede ABC Divertido - Todos os direitos reservados!



@redeabcdivertido



EM "PROFESSORA INÊS NUNES MAKIYAMA"

Ibiúna, _____

Nome: _____

1. LEIA O TEXTO E PINTE OS ESPAÇOS ENTRE AS PALAVRAS.

- ❖ CIRCULE AS PALAVRAS QUE RIMAM.
- ❖ CIRCULE A PALAVRA MACACO.

O NATAL DO MACACO

EM ÉPOCA DE NATAL
A FLORESTA FICA ANIMADA.
O MACACO VAI LOGO DIZENDO
QUE NA CEIA QUER COMER
BANANA E GOIABADA.

ELIANA DE OLIVEIRA



2. COMPLETE O TEXTO COM AS PALAVRAS QUE FALTAM.

EM ÉPOCA DE _____ 

A _____  FICA ANIMADA.

O _____  VAI LOGO DIZENDO

QUE NA CEIA QUER COMER
_____  E GOIABADA.

EM "PROFESSORA INÊS NUNES MAKIYAMA"

Ibiúna, _____

Nome: _____

1. CIRCULE A SÍLABA INICIAL E COMPLETE A PALAVRA.



MA ME MI
MO MU

_____ CACO



BA BE BI
BO BU

_____ NANA



FLA FLE FLI
FLO FLU

_____ RESTA



NA NE NI
NO NU

_____ TAL

2. ENCONTRE OS NOMES DOS DESENHOS DA ATIVIDADE ANTERIOR..

CO	MA	CA	CO	JA
NA	TAL	FA	RES	SA
BA	NA	NA	JA	TA
TAL	FLO	RES	TA	MA

Rede ABC Divertido - Todos os direitos reservados!



@redeabcddivertido



EM "PROFESSORA INÊS NUNES MAKIYAMA"

Ibiúna, _____

Nome: _____

O NATAL DO MACACO

EM ÉPOCA DE NATAL

A FLORESTA FICA ANIMADA

O MACACO VAI LOGO DIZENDO

QUE NA CEIA QUER COMER

BANANA E GOIABADA.

Rede ABC Divertido - Todos os direitos reservados!



@redeabcdivertido



EM "PROFESSORA INÊS NUNES MAKIYAMA"

Ibiúna, _____

Nome: _____

ORGANIZE E COLE O TEXTO.



Rede ABC Divertido - Todos os direitos reservados!



@redeabcdivertido



EM "PROFESSORA INÊS NUNES MAKIYAMA"

Ibiúna, _____

Nome: _____

1.ESCREVA OS NOMES DOS DESENHOS E COMPLETE O QUADRO.



MA		CO
	CA	



FLO		TA
	RES	



BA		NA
	NA	



NA	
	TAL

Rede ABC Divertido - Todos os direitos reservados!



@redeabcdivertido



EM "PROFESSORA INÊS NUNES MAKIYAMA"

Ibiúna, _____

Nome: _____

CAÇA-PALAVRAS

PINHEIRINHO
NATAL
ESTRELA
PAPAI NOEL
PRESÉPIO
SINO
SAPATINHO
PRESENTE
ANJO
FAMÍLIA
NICOLAU
BOLINHAS



A	D	F	C	V	B	E	T	A	N	I	C	O	L	A	U	U	J	I	O
E	R	B	A	S	R	T	G	O	P	L	T	G	R	O	L	P	T	E	C
Q	A	O	P	I	N	H	E	I	R	I	N	H	O	A	E	D	C	V	G
S	C	L	T	G	H	U	J	I	O	P	L	F	R	V	B	N	M	A	C
E	N	I	E	P	R	F	G	H	N	M	O	L	P	E	D	C	A	Q	U
D	A	N	D	A	U	A	S	D	E	R	F	E	S	T	R	E	L	A	O
A	T	H	C	P	J	A	S	D	F	C	V	R	T	E	D	C	N	H	U
S	A	A	V	A	O	A	S	D	F	R	T	V	B	U	O	P	E	R	U
D	L	S	F	I	L	E	P	R	E	S	E	P	I	O	A	R	D	F	J
E	D	T	R	N	P	D	A	F	G	T	H	U	J	O	O	E	C	S	N
R	F	G	T	O	L	C	S	E	D	F	F	E	D	F	L	S	V	I	M
F	R	H	U	E	M	F	D	T	G	B	A	T	G	I	P	E	F	N	L
H	E	U	B	L	N	T	C	A	S	C	M	O	T	P	I	N	R	O	O
U	Z	J	N	A	A	G	T	I	J	O	I	E	D	F	J	T	Q	O	P
S	A	P	A	T	I	N	H	O	R	F	L	Q	U	E	M	E	A	L	S
U	E	D	F	T	G	H	U	I	M	O	I	T	G	U	N	I	S	P	E
J	E	D	R	F	T	U	J	I	O	S	A	U	J	I	H	J	Z	I	D
O	A	S	A	N	J	O	R	F	T	H	N	M	O	P	T	O	V	H	F

EM "PROFESSORA INÊS NUNES MAKIYAMA"

Ibiúna, _____

Nome: _____

Feliz Natal

CRUZADINHA NATALINA:

The crossword puzzle grid consists of white squares for letters and black squares for empty space. The clues are numbered 1 through 10, with arrows indicating the starting cell and direction of the word.

- 1: Down, 3 letters. Illustration: A gingerbread house with pink frosting and yellow sprinkles.
- 2: Right, 4 letters. Illustration: Two red Christmas bells with holly leaves and berries.
- 3: Down, 3 letters. Illustration: A red Christmas ornament with a yellow snowflake.
- 4: Right, 4 letters. Illustration: Santa Claus carrying a sack.
- 5: Right, 8 letters. Illustration: A blue gift box with a red ribbon.
- 6: Right, 4 letters. Illustration: A red Christmas stocking with a white cuff and green toe patch.
- 7: Right, 4 letters. Illustration: A young boy with a halo, representing the Virgin Mary.
- 8: Right, 4 letters. Illustration: A yellow shooting star.
- 9: Right, 6 letters. Illustration: A decorated Christmas tree.
- 10: Down, 4 letters. Illustration: A lit red and yellow candle with holly leaves and berries.

EM "PROFESSORA INÊS NUNES MAKIYAMA"

Ibiúna, _____

Nome: _____

ANOTE NO QUADRINHO A QUANTIDADE DE ENFEITES QUE TEM NESTA ÁRVORE DE NATAL



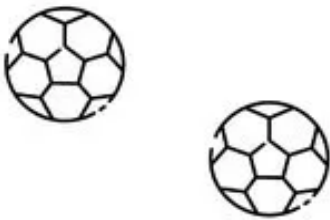
EM "PROFESSORA INÊS NUNES MAKIYAMA"

Ibiúna, _____


Nome: _____

MATEMÁTICA 2º ANO

1. Complete desenhando bolas para formar uma dezena



2. Escreva a quantidade de estrelas no quadro das unidades e dezenas



D	U

3. Escreva os algarismos em suas ordens

36

D	U

97

D	U



EM "PROFESSORA INÊS NUNES MAKIYAMA"




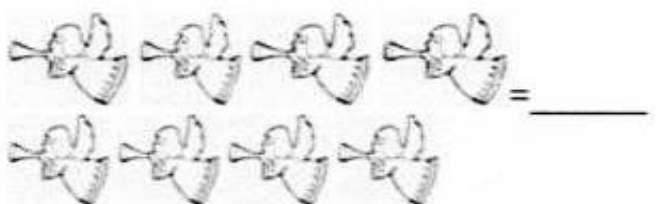

Ibiúna, _____

Nome: _____

1) COMPLETE A SEQUÊNCIA NÚMERICA:

1										
										100

2) VAMOS CONTAR:



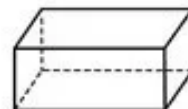
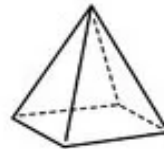
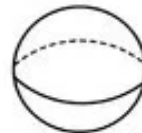
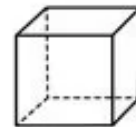
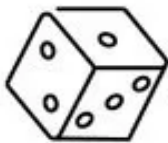
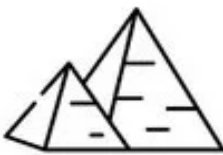
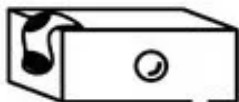
EM "PROFESSORA INÊS NUNES MAKIYAMA"

Ibiúna, _____

Nome: _____

MATEMÁTICA 2º ANO

1. Ligue a imagem ao sólido geométrico

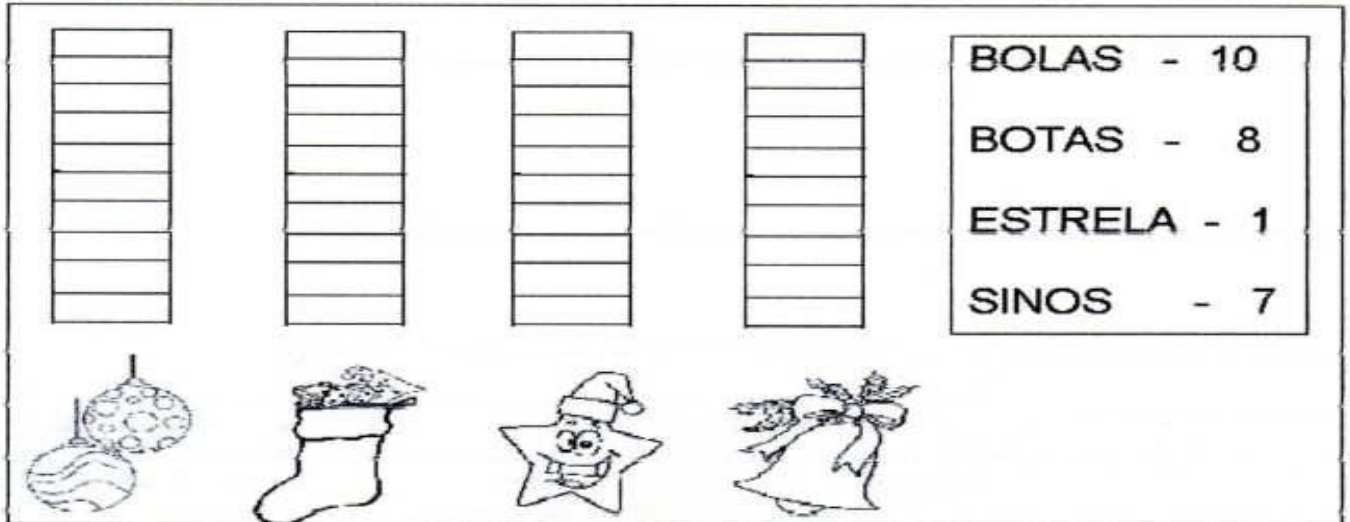


EM "PROFESSORA INÊS NUNES MAKIYAMA"

Ibiúna, _____

Nome: _____

3) A PROFESSORA IVELINE COMPROU ALGUNS ENFEITERS DE NATAL PARA COLOCAR NA ÁRVORE DE NATAL DA ESCOLA. OBSERVE A TABELA E COMPLETE O GRÁFICO:



A) QUANTOS ENFEITES ELA COMPROU? _____

B) QUAL ENFEITE FOI COMPRADO EM MENOR QUANTIDADE? _____

4) O NATAL JÁ ESTÁ CHEGANDO! COMPLETE O CALENDÁRIO DO MÊS DE DEZEMBRO:

DOM	SEG	TER	QUA	QUI	SEX	SÁB

A) QUANTOS DIAS TEM O MÊS DE DEZEMBRO: _____

B) QUE DIA DA SEMANA É COMEMORADO O NATAL? _____

Ibiúna, _____

Nome: _____

MATEMÁTICA 2º ANO

1. Descubra o segredo de cada sequência e complete

A) 10 20 30

<input type="text"/>	<input type="text"/>	<input type="text"/>	<input type="text"/>	<input type="text"/>	<input type="text"/>	<input type="text"/>
----------------------	----------------------	----------------------	----------------------	----------------------	----------------------	----------------------

B) 2 4 6



<input type="text"/>	<input type="text"/>	<input type="text"/>	<input type="text"/>	<input type="text"/>	<input type="text"/>	<input type="text"/>
----------------------	----------------------	----------------------	----------------------	----------------------	----------------------	----------------------

C) 1 3 5

<input type="text"/>	<input type="text"/>	<input type="text"/>	<input type="text"/>	<input type="text"/>	<input type="text"/>	<input type="text"/>
----------------------	----------------------	----------------------	----------------------	----------------------	----------------------	----------------------

D) 5 7 9

<input type="text"/>	<input type="text"/>	<input type="text"/>	<input type="text"/>	<input type="text"/>	<input type="text"/>	<input type="text"/>
----------------------	----------------------	----------------------	----------------------	----------------------	----------------------	----------------------



2. Escreva em ordem crescente a partir do primeiro

A) De 5 em 5

2

<input type="text"/>	<input type="text"/>	<input type="text"/>	<input type="text"/>	<input type="text"/>	<input type="text"/>
----------------------	----------------------	----------------------	----------------------	----------------------	----------------------

B) De 4 em 4

6

<input type="text"/>	<input type="text"/>	<input type="text"/>	<input type="text"/>	<input type="text"/>	<input type="text"/>
----------------------	----------------------	----------------------	----------------------	----------------------	----------------------

C) De 3 em 3

4

<input type="text"/>	<input type="text"/>	<input type="text"/>	<input type="text"/>	<input type="text"/>	<input type="text"/>
----------------------	----------------------	----------------------	----------------------	----------------------	----------------------

3. Escreva em ordem decrescente a partir do primeiro

A) De 2 em 2

20

<input type="text"/>	<input type="text"/>	<input type="text"/>	<input type="text"/>	<input type="text"/>	<input type="text"/>
----------------------	----------------------	----------------------	----------------------	----------------------	----------------------

B) De 3 em 3

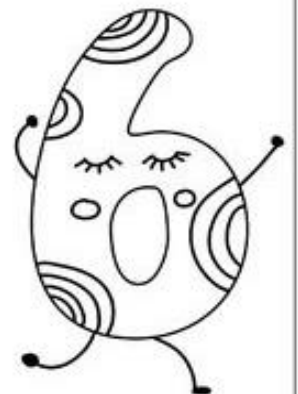
30

<input type="text"/>	<input type="text"/>	<input type="text"/>	<input type="text"/>	<input type="text"/>	<input type="text"/>
----------------------	----------------------	----------------------	----------------------	----------------------	----------------------

C) De 5 em 5

40

<input type="text"/>	<input type="text"/>	<input type="text"/>	<input type="text"/>	<input type="text"/>	<input type="text"/>
----------------------	----------------------	----------------------	----------------------	----------------------	----------------------



EM "PROFESSORA INÉS NUNES MAKIYAMA"

Ibiúna, _____

Nome: _____

CHICO BENTO ESTÁ LENDO A LISTA DE PRESENTE QUE PAPAÍ NOEL DEIXOU NA NOITE DE NATAL. LIGUE OS PRESENTE PARA CADA CRIANÇA ANOTANDO A QUANTIDADE COM / PARA CADA CRIANÇA.



QUANTIDADE

NUMERO



EM "PROFESSORA INÊS NUNES MAKIYAMA"

Ibiúna, _____

Nome: _____

8- ORGANIZE OS NÚMEROS DO MAIOR PARA O MENOR.

9	5	6	12	10	3




9. COMPLETE O QUADRO ABAIXO:

1		3			6				10
				15					
21							28		
		33							40
					46				
	52							59	
			64			67			
				75					80
81							88		
			94						100

10) NUMERAIS ORDINAIS: PAPAÍ NOEL COLOCOU PRESENTES NOS DEGRAUS DA ESCADA.


OBSERVE OS DEGRAUS E COMPLETE AS FRASES:

- A) NO _____ DEGRAU ESTÁ A BOLA.
- B) A PETECA ESTÁ NO _____ DEGRAU.
- C) POSSO VER UM CARRINHO NO _____ DEGRAU.
- D) O ÚLTIMO DEGRAU É O _____, NELE HÁ UMA _____



Jogo da MEMÓRIA

- Colorir, recortar e brincar de encontrar o desenho igual.



REFÊRENCIAS BIBLIOGRÁFICAS

<https://educacaoetransformacaooficial.blogspot.com/2021/11/natal-autoditado.html>
<https://www.espacoprofessor.com/sequencia-didatica-para-alfabetizacao-o-natal-do-macaco/>
<https://www.todamateria.com.br/planos-de-aula-matematica-2-ano/>
<https://www.soescola.com/2-atividades-de-natal-para-educacao-infantil-matematica-quantidade-1>
<http://wcbconde.blogspot.com/2011/11/capa-de-atividades-4-bimestre.html>
<https://miriamveiga.com.br/avaliacao-matematica-natal/>
<https://danieducar.com.br/atividades-de-matematica-natal-2/>