


APOSTILA

ALFABETIZAÇÃO



12º APOSTILA 29/08 - 8/10

PROFª: IVANI UMEKI

TURMA 5º ANO B

E.M. RECANTO FELIZ PROFª. SANDRA REGINA RODRIGUES DA SILVA.

29 DE SETEMBRO

LEITURA E INTERPRETAÇÃO

O MONSTRO DAS CORES.

O MONSTRO DAS CORES NÃO SABE O QUE SE PASSA COM ELE. FEZ UMA BAGUNÇA COM SUAS EMOÇÕES E AGORA PRECISA DESENBOLAR TUDO. SERÁ CAPAZ DE POR EM ORDEM A ALEGRIA, A TRISTEZA, A RAIVA, O MEDO E A CALMA?

ESCREVA AS EMOÇÕES DE CADA MONSTRINHO E PROCURE – AS NO QUADRO

29 DE SETEMBRO



A S D F E A L E G R I A C V R E T Y U O P I
A X C V B T F G H J K L B T R I S T E Z A N
S V B N M K I L Y U I R A I V A C D E W Q
M E D O U Y S W Q A S C V B N M K H U
M V B N L Ç Y U I O P C A L M A W E R G

ESCREVA ALGUMA COISA QUE FAÇA VOCÊ SENTIR
CADA EMOÇÃO ABAIXO.

30 DE SETEMBRO

ASSISTA AO VÍDEO PARA INTERPRETAR O



TEXTO.



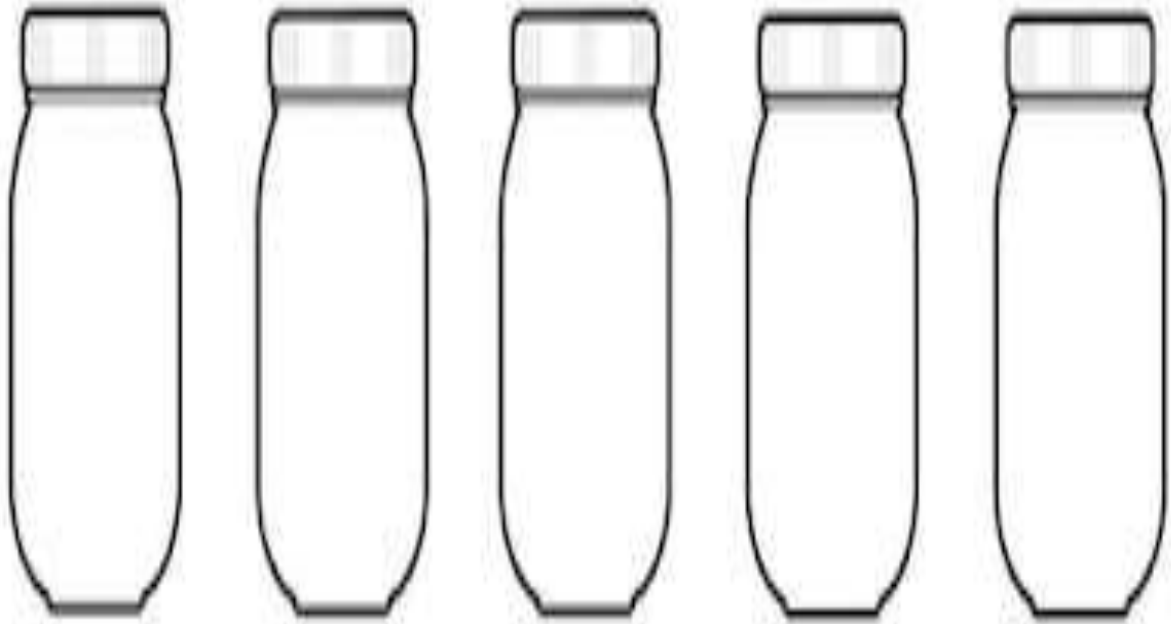
1- QUAL É O TÍTULO DO TEXTO?

2 – POR QUE O MONSTRO DAS CORES ACORDOU SE SENTINDO ESTRANHO?

3- QUAL FOI A SOLUÇÃO QUE A MENINA DEU AO MONSTRO, PARA ELE ORGANIZAR AS SUAS EMOÇÕES?

30 DE SETEMBRO

VAMOS AJUDAR O MONSTRO DAS CORES A ORGANIZAR AS SUAS EMOÇÕES. PINTE OS POTES DE ACORDO COM AS EMOÇÕES QUE APARECEM NO LIVRO.



ALEGRIA

TRISTEZA

RAIVA

MEDO


CALMA

ESCREVA AS EMOÇÕES EM ORDEM ALFABETICA





01 DE OUTUBRO

OBSERVE AS FIGURAS E LIGUE OS SENTIMENTOS CORRESPONDENTES



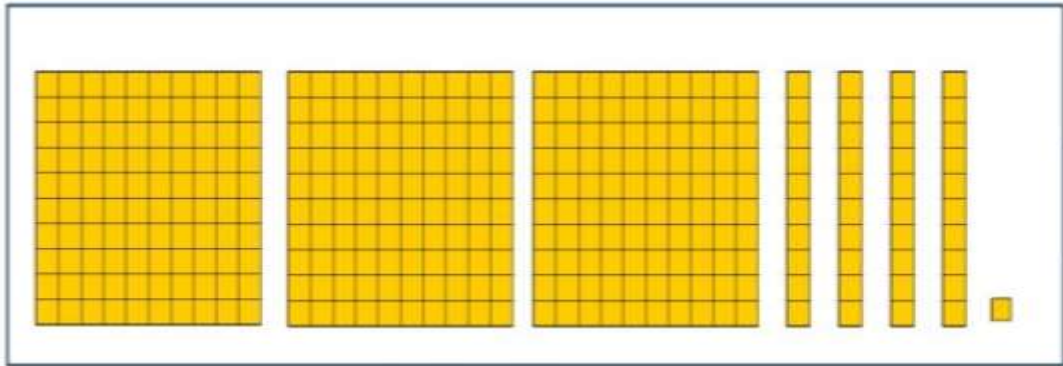
01 DE OUTUBRO

ORGANIZE AS BOLINHAS DAS EMOÇÕES, GUARDANDO – AS NOS POTES DE ACORDO COM AS CORES. DEPOIS, ESCREVA NOS QUADRADOS A QUANTIDADE DE BOLINHAS QUE HÁ EM CADA POTE.




04 DE OUTUBRO

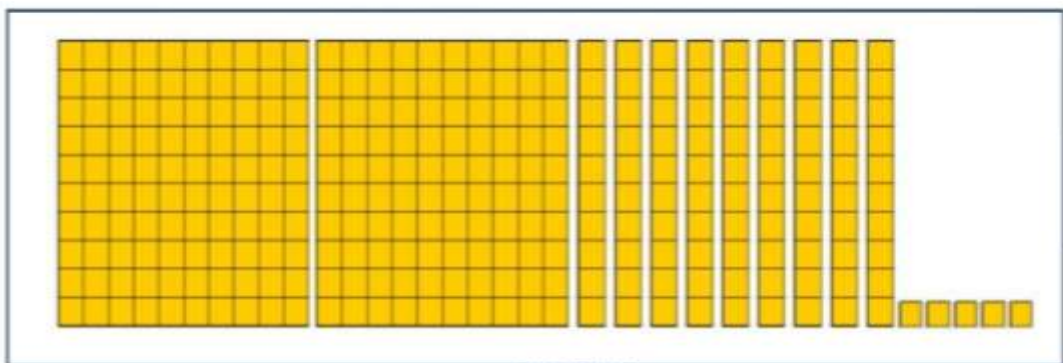
ESCREVA NO QUADRO OS VALORES
CORRESPONDENTES AS PEÇAS DO MATERIAL
DOURADO.



----- CENTENAS, ----- DEZENAS E ----- UNIDADE.



----- CENTENAS, ----- DEZENAS E ----- UNIDADES.



----- CENTENAS, ----- DEZENAS E ----- UNIDADES.

04 DE OUTUBRO

RESOLVA O PROBLEMA



- UM JARDINEIRO RECEBEU MUITAS FLORES. ELE RECEBEU **84** ROSAS E **24** MARGARIDAS.
PARA DESCOBRIR QUANTAS FLORES O JARDINEIRO RECEBEU, QUAL OPERAÇÃO SERÁ PRECISO FAZER?

- () $84 \times 2 = 168$
() $84 + 24 = 108$
() $84 - 24 = 60$



- RAYCA LEU **12** PÁGINAS DE UM LIVRO NO SÁBADO. NO DIA SEGUINTE, ELA LEU MAIS **37** PÁGINAS.


QUAL O DIA EM QUE ELA MAIS LEU?

QUANTAS PÁGINAS RAYCA LEU NESSES DOIS DIAS?



05 DE OUTUBRO

RESOLVA AS CONTINHAS



12

15

21

24

35

$$\text{Yellow Monster} + \text{Red Monster} = \square$$

$$\text{Blue Monster} + \text{Yellow Monster} = \square$$

$$\text{Blue Monster} + \text{Black Monster} = \square$$

$$\text{Green Monster} + \text{Red Monster} = \square$$

$$\text{Green Monster} + \text{Yellow Monster} = \square$$

$$\text{Black Monster} + \text{Blue Monster} = \square$$

05 DE OUTUBRO




LEIA COM MUITA ATENÇÃO

QUESTÃO 04

PARA DESPERTAR O GOSTO E O PRAZER PELA LEITURA, A BIBLIOTECÁRIA DE NOSSA ESCOLA DESENVOLVEU UM PROJETO COM O TEMA "LIVRO: DIVERSÃO E PRAZER". COMO FORMA DE INCENTIVO, CADA CRIANÇA LEITORA RECEBEU UM CUPOM PARA PARTICIPAR DO SORTEIO DE ALGUNS LIVROS.

VEJA NO MURAL OS NÚMEROS DOS CUPONS QUE FORAM SORTEADOS:



DOS NÚMEROS SORTEADOS, ASSINALE SOMENTE A SEQUÊNCIA DOS PARES.

- 35 - 124 - 41 - 423 - 349
- 124 - 200 - 132 - 96 - 68
- 200 - 35 - 349 - 41 - 423

06 DE OUTUBRO

COLOQUE OS NÚMEROS EM ORDEM CRESCENTE E DECRESCENTE



OS BALÕES ORGANIZADOS EM ORDEM CRESCENTE É:

OS BALÕES ORGANIZADOS EM ORDEM DECRESCENTE É:

06 DE OUTUBRO

3- SUZANA E SUA AMIGA VALÉRIA FAZEM BRIGADEIROS PARA VENDER NA LANCHONETE. EM UM DIA, SUZANA FEZ 159 BRIGADEIROS E VALÉRIA FEZ 147. QUANTOS BRIGADEIROS SUZANA FEZ A MAIS QUE VALÉRIA?

- A) 10 BRIGADEIROS
- B) 11 BRIGADEIROS
- C) 12 BRIGADEIROS
- D) 13 BRIGADEIROS



4- OBSERVE A FIGURA ABAIXO. ESTA IMAGEM LEMBRA QUAL FORMA GEOMÉTRICA?

- A) CONE
- B) CILINDRO
- C) CUBO
- D) ESFERA



5- OBSERVE O RELÓGIO AO LADO. MARQUE NO QUADRADINHO O HORÁRIO QUE ESTE RELÓGIO ESTÁ MARCANDO.

- A) 1 HORA E 50 MINUTOS
- B) 1 HORA E 52 MINUTOS
- C) 5 HORAS E 02 MINUTOS
- D) 15 HORAS E 02 MINUTOS



07 DE OUTUBRO

O MONSTRINHO RESOLVEU FAZER COMPRAS. CONTE AS NOTAS PARA DESCOBRIR QUANTO ELE GASTOU.



+



=



+



=



+



=



+



=



+



=

07 DE OUTUBRO

AGORA O MONSTRINHO DAS CORES QUER QUE VOCÊ COLOQUE O VALOR DO DINHEIRO.

OBSERVE AS QUANTIDADES E MARQUE O CERTO.



30 REAIS
 22 REAIS
 25 REAIS

22 REAIS
 4 REAIS
 40 REAIS

5 REAIS
 55 REAIS
 60 REAIS

20 REAIS
 15 REAIS
 25 REAIS

120 REAIS
 110 REAIS
 210 REAIS


60 REAIS
 20 REAIS
 30 REAIS

53 REAIS
 7 REAIS
 52 REAIS

14 REAIS
 24 REAIS
 23 REAIS

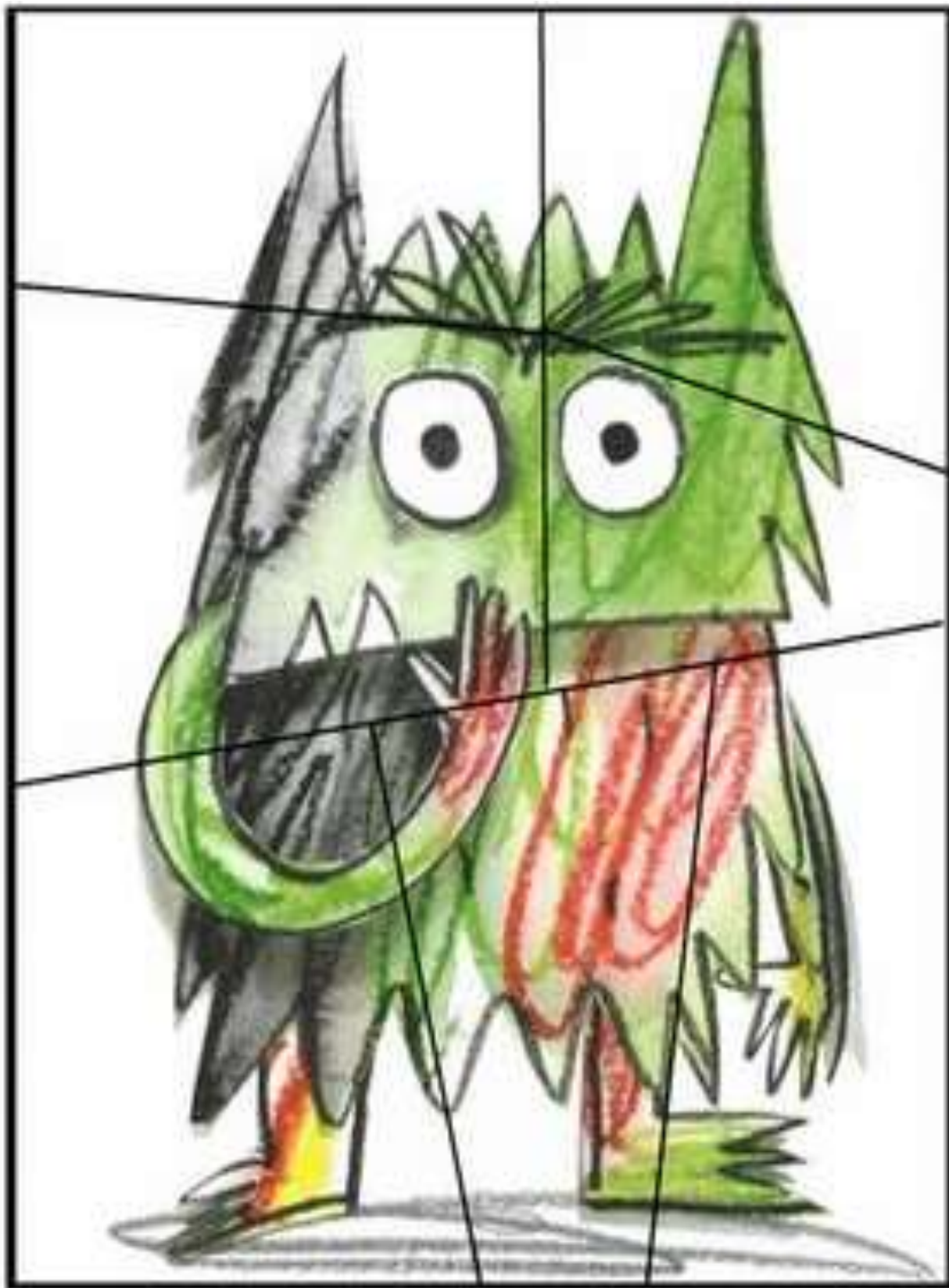
08 DE OUTUBRO

AGORA VOCÊ VAI RECORTAR E MONTAR UM QUEBRA - CABEÇA.



08 DE OUTUBRO

VAI MONTAR MAIS UM QUEBRA CABEÇA COM O
MONSTRINHO DAS CORES.





FONTE

APRENDER SEMPRE

CURRÍCULO EM AÇÃO.

IMAGEM: PINTEREST