

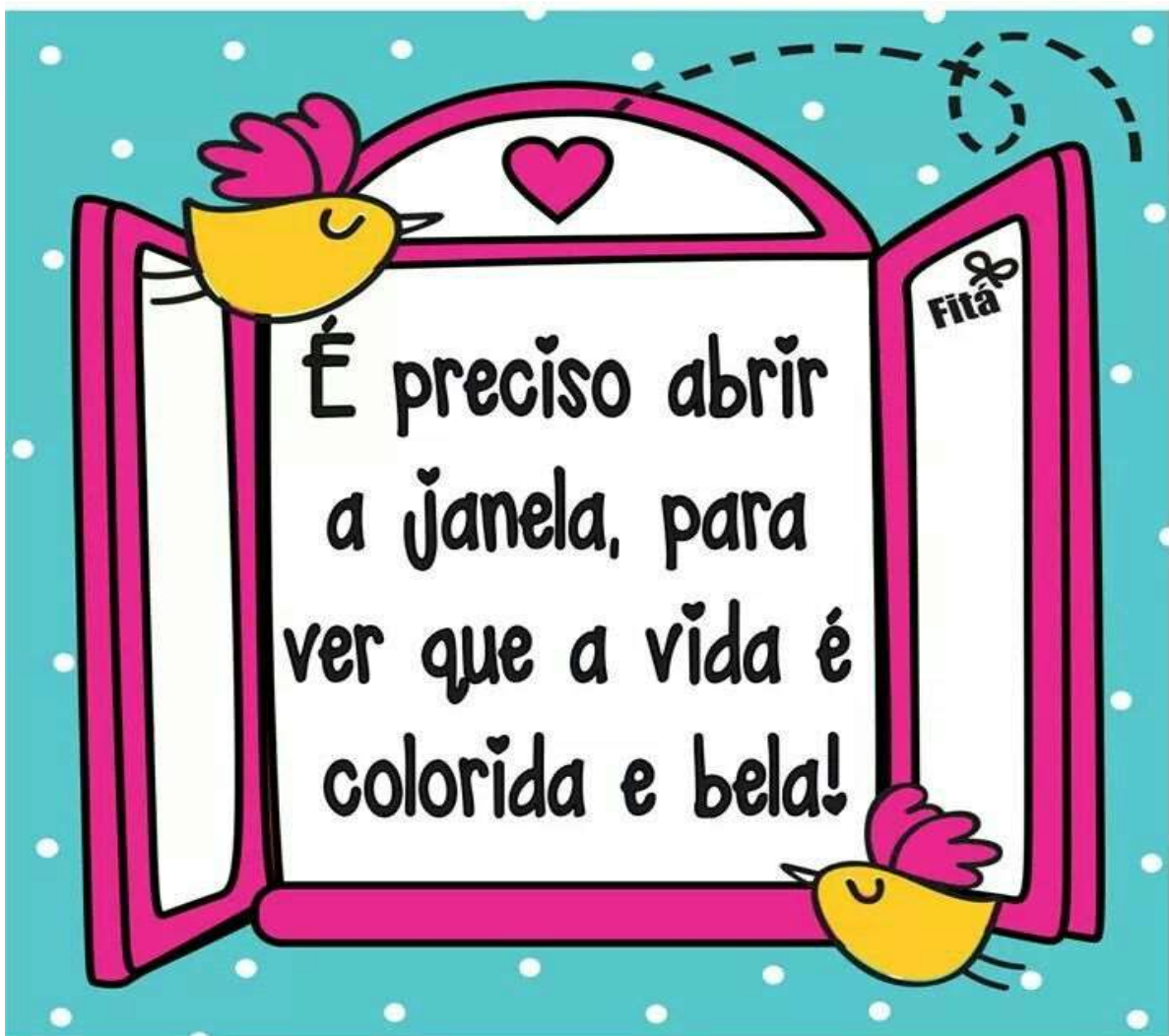


E.M. Prefeito Seme Issa

Aluno(a): _____ Ano/ Série: 3º ano B

Professora: Keith Paolla Telefone: _____

14ª APOSTILA 4º Bimestre



- + ATIVIDADES REFERENTES AOS DIAS: 08, 09, 10, 11, 12, 16, 17, 18, 19, 22, 23, 24, 25, 26 e 29/11 (15 dias)
- + Está apostila deverá ser devolvida para a correção no **dia 29/11/2021** (segunda-feira).

Tabela semanal das páginas dos livros a serem trabalhados

Segunda-feira (08/11)	Páginas
Aprender sempre (volume 1) Língua Portuguesa	02, 03, 04, 05 e 06

Terça- feira (09/11)	Páginas
Aprender sempre (volume 1) Língua Portuguesa	7 e 8
Aprender sempre (volume 1) Matemática	80, 81, 82, 83

Quarta- feira (10/11)	Páginas
Aprender sempre (volume 1) Língua Portuguesa	9 e 10
Aprender sempre (volume 1) Matemática	84 e 85

Quinta – feira (11/11)	Páginas
Aprender sempre (volume 1) Língua Portuguesa	11, 12
Aprender sempre (volume 1) Matemática	85, 86, 87 e 88.

Sexta – feira (11/11)	Páginas
Aprender sempre (volume 1) Língua Portuguesa	12 e 13.
Aprender sempre (volume 1) Matemática	89, 90 e 91.


E.M. "PREFEITO SEME ISSA"

NOME: _____

DATA: 08/11/2021

PROFESSORA: KEITH PAOLLA


ANO/SÉRIE: 3º ANO B

 Copie o alfabeto minúsculo.

a b c d e f g h i

j k l m n o p q r

s t u v w x y z

 Complete o texto de acordo com a imagem.

Com **a** escreve amor

Com **b** escreve balão

Com **c** escreve calor

E com **d** escreve



 Copie o alfabeto maiúsculo.

A B C D E F G H I

J K L M N O P Q R

S T U V W X Y Z

 Complete corretamente o texto usando uma das palavras do quadro.

Filomena – Pedro – Carina

Filô vem de _____
e acho que, se alguém me cha-
mar pelo nome, nem vou olhar,
de tão acostumada que estou a
ser chamada pelo apelido. [...]

César Obaid e Jonas Ribeiro. A escada transparente. São Paulo: Editora do Brasil, 2013. p. 5.

 Pinte as vogais e copie as palavras.

Karima

tatu

feira

alegria

luz

chuva

barco

pincel

ovelha

Rodrigo

mesa

varal

 Copie as palavras acima em ordem alfabética.



LEIA E COPIE



mola



bola

pimheiro

dimheiro

calda

couda

vela

vila

mapa

mala

E.M. "PREFEITO SEME ISSA"

NOME: _____
PROFESSORA: KEITH PAOLLA

DATA: 08/11/2021
ANO/SÉRIE: 3º ANO B

História Matemática

♦ O senhor Antunes fez a seguinte compra para a livraria:

Mercadorias	Quantidade de caixas	Unidades por caixa
Caderno	30	24
Caneta	24	144
Borracha	23	153
Apontador	31	243



♦ Quantos cadernos ele comprou?	Cálculos
♦ Quantas canetas e borrachas? <div style="display: flex; justify-content: space-around; align-items: center;"><div style="border: 1px solid black; width: 100px; height: 100px; margin: 10px;"></div><div style="border: 1px solid black; width: 100px; height: 100px; margin: 10px;"></div></div>	Comprou borrachas e canetas.
♦ Qual foi o total de apontadores? <div style="border: 1px solid black; width: 150px; height: 100px; margin: 10px auto;"></div>	Comprou apontadores.

E.M. "PREFEITO SEME ISSA"

NOME: _____

DATA: 09/11/2021

PROFESSORA: KEITH PAOLLA

ANO/SÉRIE: 3º ANO B

 Pinte o encontro vocálico das palavras a seguir e ligue-as à figura correspondente a elas.

pão

chapéu

relógio

varroura

flauta

meia

coelho

ENCONTRO VOCÁLICO




Fui à feira hoje.
A palavra **feira** tem um encontro vocálico.

O **encontro vocálico** é formado por duas ou mais vogais juntas na mesma palavra e pronunciadas com sons distintos.

 Circule os encontros vocálicos e copie as palavras.

cenoura melancia goiaba

grãos amêixa mamão

 Copie a palavra e faça um desenho para representá-la.

centopeia



ENCONTRO CONSONANTAL

O **encontro consonantal** é formado por duas consoantes juntas na mesma palavra e pronunciadas com sons distintos.

A palavra **abraço** tem um encontro consonantal.



Ⓢ Circule os encontros consonantais e copie as palavras.

flores

estrela

abrir

crescer

bicicleta

metros

grande

globo

vidro

trocar

professor

frango

Ⓢ Circule os encontros consonantais e copie o texto.

[...]

Na escola, a gritaria de sempre. Mochilas trombando em lancheiras, gente copiando o dever do colega com aquela letra de dar dó. Que a pressa é inimiga da perfeição. Mas perder ponto por uma bobagem dessa, ah, nem pensar.


[...]

Neusa Sorrenti. *O anel que tu me deste*. São Paulo: Editora do Brasil, 2014. p. 5.

www.editoradobrasil.com.br

E.M. "PREFEITO SEME ISSA"

NOME: _____ DATA: 09/11/2021
PROFESSORA: KEITH PAOLLA ANO/SÉRIE: 3º ANO B



$$\begin{array}{r} 20 \\ - 17 \\ \hline \end{array}$$

$$\begin{array}{r} 96 \\ - 38 \\ \hline \end{array}$$

$$\begin{array}{r} 48 \\ - 40 \\ \hline \end{array}$$

$$\begin{array}{r} 12 \\ - 9 \\ \hline \end{array}$$

$$\begin{array}{r} 67 \\ - 51 \\ \hline \end{array}$$

$$\begin{array}{r} 23 \\ - 5 \\ \hline \end{array}$$

$$\begin{array}{r} 34 \\ - 24 \\ \hline \end{array}$$

$$\begin{array}{r} 85 \\ - 39 \\ \hline \end{array}$$

$$\begin{array}{r} 50 \\ - 9 \\ \hline \end{array}$$

$$\begin{array}{r} 62 \\ - 45 \\ \hline \end{array}$$

$$\begin{array}{r} 78 \\ - 51 \\ \hline \end{array}$$

$$\begin{array}{r} 77 \\ - 29 \\ \hline \end{array}$$

$$\begin{array}{r} 83 \\ - 78 \\ \hline \end{array}$$

$$\begin{array}{r} 35 \\ - 16 \\ \hline \end{array}$$

$$\begin{array}{r} 51 \\ - 10 \\ \hline \end{array}$$

$$\begin{array}{r} 81 \\ - 61 \\ \hline \end{array}$$

$$\begin{array}{r} 72 \\ - 71 \\ \hline \end{array}$$

$$\begin{array}{r} 27 \\ - 10 \\ \hline \end{array}$$

$$\begin{array}{r} 91 \\ - 39 \\ \hline \end{array}$$

$$\begin{array}{r} 46 \\ - 46 \\ \hline \end{array}$$

$$\begin{array}{r} 35 \\ - 20 \\ \hline \end{array}$$

$$\begin{array}{r} 64 \\ - 55 \\ \hline \end{array}$$

$$\begin{array}{r} 32 \\ - 24 \\ \hline \end{array}$$

$$\begin{array}{r} 41 \\ - 22 \\ \hline \end{array}$$

$$\begin{array}{r} 53 \\ - 40 \\ \hline \end{array}$$

E.M. "PREFEITO SEME ISSA"

NOME: _____
PROFESSORA: KEITH PAOLLA

DATA: 10/11/2021
ANO/SÉRIE: 3º ANO B

Complete o texto com as palavras do quadro.

livros – comprar – livraria – sempre

Joana e Clarice são irmãs.
Elas gostam muito de histórias
de suspense e aventura.

Por isso, _____ que
podem, vão à _____
para _____ alguns
_____ de que gostam.

Texto escrito especialmente para esta obra.

Observe a cena abaixo. Depois, copie o nome do conjunto de livros.



biblioteca

www.editoradobrasil.com.br



E.M. "PREFEITO SEME ISSA"

NOME: _____
PROFESSORA: KEITH PAOLLA

DATA: 10/11/2021
ANO/SÉRIE: 3º ANO B

1. RESOLVA AS ADIÇÕES COM REAGRUPAMENTO:

A) C D U
1 2 6
+ 1 2 6

B) C D U
2 2 8
+ 2 9

C) C D U
3 5 4
+ 1 8 7

D) C D U
3 3 9
+ 1 6 1

E) C D U
1 9 0
+ 1 1 2

F) C D U
4 8 1
+ 2 3 8

G) C D U
5 5 5
+ 2 1 7

H) C D U
5 1 0
+ 1 9 3

I) C D U
3 9 0
+ 1 4 5

J) C D U
4 6 5
+ 2 5 9

K) C D U
6 1 9
+ 1 3 6

M) C D U
8 8 2
+ 2 5

2. ESCREVA OS RESULTADOS POR EXTENSO:

- A) _____
B) _____
C) _____
D) _____
E) _____
F) _____
G) _____



LETRA INICIAL MAIÚSCULA E MINÚSCULA

Usamos as **letras maiúsculas** no início das frases e em nomes de pessoas, lugares, animais de estimação, estabelecimentos comerciais, ruas etc. Exemplos: Milena, Cuiabá, Totó, Empório dos Doces, Rua dos Tupinambás.

Usamos as **letras minúsculas** para os nomes comuns. Exemplo: menina, cachorro, pedreiro.



agenda

Geórgia

porta

garoto

mel

vidro

Fábio

trem

Remata

Escreva o nome de sua escola.

☞ Você utilizou letras maiúsculas ou minúsculas para preencher a atividade anterior? Responda oralmente.

☞ Cubra as palavras e, depois, copie as frases.

Conheço Mateus muito bem!

Elama vive na Ilha de Mal.

Nasci na Itália, sou italiana.

Gosto de minha gata solita.

Bia mudou-se para Salvador.

☞ Escreva o nome do estado e da cidade onde você mora.

E.M. "PREFEITO SEME ISSA"

NOME: _____

DATA: 11/11/2021

PROFESSORA: KEITH PAOLLA

ANO/SÉRIE: 3º ANO B



Observando eu vou aprendendo!

	$4 + 4 = 8$ $2 \times 4 = \square$ $\begin{array}{r} 4 \\ + 4 \\ \hline \square \end{array}$
	$\begin{array}{r} \square \\ \times 2 \\ \hline \square \end{array}$

	$5 \times \square = \square$ $\begin{array}{r} \square \\ \times \square \\ \hline \square \end{array}$
--	--

	$\square \times \square = \square$ $\begin{array}{r} \square \\ \times \square \\ \hline \square \end{array}$
--	--

	$\square \times \square = \square$ $\begin{array}{r} \square \\ \times \square \\ \hline \square \end{array}$
--	--



E.M. "PREFEITO SEME ISSA"

NOME: _____
PROFESSORA: KEITH PAOLLA

DATA: 12/11/2021
ANO/SÉRIE: 3º ANO B

Data comemorativa

15 DE NOVEMBRO - PROCLAMAÇÃO DA REPÚBLICA



 Escolha a opção correta:

❖ Quando foi que o Brasil deixou de ser governado por imperador?

- 7 de setembro
- 15 de novembro de 1889
- 21 de abril

❖ Quem proclamou a República no Brasil?

- Dom Pedro I
- Tiradentes
- Marechal Deodoro da Fonseca

E.M. "PREFEITO SEME ISSA"

NOME: _____

PROFESSORA: KEITH PAOLLA

DATA: 12/11/2021

ANO/SÉRIE: 3º ANO B

15 DE NOVEMBRO – DIA DA PROCLAMAÇÃO DA REPÚBLICA

VAMOS COLORIR!



Tabela semanal das páginas dos livros

Terça- feira (16/11)	Páginas
Aprender sempre (volume 1) Língua Portuguesa	14, 15 e 16
Aprender sempre (volume 1) Matemática	92 e 93

Quarta- feira (17/11)	Páginas
Aprender sempre (volume 1) Língua Portuguesa	17, 18 e 19
Aprender sempre (volume 1) Matemática	94, 95 e 96

Quinta – feira (18/11)	Páginas
Aprender sempre (volume 1) Língua Portuguesa	20 e 21
Aprender sempre (volume 1) Matemática	97, 98 e 99

Sexta – feira (19/11)	Páginas
Aprender sempre (volume 1) Língua Portuguesa	22 e 23
Aprender sempre (volume 1) Matemática	100 e 101

E.M. "PREFEITO SEME ISSA"

NOME: _____

DATA: 16/11/2021

PROFESSORA: KEITH PAOLLA

ANO/SÉRIE: 3º ANO B

Ⓢ Separe as sílabas destas palavras. Depois, conte as sílabas e escreva no quadro a quantidade que você encontrou.

futebol

pai

melão

mão

rei

placa

Camilla

álbum

camisa

Alexandre

cotonete

SÍLABA

Cada "pedacinho" que forma uma palavra é chamado de **sílabas**.

Sílabas é o som ou o grupo de sons que pronunciamos ao falar uma palavra.

Ⓢ Separe as sílabas e, depois, copie as palavras.

boneca

camelo

fumaça

pão

prato

tempero

brinco

giz



E.M. "PREFEITO SEME ISSA"

NOME: _____
PROFESSORA: KEITH PAOLLA

DATA: 16/11/2021
ANO/SÉRIE: 3º ANO B

➤ COMPLETE A SEQUÊNCIA NUMÉRICA.

0										
20										

➤ LEIA E REGISTRE O NUMERAL.

DEZESSEIS _____

DOZE _____

ONZE _____

VINTE _____

DEZESSETE _____


DEZENOVE _____

DEZ _____

TRÊS _____

CINCO _____

QUATORZE _____



E.M. "PREFEITO SEME ISSA"

NOME: _____
PROFESSORA: KEITH PAOLLA

DATA: 17/11/2021
ANO/SÉRIE: 3º ANO B



LEIA E COPIE

☑ Copie cada palavra e classifique-a em nome próprio ou nome comum.
Observe o modelo.

Gabriela

Mació

Gabriela

nome próprio

morango

leão

travessero

Tocantins

Rogério

secador


Editora do Brasil
Material de divulgação - venda proibida

E.M. "PREFEITO SEME ISSA"

NOME: _____
PROFESSORA: KEITH PAOLLA

DATA: 17/11/2021
ANO/SÉRIE: 3º ANO B

❖ Decomponha os numerais como no modelo:


 → $100 + 80 + 9$ → 1 centena - 8 dezenas e 9 unidades

















❖ Represente os numerais no Q.P.

	Centenas	Dezenas	Unidades
260			
123			
189			
247			
384			
421			



❖ Componha os numerais como no modelo:

* 4 centenas + 5 dezenas + 3 unidades = $400 + 50 + 3 =$ 453

* 2 centenas + 9 dezenas + 9 unidades = _____

* 5 centenas + 8 dezenas + 4 unidades = _____

* 3 centenas + 3 dezenas + 1 unidade = _____

* 2 centenas + 7 dezenas + 7 unidades = _____

* 3 centenas + 2 dezenas + 5 unidades = _____

E.M. "PREFEITO SEME ISSA"

NOME: _____

DATA: 18/11/2021

PROFESSORA: KEITH PAOLLA

ANO/SÉRIE: 3º ANO B

Leia as palavras, copie-as e, depois, reescreva-as no aumentativo. Observe o modelo.



casa

casarão



licho

amigo

fogo

rico

mãe

carreta

carro

papel

peve

AUMENTATIVO

O aumentativo indica um tamanho ampliado do ser.



livro



livrão

Complete o texto com o aumentativo das palavras que estão no quadro.

cadeira - homem - nariz - voz - mulher

O _____ levantou-se

da _____ e começou a

cantar com um _____.

Ca _____ que tinha um

_____ muito bonito e

aplaudiu de pé.

DIMINUTIVO

O diminutivo indica um tamanho reduzido do ser.



sapato



sapatimho

Leia as palavras e escreva-as no diminutivo.

rio

sala

sono

rapaz

barco

rua

palácio

gota

chuva

botão

bola

rato

Complete a coluna da direita de acordo com o modelo.



leão pequeno leãozinho

vase pequeno

porta pequena

pedra pequena

casa pequena

colher pequena

pássaro pequeno

urso pequeno

caixa pequena

E.M. "PREFEITO SEME ISSA"

NOME: _____

DATA: 18/11/2021

PROFESSORA: KEITH PAOLLA

ANO/SÉRIE: 3º ANO B

PROBLEMINHAS.



1. Numa quadra de futebol havia 136 torcedores. Chegaram mais 237. Quantos torcedores ficaram.

2 Mário tem 15 bolinhas de gude e Miguel tem o triplo dessa quantidade. Quantas bolinhas de gude Miguel possui?

3. Leandro vende salgados na feira. Veja a tabela de vendas da semana:

Tipo de salgado	Quinta - feira	Sexta - feira	Sábado	Domingo
coxinha	86	34	74	126
pastel	77	94	119	45
quibe	80	32	49	97

a. Quantos quibes Leandro vendeu no sábado?

b. Quantos salgados ele vendeu na sexta - feira?

c. Qual dia Leandro vendeu mais salgado? E menos?

d. Quantos pastéis ele vendeu ao todo no sábado e domingo?

e. Qual salgado mais vendido na semana?

MASCULINO E FEMININO

Os nomes de animais, coisas, objetos e pessoas podem ser do gênero **masculino** ou do gênero **feminino**. Veja:

- **palavras masculinas** - podem vir precedidas de **o, os, um, uns**;
- **palavras femininas** - podem vir precedidas de **a, as, uma, umas**.

• Leia a quadrinha e circule as palavras masculinas.

Hoje é domingo, cozinheiro,
Não precisa trabalhar,
Vamos juntos, meu amigo,
Para a praia passear.

Quadrinha.



• Copie a quadrinha em letra cursiva transformando as palavras masculinas em femininas.

Blank lines for copying the quadrinha in cursive, transforming masculine words into feminine words.

E.M. "PREFEITO SEME ISSA"

NOME: _____

DATA: 19/11/2021

PROFESSORA: KEITH PAOLLA

ANO/SÉRIE: 3º ANO B

• Pinte os quadros com palavras femininas e marque um **X** naqueles com palavras masculinas.

boi	jogadora	amigo
irmã	cozinheiro	garota
rainha	bailarina	cantor

• Complete as frases com **s** ou **a** e copie-as.

Uma machucou _____ perna.

Blank line for copying the sentence.

_____ pneu está furado.

Blank line for copying the sentence.

_____ cantina de Paulo é perto.

Blank line for copying the sentence.

Curume _____ quarto, por favor.

Blank line for copying the sentence.

E.M. "PREFEITO SEME ISSA"

NOME: _____

DATA: 19/11/2021

PROFESSORA: KEITH PAOLLA

ANO/SÉRIE: 3º ANO B

1- Resolva as operações e tire as provas:

$$\begin{array}{r} \text{a) } 134 \\ + 223 \\ \hline \end{array}$$


$$\begin{array}{r} \text{b) } 45 \\ + 18 \\ \hline \end{array}$$

$$\begin{array}{r} \text{c) } 354 \\ + 231 \\ \hline \end{array}$$

$$\begin{array}{r} \text{d) } 89 \\ - 25 \\ \hline \end{array}$$

10- Represente os fatos abaixo:

$2 \times 5 = \underline{\quad}$



$2 \times 2 = \underline{\quad}$

$2 \times 4 = \underline{\quad}$

$2 \times 6 = \underline{\quad}$

$2 \times 3 = \underline{\quad}$

$2 \times 7 = \underline{\quad}$

$2 \times 1 = \underline{\quad}$

$2 \times 10 = \underline{\quad}$

$2 \times 0 = \underline{\quad}$

$2 \times 8 = \underline{\quad}$

$2 \times 9 = \underline{\quad}$

Tabela semanal das páginas dos livros

Segunda-feira (22/11)	Páginas
Aprender sempre (volume 1) Língua Portuguesa	24 e 25
Aprender sempre (volume 1) Matemática	102 e 103

Terça- feira (23/11)	Páginas
Aprender sempre (volume 1) Língua Portuguesa	26, 27 e 28
Aprender sempre (volume 1) Matemática	103, 104 e 105

Quarta- feira (24/11)	Páginas
Aprender sempre (volume 1) Língua Portuguesa	47, 48, 49 e 50
Aprender sempre (volume 1) Matemática	105, 106 e 107

Quinta – feira (25/11)	Páginas
Aprender sempre (volume 1) Língua Portuguesa	51, 52, 53 e 54
Aprender sempre (volume 1) Matemática	107, 108 e 109

Sexta – feira (26/11)	Páginas
Aprender sempre (volume 1) Língua Portuguesa	55, 56 e 57
Aprender sempre (volume 1) Matemática	109 e 110

SINGULAR E PLURAL

Uma palavra está no **singular** quando indica um só elemento. Quando indica mais de um elemento, a palavra está no **plural**.



Em um rápido rapto, um rápido rato raptou três ratos sem deixar rastros.

Trava-língua.

● Pinte a quantidade correta de ratos que foram raptados, de acordo com o trava-língua.



www.editoradobrasil.com.br

E.M. "PREFEITO SEME ISSA"

NOME: _____

DATA: 22/11/2021

PROFESSORA: KEITH PAOLLA

ANO/SÉRIE: 3º ANO B

● Passe as palavras a seguir para o plural.

martelo

dente

livro

chá

lâmpada

potê

cama

geléia

tigre

feiras

comercos

teclados

cobras

cayus

garrafas

dedos

roupas

sorvetes

E.M. "PREFEITO SEME ISSA"

NOME: _____

DATA: 23/11/2021

PROFESSORA: KEITH PAOLLA

ANO/SÉRIE: 3º ANO B

LEIA E COPIE

samba

tambor

bombom

tempo

campo

lâmpada

mingau

dente

bandeira

Encontre no diagrama quatro palavras com **m** antes de **p** ou **b**. Depois, copie-as ao lado.

H	T	O	M	B	O	V	E
M	S	N	R	O	K	M	M
R	U	M	Y	I	T	N	P
O	M	A	I	M	A	X	A
U	B	J	G	A	M	M	D
P	I	E	M	B	P	I	A
M	G	S	O	A	A	O	Z
D	O	U	A	G	J	F	I
E	Q	D	G	T	U	N	Q

40 / 55

M ANTES DE P E B

Antes das letras **p** e **b** usamos a letra **m**. Antes de outras consoantes, usamos a letra **n**.

Leia as adivinhas e cubra os tracejados para descobrir a resposta de cada uma.

O que é, o que é?
? ? ?

Entra na água e
mão se molha?

Resposta: o banho.

O que é, o que é?
Que, perdido uma vez,
nunca se acha?

Resposta: O tempo.

Adivinhas.

www.editoradobrasil.com.br

E.M. "PREFEITO SEME ISSA"

NOME: _____
PROFESSORA: KEITH PAOLLA

DATA: 23/11/2021
ANO/SÉRIE: 3º ANO B



DE DEZ EM DEZ

1) Continue a atividade. Já comecei.

$$0 + 10 = 10$$

$$10 + 10 = \underline{\hspace{2cm}}$$

$$20 + 10 = \underline{\hspace{2cm}}$$

$$30 + 10 = \underline{\hspace{2cm}}$$

$$40 + 10 = \underline{\hspace{2cm}}$$



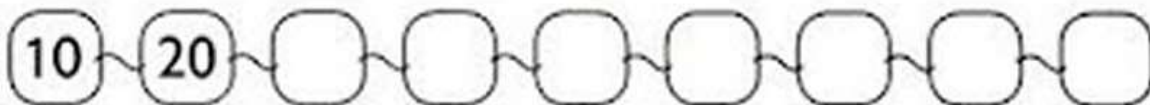
$$50 + 10 = \underline{\hspace{2cm}}$$

$$60 + 10 = \underline{\hspace{2cm}}$$


$$70 + 10 = \underline{\hspace{2cm}}$$

$$80 + 10 = \underline{\hspace{2cm}}$$

2) Siga a seqüência de 10 em 10.



3) Faça a correspondência. Veja!



E.M. "PREFEITO SEME ISSA"

NOME: _____
PROFESSORA: KEITH PAOLLA

DATA: 24/11/2021
ANO/SÉRIE: 3º ANO B

MINHA ESCOLA



Quando eu vou pra minha escola
tenho muito o que fazer
Pulo, brinco, faço arte,
mas também quero aprender.
Meus amigos lá da sala
são pequenos como eu.
Dão risadas, são alegres,
são bacanas... e os seus?



- 1) O texto que você leu é
(A) um poema.
(B) uma história em quadrinhos.
(C) uma piada.
- 2) No poema, quando vai para a escola, a criança
(A) pula, grita e faz arte.
(B) pula, brinca, faz arte e quer aprender.
(C) pula, brinca, faz arte e não quer aprender.
- 3) Como são os amigos que aparecem no poema?
(A) pequenos e alegres.
(B) pequenos e tristes.
(C) grandes e alegres.

4) Como são os seus amigos de sala?

R: _____

E.M. "PREFEITO SEME ISSA"

NOME: _____ DATA: 24/11/2021
PROFESSORA: KEITH PAOLLA ANO/SÉRIE: 3º ANO B

1- Continue escrevendo por extenso, os nomes dos numerais:

Veja! Eu já comecei...



1

um



2



3



4



5



6



7



8

9

10

E.M. "PREFEITO SEME ISSA"

NOME: _____
PROFESSORA: KEITH PAOLLA

DATA: 25/11/2021
ANO/SÉRIE: 3º ANO B

A CAIXA MALUCA

UM DIA, LÁ DO CÉU ...BUM!
CAIU UMA CAIXA NO MATO.
O SAPO VIU E FALOU:

- UMA CAIXA NO MATO? TÁ NO PAPO. E PULOU ATÉ LÁ, RÁPIDO.
LOGO VEIO O PAPAGAIO, O TUCANO, O JABUTI E O LEÃO.
VEIO O MACACO, VEIO O GALO, O TATU E O PAVÃO.
E TODA A MATA FICOU NUM VAIVÉM ADOIDADO.
MUITO GATO, MUITA PACA, MUITO PICA-PAU, MUITO PATO.

- A CAIXA É DO SAPO – MIOU O GATO.
- É SIM, EU VI! – AJUDOU O JABUTI.
- VIU NADA. A CAIXA É DO REI LEÃO – FALOU O PAVÃO...
E FICOU UM BAFAFÁ. FALA DALI, FALA DE CÁ.
O LEÃO, ROXO DE RAIVA, BUFOU:

- EU SOU O REI! O REI SOU EU! É TUDO MEU!



FÁVIA MUNIZ

1- RESPONDA:

A- O QUE CAIU DO CÉU?

B- QUAL FOI O BARULHO QUE A CAIXA FEZ QUANDO CAIU NO MATO?

C- QUAL FOI O PRIMEIRO BICHO QUE VIU A CAIXA CAÍDA NO MATO?

D- O QUE O PAVÃO FALOU?

E.M. "PREFEITO SEME ISSA"

NOME: _____
PROFESSORA: KEITH PAOLLA

DATA: 25/11/2021
ANO/SÉRIE: 3º ANO B

RESOLVA OS PROBLEMINHAS

Manuel tem _____ carrinhos,
_____ bolas e _____ petecas.

Quantos brinquedos
Manoel tem?



$$\text{---} + \text{---} + \text{---} = \text{---}$$

Agora responda:

Qual brinquedo Manoel tem mais?

Qual brinquedo Manoel tem menos?

Se Manoel tivesse apenas carrinhos e bolas, quantos brinquedos ele teria?

$$\text{---} + \text{---} = \text{---}$$

Se Manoel tivesse apenas carrinhos e petecas, quantos brinquedos ele teria?

$$\text{---} + \text{---} = \text{---}$$

E.M. "PREFEITO SEME ISSA"

NOME: _____
PROFESSORA: KEITH PAOLLA

DATA: 26/11/2021
ANO/SÉRIE: 3º ANO B

SEPARE AS SÍLABAS E DEPOIS ESCREVA AS PALAVRAS EM LETRA CURSIVA:

GRAVATA		

GRANDE	

VINAGRE		

GRAMPO	

GRANULADO			

GRAVIOLA			

TIGRE	

AGRIÃO		

PRATO	

PROFESSOR		

PREGUIÇA		

PREMIADO			

PEDREIRA		

PRETO	

PROMESSA		

EMPREGO		

JORNAL	

SOLDADO		

CARRETEL		

BOLSA	

AUTOMÓVEL			

BALDE	

ANEL	

TÚNEL	

PAPEL	

ALFINETE			

DEDAL	

ALGODÃO		

ESTOJO		

SUSTO	

ESCURO		

MÁSCARA		

CASTELINHO			

BISCOITO		

ESCOVA		

BRASIL	

E.M. "PREFEITO SEME ISSA"

NOME: _____
PROFESSORA: KEITH PAOLLA

DATA: 26/11/2021
ANO/SÉRIE: 3º ANO B

SISTEMA MONETÁRIO

1 - Ligue cada nota de dinheiro ao seu valor correspondente e escreva a quantidade por extenso como no modelo.



R\$ 5,00

Cinco reais



R\$ 10,00



R\$ 2,00



R\$ 20,00



R\$ 50,00



R\$ 100,00

Tabela semanal das páginas dos livros a serem trabalhados

Segunda-feira (29/11)	Páginas
Aprender sempre (volume 1) Língua Portuguesa	57, 58 e 59
Aprender sempre (volume 1) Matemática	111, 112 e 113

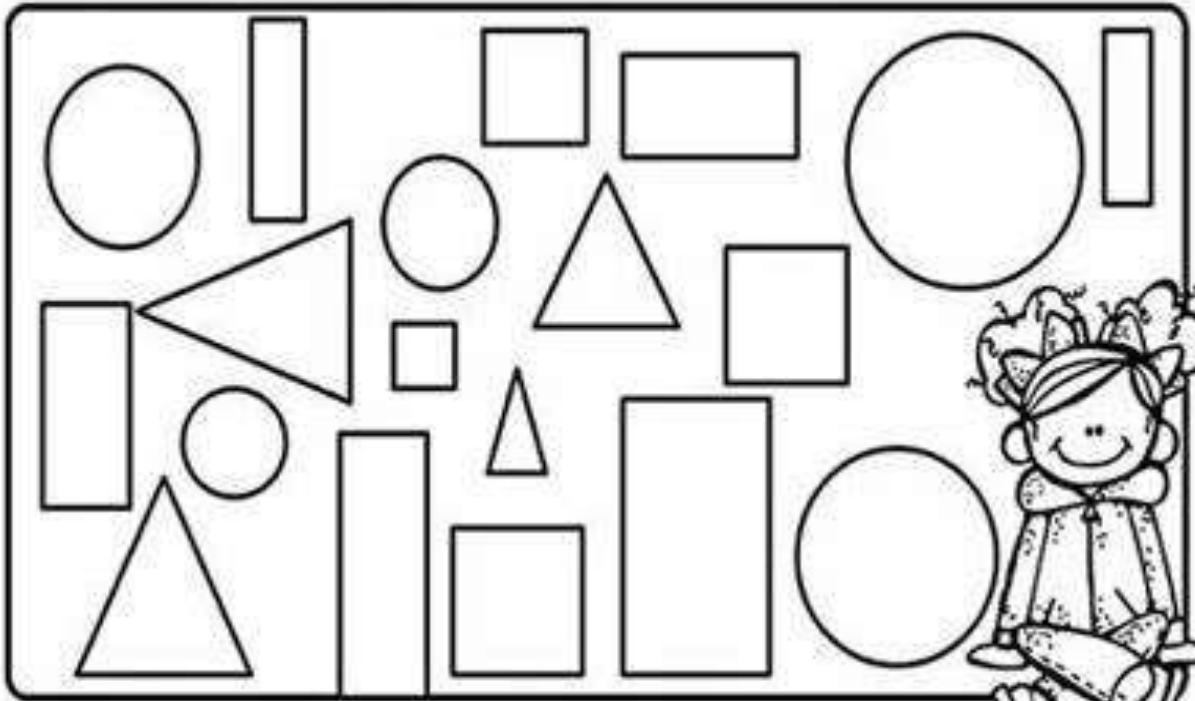


E.M. "PREFEITO SEME ISSA"

NOME: _____ DATA: 29/11/2021

PROFESSORA: KEITH PAOLLA ANO/SÉRIE: 3º ANO B

1- CONTE AS FORMAS GEOMÉTRICAS E PINTE O GRÁFICO DE ACORDO COM A QUANTIDADE CORRESPONDENTE PARA CADA UMA.



7				
6				
5				
4				
3				
2				
1				
0				




CÍRCULO



RETÂNGULO



TRIÂNGULO



QUADRADO