



Prefeitura da Estância Turística de
IBIÚNA



E.M SANTINO FRANCISCO VIERA

APOSTILA DE ATIVIDADES REMOTAS

NOME: _____ **2º ANO A**

PROFESSOR MAYLLSON LUIZ BORBA DOS SANTOS

APOSTILA 15 PERÍODO DE 01/12 À 13/12



13/12/2021

E.M. SANTINO FRANCISCO VIEIRA
IBIUNA, DE DE

LEIA O TEXTO:

O NATAL DO MACACO
EM ÉPOCA DE NATAL
A FLORESTA FICA ANIMADA.
O MACACO VAI LOGO DIZENDO
QUE NA CEIA QUER COMER
BANANA E GOIABADA.

ELIANA DE OLIVEIRA



COMPREENSÃO DA LEITURA

1. QUAL É O ASSUNTO DO TEXTO?

2. PERSONAGEM PRINCIPAL: _____

3. COMO ESTÁ A FLORESTA COM A CHEGADA DO NATAL?

4. LEIA E ESCREVA OS NOMES DOS DESENHOS.



MACACO



BANANA



NATAL



FLORESTA

E.M. SANTINO FRANCISCO VIEIRA
IBIUNA, DE DE .

1. LEIA O TEXTO E PINTE OS ESPAÇOS ENTRE AS PALAVRAS.

- ❖ CIRCULE AS PALAVRAS QUE RIMAM.
- ❖ CIRCULE A PALAVRA MACACO.

O NATAL DO MACACO

EM ÉPOCA DE NATAL
A FLORESTA FICA ANIMADA.
O MACACO VAI LOGO DIZENDO
QUE NA CEIA QUER COMER
BANANA E GOIABADA.



ELIANA DE OLIVEIRA

2. COMPLETE O TEXTO COM AS PALAVRAS QUE FALTAM.

EM ÉPOCA DE _____ 

A _____  FICA ANIMADA.

O _____  VAI LOGO DIZENDO

QUE NA CEIA QUER COMER

_____  E GOIABADA.

E.M. SANTINO FRANCISCO VIEIRA
IBIUNA, DE DE .

ORGANIZE E COLE O TEXTO.

--



E.M. SANTINO FRANCISCO VIEIRA
IBIUNA, DE DE .

O NATAL DO MACACO

EM ÉPOCA DE NATAL

A FLORESTA FICA ANIMADA

O MACACO VAI LOGO DIZENDO

QUE NA CEIA QUER COMER
BANANA E GOIABADA.

O NATAL DO MACACO

EM ÉPOCA DE NATAL

A FLORESTA FICA ANIMADA

O MACACO VAI LOGO DIZENDO

QUE NA CEIA QUER COMER
BANANA E GOIABADA.

E.M. SANTINO FRANCISCO VIEIRA
 IBIUNA, DE DE .

1. CIRCULE A SÍLABA INICIAL E COMPLETE A PALAVRA.



MA ME MI
 MO MU



BA BE BI
 BO BU

_____CACO

_____NANA



FLA FLE FLI
 FLO FLU



NA NE NI
 NO NU

_____RESTA

_____TAL

2. ENCONTRE OS NOMES DOS DESENHOS DA ATIVIDADE ANTERIOR..

CO	MA	CA	CO	JA
NA	TAL	FA	RES	SA
BA	NA	NA	JA	TA
TAL	FLO	RES	TA	MA

E.M. SANTINO FRANCISCO VIEIRA
IBIUNA, DE DE .

1. LEIA E ENUMERE AS PALAVRAS OBSERVANDO A LEGENDA.



1



2



3



4

MACACO

NATAL

FLORESTA

BANANA

2. PINTE A QUANTIDADE DE SÍLABAS E ESCREVA NOS QUADRINHOS.



○ ○ ○ ○ ○

FLORESTA



○ ○ ○ ○ ○

BANANA



○ ○ ○ ○ ○

MACACO



○ ○ ○ ○ ○

NATAL

E.M. SANTINO FRANCISCO VIEIRA
IBIUNA, DE DE .

1.ESCREVA OS NOMES DOS DESENHOS E
COMPLETE O QUADRO.



MA		CO
	CA	



FLO		TA
	RES	



BA		NA
	NA	



NA	
	TAL

E.M. SANTINO FRANCISCO VIEIRA
IBIUNA, DE DE .

1. LIGUE O DESENHO À ESCRITA CORRESPONDENTE.



NATAL

MACACO

FLORESTA

BANANA

2. LIGUE AS RIMAS.



E.M. SANTINO FRANCISCO VIEIRA
IBIUNA, DE DE .

NOME: _____

1. CONTE E LIGUE.



5

4

6

7

2. DESENHE PARA COMPLETAR A QUANTIDADE.

11



9



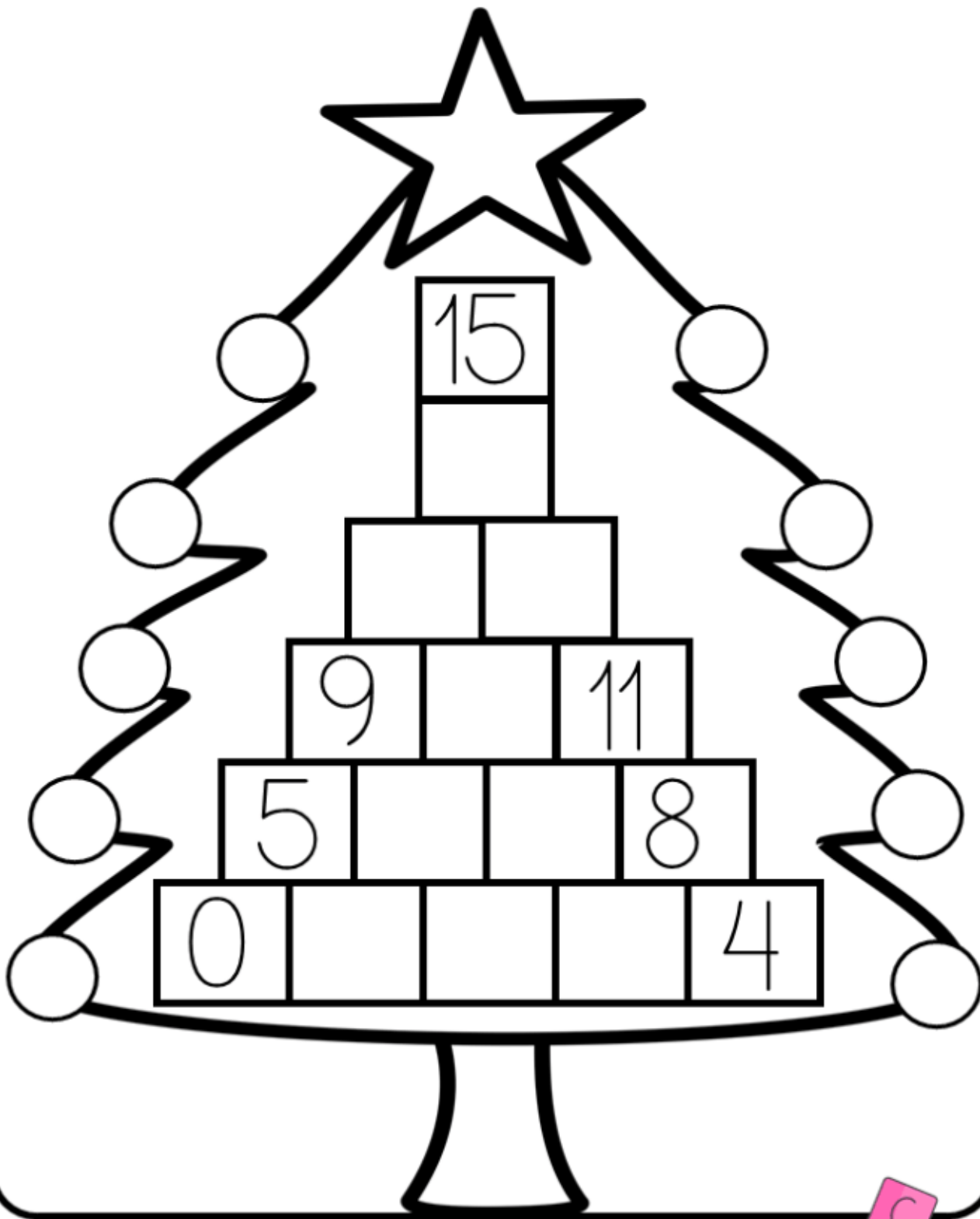
14



E.M. SANTINO FRANCISCO VIEIRA
IBIUNA DE DE

NOME: _____

COMPLETE A SEQUÊNCIA NUMÉRICA.



E.M. SANTINO FRANCISCO VIEIRA
IBIUNA, DE DE .

NOME: _____

QUEM VEM
ANTES E DEPOIS

___ 23 ___

___ 17 ___

___ 45 ___

___ 76 ___

___ 58 ___

___ 88 ___










E.M. SANTINO FRANCISCO VIEIRA IBIUNA, DE DE .

<http://www.atividadespedagogicasuzano.com.br/>



COMPLETE AS SEQUÊNCIAS DOS NÚMEROS:

1									9
---	--	--	--	--	--	--	--	--	---

MARQUE UM X NA QUANTIDADE DE PRESENTES E MEIAS:

		<input type="checkbox"/> 5		<input type="checkbox"/> 5
		<input type="checkbox"/> 2		<input type="checkbox"/> 2
		<input type="checkbox"/> 3		<input type="checkbox"/> 3
		<input type="checkbox"/> 4		<input type="checkbox"/> 4

FAÇA UM X NO CONJUNTO QUE TEM 9 ELEMENTOS:

 <input type="checkbox"/>	 <input type="checkbox"/>	 <input type="checkbox"/>
---	---	---

ESCREVA O NÚMERO QUE ESTÁ OCULTO:

INICIO	1	2	3	4	5	<input type="text"/>	7	8	9	10	FIM
--------	---	---	---	---	---	----------------------	---	---	---	----	-----

FAÇA UM X NA RENA MAIS ALTA:

 <input type="checkbox"/>	 <input type="checkbox"/>	 <input type="checkbox"/>	 <input type="checkbox"/>	 <input type="checkbox"/>
---	---	---	--	---

E.M. SANTINO FRANCISCO VIEIRA

IBIUNA, DE DE

DESAFIOS MATEMÁTICOS

OLHE OS DESENHOS E COMPLETE:

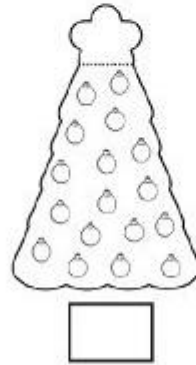
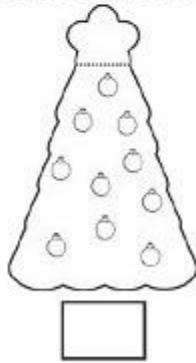
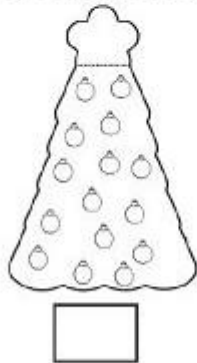
DESENHO	TINHA AO TODO	COMERAM	AINDA FICARAM	CONTA
	5	1		$\begin{array}{r} 5 \\ - 1 \\ \hline \end{array}$
	7			
				
				
				

E.M. SANTINO FRANCISCO VIEIRA IBIUNA, DE DE .




NOME: _____

5) Conte as bolas de cada árvore e escreva abaixo



6) Marque um x no quadradinho que apresenta a criança que tem mais brinquedos.

COLEÇÃO DE BRINQUEDOS



7) Em cada cesta cabem 4 ovos. Faça um x no quadrinho que indica o total de ovos em três cestas.



12



10



8

4



E.M. SANTINO FRANCISCO VIEIRA IBIUNA, DE DE .

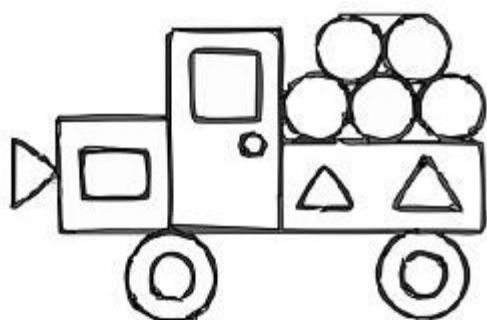


NOME: _____





1) Complete a sequência com os números que estão faltando:

30									39
40									
50									

2) Observe o carrinho construído com formas geométricas. Depois responda:



Quantos?

	<input type="text"/>
	<input type="text"/>
	<input type="text"/>
	<input type="text"/>

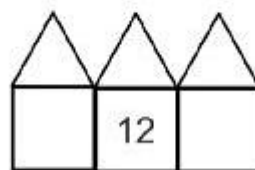
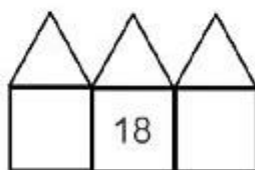
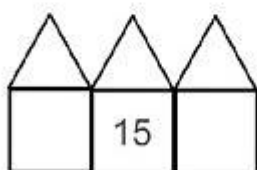
3) Coloque os números por ordem decrescente:

7 - 0 - 5 - 15 - 10 - 12 - 20



<input type="text"/>	<input type="text"/>	<input type="text"/>	<input type="text"/>	<input type="text"/>	<input type="text"/>	<input type="text"/>
----------------------	----------------------	----------------------	----------------------	----------------------	----------------------	----------------------

4) Escreva os vizinhos de:



ESCOLA: _____

TURMA: _____ PROFESSOR(A): _____

ALUNO(A): _____

PROBLEMINHA NATALINO

1-OBSERVE A CENA DE NATAL
E RESPONDA:



A)QUANTOS PRESENTES HÁ EMBAIXO DA ÁRVORE?

B)QUANTOS PRESENTES HÁ AO LADO DA ÁRVORE?

C)QUANTOS ENFEITES HÁ NA ÁRVORE?

D)QUANTAS ESTRELAS VOCÊ VÊ NA CENA?

WWW.AARTEENSINAREAPRENDER.COM.BR

WWW.CLUBEDASLETRINAS.COM.BR

WWW.PINTEREST.COM.BR